

---

Rudolf Blaško

**MATEMATICKÁ ANALÝZA I**

---



Rudolf Blaško

# **MATEMATICKÁ ANALÝZA I**

2009

Vedecký redaktor prof. RNDr. Josef Diblík, DrSc.

Recenzenti doc. RNDr. Vojtech Bálint, CSc.,  
prof. RNDr. Beloslav Riečan, DrSc.

Žilinská univerzita v Žiline/EDIS-vydavateľstvo ŽU

---

© RNDr. Rudolf Blaško, PhD., 2009

[beerb@frcatel.fri.uniza.sk](mailto:beerb@frcatel.fri.uniza.sk), <http://frcatel.fri.uniza.sk/~beerb>

ISBN 978-80-554-0119-5

# Obsah

Predhovor . . . . .	3
<b>1 Základné pojmy</b>	<b>5</b>
1.1 Logika . . . . .	5
1.1.1 Výrazy a výroky . . . . .	5
1.1.2 Logické operácie . . . . .	6
1.1.3 Výrokové formy . . . . .	7
1.1.4 Kvantifikátory . . . . .	8
Cvičenia . . . . .	9
1.2 Základné prvky matematickej teórie . . . . .	10
1.2.1 Dôkazy . . . . .	10
1.2.2 Sumačná a súčinnová symbolika . . . . .	12
Cvičenia . . . . .	13
1.3 Množiny . . . . .	14
1.3.1 Operácie s množinami . . . . .	15
1.3.2 Zobrazenie množín . . . . .	16
1.3.3 Mohutnosť množín . . . . .	20
Cvičenia . . . . .	21
<b>2 Reálne čísla</b>	<b>23</b>
2.1 Algebraické vlastnosti reálnych čísel . . . . .	23
2.1.1 Číselné množiny . . . . .	25
Cvičenia . . . . .	31
2.2 Topologické a metrické vlastnosti reálnych čísel . . . . .	32
2.2.1 Okolie bodu . . . . .	32
2.2.2 Otvorené a uzavreté množiny . . . . .	34
2.2.3 Metrické vlastnosti čísel . . . . .	36
Cvičenia . . . . .	38
2.3 Postupnosti reálnych čísel . . . . .	39
2.3.1 Limita postupnosti . . . . .	40
2.3.2 Prehľad základných tvrdení . . . . .	43
Cvičenia . . . . .	49

2.4	Číselné rady . . . . .	51
2.4.1	Vlastnosti konvergentných radov . . . . .	55
2.4.2	Číselné rady s nezápornými členmi . . . . .	57
2.4.3	Absolútna, relatívna konvergencia a alternujúce rady . . . . .	61
2.4.4	Prerovnanie radov a rady s predpísaným súčtom . . . . .	64
	Cvičenia . . . . .	68
<b>3</b>	<b>Reálne funkcie</b>	<b>71</b>
3.1	Funkcie . . . . .	71
3.1.1	Základné vlastnosti funkcií . . . . .	75
3.1.2	Elementárne funkcie . . . . .	83
	Cvičenia . . . . .	91
3.2	Limita funkcie . . . . .	93
3.2.1	Limita vzhľadom na množinu a jednostranné limity . . . . .	99
3.2.2	Asymptotické vlastnosti . . . . .	100
3.2.3	Riešené príklady . . . . .	103
	Cvičenia . . . . .	106
3.3	Spojitosť funkcie . . . . .	108
3.3.1	Vlastnosti spojitých funkcií na intervale . . . . .	111
	Cvičenia . . . . .	117
<b>4</b>	<b>Diferenciálny počet reálnej funkcie</b>	<b>119</b>
4.1	Derivácia reálnej funkcie . . . . .	119
4.1.1	Jednostranné derivácie a derivácia na množine . . . . .	121
4.1.2	Základné pravidlá pre výpočet derivácií . . . . .	123
	Cvičenia . . . . .	128
4.2	Diferenciál funkcie a derivácie vyšších rádov . . . . .	130
4.2.1	Diferenciál funkcie . . . . .	130
4.2.2	Využitie diferenciálu na približné výpočty . . . . .	132
4.2.3	Derivácia a diferenciál vyšších rádov . . . . .	134
	Cvičenia . . . . .	136
4.3	Aplikácie diferenciálneho počtu . . . . .	137
4.3.1	Vety o strednej hodnote funkcie . . . . .	137
4.3.2	L'Hospitalovo pravidlo, neurčité výrazy . . . . .	140
4.3.3	Taylorov polynóm . . . . .	144
4.3.4	Monotónnosť funkcie, lokálne a globálne extrémny funkcie . . . . .	148
4.3.5	Konvexnosť a konkávnosť funkcie . . . . .	154
4.3.6	Vyšetrenie priebehu funkcie . . . . .	161
4.3.7	Derivácia funkcie zadanej parametricky a implicitne . . . . .	165
	Cvičenia . . . . .	170
	Výsledky cvičení . . . . .	175
	Register . . . . .	181
	Literatúra . . . . .	191

## Predhovor

Učebnica Matematická analýza 1 sa snaží zaplniť dieru nielen medzi doteraz vydanými učebnicami na Fakulte riadenia a informatiky Žilinskej univerzity, ale vo všeobecnosti medzi učebnicami určenými pre študentov, ktorí študujú na našich vysokých školách a univerzitách. Učebnic matematickej analýzy bolo do dnešnej doby napísaných dosť, ale vo väčšine prípadov je problém ich získať. Preto sa táto publikácia snaží zjednodušiť život všetkým študentom a ich učiteľom pri štúdiu predmetu matematická analýza I. Na túto učebnicu by malo nadviazať jej pokračovanie Matematická analýza II.

V knihe sa čitateľ, dúfam, že prístupným spôsobom, zoznámí s látkou predpísanou osnovami daného predmetu. Autor predpokladá základné vedomosti čitateľa zo strednej školy. Lenže vedomostná úroveň z matematiky študentov, ktorí nastupujú do prvého ročníka je rôzna. Preto sú v prvej kapitole vysvetlené základné pojmy, ktoré sú nevyhnutné pre ďalšie štúdium a vzdelanejší čitateľ ich môže preskočiť.

Látka je členená do štyroch kapitol a jednotlivých podkapitol. Na konci každej podkapitoly sú cvičenia, na ktorých si má študujúci overiť či porozumel vysvetľovanej látke. Výsledky cvičení sú uvedené v závere knihy. Pre spoľahlivé a trvalé zvládnutie látky je nutné ich prepočítanie. Veľa študentov túto skutočnosť podceňuje a zistí až pred skúškou, že nie je čas na dobehnutie zameškaného. Ale, keďže počet príkladov uvedených v publikácii je z pochopiteľných dôvodov obmedzený, sú uvedené v prehľade literatúry ďalšie zbierky úloh a príkladov, z ktorých môže hlbavý čitateľ čerpať. Učebnica končí registrom pojmov s odkazmi na strany, na ktorých ich čitateľ nájde.

Definované pojmy sú kvôli prehľadnosti zobrazené tučným písmom. Vo formuláciách matematických viet sú niekedy použité symboly  $\Rightarrow$ ,  $\Leftrightarrow$ , prípadne  $\Leftarrow$  (viď str. 6). Vzťah  $A \Rightarrow B$  čítame „Ak platia predpoklady (tvrdenia)  $A$ , potom platia závery (tvrdenia)  $B$ .“ a vzťah  $A \Leftrightarrow B$  čítame „Tvrdenia  $A$  platia práve vtedy, ak platia tvrdenia  $B$ .“

Keďže nikto nie je dokonalý, prípadné zistené chyby a nedostatky, ako aj návrhy na ďalšie zlepšenie učebnice, môžete adresovať na adresu Katedry matematických metód, ktorej je autor členom, prípadne na e-mail adrese `beerb@frcatel.fri.uniza.sk`.

Žilina júl 2009

Autor

**Žiaľ, motto mnohých študentov:**

*Od učenia ešte nikto nezomrel, ale načo riskovať.*  
**GTUBB**





# Kapitola 1

## Základné pojmy

### 1.1 Logika

Predmetom skúmania logiky sú myšlienky. Logika sa zaoberá štúdiom formálnych vlastností myšlienky a stanovuje pravidlá správneho, t. j. logického usudzovania.

#### 1.1.1 Výrazy a výroky

Na vyjadrenie myšlienok používame jazyk, ktorý sa skladá z **výrazov**. Výrazy môžu byť jednoduché alebo zložené, ktoré sa tvoria z jednoduchých pomocou syntaktických pravidiel jazyka. V živom jazyku sú výrazmi slová a vety. Na ich označenie sa okrem latinskej (slovenskej) abecedy používa tiež **abeceda grécka** (tab. 1.1.1). Výrazy sa rozdeľujú na konštanty a premenné. **Konštanty** sú výrazy, ktoré majú nemenný (t. j. konštantný) význam. **Premenné** sú výrazy, ktorých význam sa môže meniť a v prípade potreby ich môžeme nahradiť konštantami.

$\alpha$ A	alfa	a	$\eta$ H	éta	é	$\nu$ N	ný	n	$\tau$ T	tau	t
$\beta$ B	beta	b	$\vartheta$ $\Theta$	théta	th	$\xi$ $\Xi$	ksí (xí)	x	$\upsilon$ $\Upsilon$	ypsilon	y
$\gamma$ $\Gamma$	gama	g	$\iota$ I	ióta	i	$o$ O	omikron	o	$\varphi$ $\Phi$	fi	f
$\delta$ $\Delta$	delta	d	$\kappa$ K	kappa	k	$\pi$ $\Pi$	pí	p	$\chi$ X	chí	ch
$\varepsilon$ E	epsilon	e	$\lambda$ $\Lambda$	lambda	l	$\rho$ P	ró	r	$\psi$ $\Psi$	psí	ps
$\zeta$ Z	dzéta	dz	$\mu$ M	mí	m	$\sigma$ $\Sigma$	sigma	s	$\omega$ $\Omega$	omega	ó

Tabuľka 1.1.1: Grécka abeceda

**Výrok** je výraz, ktorý vyjadruje pravdivú alebo nepravdivú myšlienku, preto ich delíme na **pravdivé** a **nepravdivé**. Kritériom pravdivosti je zhoda so skutočnosťou a nemôže byť zároveň pravdivý a nepravdivý. Gramaticky je výrok obyčajne oznamovacia veta.<sup>1</sup>

<sup>1</sup>Od gramatickej vety je nutné odlišovať **matematickú vetu**. Je to pravdivý výrok o matematických objektoch a vzťahoch medzi nimi, ktorý je dokázaný (napr. binomická veta, Pytagorova veta, ...)

Výrazy, ktoré obsahujú premenné, nazývame **nesamostatné výrazy** alebo **formy**. Ak nahradíme všetky premenné konštantami z oboru úvahy a dostaneme výrok, potom hovoríme o **výrokovej forme**. **Výrovková forma nie je výrok!** Z výrokovej formy vznikne výrok dosadením prípustných konštant za všetky premenné.

Výrovkové formy sú napríklad: „ $2 + 3 = x$ “, „Ak platí tvrdenie 1, potom platí tvrdenie 2.“. Výrokmi sú napríklad výrazy: „Pes je domáce zviera.“, „ $2 + 3 = 4$ “, „Pre každé reálne číslo  $x$  platí  $x \geq 0$ .“, „Trabant je auto.“.

### 1.1.2 Logické operácie

Ako sme už spomenuli, výrok vyjadruje pravdivú alebo nepravdivú myšlienku. Preto je vhodné zaviesť pojem **pravdivostná**, resp. **logická hodnota výroku**. Pre pravdivý výrok definujeme pravdivostnú hodnotu **pravda** a označujeme symbolom  $P$ . Pre nepravdivý výrok definujeme pravdivostnú hodnotu **nepravda** a označujeme symbolom  $N$ .<sup>2</sup>

Pravdivostnú hodnotu výroku  $p$  budeme označovať  $|p|$ .

Výrovkový počet sa zaoberá pravdivostnou hodnotou **zložených výrokov**, ktoré sú vytvorené z iných výrokov pomocou **logických operácií**. Základné logické operácie sú negácia výroku, konjunkcia, disjunkcia, implikácia a ekvivalencia výrokov.

**Negácia výroku**  $p$  sa tvorí výrazmi „nie je pravda, že  $p$ “, „nie je pravda, že platí  $p$ “, „nie  $p$ “, „non  $p$ “ a podobne. Negáciu výroku  $p$  označujeme  $\bar{p}$ , prípadne  $p'$ .

**Výrok a jeho negácia majú opačné pravdivostné hodnoty**. Ďalej je zrejmé, že **negáciou negácie výroku**  $p$  je pôvodný výrok  $p$ , t. j.  $\overline{(\bar{p})} = \bar{\bar{p}}$ .

**Konjunkcia výrokov**  $p$  a  $q$  sa tvorí pomocou spojky „a“, označujeme ju  $p \wedge q$ , resp.  $p \& q$  a čítame „ $p$  a  $q$ “, „ $p$  a súčasne  $q$ “, „ $p$  konjunkcia  $q$ “, „konjunkcia výrokov  $p$  a  $q$ “ a podobne. Konjunkcia je pravdivá iba v prípade, že sú pravdivé oba výroky. Takže na dokázanie nepravdivosti konjunkcie postačí nepravdivosť jedného z nich (tab. 1.1.2).

Ak použijeme na označenie pravdivostnej hodnoty symboly 0 a 1, potom pravdivostná hodnota konjunkcie dvoch výrokov sa rovná násobku pravdivostných hodnôt jednotlivých výrokov, t. j.  $1 \cdot 1 = 1$ ,  $1 \cdot 0 = 0$ ,  $0 \cdot 1 = 0$ ,  $0 \cdot 0 = 0$ .

**Disjunkcia výrokov**  $p$  a  $q$  sa tvorí pomocou spojky „alebo“, označujeme ju  $p \vee q$  (skratka z latinského *vel* — alebo) a čítame „ $p$  alebo  $q$ “, „ $p$  vel  $q$ “, „disjunkcia výrokov  $p$ ,  $q$ “ a podobne. Disjunkcia je pravdivá, ak je pravdivý aspoň jeden z výrokov (tab. 1.1.2).

**Implikácia výrokov**  $p$  a  $q$  sa tvorí pomocou slov: „Ak (platí) . . . , potom (platí) . . .“. Označujeme ju  $p \Rightarrow q$  a čítame „ $Z$   $p$  vyplýva  $q$ “, „ $p$  potom  $q$ “, „Ak platí  $p$ , potom platí  $q$ “, „ $p$  je nutná podmienka pre  $q$ “, „ $q$  je postačujúca podmienka pre  $p$ “.

Výrok  $p$  sa nazýva podmieňujúci (predpoklad) a výrok  $q$  sa nazýva podmienený výrok (záver). Implikácia je nepravdivá iba v prípade  $|p| = P$  a  $|q| = N$  (tab. 1.1.2).

**Ekvivalencia výrokov**  $p$  a  $q$  sa tvorí pomocou konštrukcie: „. . . (platí) práve vtedy, ak (platí) . . .“. Označujeme ju  $p \Leftrightarrow q$ , prípadne  $p \sim q$  alebo  $p \equiv q$  a čítame „ $p$  (platí) práve vtedy, ak (platí)  $q$ “, „ $p$  platí vtedy a len vtedy, ak platí  $q$ “, „ $Z$   $p$  vyplýva  $q$  a naopak z  $q$  vyplýva  $p$ “, „ $p$  je nutná podmienka a súčasne postačujúca podmienka pre  $q$ “ a podobne.

Ekvivalencia  $p \Leftrightarrow q$  je pravdivá v prípade, že  $|p| = |q|$  (tab. 1.1.2) a môžeme ju nahradiť zloženým výrokom  $(p \Rightarrow q) \wedge (q \Rightarrow p)$ .

<sup>2</sup>Tiež sa používa 1, A (áno), T (true), Y (yes), resp. 0, N (nie), F (false), N (no).

$p$	$q$	$\bar{p}$	$\bar{\bar{p}}$	$p \wedge q$	$q \wedge p$	$p \vee q$	$q \vee p$	$p \Rightarrow q$	$q \Rightarrow p$	$p \Leftrightarrow q$	$q \Leftrightarrow p$
$P$	$P$	$N$	$P$	$P$	$P$	$P$	$P$	$P$	$P$	$P$	$P$
$P$	$N$	$N$	$P$	$N$	$N$	$P$	$P$	$N$	$P$	$N$	$N$
$N$	$P$	$P$	$N$	$N$	$N$	$P$	$P$	$P$	$N$	$N$	$N$
$N$	$N$	$N$	$N$	$N$	$N$	$N$	$N$	$P$	$P$	$P$	$P$

Tabuľka 1.1.2: Pravdivostné hodnoty zložených výrokov

### 1.1.3 Výrokové formy

Nemá zmysel hovoriť o pravdivosti výrokovej formy, pretože obsahuje premenné. Ale má zmysel uvažovať, pre aké premenné vznikne pravdivý alebo nepravdivý výrok. **Tautológia** je výroková forma, ktorá po nahradení všetkých premenných konštantami dáva **vždy pravdivý výrok**. Naopak z **kontraindikácie** vznikne vždy nepravdivý výrok.

Pravdivostné hodnoty výrokov najčastejšie zisťujeme pomocou tabuľkovej alebo deduktívnej metódy, prípadne tieto metódy kombinujeme.

V prvom prípade zapíšeme danú výrokovú formu a jej jednotlivé premenné do **tabuľky pravdivostných hodnôt**. Najprv ohodnotíme pravdivostnými hodnotami jednotlivé premenné a potom určíme príslušné pravdivostné hodnoty výrokovej formy (tab. 1.1.3).

$p$	$q$	$p \Rightarrow q$	$q \Rightarrow p$	$p \Leftrightarrow q$	$(p \Rightarrow q) \wedge (q \Rightarrow p)$	$[p \Leftrightarrow q] \Leftrightarrow [(p \Rightarrow q) \wedge (q \Rightarrow p)]$
$P$	$P$	$P$	$P$	$P$	$P$	$P$
$P$	$N$	$N$	$P$	$N$	$N$	$P$
$N$	$P$	$P$	$N$	$N$	$N$	$P$
$N$	$N$	$P$	$P$	$P$	$P$	$P$

Tabuľka 1.1.3: Tautológia  $[p \Leftrightarrow q] \Leftrightarrow [(p \Rightarrow q) \wedge (q \Rightarrow p)]$ 

V prípade deduktívnej metódy vychádzame z axióm (str. 10) a tautológií, ktorých pravdivosť máme dokázanú a pomocou pravidiel odvodzovania z nich dedukujeme nové vzťahy. Najčastejšie pri tom používame **pravidlo substitúcie** (t. j. nahradenie jedného výrazu druhým<sup>3</sup>) a **pravidlá odlúčenia modus ponens a tollens**.

Nech  $p \Rightarrow q$  je pravdivá implikácia. Ak je  $p$  pravdivé, potom musí byť pravdivé tiež  $q$  (**modus ponens**, t. j. kladný úsudok). V opačnom prípade, t. j.  $|q| = N$ , by sme dostali nepravdivú implikáciu. Na druhej strane, ak je nepravdivé  $q$ , potom musí byť nepravdivé aj  $p$  (**modus tollens**, t. j. záporný úsudok). Pretože v prípade  $|p| = P$  by sme taktiež dostali nepravdivú implikáciu (viď. tab. 1.1.2).

Teraz uvedieme niektoré dôležité tautológie.

- **Zákon dvojitej negácie:**  $p \Leftrightarrow \bar{\bar{p}}$ , t. j.  $p$  a  $\bar{\bar{p}}$  majú rovnakú pravdivostnú hodnotu.
- **Zákon vylúčenia tretieho:**  $p \vee \bar{p}$ , t. j. buď platí výrok  $p$  alebo jeho negácia  $\bar{p}$ .
- **Zákon sporu:**  $\overline{p \wedge \bar{p}}$ , t. j. nemôže byť výrok  $p$  pravdivý a zároveň nepravdivý.

<sup>3</sup>Ak v skúmanom výraze  $T$  dosadíme za nejakú premenú (na každom mieste, kde sa vyskytuje) ľubovoľnú výrokovú formu, potom sa pravdivostná hodnota výrazu  $T$  nezmení.

- **de Morganove zákony:**  $\overline{p \vee q} \Leftrightarrow (\overline{p} \wedge \overline{q})$ , resp.  $\overline{p \wedge q} \Leftrightarrow (\overline{p} \vee \overline{q})$ .
- **Zákon hypotetického sylogizmu:**  $[(p \Rightarrow q) \wedge (q \Rightarrow r)] \Rightarrow (p \Rightarrow r)$ .
- **Zákon transpozície:**  $(p \Rightarrow q) \Leftrightarrow (\overline{q} \Rightarrow \overline{p})$ , t. j. obrátená implikácia.
- **Komutatívne zákony:**  $(p \wedge q) \Leftrightarrow (q \wedge p)$ ,  $(p \vee q) \Leftrightarrow (q \vee p)$ .
- **Asociatívne zákony:**<sup>4</sup>  $[(p \wedge q) \wedge r] \Leftrightarrow [p \wedge (q \wedge r)]$ ,  $[(p \vee q) \vee r] \Leftrightarrow [p \vee (q \vee r)]$ .
- **Distributívne zákony:**  $p \wedge (q \vee r) \Leftrightarrow [(p \wedge q) \vee (p \wedge r)]$ ,  $p \vee (q \wedge r) \Leftrightarrow [(p \vee q) \wedge (p \vee r)]$ .
- **Vzťah ekvivalencie a implikácie:**  $[p \Leftrightarrow q] \Leftrightarrow [(p \Rightarrow q) \wedge (q \Rightarrow p)]$ .
- **Negácia implikácie:**  $\overline{p \Rightarrow q} \Leftrightarrow (p \wedge \overline{q})$ , t. j. princíp dôkazu sporom.

### 1.1.4 Kvantifikátory

V matematike často skúmame, či je nejaký výrok pravdivý všeobecne, t. j. platný pre všetky prvky z oboru úvahy, alebo iba pre niektoré prvky, prípadne iba pre práve jeden prvok. Na druhej strane nás niekedy zaujíma, či existuje aspoň jeden prvok, pre ktorý je tento výrok pravdivý. Hovoríme, že **výrok kvantifikujeme**.

Ak danú vlastnosť alebo daný vzťah spĺňajú **všetky prvky** z oboru úvahy, kvantifikujeme daný výrok **všeobecným kvantifikátorom**. Označujeme ho symbolom  $\forall$  a vyjadrujeme ho slovami „každý“, „všetky“, „žiadny“ a podobne.

Ak danú vlastnosť alebo daný vzťah spĺňa **aspoň jeden prvok** z oboru úvahy, kvantifikujeme výrok **existenčným kvantifikátorom**. Označujeme ho symbolom  $\exists$  a vyjadrujeme ho slovami „existuje“, „jestvuje“, „niektoré“, „aspoň jeden“ a podobne.

Symbolom  $\exists!$  vyjadrujeme, že danú vlastnosť alebo daný vzťah spĺňa **práve jeden prvok** (aspoň jeden a najviac jeden). Namiesto označenia  $\exists x$  sa používa  $\#x$ .

Označme symbolom  $F(x)$  skutočnosť, že prvok  $x$  má vlastnosť  $F$  (napr. že prvok  $x$  patrí do nejakej množiny  $F$ ). Kvantifikácia sa vždy vzťahuje k **oboru kvantifikácie**, t. j. k množine premenných prvkov  $x$ . Ak použijeme kvantifikátor, potom viažeme premennú na túto množinu a z výrokovej formy  $F(x)$  sa stáva výrok.

V nasledujúcej časti uvádzame príklady výrokov s kvantifikátormi.

$\forall x: F(x)$  „Pre všetky  $x$ , pre ktoré platí  $F(x)$ .“, t. j. „Každé  $x$  má vlastnosť  $F$ .“

$\forall x: \overline{F(x)}$  „Nie je pravda, že každé  $x$  má vlastnosť  $F$ .“, t. j. „Nie každé  $x$  má vlastnosť  $F$ .“, t. j. „Existuje aspoň jedno  $x$ , ktoré nemá vlastnosť  $F$ .“

$\overline{\forall x: F(x)}$  „Nie každé  $x$  má vlastnosť  $F$ .“, t. j. „Existuje  $x$ , ktoré nemá vlastnosť  $F$ .“

$\forall x: \overline{F(x)}$  „Pre každé  $x$  platí, že nemá vlastnosť  $F$ .“, t. j. „Každé  $x$  nemá vlastnosť  $F$ .“  
V hovorovej reči použijeme dvojitú negáciu: „Žiadne  $x$  nemá vlastnosť  $F$ .“

$\overline{\forall x: \overline{F(x)}}$  „Nie každé  $x$  nemá vlastnosť  $F$ .“, t. j. „Neplatí, že každé  $x$  nemá vlastnosť  $F$ .“

$\exists x: F(x)$  „Existuje aspoň jedno  $x$ , ktoré má vlastnosť  $F$ .“

$\exists x: \overline{F(x)}$  „Nie je pravda, že existuje  $x$ , ktoré má vlastnosť  $F$ .“, t. j. „Neexistuje  $x$ , ktoré má vlastnosť  $F$ .“, t. j. „Každé  $x$  nemá vlastnosť  $F$ .“

$\overline{\exists x: F(x)}$  „Neexistuje  $x$ , ktoré má vlastnosť  $F$ .“, t. j. „Každé  $x$  nemá vlastnosť  $F$ .“

<sup>4</sup>Pre jednoduchosť zátvorky vynechávame a píšeme  $p \wedge q \wedge r$ , resp  $p \vee q \vee r$ .

$\exists x: \overline{F(x)}$  „Existuje aspoň jedno  $x$ , ktoré nemá vlastnosť  $F$ .“

$\overline{\exists x: F(x)}$  „Neexistuje  $x$ , ktoré nemá vlastnosť  $F$ .“

Z predchádzajúceho vyplýva, že  $\overline{\forall x F(x)}$ ,  $\overline{\forall x F(x)}$  a  $\exists x \overline{F(x)}$ , resp.  $\overline{\exists x F(x)}$ ,  $\overline{\exists x F(x)}$  a  $\forall x \overline{F(x)}$  vyjadrujú tie isté výroky. To znamená, že negácia kvantifikátora je ekvivalentná negácii kvantifikovaného výroku a že pri negácii výroku sa menia kvantifikátory navzájom a výroková forma sa mení na svoju negáciu, t. j.

$$\overline{\forall x: F(x)} \Leftrightarrow \overline{\forall x: F(x)} \Leftrightarrow \exists x: \overline{F(x)}, \quad \overline{\exists x: F(x)} \Leftrightarrow \overline{\exists x: F(x)} \Leftrightarrow \forall x: \overline{F(x)}.$$

## Cvičenia

**1.1.1.** Vytvorte negácie nasledujúcich výrokov: ♣

- |                                     |                                     |                                     |
|-------------------------------------|-------------------------------------|-------------------------------------|
| a) $\forall x \in R: \sin x < 1$ ,  | b) $\exists x \in R: \sin x < 1$ ,  | c) $\exists! x \in R: \sin x < 1$ , |
| d) $\nexists x \in R: \sin x < 1$ , | e) $\forall x \in R: \sin x > 1$ ,  | f) $\exists x \in R: \sin x > 1$ ,  |
| g) $\exists! x \in R: \sin x > 1$ , | h) $\nexists x \in R: \sin x > 1$ , | i) $\forall x \in R: \sin x = 1$ ,  |
| j) $\exists x \in R: \sin x = 1$ ,  | k) $\exists! x \in R: \sin x = 1$ , | l) $\nexists x \in R: \sin x = 1$ . |

**1.1.2.** Napíšte tabuľky pravdivostných hodnôt pre nasledujúce výroky: ♣

- |                                                |                                                |                                                                |                                                                                  |
|------------------------------------------------|------------------------------------------------|----------------------------------------------------------------|----------------------------------------------------------------------------------|
| a) $\overline{p \vee \overline{q}}$ ,          | b) $\overline{p \wedge \overline{q}}$ ,        | c) $\overline{p \vee (q \wedge \overline{p})}$ ,               | d) $(\overline{p \wedge q}) \vee (p \wedge \overline{q})$ ,                      |
| e) $\overline{p \Rightarrow q}$ ,              | f) $\overline{p \Leftrightarrow q}$ ,          | g) $\overline{p \Rightarrow q} \Leftrightarrow \overline{q}$ , | h) $(p \Rightarrow \overline{q}) \wedge \overline{q} \Rightarrow \overline{p}$ , |
| i) $\overline{p \wedge \overline{q}} \vee p$ , | j) $\overline{p \wedge \overline{q}} \vee q$ , | k) $(p \vee q) \Rightarrow \overline{p}$ ,                     | l) $(p \vee q) \wedge (p \vee \overline{q})$ .                                   |

**1.1.3.** Utvorte výroky  $p \wedge q$ ,  $p \vee q$  a určte, v ktorých prípadoch sú pravdivé: ♣

- a)  $p$ : „Daný trojuholník je pravouhlý.“,  $q$ : „Daný trojuholník je rovnoramenný.“,  
 b)  $p$ : „Celé číslo  $k$  je párne.“,  $q$ : „Celé číslo  $k$  je deliteľné tromi.“,  
 c)  $p$ : „Daná nerovnica platí pre  $x \leq 4$ .“,  $q$ : „Daná nerovnica neplatí pre  $x \leq 1$ .“,  
 d)  $p$ : „Daná kvadratická rovnica nemá reálne riešenie.“,  $q$ : „Daná kvadratická rovnica má absolútny člen s opačným znamienkom ako znamienko kvadratického člena.“.

**1.1.4.** Zistite, ktoré z nasledujúcich výrokových foriem sú tautológie: ♣

- |                                                                                                                      |                                                                                                               |
|----------------------------------------------------------------------------------------------------------------------|---------------------------------------------------------------------------------------------------------------|
| a) $[(p \Rightarrow q) \wedge (p \Rightarrow r)] \Rightarrow [p \Rightarrow (q \wedge r)]$ ,                         | b) $[(q \Rightarrow p) \wedge (r \Rightarrow p)] \Rightarrow [(q \vee r) \Rightarrow p]$ ,                    |
| c) $[(p \Rightarrow q) \vee (q \Rightarrow p)] \Leftrightarrow [(\overline{p} \Rightarrow \overline{q}) \wedge p]$ , | d) $[(q \vee r) \Rightarrow p] \Rightarrow [(q \Rightarrow p) \vee (r \Rightarrow p)]$ ,                      |
| e) $[(p \wedge q) \Rightarrow r] \Leftrightarrow [\overline{r} \Rightarrow (\overline{q} \vee \overline{p})]$ ,      | f) $[(p \vee q) \Rightarrow r] \Leftrightarrow [\overline{r} \Rightarrow (\overline{q} \wedge \overline{p})]$ |
| g) $[(p \Rightarrow q) \wedge (p \Rightarrow r)] \Leftrightarrow [p \Rightarrow (q \wedge r)]$ ,                     | h) $[(p \Rightarrow q) \vee (p \Rightarrow r)] \Leftrightarrow [p \Rightarrow (q \vee r)]$ .                  |

**1.1.5.** Ku  $p \Rightarrow q$  a  $p \Leftrightarrow q$  nájdite ekvivalentné formy, ktoré obsahujú iba negáciu a:

- a) konjunkciu, disjunkciu,      b) konjunkciu,      c) disjunkciu.

**1.1.6.** Z výrokových foriem  $p$ : „ $x$  je deliteľné dvomi.“,  $q$ : „ $x$  je deliteľné tromi.“,  $r$ : „ $x$  je deliteľné šiestimi.“ vytvorte v slovnom znení zložené formy  $F(x)$ ,  $\overline{F(x)}$ : ♣

- |                                                                      |                                                                      |                                                                                 |
|----------------------------------------------------------------------|----------------------------------------------------------------------|---------------------------------------------------------------------------------|
| a) $F(x): (p \wedge q) \Leftrightarrow r$ ,                          | b) $F(x): (p \vee q) \Rightarrow r$ ,                                | c) $F(x): \overline{p \vee q} \Rightarrow (\overline{p} \wedge \overline{q})$ , |
| d) $F(x): (p \Rightarrow q) \vee \overline{p} \wedge \overline{r}$ , | e) $F(x): (p \Rightarrow q) \Leftrightarrow (p \vee \overline{q})$ , | f) $F(x): (p \vee r) \Rightarrow (p \vee q)$ .                                  |

**1.1.7.** Zistite, ktoré z výrokových foriem  $F(x)$  z príkladu 1.1.6 sú tautológie. ♣

**1.1.8.** Zameňme v príklade 1.1.6 výrokovú formu  $r$  na tvar „ $x$  je deliteľné piatimi.“. Ktoré z výrokových foriem  $F(x)$  sú tautológie v tomto prípade? ♣

**1.1.9.** Nech výroková forma  $t$  je tautológia a výroková forma  $k$  je kontraindikácia. Zistite, ktoré z nasledujúcich výrokových foriem sú tautológie a ktoré kontraindikácie: ♣

- a)  $\bar{t}$ ,            b)  $\bar{k}$ ,            c)  $t \Rightarrow k$ ,        d)  $k \Rightarrow t$ ,        e)  $(t \Rightarrow k) \vee \overline{t \wedge k}$ ,  
 f)  $t \vee k$ ,        g)  $t \wedge k$ ,        h)  $\bar{t} \vee \bar{k}$ ,        i)  $\bar{t} \wedge \bar{k}$ ,        j)  $(t \vee k) \Rightarrow \bar{k} \Rightarrow \bar{t}$ .

**1.1.10.** K výrokovej forme  $\overline{p \Rightarrow q} \vee (r \Leftrightarrow s)$  nájdite ekvivalent bez symbolov  $\Rightarrow$ ,  $\Leftrightarrow$ ,  $\vee$ . ♣

**1.1.11.** Dokážte, že výroková forma  $\overline{\overline{p \Leftrightarrow q} \Leftrightarrow r} \Leftrightarrow \overline{p \Leftrightarrow q \Leftrightarrow r}$  je tautológia.

**1.1.12.** Vytvorte negáciu a rozhodnite, ktorý z výrokov je pravdivý: ♣

- a)  $\exists x \in R: \cos x = \sqrt{1 - \sin^2 x}$ ,            b)  $\forall x \in R: \cos x = \sqrt{1 - \sin^2 x}$ ,  
 c)  $\forall x \in R: \sin^2 x + \cos^2 x = 1$ ,            d)  $\forall x \in R: \sin^2 x - \cos^2 x = 1$ ,  
 e)  $\exists x \in R: x^4 < x^3$ ,                            f)  $\forall x \in R \forall y \in R: x^2 + y^2 > 0$ ,  
 g)  $\exists x \in R \forall n \in N: n + 3 < nx$ ,            h)  $\forall n \in N \exists x \in R: n + 3 < nx$ .

## 1.2 Základné prvky matematickej teórie

Hlavným znakom súčasnej matematiky je, že svoje jednotlivé disciplíny buduje axiomaticky. Na začiatku sú najjednoduchšie pojmy (tzv. **primitívne**) a súbory viet (**axiómy**), o ktorých predpokladáme, že platia a nedokazujeme ich.

Výber primitívnych pojmov a axióm je ovplyvnený rôznymi podmienkami a hlavne účelom, pre ktorý sa disciplína buduje. Najdôležitejšia je **podmienka bezspornosti systému**. To znamená, že v systéme nemôžeme odvodiť výrok a zároveň jeho negáciu. Taktiež nemôže nastať situácia bežná pri právnych normách a zákonoch platných v SR, keď dvaja rovnako odborne fundovaní právnici si vykladajú jeden a ten istý zákon protikladne. Na tomto základe definujeme pomocou definícií nové pojmy a pomocou už dokázaných (t. j. platných) viet formulujeme a dokazujeme vety nové. Štruktúru matematiky môžeme charakterizovať trojicou základných kameňov, ktoré nazývame **definícia**, **veta** a **dôkaz**.

**Definícia** určuje význam zavádzaného pojmu pomocou už známych pojmov.

**Veta (poučka, tvrdenie, lema, pravidlo)** je pravdivý výrok o matematických objektoch a vzťahoch medzi nimi, ktorý je dokázaný, resp. nie sú o ňom pochybnosti. **Pravidlom** nazývame obyčajne vetu, ktorá obsahuje návod na ďalší postup (napr. konštrukciu daných objektov). **Lemy** (t. j. **pomocné vety**) majú pomocný význam pri dokazovaní iných viet.

### 1.2.1 Dôkazy

**Dôkaz** vety, resp. daného tvrdenia je logický proces, ktorého cieľom je ukázať pravdivosť tvrdenia pomocou axióm, definícií a už predtým dokázaných viet. Dôkazy môžu mať rôzne formy, najznámejšie sú **priamy**, **nepriamy** a **dôkaz matematickou indukciou**.

**Priamy dôkaz** sa používa pri dokazovaní platnosti viet, ktoré majú vo všeobecnosti tvar  $p \Rightarrow q$  (ak platí výrok  $p$ , potom platí výrok  $q$ ). Predpokladáme, že výrok  $p$  je pravdivý a pomocou definícií, axióm a už dokázaných viet postupne ukážeme (s použitím modus

ponens), že platí výrok  $q$ . Prakticky zostrojíme konečnú postupnosť pravdivých výrokov  $p_1, p_2, \dots, p_k$ , ktorú môžeme symbolicky zapísať  $p \Rightarrow p_1 \Rightarrow p_2 \Rightarrow \dots \Rightarrow p_k \Rightarrow q$ .

**Nepriamy dôkaz** sa tiež používa pri dokazovaní platnosti viet tvaru  $p \Rightarrow q$ . Nedoказujeme však výrok  $p \Rightarrow q$ , ale nejaký ekvivalentný výrok (napr. obrátenú implikáciu) alebo dokazujeme platnosť, resp. neplatnosť negácie pôvodného výroku (dôkaz sporom).

Pri dôkaze pomocou **obrátenej implikácie** nahradíme pôvodnú implikáciu  $p \Rightarrow q$  obrátenou implikáciou  $\bar{q} \Rightarrow \bar{p}$  (zákon transpozície, str. 8) a túto potom dokážeme.

Pri **dôkaze sporom** predpokladáme platnosť negácie výroku  $p \Rightarrow q$ , t. j. výroku  $p \wedge \bar{q}$  a ukážeme jeho nepravdivosť. Prakticky to znamená, že dospejeme k sporu.

**Matematická indukcia** je dôležitý prostriedok na dokazovanie tvrdenia, že prvky danej množiny (najčastejšie prirodzené čísla) spĺňajú nejakú vlastnosť  $F$ . Pomocou matematickej indukcie dokazujeme pravdivosť výrokov tvaru  $\forall n \in N, n \geq n_0: F(n)$ , kde  $n_0 \in N$  je vopred dané číslo.<sup>5</sup> Samotný dôkaz pozostáva z krokov 1, 2 a záveru:

*Krok 1:* Ukážeme, že tvrdenie  $F$  je splnené pre prvý prvok  $n = n_0$ , t. j. že platí  $F(n_0)$ .

*Krok 2:* Predpokladáme, že tvrdenie  $F$  platí pre nejaké prirodzené číslo  $n = k \geq n_0$  a (za tohto predpokladu) dokážeme, že tvrdenie  $F$  platí aj pre nasledujúce prirodzené číslo  $n = k + 1$ . Takže dokážeme implikáciu  $F(k) \Rightarrow F(k + 1)$ .

*Záver:* V kroku 1 sme ukázali, že platí  $F(n_0)$ . Z kroku 2 vyplýva platnosť  $F(n_0 + 1)$ . Z tohto opäť na základe kroku 2 vyplýva platnosť  $F(n_0 + 2)$ ,  $F(n_0 + 3)$  atď. Potom je tvrdenie  $F$  splnené pre všetky prirodzené čísla  $n \geq n_0$ .

### Príklad 1.2.1.

Dokážte: „Ak je  $n \in N$  deliteľné číslom 4, potom je tiež deliteľné číslom 2.“

*Priamy dôkaz* [ $\forall n \in N: 4|n \Rightarrow 2|n$ ]:  $\forall n \in N: 4|n \Rightarrow \exists k \in N: n = 4k = 2(2k) \Rightarrow 2|n$ .

*Obrátená implikácia* [ $\forall n \in N: 2|n \Rightarrow 4|n$ ]:  $\forall n \in N: 2|n \Rightarrow (2 \cdot 2)|n$ , t. j.  $4|n$ .

*Dôkaz sporom* [ $\forall n \in N: 4|n \wedge 2 \nmid n \Rightarrow$  spor]:

$$\forall n \in N: 4|n \wedge 2 \nmid n \Rightarrow [\exists k \in N: n = 4k = 2(2k)] \wedge 2 \nmid n \Rightarrow 2|n \wedge 2 \nmid n, \text{ t. j. spor. } \blacksquare$$

### Príklad 1.2.2.

Dokážte matematickou indukciou, že pre všetky  $n \in N$  platí  $1 + 3 + 5 + \dots + (2n - 1) = n^2$ .

#### Riešenie.

Označme  $F(n) = 1 + 3 + 5 + \dots + (2n - 1)$ . Takže máme ukázať rovnosť  $F(n) = n^2$ .

*Krok 1* [ $F(1) = 1^2$ ]: Platí triviálne, pretože  $F(1) = 1 = 1^2$ .

*Krok 2* [ $F(k) = k^2 \Rightarrow F(k + 1) = (k + 1)^2$ ]:  $F(k) = k^2 \Rightarrow$

$$F(k + 1) = 1 + 3 + \dots + (2k - 1) + (2k + 1) = F(k) + (2k + 1) = k^2 + 2k + 1 = (k + 1)^2. \blacksquare$$

### Príklad 1.2.3.

Dokážte matematickou indukciou, že pre  $\forall n \in N, n \geq 5$  platí nerovnosť  $2^n > n^2$ .

#### Riešenie.

*Krok 1* [ $n = 5$ ]:  $32 = 2^5 > 5^2 = 25$ .

*Krok 2* [ $2^k > k^2 \Rightarrow 2^{k+1} > (k+1)^2$ ]:  $k \geq 5 \Rightarrow (k-1)^2 = k^2 - 2k + 1 \geq (5-1)^2 = 16 \Rightarrow$

$$k^2 \geq 2k + 15 > 2k + 1 \Rightarrow 2^{k+1} = 2 \cdot 2^k > 2 \cdot k^2 = k^2 + k^2 > k^2 + 2k + 1 = (k+1)^2. \blacksquare$$

<sup>5</sup>To znamená, že sú splnené tvrdenia  $F(n_0)$ ,  $F(n_0 + 1)$ ,  $F(n_0 + 2)$ , ...

Nie všetky tvrdenia sa dajú dokázať predchádzajúcimi spôsobmi. Niekedy potrebujeme overiť existenciu nejakého objektu, t. j. dokázať pravdivosť výroku  $\exists x F(x)$ . Tu nám stačí nájsť jeden prvok, pre ktoré  $F$  platí. Preto sa tieto dôkazy nazývajú **existenčné**.

Na dokázanie pravdivosti výroku  $\forall x F(x)$ , je nutné ukázať, že vlastnosť  $F$  je splnená pre všetky prvky  $x$ . Z ekvivalencie  $\forall x F(x) \Leftrightarrow \overline{\exists x \overline{F(x)}}$  vyplýva, že na dokázanie nepravdivosti výroku  $\forall x F(x)$  postačí nájsť jeden prvok, pre ktorý vlastnosť  $F$  splnená nie je. Takýto prvok nazývame **kontrapríklad**.

Často v matematike potrebujeme zostrojiť (skonštruovať) nejaký objekt s danými, konkrétnymi vlastnosťami, preto takýto postup niekedy nazývame **konštruktívny dôkaz**.

#### Príklad 1.2.4.

Dokážte, že pre všetky  $n \in \mathbb{N}$  platí  $1 + 2 + 3 + \dots + n = \frac{n(n+1)}{2}$ .

#### Riešenie.

$\{a_k\}_{k=1}^n = \{1, 2, 3, \dots, n\}$  je konečná  $n$ -členná aritmetická postupnosť s diferenciou  $d=1$ . Pre súčet jej členov platí  $1 + 2 + 3 + \dots + n = \frac{n}{2}(a_1 + a_n) = \frac{(1+n)n}{2}$ .

#### Iné riešenie.

Ak označíme  $1 + 2 + 3 + \dots + n = s$ , potom platí:

$$\begin{array}{ccccccccccc} 1 & + & 2 & + & 3 & + & \dots & + & n & = & s \\ n & + & n-1 & + & n-2 & + & \dots & + & 1 & = & s \\ \hline (n+1) & + & (n+1) & + & (n+1) & + & \dots & + & (n+1) & = & n(n+1). \end{array}$$

$$\Rightarrow 2s = n(n+1) \Rightarrow s = 1+2+3+\dots+n = \frac{(n+1)n}{2}.$$

#### Iné riešenie.

Dokážeme matematickou indukciou, že pre všetky  $n \in \mathbb{N}$  platí  $F(n) = G(n)$ , pričom:

$$F(n) = 1 + 2 + \dots + n, \quad G(n) = \frac{n(n+1)}{2}.$$

*Krok 1* [ $F(1) = G(1)$ ]:  $F(1) = 1, G(1) = \frac{1 \cdot (1+1)}{2} = 1 \Rightarrow F(1) = G(1)$ .

*Krok 2* [ $F(k) = G(k) \Rightarrow F(k+1) = G(k+1)$ ]:  $F(k) = G(k) \Rightarrow$

$$\begin{aligned} F(k+1) &= 1 + 2 + \dots + k + (k+1) = [1 + 2 + \dots + k] + (k+1) = F(k) + (k+1) = \\ &= \frac{k(k+1)}{2} + (k+1) = (k+1) \left[ \frac{k}{2} + 1 \right] = (k+1) \frac{k+2}{2} = \frac{(k+1)[(k+1)+1]}{2} = G(k+1). \blacksquare \end{aligned}$$

## 1.2.2 Sumačná a súčinová symbolika

Znak  $\sum$  (veľké grécke sigma) sa používa na zjednodušenie zápisu súčtu s mnohými sčítancami. Ich počet môže byť konečný ale aj nekonečný. Tento súčet zapisujeme v tvare

$$\sum_{j=s}^n a_j = a_s + a_{s+1} + \dots + a_{n-1} + a_n, \quad \text{resp.} \quad \sum_{j=s}^{\infty} a_j = a_s + a_{s+1} + a_{s+2} + a_{s+3} + \dots$$

a čítame **suma (súčet)  $a_j$  pre  $j=s$  až  $n$** , resp. **až do nekonečna**. Písmeno  $j$  nazývame **sčítací index**,  $s \in \mathbb{Z}$  nazývame **dolná hranica pre sčítanie** a  $n \in \mathbb{Z}$ , resp.  $\infty$  nazývame **horná hranica pre sčítanie**. Za  $j$  dosadzujeme postupne celočíselné hodnoty od dolnej hranice po hornú hranicu (vrátane hraníc). Nekonečné sumy sa nazývajú **číselné rady** a budeme sa nimi podrobne zaoberať neskoršie.



Na zjednodušenie súčinu používame analogicky znak  $\prod$  (veľké grécke pí). Píšeme

$$\prod_{j=s}^n a_j = a_s \cdot a_{s+1} \cdots a_{n-1} \cdot a_n, \quad \text{resp.} \quad \prod_{j=s}^{\infty} a_j = a_s \cdot a_{s+1} \cdot a_{s+2} \cdot a_{s+3} \cdots$$

a čítame **súčin (produkt)  $a_j$  pre  $j = s$  až  $n$** , resp. **až do nekonečna**. Písmeno  $j$  nazývame **násobiaci index**,  $s$  **dolná hranica** a  $n$ , resp.  $\infty$  **horná hranica pre násobenie**.

Nech  $n \in \mathbb{N}$ , potom súčin  $n! = \prod_{j=1}^n j = 1 \cdot 2 \cdot 3 \cdots n$  nazývame **faktoriál čísla  $n$**  a čítame  **$n$  faktoriál**. Špeciálne pre  $n=0$  definujeme  $0! = 1$ .

## Cvičenia

**1.2.1.** Dokážte rôznymi spôsobmi nasledujúce tvrdenia:

- Pre všetky reálne čísla  $a, b$  platí  $a^2 + b^2 \geq 2ab$ .
- Súčin dvoch nepárnych čísel je číslo nepárne.
- Súčin dvoch párných čísel je číslo párne.
- Súčin dvoch čísel, z ktorých je aspoň jedno párne, je párny.

**1.2.2.** Dokážte, že  $\sqrt{2}$ ,  $\sqrt{3}$ ,  $\sqrt{5}$ ,  $\sqrt{6}$ ,  $\sqrt{7}$ ,  $\sqrt{8}$ ,  $\sqrt{10}$ ,  $\sqrt{11}$  sú iracionálne čísla.

**1.2.3.** Dokážte:  $\forall a, b \in \mathbb{R}: a \neq b \Leftrightarrow a^2 + b^2 > 2ab$ .

**1.2.4.** Dokážte rôznymi spôsobmi, že pre všetky  $n \in \mathbb{N}$  platí:  $3 \nmid n \Rightarrow 3 \mid (n^2 - 1)$ .

**1.2.5.** Dokážte priamo a potom matematickou indukciou, že pre všetky  $n \in \mathbb{N}$  platí:

- $2 \mid (n^2 - n)$ ,
- $3 \mid (2n^3 + n)$ ,
- $5 \mid (n^5 - n)$ ,
- $6 \mid (n^3 - n)$ ,
- $6 \mid (n^3 + 3n^2 + 2n)$ ,
- $6 \mid (n^7 - n)$ ,
- $7 \mid (n^7 - n)$ ,
- $7 \mid (6^{2n} - 8)$ .

**1.2.6.** Dokážte priamo a potom matematickou indukciou, že pre všetky  $n \in \mathbb{N}$  platí:

- $\sum_{j=1}^n \frac{1}{j(j+1)} = \frac{n}{n+1}$ ,
- $\sum_{j=1}^n \frac{1}{(2j-1)(2j+1)} = \frac{n}{2n+1}$ ,
- $\sum_{j=1}^n \frac{1}{(3j-1)(3j+2)} = \frac{n}{2(3n+2)}$ ,
- $\sum_{j=1}^n \frac{1}{(4j-3)(4j+1)} = \frac{n}{4n+1}$ .

**1.2.7.** Dokážte pomocou matematickej indukcie, že pre všetky  $n \in \mathbb{N}$  platí:

- $\sum_{j=1}^n 2j = n(n+1)$ ,
- $\sum_{j=1}^n (2j-1) = n^2$ ,
- $\sum_{j=0}^n 2^{-j} = 2 - 2^{-n}$ ,
- $\sum_{j=1}^n j^3 = \frac{n^2(n+1)^2}{4}$ ,
- $\sum_{j=0}^n 2^j = 2^{n+1} - 1$ ,
- $\sum_{j=0}^n 3^j = \frac{3^{n+1}-1}{2}$ ,

**1.2.8.** Dokážte pomocou matematickej indukcie, že pre všetky  $n \in \mathbb{N}$  platí:

- $\sum_{j=1}^n (-1)^j (2j-1) = (-1)^n n$ ,
- $\sum_{j=1}^n (-1)^j j = \frac{(-1)^n (2n+1) - 1}{4}$ ,
- $\sum_{j=1}^n j^2 = \frac{n(n+1)(2n+1)}{6}$ ,
- $\sum_{j=1}^n (-1)^j j^2 = \frac{(-1)^n n(n+1)}{2}$ ,
- $\sum_{j=1}^n j(j+1) = \frac{n^3+3n^2+2n}{3}$ ,
- $\sum_{j=1}^n j(j+1)(j+2) = \frac{n(n+1)(n+2)(n+3)}{4}$ .

**1.2.9.** Dokážte, že pre všetky  $n \in \mathbb{N}$ ,  $n \geq 9$  platí  $2^n > (n-1)^2(n-2)$ .

**1.2.10.** Dokážte: a)  $\forall n \in \mathbb{N}: 4 \mid [n^2 + (n+1)^2 - 1]$ , b)  $\forall n \in \mathbb{N}: 9 \mid [n^3 + (n+1)^3 + (n+2)^3]$ .

**1.2.11.** Predpokladajme, že existujú trojhalierové a päťhalierové mince. Dokážte, že každý nákup s cenou viac ako 7 halierov môžeme zaplatiť iba týmito mincami.

**1.2.12.** Dokážte pomocou matematickej indukcie:

- Vypuklý  $n$ -uholník má  $(n-3)n/2$  uhlopriečok.
- Súčet vnútorných uhlov vypuklého  $n$ -uholníka je  $(n-2)\pi$ .
- Súčet vnútorných uhlov ľubovoľného  $n$ -uholníka je  $(n-2)\pi$ .
- $n$  priamok prechádzajúcich jedným bodom delí rovinu na  $2n$  častí.

## 1.3 Množiny

Pod pojmom **množina** rozumieme neusporiadaný súbor (skupinu, súhrn) predmetov (vecí, pojmov, čísel, ...), ktoré nazývame **prvky množiny**. Množiny sa obvykle označujú veľkými písmenami a ich prvky sa ohraničujú zloženými zátvorkami  $\{ \}$ . Symbolmi  $\in$  a  $\notin$  vyjadrujeme, že prvok patrí alebo nepatrí do danej množiny.

**Množinu považujeme za danú**, ak o každom predmete je určené, či do nej patrí alebo nepatrí. Množinu definujeme vyjadrením všetkých jej prvkov, napríklad zápismi

$$A = \{\text{zoznam prvkov}\} = \{x; \text{podmienky pre } x\}.$$

Ak má množina konečný počet prvkov, nazýva sa **konečná množina**. Ak nie je konečná, nazýva sa **nekonečná množina**. Príkladom konečnej a nekonečnej množiny sú napríklad  $A = \{n \in \mathbb{N}; n < 10\} = \{1, 2, \dots, 9\}$  a  $B = \{n \in \mathbb{N}; n > 10\} = \{11, 12, 13, \dots\}$ .

Hovoríme, že **množina  $A$  je podmnožinou<sup>6</sup> množiny  $B$**  ak, každý prvok množiny  $A$  patrí aj do množiny  $B$  a zapisujeme  $A \subset B$ . V opačnom prípade zapisujeme  $A \not\subset B$ .

Hovoríme, že **množiny  $A$  a  $B$  sa rovnajú (sú totožné)**, ozn.  $A = B$ , ak majú rovnaké prvky, t. j. ak každý prvok z  $A$  patrí do  $B$  a zároveň každý prvok z  $B$  patrí do  $A$ . Takže  $A = B$  práve vtedy, ak  $A \subset B$  a zároveň  $B \subset A$ .

Ak neplatí  $A = B$ , potom hovoríme, že **množiny  $A$  a  $B$  sú rôzne (nerovnajú sa)** a zapisujeme  $A \neq B$ . Je zrejmé, že množiny  $A$  a  $B$  sú rôzne, ak existuje aspoň jeden prvok, ktorý patrí do jednej z nich a nepatrí do druhej.

Niekedy sa používajú označenia  $A \subseteq B$  alebo  $A \subseteq\subseteq B$ , aby sme zdôraznili, že môže platiť  $A = B$  a naopak označenia  $A \subsetneq B$ , resp.  $A \subsetneqq B$ , aby sme vylúčili možnosť  $A = B$ .

Množinu, ktorá neobsahuje žiadne prvky, nazývame **prázdna množina** a označujeme ju  $\emptyset$ , prípadne  $\{ \}$ . Musíme si ale uvedomiť, že symbol  $\{\emptyset\}$  vyjadruje jednoprvkovú množinu, ktorá ako prvok obsahuje prázdnu množinu. Ďalej si treba uvedomiť, že **prázdna množina je podmnožinou každej množiny** a že je **konečnou množinou**.

Môže sa stať, že prvkami množiny sú opäť množiny, sú to tzv. **systemy množín**. Špeciálny význam má množina všetkých podmnožín danej množiny  $A$ , ktorú nazývame (**potenčná množina množiny  $A$** ) a označujeme  $2^A$ , t. j.  $2^A = \{B; B \subset A\}$ .

### Príklad 1.3.1.

Potenčnou množinou množiny  $X = \{0, 1, 2\}$  je množina

$$2^X = \{A; A \subset X\} = \{\emptyset, \{0\}, \{1\}, \{2\}, \{0, 1\}, \{0, 2\}, \{1, 2\}, X\}. \blacksquare$$

<sup>6</sup>Niekedy tiež hovoríme, že  $B$  je **nadmnožinou**  $A$  a označujeme  $B \supset A$ .

### 1.3.1 Operácie s množinami

**Prienikom množín  $A$  a  $B$**  nazývame množinu, ktorá obsahuje všetky prvky patriace do množiny  $A$  a zároveň do množiny  $B$ , t. j.  $A \cap B = \{x; x \in A \wedge x \in B\}$ . Ak pre množiny  $A, B$  platí  $A \cap B = \emptyset$ , potom ich nazývame **disjunktné**.

**Zjednotením (súčtom) množín  $A$  a  $B$**  nazývame množinu, ktorá obsahuje všetky prvky patriace do množiny  $A$  alebo do množiny  $B$ , t. j.  $A \cup B = \{x; x \in A \vee x \in B\}$ .

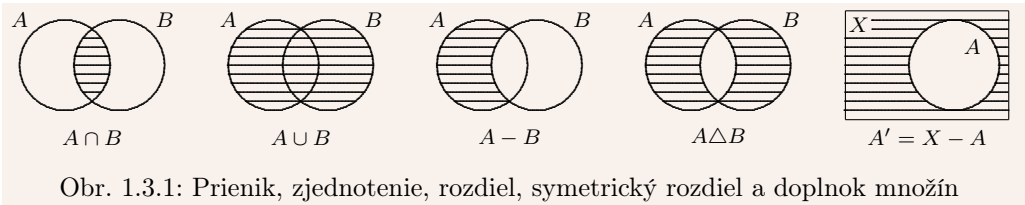
**Rozdielom množín  $A$  a  $B$**  nazývame množinu, ktorá obsahuje všetky prvky patriace do množiny  $A$  a zároveň nepatriace do množiny  $B$ , t. j.  $A - B = \{x; x \in A \wedge x \notin B\}$ .

**Symetrickým rozdielom množín  $A$  a  $B$**  nazývame  $(A - B) \cup (B - A)$ , t. j.

$$A \Delta B = (A - B) \cup (B - A) = \{x; x \in (A - B) \vee x \in (B - A)\}.$$

Nech  $A \subset X$ . **Doplnkom (komplementom, doplnkovou, resp. komplementárnou množinou) množiny  $A$  do množiny  $X$**  nazývame množinu  $A' = X - A$ . Niekedy sa zvykne doplnok tiež označovať  $A^c$ ,  $\bar{A}$ , resp.  $A'_X$  (aby sa zdôraznilo do množiny  $X$ ). Množiny  $A$  a  $A'$  sa nazývajú **doplnkové (komplementárne) vzhľadom na množinu  $X$** .

Z definície vyplýva, že každý prvok  $x \in X$  patrí do práve jednej z množín  $A, A'$ .



Obr. 1.3.1: Prienik, zjednotenie, rozdiel, symetrický rozdiel a doplnok množín

**Karteziánskym súčinom množín  $A$  a  $B$**  nazývame  $A \times B = \{[x; y]; x \in A, y \in B\}$ . Výraz  $[x; y]$  sa nazýva **usporiadaná dvojica prvkov  $x$  a  $y$** , pretože závisí na poradí prvkov  $x$  a  $y$ . Usporiadané dvojice  $[x_1; y_1]$  a  $[x_2; y_2]$  sa **rovnejú**, ak platí  $x_1 = x_2, y_1 = y_2$ .

Podobne pre  $n \in \mathbb{N}$  nazývame výraz  $[x_1; x_2; \dots; x_n]$  **usporiadaná  $n$ -tica** a množinu

$$A_1 \times \dots \times A_n = \{[x_1; \dots; x_n]; x_1 \in A_1, \dots, x_n \in A_n\}$$

**karteziánskym súčinom množín  $A_1, A_2, \dots, A_n$** . Pre  $A_1 = A_2 = \dots = A_n = A$  zjednodušené píšeme  $A \times A \times \dots \times A = A^n$ , t. j.  $A = A^1, A \times A = A^2, A \times A \times A = A^3$ .

Množinové operácie (prienik, zjednotenie, ...) majú podobné vlastnosti ako logické operácie (konjunkcia, disjunkcia, ...).

#### Veta 1.3.1.

$A$  je ľubovoľná množina  $\implies A \cup \emptyset = A, A \cap \emptyset = \emptyset, \emptyset - A = \emptyset$ .

#### Dôkaz.

Tvrdenia vyplývajú priamo z definície:  $A \cup \emptyset = \{x; x \in A \vee x \in \emptyset\} = \{x; x \in A\} = A$ ,

$A \cap \emptyset = \{x; x \in A \wedge x \in \emptyset\} = \{x; x \in \emptyset\} = \emptyset, \emptyset - A = \{x; x \in \emptyset \wedge x \notin A\} = \{x; x \in \emptyset\} = \emptyset$ . ■

**Veta 1.3.2.**

$A, B, C$  sú ľubovoľné množiny  $\implies$

- a)  $A \cap B = B \cap A, \quad A \cup B = B \cup A, \quad A \Delta B = B \Delta A,$   
 b)  $A \cap (B \cap C) = (A \cap B) \cap C, \quad A \cup (B \cup C) = (A \cup B) \cup C,$   
 c)  $A \cap (B \cup C) = (A \cap B) \cup (A \cap C), \quad A \cup (B \cap C) = (A \cup B) \cap (A \cup C).$

**Dôkaz.**

a) Vyplýva z definície.

b) Z asociatívnych zákonov pre  $\wedge$  a  $\vee$  vyplýva:

$$\begin{aligned} x \in [A \cap (B \cap C)] &\Leftrightarrow [x \in A \wedge (x \in B \wedge x \in C)] \Leftrightarrow [(x \in A \wedge x \in B) \wedge x \in C] \Leftrightarrow x \in [(A \cap B) \cap C], \\ x \in [A \cup (B \cup C)] &\Leftrightarrow [x \in A \vee (x \in B \vee x \in C)] \Leftrightarrow [(x \in A \vee x \in B) \vee x \in C] \Leftrightarrow x \in [(A \cup B) \cup C]. \end{aligned}$$

c) Z distributívnych zákonov pre  $\wedge$  a  $\vee$  vyplýva:

$$\begin{aligned} x \in [A \cap (B \cup C)] &\Leftrightarrow [x \in A \wedge (x \in B \vee x \in C)] \Leftrightarrow \\ &\Leftrightarrow [(x \in A \wedge x \in B) \vee (x \in A \wedge x \in C)] \Leftrightarrow x \in [(A \cap B) \cup (A \cap C)], \\ x \in [A \cup (B \cap C)] &\Leftrightarrow [x \in A \vee (x \in B \wedge x \in C)] \Leftrightarrow \\ &\Leftrightarrow [(x \in A \vee x \in B) \wedge (x \in A \vee x \in C)] \Leftrightarrow x \in [(A \cup B) \cap (A \cup C)]. \blacksquare \end{aligned}$$

**Veta 1.3.3.**

$X \neq \emptyset, A, B \subset X \implies$

- a)  $(A \cap B)' = A' \cup B', \quad (A \cup B)' = A' \cap B', \quad \text{b) } X' = \emptyset, \quad \emptyset' = X, \quad \text{c) } (A')' = A.$

**Dôkaz.**

a) Tieto rovnosti nazývame **de Morganove zákony** a vyplývajú zo vzťahov:

$$\begin{aligned} x \in (A \cap B)' &\Leftrightarrow \text{non } (x \in A \wedge x \in B) \Leftrightarrow x \notin A \vee x \notin B \Leftrightarrow x \in A' \vee x \in B' \Leftrightarrow x \in (A' \cup B'). \\ x \in (A \cup B)' &\Leftrightarrow \text{non } (x \in A \vee x \in B) \Leftrightarrow x \notin A \wedge x \notin B \Leftrightarrow x \in A' \wedge x \in B' \Leftrightarrow x \in (A' \cap B'). \end{aligned}$$

b) Vyplýva zo vzťahov:  $x \in X' \Leftrightarrow x \notin X \Leftrightarrow x \in \emptyset$  a  $x \in \emptyset' \Leftrightarrow x \notin \emptyset \Leftrightarrow x \in X.$

c) Vyplýva zo vzťahov:  $x \in (A')' \Leftrightarrow x \notin A' \Leftrightarrow x \in A. \blacksquare$

Pre konečný systém množín  $A_1, A_2, \dots, A_n, n \in N$  a pre nekonečný systém množín  $A_1, A_2, A_3, \dots$  majú de Morganove zákony tvar:

$$\left[ \bigcap_{k=1}^n A_k \right]' = \bigcup_{k=1}^n A_k', \quad \left[ \bigcup_{k=1}^n A_k \right]' = \bigcap_{k=1}^n A_k', \quad \left[ \bigcap_{k=1}^{\infty} A_k \right]' = \bigcup_{k=1}^{\infty} A_k', \quad \left[ \bigcup_{k=1}^{\infty} A_k \right]' = \bigcap_{k=1}^{\infty} A_k'.$$

**1.3.2 Zobrazenie množín**

Nech  $A \neq \emptyset, B \neq \emptyset$ . **Binárnou reláciou medzi množinami  $A$  a  $B$**  nazývame každú podmnožinu karteziánskeho súčinu  $A \times B$ . Slovo binárna často vynechávame. Ak  $T \subset A \times B$ , potom skutočnosť, že prvok  $[x; y]$  patrí do relácie  $T$ , zapisujeme  $[x; y] \in T$ , resp.  $xTy$ .

Hovoríme, že binárna relácia  $T \subset A \times A$  je **reláciou ekvivalencie<sup>7</sup> na množine  $A$** , ak je reflexívna, symetrická a tranzitívna na množine  $A$ , t. j. ak pre všetky  $x, y, z \in A$  platí:

$$\begin{array}{ll} \text{reflexívnosť:} & [x; x] \in T, & \text{resp.} & xTx, \\ \text{symetria:} & [x; y] \in T \Leftrightarrow [y; x] \in T, & & xTy \Leftrightarrow yTx, \\ \text{tranzitívnosť:} & ([x; y] \in T \wedge [y; z] \in T) \Rightarrow [x; z] \in T, & & (xTy \wedge yTz) \Rightarrow xTz. \end{array}$$

<sup>7</sup>Je potrebné ju odlišovať od logickej operácie ekvivalencie.

Jedným zo základných pojmov v matematike je pojem zobrazenie (v matematickej analýze sa uprednostňuje názov funkcia). Nech  $A \neq \emptyset$ ,  $B \neq \emptyset$ . **Zobrazením (funkciou) z množiny  $A$  do množiny  $B$**  nazývame každú reláciu  $f \subset A \times B$  takú, že pre každé  $x \in A$  existuje najviac jedno  $y \in B$ , že  $[x; y] \in f$ .

Prvok  $x \in A$  sa nazýva **vzor (nezávislá premenná)**. Príslušné  $y = f(x)$  sa nazýva **obraz prvku  $x$  v zobrazení  $f$  (závislá premenná)**, resp. **hodnota zobrazenia  $f$  v bode  $x$  (funkčná hodnota v bode  $x$ )**.

Množinu  $D(f)$  všetkých  $x \in A$ , pre ktoré existuje  $y = f(x) \in B$ , nazývame **definičný obor zobrazenia  $f$** . Množinu  $H(f)$  všetkých obrazov  $y \in B$ , pre ktoré existuje vzor  $x \in A$  taký, že  $y = f(x)$ , nazývame **obor hodnôt zobrazenia  $f$** . To znamená, že

$$D(f) = \{x \in A; \exists y \in B: [x; y] \in f\}, \quad H(f) = \{y \in B; \exists x \in D(f): [x; y] \in f\}.$$

Namiesto zápisov  $[x; y] \in f$  a  $xfy$  sa častejšie používajú zápisy

$$f: x \mapsto y, \quad \text{resp. } y = f(x), \quad \text{resp. } y = f(x): D(f) \rightarrow B.$$

Ak  $D(f) = A$ , t. j. ku každému  $x \in A$  existuje  $y \in B$ , potom  $f$  nazývame **zobrazenie zobrazujúce množinu  $A$  do množiny  $B$**  a značíme  $y = f(x): A \rightarrow B$ , resp.  $f: A \rightarrow B$ .

Nech  $C \subset D(f)$ , potom množinu  $f(C) = \{f(x); x \in C\}$  nazývame **obraz množiny  $C$  v zobrazení  $f$** .

### Poznámka 1.3.1.

Ak definičný obor nie je zadany, potom pod  $D(f)$  rozumieme množinu všetkých  $x$ , pre ktoré existuje  $y = f(x)$  (t. j. maximálnu možnú množinu vzorov).

Obor hodnôt funkcie  $f$  je množina  $H(f) = \{f(x); x \in D(f)\}$ , takže zápisom  $y = f(x)$ ,  $x \in D(f)$  je zároveň určený aj obor hodnôt  $H(f)$ . To znamená, že zápis  $y = f(x)$ ,  $x \in D(f)$  a zápis  $y = f(x): D(f) \rightarrow H(f)$  sú ekvivalentné.

### Príklad 1.3.2.

a) Relácia  $f = \{[x; y] \in \mathbb{R}^2; \sin y = x\}$  nie je zobrazenie (funkcia), pretože vzor  $x = 0$  má dva obrazy  $y = 0$  a  $y = \pi$ , t. j.  $[0; 0] \in f$ ,  $[0; \pi] \in f$ .

b) Relácia  $f = \{[x; y] \in \mathbb{R}^2; x^2 + y^2 = -1\}$  je zobrazenie, pretože  $f = \emptyset$  a  $[x; y]$  s danými vlastnosťami neexistuje. T. j. každému vzoru je priradený najviac jeden obraz. ■

Hovoríme, že  $f: A \rightarrow B$  je **injektívne zobrazenie (injekcia, prosté zobrazenie)**, ak dvom rôznym vzorom z množiny  $A$  prislúchajú rôzne obrazy z množiny  $B$ , t. j. ak rovnaké obrazy majú rovnaké vzory (obrátená implikácia). Symbolicky to môžeme vyjadriť:

$$\forall x_1, x_2 \in A: x_1 \neq x_2 \Rightarrow f(x_1) \neq f(x_2), \quad \text{t. j. } \forall x_1, x_2 \in A: f(x_1) = f(x_2) \Rightarrow x_1 = x_2.$$

Hovoríme, že  $f: A \rightarrow B$  je **surjektívne zobrazenie (surjekcia, zobrazenie na množinu  $B$ )**, ak ku každému obrazu z množiny  $B$  existuje vzor z množiny  $A$ , t. j. ak  $f(A) = B$ . To znamená, ak platí:  $\forall y \in B \exists x \in A: y = f(x)$ .

Hovoríme, že  $f: A \rightarrow B$  je **bijektívne zobrazenie (bijekcia, jednojednoznačné zobrazenie)**, ak je injektívne a zároveň surjektívne (prosté na množinu  $B$ ), t. j. ak

$$\forall [x_1; y_1], [x_2; y_2] \in f: y_1 = y_2 \Rightarrow x_1 = x_2, \quad \forall y \in B \exists x \in A: [x; y] \in f.$$

Je zrejmé, že ak je zobrazenie  $y = f(x)$ ,  $x \in D(f)$ , t. j.  $f: D(f) \rightarrow H(f)$  injektívne, potom je zároveň aj surjektívne, t. j. je bijektívne.

**Príklad 1.3.3.**

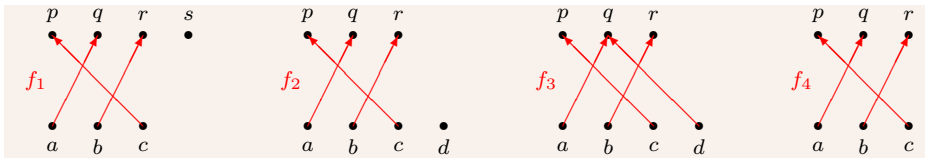
Nech  $A_1 = \{a, b, c\}$ ,  $A_2 = \{a, b, c, d\}$ ,  $B_1 = \{p, q, r, s\}$ ,  $B_2 = \{p, q, r\}$ .

$f_1 = \{[a; q], [b; r], [c; p]\} : A_1 \rightarrow B_1$  je injekcia, ale nie je surjekcia ( $s$  nemá vzor).

$f_2 = \{[a; q], [b; r], [c; p]\} : A_2 \rightarrow B_2$  je surjekcia, ale nie je injekcia ( $d$  nemá obraz).

$f_3 = \{[a; q], [b; r], [c; p], [d; q]\} : A_2 \rightarrow B_2$  je surjekcia, ale nie je injekcia ( $f_3(a) = f_3(d)$ ).

$f_4 = \{[a; q], [b; r], [c; p]\} : A_1 \rightarrow B_2$  je bijekcia, t. j. injekcia a surjekcia (obr. 1.3.2). ■



Obr. 1.3.2: Injekcia  $f_1$ , surjekcie  $f_2, f_3$  a bijekcia  $f_4$  z príkladu 1.3.3

**Príklad 1.3.4.**

Označme  $f(x) = \sqrt{x}$ , potom  $f: \langle 0; \infty \rangle \rightarrow \langle 0; \infty \rangle$  je bijekcia.

$f: R \rightarrow R$  nie je injekcia ani surjekcia ( $x = -1$  nemá obraz,  $y = -1$  nemá vzor).

$f: \langle 0; 4 \rangle \rightarrow \langle 0; 1 \rangle$  nie je injekcia, je surjekcia ( $x = 3$  nemá obraz).

$f: \langle 0; 2 \rangle \rightarrow \langle 0; 4 \rangle$  je injekcia, nie je surjekcia ( $y = 3$  nemá vzor). ■

Zobrazenia sú množiny usporiadaných dvojíc, takže **ich rovnosť musíme chápať ako rovnosť množín**. Inými slovami  $f = g$  práve vtedy, ak  $[x; y] \in f \Leftrightarrow [x; y] \in g$ . To znamená, že **zobrazenie  $f$ ,  $x \in D(f)$  sa rovná zobrazeniu  $g$ ,  $x \in D(g)$**  práve vtedy, ak  $D(f) = D(g)$  a pre všetky  $x \in D(f)$  platí  $f(x) = g(x)$ .

Nech  $M \subset D(f) \cap D(g)$ , potom **zobrazenie  $f$ ,  $x \in D(f)$  sa rovná zobrazeniu  $g$ ,  $x \in D(g)$  na množine  $M$**  práve vtedy, ak pre všetky  $x \in M$  platí  $f(x) = g(x)$ .

**Príklad 1.3.5.**

Nech  $f(x) = x^2$ ,  $g(x) = |x|^2$ ,  $h(x) = \frac{x^3}{x}$ .

Platí  $f = g$ ,  $f \neq h$ , pretože  $D(f) = D(g) = R$ ,  $D(h) = R - \{0\}$  a pre všetky  $x \in R$ :  $x^2 = |x|^2$ .

Na druhej strane  $f = h$  na množine  $D(h)$ , pretože pre všetky  $x \in D(h)$ :  $x^2 = \frac{x^3}{x}$ . ■

Nech  $f: A \rightarrow B$ ,  $g: C \rightarrow D$ , pričom  $H(f) \subset C$ . Potom zobrazenie  $F: A \rightarrow D$ , ktoré každému  $x \in A$  priradí hodnotu  $z = g(y) \in D$ , kde  $y = f(x)$ , nazývame **zložené zobrazenie (kompozícia, resp. zloženie) zobrazení  $f$  a  $g$** . Zložené zobrazenie zapisujeme

$$F = g \circ f = f \circ g, \quad \text{resp.} \quad F(x) = g[f(x)] = [f \circ g](x), \quad x \in D(f).$$

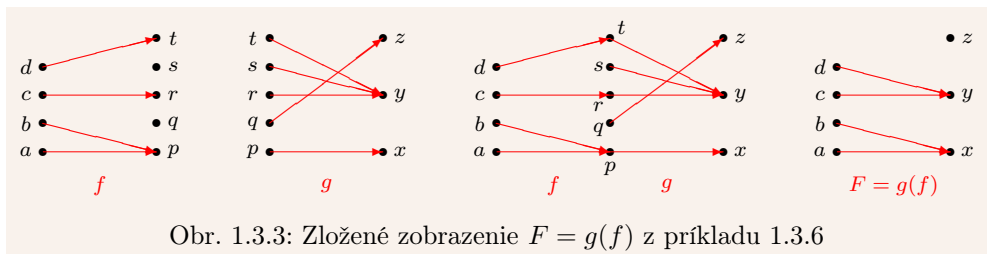
Zobrazenie  $f$  nazývame **vnútorná zložka** a  $g$  **vonkajšia zložka** zobrazenia  $g \circ f$ .

**Príklad 1.3.6.**

Nech  $g = \{[p; x], [q; z], [r; y], [s; y], [t; y]\}$ ,  $f = \{[a; p], [b; p], [c; r], [d; t]\}$ .  $\Rightarrow$

$F(a) = g[f(a)] = g(p) = x$ ,  $F(b) = g[f(b)] = g(p) = x$ ,  $F(c) = g[f(c)] = g(r) = y$ ,

$F(d) = g[f(d)] = g(t) = y \Rightarrow F = g \circ f = \{[a; x], [b; x], [c; y], [d; y]\}$  (obr. 1.3.3). ■

**Príklad 1.3.7.**

Ak  $f(x) = x^3: \mathbb{R} \rightarrow \mathbb{R}$ ,  $g(x) = \sin x: \mathbb{R} \rightarrow \langle -1; 1 \rangle$ , potom

$f[g(x)] = [g(x)]^3 = \sin^3 x: \mathbb{R} \rightarrow \langle -1; 1 \rangle$ ,  $g[f(x)] = \sin f(x) = \sin x^3: \mathbb{R} \rightarrow \langle -1; 1 \rangle$ . ■

**Veta 1.3.4.**

$f: A \rightarrow B$ ,  $g: B \rightarrow C$  sú bijekcie  $\implies F = g[f]: A \rightarrow C$  je bijekcia.

**Dôkaz.**

$f, g$  sú injekcie:  $x_1, x_2 \in A$ ,  $x_1 \neq x_2 \implies y_1 = f(x_1) \neq y_2 = f(x_2) \implies z_1 = g(y_1) \neq z_2 = g(y_2) \implies g(y_1) = g[f(x_1)] = F(x_1) \neq g(y_2) = g[f(x_2)] = F(x_2) \implies F$  je injekcia.

$g, f$  sú surjekcie:  $\forall z \in C \exists y \in B: z = g(y)$ ,  $\forall y \in B \exists x \in A: y = f(x) \implies \implies \forall z \in C \exists x \in A: z = g(y) = g[f(x)] = F(x) \implies F$  je surjekcia. ■

**Identickým zobrazením (identitou)** nazývame zobrazenie  $f(x) = x$ ,  $x \in D(f)$ . Je zrejmé, že identita je injektívna a zároveň surjektívna, t. j. bijektívna.

Ak je  $y = f(x): A \rightarrow B$  bijektívne, potom existuje zobrazenie  $x = f^{-1}(y): B \rightarrow A$  také, že platí  $[x; y] \in f \Leftrightarrow [y; x] \in f^{-1}$ . Zobrazenie  $f^{-1}$  nazývame **inverzným k zobrazeniu  $f$** .

**Príklad 1.3.8.**

a) Ak  $f(x) = 2x + 3: \mathbb{R} \rightarrow \mathbb{R}$ , potom  $f^{-1}(y) = \frac{y-3}{2}: \mathbb{R} \rightarrow \mathbb{R}$ , pretože platí:

$$[x; y] = [x; 2x+3] \in f \Leftrightarrow [y; x] = [2x+3; x] = [y; \frac{y-3}{2}] \in f^{-1}.$$

b) Ak  $f(x) = \cotg x: (0; \pi) \rightarrow \mathbb{R}$ , potom  $f^{-1}(x) = \operatorname{arccotg} x: \mathbb{R} \rightarrow (0; \pi)$ .

c) Ak  $f(x) = x: \mathbb{R} \rightarrow \mathbb{R}$ , potom  $f^{-1}(x) = x: \mathbb{R} \rightarrow \mathbb{R}$ , pretože  $[x; x] \in f \Leftrightarrow [x; x] \in f^{-1}$ . ■

**Veta 1.3.5.**

$f: A \rightarrow B$  je bijekcia  $\implies$  a)  $f^{-1}: B \rightarrow A$  je bijekcia, b)  $(f^{-1})^{-1} = f$ ,  
c)  $\forall y \in B: f[f^{-1}(y)] = y$ , d)  $\forall x \in A: f^{-1}[f(x)] = x$ .

**Dôkaz.**

a) Vyplýva z definície.

b)  $f: A \rightarrow B$ ,  $f^{-1}: B \rightarrow A$  sú bijekcie,  $x \in A$ ,  $y \in B \implies$

$$[x; y] \in f \Leftrightarrow [y; x] \in f^{-1}, [y; x] \in f^{-1} \Leftrightarrow [x; y] \in (f^{-1})^{-1} \implies f = (f^{-1})^{-1}.$$

c)  $y \in B \implies \exists x \in A: y = f(x)$ ,  $x = f^{-1}(y) \implies [x; y] = [f^{-1}(y); y] \in f \implies y = f[f^{-1}(y)]$ .

d)  $x \in A \implies \exists y \in B: y = f(x)$ ,  $x = f^{-1}(y) \implies [y; x] = [f(x); x] \in f^{-1} \implies x = f^{-1}[f(x)]$ . ■

**Postupnosťou** nazývame ľubovoľné zobrazenie  $f$  s definičným oborom  $N$ , t. j.

$$f = \{[n; f(n)]; n \in N\} = \{[1; f(1)], [2; f(2)], [3; f(3)], \dots, [n; f(n)], \dots\}.$$

Pre jednoduchosť označíme  $f(n) = a_n$ ,  $n \in N$  a postupnosť  $f$  budeme zapisovať

$$f = \{f(1), f(2), f(3), \dots, f(n), \dots\} = \{a_1, a_2, a_3, \dots, a_n, \dots\} = \{a_n\}_{n=1}^{\infty}.$$

kde  $a_n$ ,  $n \in N$  nazývame<sup>8</sup> **členy postupnosti**  $\{a_n\}_{n=1}^{\infty}$ . Obor hodnôt  $H(f)$ , t. j. množinu hodnôt, ktoré nadobúdajú  $a_n$ , nazývame **množina hodnôt postupnosti**  $\{a_n\}_{n=1}^{\infty}$ .

### 1.3.3 Mohutnosť množín

Hovoríme, že **množina  $A$  je ekvivalentná s množinou  $B$** , ozn.  $A \sim B$ , ak existuje bijekcia  $f: A \rightarrow B$ . Ak množiny  $A$  a  $B$  nie sú ekvivalentné, potom píšeme  $A \not\sim B$ .

Ak  $A \sim B$ , potom tiež hovoríme, že **množiny  $A$  a  $B$  majú rovnakú mohutnosť**. Ak existuje injekcia, ale neexistuje bijekcia (t. j. surjekcia)  $A \rightarrow B$ , hovoríme, že **množina  $A$  má menšiu mohutnosť ako množina  $B$** , resp.  **$B$  má väčšiu mohutnosť ako  $A$** .

#### Príklad 1.3.9.

- $\{1, 2, 3\} \sim \{a, b, c\}$ , pretože zobrazenie  $\{[1; a], [2; b], [3; c]\}$  je bijekcia.
- $N \sim Z$ , pretože zobrazenie  $f: N \rightarrow Z$  definované vzťahom  $f(n) = \frac{n}{2}$  pre  $n$  párne a vzťahom  $f(n) = \frac{1-n}{2}$  pre  $n$  nepárne je bijekcia.
- $N \not\sim R$ , pretože neexistuje bijekcia  $N \rightarrow R$  ( $N$  má menšiu mohutnosť ako  $R$ ).
- $(-\pi; \pi) \sim R$ , pretože zobrazenie  $f(x) = 2 \operatorname{tg} x: (-\pi; \pi) \rightarrow R$  je bijekcia. ■

Množina  $A$  sa nazýva **nekonečne spočítateľná**, ak je ekvivalentná s množinou prirodzených čísel, t. j. ak  $A \sim N$ . Ak je  $A$  nekonečne spočítateľná alebo konečná, nazývame ju **spočítateľná**. Ak  $A$  nie je spočítateľná, nazývame ju **nespočítateľná**.

#### Poznámka 1.3.2.

Množina môže byť konečná, nekonečná, spočítateľná alebo nespočítateľná (tab. 1.3.4). Množina  $A$  je konečná práve vtedy, ak je prázdna (t. j.  $A = \emptyset$ ) alebo je konečne spočítateľná (t. j.  $A \sim \{1, 2, \dots, n\}$ , kde  $n \in N$ ). Keď nie je konečná, potom je nekonečne spočítateľná (t. j.  $A \sim N = \{1, 2, 3, \dots\}$ ) alebo je nespočítateľná.

#### Veta 1.3.6.

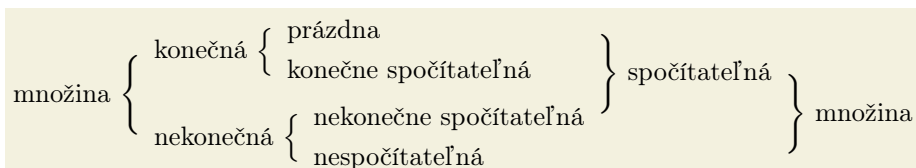
Množiny  $A, B$  sú spočítateľné  $\implies A \cup B, A \times B, C \subset A$  sú spočítateľné.

#### Príklad 1.3.10.

- Množina celých čísel  $Z$  je spočítateľná (príklad 1.3.9).
- Množina párnych prirodzených čísel  $\{2n; n \in N\}$  je spočítateľná, t. j.  $\{2n; n \in N\} \sim N$ .
- Množina hodnôt ľubovoľnej postupnosti  $\{a_n\}_{n=1}^{\infty}$  je konečná alebo konečne spočítateľná.
- Množiny  $N^2 = \{[n_1; n_2]; n_1, n_2 \in N\}$  a  $Q = \{\frac{m}{n}; m \in Z, n \in N\}$  sú spočítateľné.
- Nespočítateľné sú napríklad  $\langle a; b \rangle$ ,  $\langle a; b \rangle$ ,  $\langle a; b \rangle$ ,  $\langle a; b \rangle$  pre  $a < b$ ,  $R$ ,  $R^3$ ,  $I = R - Q$ . ■

<sup>8</sup>Každý člen  $a_n$ ,  $n \in N$  predstavuje usporiadanú dvojicu  $[n; a_n]$ , t. j. vzor  $a_n$  je určený jeho poradím.





Tabuľka 1.3.4: Konečná, nekonečná, spočítateľná, nespočítateľná množina

## Cvičenia

**1.3.1.** Nech  $X \neq \emptyset$ . Dokážte, že pre ľubovoľné množiny  $A, B, C \subset X$  platí:

- a)  $[(A \cap C) - B] \cup [(A \Delta B) - C] = \{[A \Delta B] \cup [C \cap (A - B)]\} - [B \cap (C - A)]$ ,  
 b)  $[(A \cap C) - B] \cup [(A \Delta B) - C] \subset (A - B) \cup (A \cup C)'$ .

**1.3.2.** Nech  $A = \{1, 2, 3, 4\}$ ,  $B = \{1, 2, 3, 4, 5\}$ . Nájdite potenčné množiny  $2^A$  a  $2^B$ . ♣

**1.3.3.** Nech  $n \in \mathbb{N}$  a nech  $A_n = \{1, 2, \dots, n\}$ . Koľko prvkov a koľko podmnožín majú množiny  $A_n, A_n^2, A_n^3, \dots, A_n^k$ , kde  $k \in \mathbb{N}$ ? ♣

**1.3.4.** Nech  $X \neq \emptyset$  a nech  $A, B, C \subset X$ . Ktoré z uvedených vzťahov sú pravdivé: ♣

- |                             |                             |                                   |
|-----------------------------|-----------------------------|-----------------------------------|
| a) $A \subset (A \cap B)$ , | b) $A \subset (A \cup B)$ , | c) $(A - B) \subset A$ ,          |
| d) $(A - B) \subset B$ ,    | e) $(A - B) \cup B = B$ ,   | f) $(A - B) \cap B = B$ ,         |
| g) $(A - B) \cup A = A$ ,   | h) $(A - B) \cap A = A$ ,   | i) $(A - B) \cup B = A$ ,         |
| j) $(A - B) \cap B = A$ ,   | k) $(A - B) \cap A = B$ ,   | l) $(A - B) \cap B = \emptyset$ . |

**1.3.5.** Nech  $X \neq \emptyset$  a nech pre množiny  $A, B, C, D \subset X$  platia vzťahy  $A \cup B' \subset C$ ,  $(A \cap B)' \cup D = A' \cup B$ . Zistite, aké sú vzťahy medzi množinami  $A' \cup C$ ,  $B \cup (D - A)'$ ,  $D \Delta (A \cap C)$ ,  $(D - B)'$  navzájom (rovnosť, podmnožina) a ich vzťah k množine  $X$ .

**1.3.6.** Nech  $A = \{1, 2, 3, 4\}$ ,  $B = \{a, b\}$ ,  $C = \{x, y, z\}$ . Napíšte všetky prvky množín  $A \times B$ ,  $A \times C$ ,  $A \times B \times C$ .

**1.3.7.** Nech  $A = \{x: x \in \mathbb{N}, x < 11\}$  a nech  $A_2, A_3, A_5 \subset A$  sú také, že  $A_2$  obsahuje všetky párne čísla,  $A_3$  obsahuje všetky čísla deliteľné tromi a  $A_5$  obsahuje všetky čísla deliteľné piatimi. Určte a graficky znázornite nasledujúce množiny: ♣

- |                                                            |                                                             |
|------------------------------------------------------------|-------------------------------------------------------------|
| a) $A_2 - A_3$ , $A_2 - A_5$ , $A_3 - A_5$ ,               | b) $A_3 - A_2$ , $A_5 - A_2$ , $A_5 - A_3$ ,                |
| c) $A_2 \cup A_3$ , $A_2 \cup A_5$ , $A_3 \cup A_5$ ,      | d) $A_2 \cap A_3$ , $A_2 \cap A_5$ , $A_3 \cap A_5$ ,       |
| e) $A_2 \cap A_3 \cap A_5$ , $A_2 \cup A_3 \cup A_5$ ,     | f) $A_2 \Delta A_3$ , $A_2 \Delta A_5$ , $A_3 \Delta A_5$ , |
| g) $(A_2 \cap A_3) \cup A_5$ , $(A_2 \cup A_3) \cap A_5$ , | h) $(A_2 \cap A_5) \cup A_3$ , $(A_2 \cup A_5) \cap A_3$ ,  |
| i) $(A_3 \cap A_5) \cup A_2$ , $(A_3 \cup A_5) \cap A_2$ , | j) $(A_3 - A_5) \cup A_2$ , $(A_3 - A_5) \cap A_2$ .        |

**1.3.8.** Nech  $X \neq \emptyset$ . Dokážte, že pre všetky  $A, B, C, D \subset X$  platí:

- |                                                      |                                                                           |
|------------------------------------------------------|---------------------------------------------------------------------------|
| a) $A \subset B \Leftrightarrow A \cup B = B$ ,      | b) $A \subset (A \cup B)$ , $(A \cap B) \subset A$ ,                      |
| c) $A \subset B \Leftrightarrow A - B = \emptyset$ , | d) $A \subset C, B \subset D \Rightarrow (A \cup B) \subset (C \cup D)$ , |
| e) $A \subset B \Leftrightarrow A \cap B = A$ ,      | f) $A \subset C, B \subset D \Rightarrow (A \cap B) \subset (C \cap D)$ . |

1.3.9. Nech  $X \neq \emptyset$  a nech  $A, B, C, D \subset X$ . Zistite, ktoré z rovností sú pravdivé: ♣

- a)  $(A \times B) \cap (C \times D) = (A \cap C) \times (B \cap D)$ ,  
 b)  $(A \times B) \cup (C \times D) = (A \cup C) \times (B \cup D)$ .

1.3.10. Uvažujme množiny  $A = \{1, 2, 3, 5, 7\}$ ,  $B = \{1, 3, 7, 9\}$ . Rozhodnite, či množiny: ♣

- a)  $f_1 = \{[1; 1], [1; 3], [3; 1]\}$ ,                      b)  $f_2 = \{[2; 3], [3; 2], [1; 7], [7; 9]\}$ ,  
 c)  $f_3 = \{[1; 1], [3; 3], [7; 7], [7; 9]\}$ ,                      d)  $f_4 = \{[1; 1], [1; 3], [1; 7], [1; 9]\}$   
 sú reláciami medzi  $A$  a  $B$ , resp.  $B$  a  $A$ . Zistite, v ktorých prípadoch sú zobrazením.

1.3.11. Nech je daná množina  $A = \{a, b, c, d, e\}$ . Definujte reláciu  $f \in A^2$  tak, aby bola: ♣

- a) reflexívna, symetrická, tranzitívna,                      b) reflexívna, symetrická, nie tranzitívna,  
 c) reflexívna, tranzitívna, nie symetrická,                      d) symetrická, tranzitívna, nie reflexívna.

1.3.12. Rozhodnite, ktoré z množín sú spočítateľné a ktoré nespočítateľné: ♣

- a)  $(0; 1) \cap \mathbb{Q}$ ,                      b)  $(0; 1) \cap \mathbb{I}$ ,                      c)  $(0; 1) \times \{0, 1\}$ ,                      d)  $(0; 1) \times \mathbb{Q}$ .

*„Tati, bila tě někdy tvoje maminka?“                      „Ne, jenom tvoje.“  
 úryvok z filmu **SLUNCE, SENO A PÁR FACEK***

*Ach milí priatelia, priatelia neexistujú!  
**ARISTOTELES***

*„Múdrejší ustúpi!“ — Smutná pravda, zdôvodňuje nadvládu hlúposti nad svetom.*

***MARIE von EBNER-ESCHENBACHOVÁ***

*Nerád sa miešam do svojich súkromných záležitostí.  
**KARL KRAUS***

*Vyhľadávanie ľudských chýb je jediná zábava, z ktorej sa možno tešiť zadarmo.*

***MAXIM GORKIJ***

*Škola rozvíja všetky vlohы, vrátane hlúposti.  
**ANTON PAVLOVIČ ČECHOV***

*Aj tie najkrajšie nohy niekde končia.  
**JULIUS TUWIM***

*Mám rád prácu, priam ma fascinuje. Celé hodiny sa vydržím na ňu dívať.  
**JEROME K. JEROME***

*Niektoré charaktery sú nezlomné, pretože sú pružné.  
**STANISŁAV JERZY LEC***

*Čakal som to, ale nie tak skoro!  
**NÁHROBNÝ NÁPIS***

# Kapitola 2

## Reálne čísla

### 2.1 Algebraické vlastnosti reálnych čísel

Ak hovoríme o množine reálnych čísel, nemyslíme tým iba čísla, ale aj ich porovnávanie a operácie na nich definované (sčítanie, odčítanie, násobenie).

Nech  $A$  je neprázdna množina. Zobrazenie, ktoré každej usporiadanej dvojici  $[a; b] \in A^2$  priradí ďalší prvok z  $A$  nazývame **binárna operácia (definovaná) na množine  $A$** . Výsledok binárnej operácie  $\varphi$  označujeme  $\varphi(a, b)$ , resp.  $a\varphi b$ . V praxi sa mnohé binárne operácie označujú špeciálnymi symbolmi, napr.  $+$ ,  $-$ ,  $\cup$ ,  $\cap$ ,  $\wedge$  a podobne.<sup>1</sup>

#### Príklad 2.1.1.

Nech  $X \neq \emptyset$  a nech  $2^X = \{A; A \subset X\}$ . Symboly  $\cup$ ,  $\cap$ ,  $-$ ,  $\Delta$  predstavujú binárne operácie  $2^X \times 2^X \rightarrow 2^X$ . Doplnok množiny je unárna operácia  $2^X \rightarrow 2^X$ . ■

Jedným zo základných pojmov, s ktorým sa stále stretávame, je **číslo**. Pojem čísla je intuitívne jasný asi každému človeku. Medzi najvšeobecnejšie číselné množiny patrí **množina komplexných čísel  $C$** , ktorá obsahuje tzv. **imaginárnu jednotku** i s vlastnosťou  $i^2 = -1$ . Najdôležitejšou číselnou množinou je jej podmnožina, ktorú nazývame **množina reálnych čísel** a označujeme  $R$ . Množinu reálnych čísel definujeme ako celok s reláciami, operáciami a ich vlastnosťami. Zadávame ich pomocou tzv. **axióm reálnych čísel**. Pokiaľ nepovieme ináč, budeme pod pojmom **číslo** rozumieť číslo reálne.

Základným vzťahom medzi číslami je **rovnosť** „ $=$ “. Hovoríme, že **číslo  $a$  sa rovná číslu  $b$  (čísla  $a, b$  sa rovnajú)**, ozn.  $a=b$ , ak výrazy  $a, b$  vyjadrujú to isté číslo. V opačnom prípade hovoríme, že **číslo  $a$  sa nerovná číslu  $b$  (čísla  $a, b$  sa nerovnajú)** a zapisujeme  $a \neq b$ . Rovnosť je reláciou ekvivalencie na  $R$ , t. j. pre všetky  $a, b, c \in R$  platí:

$$a = a, \quad a = b \Leftrightarrow b = a, \quad (a = b \wedge b = c) \Rightarrow a = c.$$

**Sčítanie** „ $+$ “ je binárna operácia, ktorá číslam  $a, b$  (**sčítancom**) priradí číslo  $a + b$ , tzv. **súčet čísel  $a$  a  $b$** . **Násobenie** „ $\cdot$ “ je binárna operácia, ktorá číslam  $a, b$  (**činiteľom**)

<sup>1</sup> $\varphi: A^n \rightarrow A, n \in \mathbb{N}$  nazývame  **$n$ -nárna operácia** Ak  $n=1$ , potom hovoríme o **unárnej operácii**.

priradí číslo  $a \cdot b = ab$ , tzv. **súčinn číslo  $a$  a  $b$** . Pre všetky  $a, b, c \in R$  platí:

$$\begin{array}{ll} (S_1) & a + b = b + a, & (N_1) & a \cdot b = b \cdot a, \\ (S_2) & (a + b) + c = a + (b + c), & (N_2) & (a \cdot b) \cdot c = a \cdot (b \cdot c), \\ (S_3) & \exists! 0 \in R \quad \forall a \in R: a = a + 0, & (N_3) & \exists! 1 \in R \quad \forall a \in R: a = a \cdot 1, \\ (S_4) & \forall a \in R \quad \exists! x \in R: 0 = a + x, & (N_4) & \forall a \in R, a \neq 0 \quad \exists! y \in R: 1 = a \cdot y, \\ (D) & (a + b)c = (ac) + (bc) = ac + bc. \end{array}$$

Axiómy  $(S_1)$  a  $(N_1)$  nazývame **komutatívny zákon**,  $(S_2)$  a  $(N_2)$  nazývame **asocia-tívny zákon**. Číslo 0 nazývame **nula (nulový prvok)**,  $x$  nazývame **opačné číslo k číslu  $a$**  a značíme  $x = -a$ . Číslo 1 nazývame **jednotka (jednotkový prvok)**,  $y$  nazývame **inverzné (obrátené) číslo k číslu  $a$**  a značíme  $a^{-1} = 1/a = \frac{1}{a}$ . Axiómu  $(D)$  nazývame **distributívny zákon násobenia vzhľadom na sčítanie**.

**Odčítanie** „-“ je binárna operácia, ktorá číslam  $a$  (**menšenec**),  $b$  (**menšiteľ**) priradí  $x \in R$  také, že  $b + x = a$ . Číslo  $x = a + (-b) = a - b$  nazývame **rozdiel čísel  $a$  a  $b$** . **Delenie** „/“ je binárna operácia, ktorá číslam  $a$  (**delenec**),  $b \neq 0$  (**deliteľ**) priradí  $y \in R$  také, že  $by = a$ . Výsledok  $y = ab^{-1} = a : b = a/b = \frac{a}{b}$  nazývame **podiel čísel  $a$  a  $b$** , resp. **zlomok s čitateľom  $a$  a menovateľom  $b$** . Nech  $a, b, c, d \in R$ ,  $b \neq 0$ ,  $d \neq 0$ , potom platí:<sup>2</sup>

$$\frac{a}{b} = \frac{c}{d} \Leftrightarrow ad = bc, \quad \frac{a}{b} + \frac{c}{d} = \frac{ad+bc}{bd}.$$

Reálne čísla môžeme porovnávať a usporiadať podľa veľkosti pomocou relácie usporiadania **menší** „<“, resp. **väčší** „>“. Výrazy  $a < b$  ( **$a$  je menšie ako  $b$** ),  $b > a$  ( **$b$  je väčšie ako  $a$** ) sú ekvivalentné. Nech  $a, b, c \in R$ , potom platí:

$$\begin{array}{ll} (U_1) & \text{Platí práve jeden zo vzťahov } a < b, \quad a = b, \quad b < a, \\ (U_2) & (a < b \wedge b < c) \Rightarrow a < c, & (U_3) & a \not< a, \text{ t. j. neplatí } a < a, \\ (U_4) & a < b \Rightarrow a + c < b + c, & (U_5) & (a < b \wedge 0 < c) \Rightarrow ac < bc. \end{array}$$

Ak binárna relácia  $T$  definovaná na  $A \neq \emptyset$  spĺňa  $(U_1)$ ,  $(U_2)$ ,  $(U_3)$ , potom ju nazývame **usporiadanie** a množinu  $A$  **usporiadaná**. Je zrejmé, že  $R$ ,  $N$ ,  $Z$ ,  $Q$  sú usporiadané.

Ak platí  $a = b$  alebo  $a < b$ , resp.  $a > b$ , potom stručne píšeme  $a \leq b$  ( **$a$  je menšie alebo rovné  $b$** ), resp.  $a \geq b$  ( **$a$  je väčšie alebo rovné  $b$** ). Tieto nerovnosti nazývame **neostré**. Nerovnosti  $<$ ,  $>$  nazývame **ostré**.

Reálne číslo  $x > 0$  sa nazýva **kladné**,  $x \geq 0$  sa nazýva **nezáporné**,  $x < 0$  **záporné** a  $x \leq 0$  **nekladné**. Číslo 0 je nezáporné a nekladné. Špeciálne označujeme

$$R^+ = \{x \in R; x > 0\}, \quad R^- = \{x \in R; x < 0\}, \quad R_0^+ = \{x \in R; x \geq 0\}, \quad R_0^- = \{x \in R; x \leq 0\}.$$

Nech  $A \subset R$ . Ak pre všetky  $x \in A$  platí  $x \leq a$  [resp.  $b \leq x$ ], potom číslo  $a \in R$  [resp.  $b \in R$ ] nazývame **horné** [resp. **dolné**] **ohraničenie množiny  $A$** . Množinu  $A$  nazývame **zhora** [resp. **zdola**] **ohraničená**. Ak je  $A$  ohraničená zdola a aj zhora, potom sa nazýva **ohraničená**. Ak množina  $A$  nie je ohraničená zhora [resp. zdola], nazýva sa **neohraničená zhora** [resp. **neohraničená zdola**]. Ak  $A$  nie je ohraničená, t. j. nie je ohraničená zhora alebo nie je ohraničená zdola, nazýva sa **neohraničená**.

<sup>2</sup>Rovnosť dvoch zlomkov, resp. **úprava dvoch zlomkov na spoločného menovateľa**.

Nech  $A \subset R$ . Ak  $a \in R$  je horné [resp. dolné] ohraničenie množiny  $A$  a zároveň  $a \in A$ , potom  $a$  nazývame **najväčší prvok (maximum)** [resp. **najmenší prvok (minimum)**] množiny  $A$  a označujeme  $a = \max A$  [resp.  $a = \min A$ ].

Najmenšie z horných ohraničení nazývame **suprémum** a najväčšie z dolných ohraničení nazývame **infimum množiny  $A$** , označujeme  $\sup A$  a  $\inf A$ . Potom platí:<sup>3</sup>

$$\begin{aligned} \alpha = \sup A &\iff \text{i) } \forall x \in A: x \leq \alpha, \quad \text{ii) } \forall b \in R: (\forall x \in A: x \leq b) \Rightarrow \alpha \leq b, \\ \beta = \inf A &\iff \text{i) } \forall x \in A: \beta \leq x, \quad \text{ii) } \forall b \in R: (\forall x \in A: b \leq x) \Rightarrow b \leq \beta. \end{aligned}$$

Jednou zo základných axióm je **axióma o najmenšom hornom ohraničení**: „Každá neprázdna zhora ohraničená množina reálnych čísel má suprémum patriace do  $R$ .“, t. j.

$$\forall A \subset R, A \neq \emptyset: (\exists a \in R \forall x \in A: x \leq a) \implies \exists \alpha = \sup A \in R. \quad (\text{AH})$$

### 2.1.1 Číselné množiny

Čísla  $1, 2 = 1 + 1, 3 = 2 + 1, 4 = 3 + 1, \dots, n = (n - 1) + 1, \dots$  nazývame **prirodzené**. Množinu všetkých prirodzených čísel označujeme  $N$ . Symbolicky ju môžeme vyjadriť

$$N = \{1, 2, 3, \dots, n, n + 1, n + 2, \dots\}.$$

**Celými číslami** nazývame čísla, ktoré sa dajú zapísať ako rozdiel dvoch prirodzených čísel. Množinu všetkých celých čísel označujeme  $Z$ . Do množiny  $Z$  patria všetky prirodzené čísla, všetky čísla k nim opačné a číslo 0. To znamená, že platí:<sup>4</sup>

$$Z = \{m - n; m, n \in N\} = \{0, \pm 1, \pm 2, \pm 3, \dots, \pm n, \dots\}.$$

V množine  $Z$  nie je vo všeobecnosti definovaný podiel čísel. Každé číslo, ktoré sa dá vyjadriť ako  $m/n$ , kde  $m \in Z, n \in N$  sa nazýva **racionálne číslo**. Množinu všetkých racionálnych čísel označujeme  $Q$ . Čísla, ktoré nie sú racionálne, nazývame **iracionálne** (napr.  $\sqrt{2}, e, \pi$ ). Množinu všetkých iracionálnych čísel označujeme  $I$ . Platí:

$$Q = \left\{ \frac{m}{n}; m, n \in Z, n \neq 0 \right\} = \left\{ \frac{m}{n}; m \in Z, n \in N \right\}, \quad I = R - Q.$$

Je zrejmé, že súčin a podiel dvoch racionálnych čísel (s nenulovým menovateľom) je opäť racionálne číslo. Racionálne číslo môže mať viacero rôznych vyjadrení, napr.:

$$0,5 = \frac{3}{6} = \frac{1}{2} = \frac{0,7}{1,4} \quad \text{a v konečnom dôsledku aj } \frac{1}{2} = \frac{\sqrt{3}}{2\sqrt{3}}.$$

Na druhej strane súčin a podiel dvoch iracionálnych čísel môže byť rôzny:

$$\sqrt{2} \cdot \sqrt{2} = 2 \in Q, \quad \sqrt{2} \cdot \sqrt{3} = \sqrt{6} \in I, \quad \frac{\sqrt{8}}{\sqrt{2}} = \sqrt{4} = 2 \in Q, \quad \frac{\sqrt{6}}{\sqrt{2}} = \sqrt{3} \in I.$$

#### Príklad 2.1.2.

Dokážte, že  $\sqrt{2}$  je iracionálne číslo.

#### Riešenie.

Sporom.  $\sqrt{2} \in Q \implies \sqrt{2} = \frac{m}{n}, m, n \in N$  sú nesúdeliteľné  $\implies 2 = \frac{m^2}{n^2} \implies 2n^2 = m^2 \implies 2 \mid m \implies m = 2k, k \in N \implies 2n^2 = m^2 = 4k^2 \implies n^2 = 2k^2 \implies 2 \mid n \implies 2 \mid m$  a  $2 \mid n \implies m, n$  sú súdeliteľné číslom 2 (spor)  $\implies \sqrt{2} \notin Q$ . ■

<sup>3</sup>Pre sup: i)  $\alpha$  je horné ohraničenie, ii) každé iné horné ohraničenie  $b$  je väčšie ako  $\alpha$ , t. j.  $\alpha$  je najmenšie.

<sup>4</sup>Symbol  $\pm n$  vyjadruje číslo  $n$  a zároveň opačné číslo  $-n$ . V praxi sa používa tiež symbol  $\mp n$ .

**Príklad 2.1.3.**

Množina  $N$  je zdola ohraničená a zhora neohraničená, t. j. nie je ohraničená.

Množina  $Z$  je zhora aj zdola neohraničená. ■

**Veta 2.1.1.**

$A \subset R, A \neq \emptyset \implies \min A = \inf A, \max A = \sup A$  (pokiaľ  $\min$ , resp.  $\max$  existujú).

**Dôkaz.**

Dokážeme pre  $\max$ , pre  $\min$  je dôkaz analogický. Z definície suprema vyplýva:

i)  $\sup: \max A \in A \implies \max A \leq \sup A$   
 ii)  $\sup: \max A$  je horné ohraničenie  $A \implies \sup A \leq \max A$  }  $\implies \max A = \sup A$ . ■

Aj keď je množina reálnych čísel  $R$  nekonečná, všetky jej prvky sú konečné, pretože pod pojmom číslo rozumieme **konečné číslo**. To znamená, že počet prvkov množiny  $R$  nemôžeme vyjadriť číslom. Preto má zmysel rozšíriť množinu  $R$  o prvky **mínus nekonečno** a **(plus) nekonečno**, ktoré označujeme symbolmi  $-\infty$  a  $\infty$ . Túto množinu nazývame **rozšírená množina reálnych čísel** a značíme  $R^* = R \cup \{-\infty, \infty\}$ .

Operácie a relácie, definované na  $R$ , môžeme čiastočne rozšíriť aj na množinu  $R^*$ . Pre všetky  $a \in R$  platí  $-\infty < a < \infty$ . Pre všetky  $a, b \in R, b > 0$  definujeme výrazy:

$$\begin{aligned} \infty + \infty = \infty, \quad -\infty - \infty = -\infty, \quad a \pm \infty = \pm\infty, \quad \pm\infty \cdot \infty = \pm\infty, \quad -\infty \cdot (-\infty) = \infty, \\ \pm b \cdot \infty = \pm\infty, \quad \pm b \cdot (-\infty) = \mp\infty, \quad \frac{a}{\pm\infty} = 0, \quad \frac{\infty}{\pm b} = \pm\infty, \quad \frac{-\infty}{\pm b} = \mp\infty. \end{aligned}$$

Nedefinujeme výrazy (nazývajú sa **neurčité** a bližšie sa im venujeme na strane 105):

$$\infty - \infty, \quad \pm\infty \cdot 0, \quad \frac{\pm\infty}{\infty}, \quad \frac{\infty}{\pm\infty}, \quad \frac{\pm\infty}{0}, \quad \frac{a}{0}.$$

Z definície infima a suprema je zřejmé, že každá množina  $A \subset R$  môže mať najviac jedno infimum a najviac jedno supremum. Ak je množina  $A$  zhora ohraničená, potom na základe axiomy (AH) platí  $\sup A \in R$ . V opačnom prípade definujeme  $\sup A = \infty$ .

Analogicky ak je množina  $A$  zdola ohraničená, potom  $\inf A \in R$  a v opačnom prípade pre množinu  $A$  neohraničenú zdola definujeme  $\inf A = -\infty$ .

Nech  $A \subset R, c \in R$ , potom označme symbolmi  $-A, cA$  množiny:

$$-A = \{-x; x \in A\} = \{x; -x \in A\}, \quad cA = \{cx; x \in A\}.$$

**Veta 2.1.2.**

Ak  $A \subset R$ , potom platí:  $\alpha = \sup A \Leftrightarrow -\alpha = \inf(-A), \quad \beta = \inf A \Leftrightarrow -\beta = \sup(-A)$ .

**Veta 2.1.3.**

$A \subset B \subset R, A \neq \emptyset, B \neq \emptyset \implies \inf B \leq \inf A, \quad \sup A \leq \sup B$ .

Dôkazy predchádzajúcich viet vyplývajú z definície infima a suprema. ■

**Intervaly** a ich zjednotenia sú najčastejšími množinami, s ktorými pracujeme.

Nech  $a, b \in R, a < b$ , potom **ohraničenými intervalmi s krajnými bodmi  $a$  a  $b$**  (ľavým  $a$ , pravým  $b$ ) nazývame nasledujúce množiny:

$$\begin{aligned} \langle a; b \rangle &= \{x \in R; a \leq x \leq b\} && \text{uzavretý interval,} \\ \langle a; b \rangle &= \{x \in R; a \leq x < b\} && \text{zľava uzavretý a sprava otvorený interval,} \end{aligned}$$

$$\begin{aligned} (a; b) &= \{x \in R; a < x \leq b\} && \text{zľava otvorený a sprava uzavretý interval,}^5 \\ (a; b) &= \{x \in R; a < x < b\} && \text{otvorený interval.} \end{aligned}$$

Ak  $I$  je ohraničený interval, potom **dĺžkou intervalu**  $I$  nazývame číslo  $d_I = b - a$ .

Nech  $a \in R$ . **Neohraničenými intervalmi** nazývame množiny:

$$\begin{aligned} (-\infty; a) &= \{x \in R; x \leq a\}, & \langle a; \infty \rangle &= \{x \in R; a \leq x\}, \\ (-\infty; a) &= \{x \in R; x < a\}, & (a; \infty) &= \{x \in R; a < x\}. \end{aligned}$$

Množinu  $R$  zvykneme zapisovať ako neohraničený interval  $(-\infty; \infty) = \{x \in R\} = R$ .

Všetky predchádzajúce intervaly nazývame **nedegenerované**. Pokiaľ nebude povedané ináč, budeme pod pojmom interval rozumieť nedegenerovaný interval.

Ak  $a = b$ , potom intervaly nazývame **degenerované**. Sú to intervaly:

$$\langle a; a \rangle = \{x \in R; a \leq x \leq a\} = \{a\}, \quad (a; a) = \{x \in R; a < x < a\} = \emptyset.$$

Usporiadaná množina  $M \neq \emptyset$  sa nazýva **husto usporiadaná**, ak pre všetky prvky  $a, b \in M$ ,  $a < b$  existuje prvok  $c \in M$  taký, že  $a < c < b$ .

Je zrejmé, že  $R$  je husto usporiadaná. Pre každé  $a, b \in R$  stačí položiť  $c = (a + b)/2$ .

Množina racionálnych čísel  $Q$  je tiež husto usporiadaná. Lenže medzi dvomi racionálnymi číslami existujú medzery, ktoré vyplňajú iracionálne čísla.

Množina  $A \subset R$  sa nazýva **súvislá**, ak pre všetky  $a, b \in A$ ,  $a < b$ , platí  $\langle a; b \rangle \subset A$ .

Z definície vyplýva, že každý interval v množine  $R$  je súvislá množina. Množiny  $N$ ,  $Z$ ,  $Q$ ,  $I$  a ľubovoľné ich podmnožiny nie sú súvislé množiny.

### Veta 2.1.4 (Princíp súvislosti).


$A \subset R$  je súvislá množina,  $A$  obsahuje aspoň dva rôzne body  $\implies A$  je interval.

### Dôkaz.

Sporom.  $A$  je súvislá, existujú  $a \neq b$ ,  $a, b \in A$ ,  $A$  nie je interval  $\xrightarrow{\text{A nie je interval}}$

existuje  $c \in \langle a; b \rangle$ ,  $c \notin A \xrightarrow{\text{A je súvislá}} \langle a; b \rangle \subset A \Rightarrow c \in \langle a; b \rangle \subset A \Rightarrow c \in A$  (spor). ■

Množinu  $R$  môžeme reprezentovať priamkou. Zvoľme v rovine priamku  $p$  a na nej dva body  $O, J$  tak, aby vzdialenosť  $|OJ| = 1$ . Ak bod  $P$  leží na polpriamke  $OJ$ , potom mu priradíme číslo  $x_P = |OP|$ . V opačnom prípade mu priradíme číslo  $x_P = -|OP|$ . Je zrejmé, že  $x_O = 0$  a  $x_J = 1$ . Priamku  $p$  nazývame **reálna číselná os**, bod  $O$  **nulový bod** a bod  $J$  **jednotkový bod** (obr. 2.1.1).



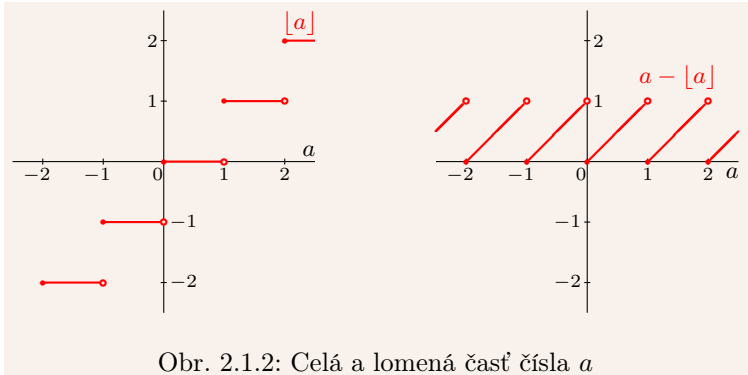
Obr. 2.1.1: Reálna číselná os

<sup>5</sup>Intervaly  $\langle a; b \rangle$  a  $(a; b)$  stručne nazývame **polouzavreté**, resp. **polootvorené**.

**Veta 2.1.5 (Archimedova vlastnosť reálnych čísel).**

$a \in \mathbb{R}, x \in \mathbb{R}, x > 0 \implies$  existuje  $k \in \mathbb{Z}$  také, že:  $kx \leq a < (k+1)x$ .

Archimedova vlastnosť je dôležitým dôsledkom axiómy (AH). Špeciálne pre  $x = 1$  dostaneme  $k \leq a < k+1$ . Číslo  $k$  nazývame (**dolná**) **celá časť čísla**<sup>6</sup>  $a$  a označujeme  $\lfloor a \rfloor$ , resp.  $[a]$ , resp.  $\text{Int } a$ . Rozdiel  $a - [a]$  nazývame **lomená časť čísla**  $a \in \mathbb{R}$  (viď obr. 2.1.2).



Obr. 2.1.2: Celá a lomená časť čísla  $a$

**Veta 2.1.6.**

$a \in \mathbb{R}, a > 0 \implies$  existuje  $n \in \mathbb{N}$  také, že  $\frac{1}{n} < a$ .

**Dôkaz.**

$a > 0 \implies \frac{1}{a} > 0 \xrightarrow{\text{veta 2.1.5}} \exists n \in \mathbb{N}: n-1 \leq \frac{1}{a} < n \implies \frac{1}{n} < a$ . ■

**Veta 2.1.7.**

$a, b \in \mathbb{R}, a < b \implies$  existujú  $s \in \mathbb{Q}, v \in \mathbb{I}$  také, že  $s \in (a; b), v \in (a; b)$ .

**Dôkaz.**

$a < b \implies 0 < b - a \implies \exists n \in \mathbb{N}: \frac{1}{n} < b - a \implies \exists k \in \mathbb{Z}: k \leq na < k+1 \implies$   
 $\frac{k}{n} \leq a < \frac{k+1}{n} = \frac{k}{n} + \frac{1}{n} \leq a + \frac{1}{n} < a + (b - a) = b \implies s = \frac{k+1}{n} \in \mathbb{Q}, s \in (a; b).$   
 $a - \pi < b - \pi \implies \exists s_0 \in \mathbb{Q}: a - \pi < s_0 < b - \pi \implies a < s_0 + \pi < b, v = s_0 + \pi \in \mathbb{I}, v \in (a; b)$ . ■

**Veta 2.1.8.**

$r \in \mathbb{R} \implies \sup \{s; s \in \mathbb{Q}, s \leq r\} = r$ .

**Príklad 2.1.4.**

Pre množinu  $A = \{x \in \mathbb{Q}; x \leq \sqrt{2}\}$  platí  $\sup A = \sqrt{2} \notin \mathbb{Q}$ .

To znamená, že axióma (AH) neplatí v množine racionálnych čísel  $\mathbb{Q}$ . ■

**Veta 2.1.9 (Cantorov princíp vložených intervalov).**

Nech  $\langle a_1; b_1 \rangle \supset \langle a_2; b_2 \rangle \supset \langle a_3; b_3 \rangle \supset \dots \supset \langle a_{n+1}; b_{n+1} \rangle \supset \langle a_n; b_n \rangle \supset \dots \implies$

existuje  $c \in \mathbb{R}$ , ktoré leží vo všetkých intervaloch, t. j.  $\exists c \in \mathbb{R}: c \in \bigcap_{n=1}^{\infty} \langle a_n; b_n \rangle$ .

Ak navyše  $\forall \varepsilon > 0 \exists n \in \mathbb{N}: b_n - a_n < \varepsilon \implies$  existuje také  $c$  iba jedno.

<sup>6</sup>Analogicky sa **hornou celou časťou čísla**  $a$  nazýva také celé číslo  $l = \lceil a \rceil$ , pre ktoré platí  $l < a \leq l+1$ .



**Dôkaz.**

Označme  $A = \{a_n; n \in \mathbb{N}\}$ ,  $B = \{b_n; n \in \mathbb{N}\} \Rightarrow$

$$a_n \leq \sup A \leq \inf B \leq b_n, \quad n \in \mathbb{N} \Rightarrow c \in \bigcap_{n=1}^{\infty} \langle a_n; b_n \rangle = \langle \sup A; \inf B \rangle.$$

Jednoznačnosť. Označme  $d = \inf B - \sup A$ ,  $D = \{d\}$ ,  $R^+ = (0; \infty) = \{\varepsilon; \varepsilon > 0\} \Rightarrow$

$$0 \leq d = \inf B - \sup A \leq b_n - a_n < \varepsilon \Rightarrow D \subset R^+ \xrightarrow{\text{veta 2.1.3}}$$

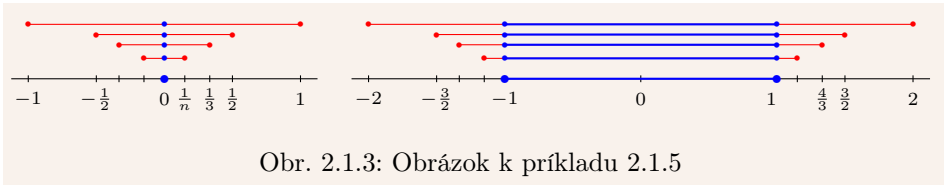
$$0 \leq d = \inf D \leq \inf R^+ = 0 \Rightarrow 0 = d = \inf B - \sup A \Rightarrow c = \inf B = \sup A. \blacksquare$$

Cantorov princíp vložených intervalov sa v matematike využíva často. Postupnosť intervalov sa spravidla konštruuje **metódou bisekcie**. Pri tejto metóde sa interval rozdelí na dva rovnaké podintervaly. Z nich sa vyberie vhodný interval a ten sa opäť rozdelí na dva rovnaké podintervaly. Tento postup sa opakuje až po požadovanú presnosť.

**Príklad 2.1.5.**

Dané postupnosti spĺňajú predpoklady vety 2.1.9 (obr. 2.1.3) a platí

$$\bigcap_{n=1}^{\infty} \langle -\frac{1}{n}; \frac{1}{n} \rangle = \{0\}, \quad \bigcap_{n=1}^{\infty} \langle -1 - \frac{1}{n}; 1 + \frac{1}{n} \rangle = \langle -1; 1 \rangle. \blacksquare$$



Obr. 2.1.3: Obrázok k príkladu 2.1.5

**Absolútnou hodnotou čísla**  $a \in \mathbb{R}$  nazývame číslo  $|a| = \max \{-a, a\} = \begin{cases} a, & a \geq 0, \\ -a, & a \leq 0. \end{cases}$

Priamo z definície (viď obr. 2.1.4) vyplýva:

$$|a| \geq 0, \quad |a| = 0 \Leftrightarrow a = 0, \quad |-a| = |a|, \quad |ab| = |a| \cdot |b|, \quad \left| \frac{a}{c} \right| = \frac{|a|}{|c|}, \quad a, b, c \in \mathbb{R}, \quad c \neq 0.$$

**Veta 2.1.10.**

$$a, b \in \mathbb{R} \Rightarrow \quad \text{a) } |a + b| \leq |a| + |b|, \quad \text{b) } |a| - |b| \leq |a + b|.$$

**Dôkaz.**

a) Nerovnosť sa nazýva **trojuholníková**. Zo vzťahov  $\pm a \leq |a|$ ,  $\pm b \leq |b|$  vyplýva:

$$\left. \begin{array}{l} a + b \leq |a| + |b| \leq |a| + |b| \\ -a - b \leq |a| - |b| \leq |a| + |b| \end{array} \right\} \Rightarrow |a + b| = \max \{a + b, -a - b\} \leq |a| + |b|.$$

b) Ak dosadíme do trojuholníkovej nerovnosti čísla  $-b$ ,  $a + b$ , dostaneme:

$$|-b + (a + b)| \leq |-b| + |a + b| \Leftrightarrow |a| \leq |b| + |a + b|, \quad \text{t. j. } |a| - |b| \leq |a + b|. \blacksquare$$

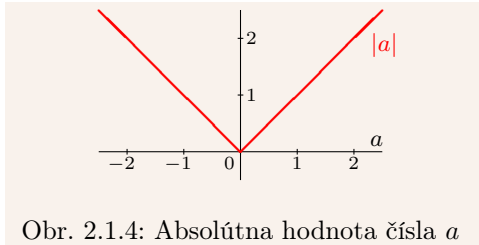
Priamo z definície vyplýva aj nasledujúce tvrdenie.

**Veta 2.1.11.**

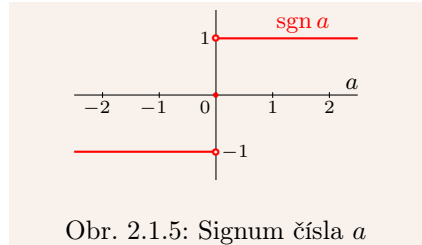
Ak  $a \in \mathbb{R}$ ,  $a > 0$ , potom platí:  $|x| \leq a \Leftrightarrow -a \leq x \leq a \Leftrightarrow x \in \langle -a; a \rangle$ .

Výraz  $|x - a|$  predstavuje vzdialenosť bodov  $a$  a  $x$  na číselnej osi. Pre  $\delta > 0$  platí:

$$|x - a| \leq \delta \iff -\delta \leq x - a \leq \delta \iff a - \delta \leq x \leq a + \delta \iff x \in \langle a - \delta; a + \delta \rangle.$$



Obr. 2.1.4: Absolútna hodnota čísla  $a$



Obr. 2.1.5: Signum čísla  $a$

**Veta 2.1.12.**

Množina  $A \subset \mathbb{R}$  je ohraničená  $\iff$  existuje  $a > 0$  také, že  $|x| \leq a$  pre všetky  $x \in A$ .

**Dôkaz.**

$NP \Rightarrow$ :  $A$  je ohraničená  $\Rightarrow \exists c_1, c_2 \in \mathbb{R} \forall x \in A: c_1 \leq x \leq c_2 \Rightarrow a = \max\{|c_1|, |c_2|\}$ .

$PP \Leftarrow$ :  $a > 0 \Rightarrow \forall x \in A: -a \leq x \leq a \Rightarrow A$  je ohraničená. ■

Ak pre  $a \in \mathbb{R}$  označíme  $a^+ = \max\{a, 0\}$ ,  $a^- = \max\{-a, 0\}$ , potom platí:

$$|a| = a^+ + a^-, \quad a = a^+ - a^-, \quad a^+ = \frac{a+|a|}{2}, \quad a^- = \frac{a-|a|}{2}.$$

Nech  $a \in \mathbb{R}$ , potom **signum čísla  $a$**  definujeme vzťahom  $\operatorname{sgn} a = \begin{cases} -1, & \text{pre } a < 0, \\ 0, & \text{pre } a = 0, \\ 1, & \text{pre } a > 0. \end{cases}$

**Veta 2.1.13.**

$a, b \in \mathbb{R} \implies$  a)  $a = \operatorname{sgn} a \cdot |a|$ ,  $|a| = \operatorname{sgn} a \cdot a$ ,      b)  $\operatorname{sgn}(ab) = \operatorname{sgn} a \cdot \operatorname{sgn} b$ .

**Dôkaz.**

a)  $a = 0 \Rightarrow \operatorname{sgn} a \cdot |a| = 0 \cdot 0 = 0$ .

$a \neq 0 \Rightarrow \operatorname{sgn} a \cdot |a| = (\pm 1) \cdot (\pm a) = a$ ,  $\operatorname{sgn} a \cdot a = \operatorname{sgn} a \cdot \operatorname{sgn} a \cdot |a| = (\pm 1) \cdot (\pm 1) \cdot |a| = |a|$ .

b)  $a = 0$  alebo  $b = 0 \Rightarrow ab = 0 \Rightarrow \operatorname{sgn}(ab) = \operatorname{sgn} a \cdot \operatorname{sgn} b = 0$ .

$a \neq 0, b \neq 0 \xrightarrow{\text{a)}} \operatorname{sgn}(ab) = \frac{ab}{|ab|} = \frac{ab}{|a| \cdot |b|} = \frac{a}{|a|} \cdot \frac{b}{|b|} = \operatorname{sgn} a \cdot \operatorname{sgn} b$ . ■

Nech  $a \in \mathbb{R}$ ,  $n \in \mathbb{N}$ , potom vzťah  $a^n = \overbrace{a \cdot a \cdot \dots \cdot a}^{n\text{-krát}}$  nazývame  **$n$ -tá mocnina čísla  $a$**  (čístame  $a$  na  $n$ -tú). Číslo  $a$  nazývame **mocnenc** (**základ mocniny**),  $n$  nazývame **mocniteľ** (**exponent**). Pre  $a \neq 0$  definujeme  $a^0 = 1$ ,  $a^{-n} = \frac{1}{a^n}$ .

S mocninou  $0^0$  je to trochu zložitejšie. Na základe predchádzajúceho môžeme definovať  $0^0 = 1$ , ale na základe vzťahov (2.1) môžeme definovať<sup>7</sup>  $0^0 = 0$ . V bežných prípadoch

<sup>7</sup>Prvý pohľad je založený na funkcii  $y = x^0 = 1, x \neq 0$  a druhý na funkcii  $y = 0^x = 0, x > 0$ .

definujeme  $0^0 = 1$ . Na druhej strane limita v tomto tvare patrí medzi neurčité výrazy a je potrebné ju individuálne vyčíslňovať (str. 105).

**Poznámka 2.1.1.**

Výraz  $a^{m^n}$  nemá zmysel, pretože nie je určené, či vyjadruje  $(a^m)^n$  alebo  $a^{(m^n)}$ . Tieto dva výrazy sa nemusia rovnať, napr.  $(2^2)^3 = 4^3 = 64$ ,  $2^{(2^3)} = 2^8 = 256$ .

Nech  $n \in \mathbb{N}$ , potom  $n$ -**tou odmocninou čísla**  $a \geq 0$  nazývame také číslo  $x \geq 0$ , pre ktoré platí  $x^n = a$ . Označujeme  $x = \sqrt[n]{a} = a^{\frac{1}{n}} = a^{1/n}$  a pre  $n = 2$  stručne  $x = \sqrt{a}$ .

Nech  $s = \frac{m}{n} \in \mathbb{Q}$ ,  $m \in \mathbb{Z}$ ,  $n \in \mathbb{N}$ . Potom  $s$ -**tú mocninu čísla**  $a \geq 0$  definujeme:

$$a^s = a^{\frac{m}{n}} = \sqrt[n]{a^m} = (\sqrt[n]{a})^m, \quad \text{pre } a > 0, s \in \mathbb{Q}, \quad 0^s = 0, \quad \text{pre } a = 0, s > 0.$$

Nech  $r \in \mathbb{R}$ , potom  $r$ -**tú mocninu čísla**  $a \geq 0$  definujeme:

$$a^r = \begin{cases} \sup \{a^s; s \in \mathbb{Q}, s \leq r\}, & \text{pre } a > 1, \\ 1^r = 1, & \text{pre } a = 1, \\ (a^{-1})^{-r} = (\frac{1}{a})^{-r}, & \text{pre } a \in (0; 1), \text{ t. j. } \frac{1}{a} > 1, \\ 0^r = 0, & \text{pre } a = 0, r > 0. \end{cases} \quad (2.1)$$

Uvedená definícia je založená na skutočnosti, že pre  $a \in (1; \infty)$ ,  $s, t \in \mathbb{Q}$ ,  $s < t$  platí nerovnosť  $a^s < a^t$  a že každé  $r \in \mathbb{R}$  sa dá vyjadriť v tvare  $r = \sup \{s; s \in \mathbb{Q}, s \leq r\}$ .

Navyše pre  $n \in \mathbb{N}$  **definujeme**  $\infty^n = \infty$ ,  $\infty^{-n} = \frac{1}{\infty^n} = 0$  a **nedefinujeme**  $\infty^0$ .

**Veta 2.1.14.**

$$a, b, r, u \in \mathbb{R}, a > 0, b > 0 \implies a^r \cdot a^u = a^{r+u}, \quad (a^r)^u = (a^u)^r = a^{ru}, \quad a^r \cdot b^r = (ab)^r.$$

**Veta 2.1.15.**

$$a, b, r \in \mathbb{R}, 0 < a < 1 < b \implies a^r < 1 < b^r \text{ pre } 0 < r, \quad b^r < 1 < a^r \text{ pre } r < 0.$$

**Veta 2.1.16.**

$$a, b, r \in \mathbb{R}, 0 < a < b \implies a^r < b^r \text{ pre } 0 < r, \quad b^r < a^r \text{ pre } r < 0.$$

**Veta 2.1.17.**

$$a, r, u \in \mathbb{R}, a > 0, r < u \implies a^r < a^u \text{ pre } 1 < a, \quad a^u < a^r \text{ pre } a < 1.$$

## Cvičenia

**2.1.1.** Nech  $a \in \mathbb{Q}$ ,  $b \in \mathbb{I}$ , potom  $(a + b) \in \mathbb{I}$ . Dokážte.

**2.1.2.** Nech  $a, b \in \mathbb{Q}$ ,  $\sqrt{ab} \in \mathbb{I}$ , potom  $(\sqrt{a} + \sqrt{b}) \in \mathbb{I}$ . Dokážte.

**2.1.3.** Dokážte, že sú iracionálne: a)  $\sqrt{3}$ , b)  $\sqrt{2} + \sqrt{3}$ , c)  $\sqrt{15}$ , d)  $\sqrt{5}$ .

**2.1.4.** Dokážte, že pre  $a, b \in \mathbb{R}$ ,  $a > b > 0$  platí: a)  $\frac{a}{b} < \frac{a+c}{b+c}$ , b)  $2 < \frac{a}{b} + \frac{b}{a}$ .

**2.1.5.** Nájdite infimum a suprémum nasledujúcich množín: ♣

- a)  $\{\frac{2n+1}{n}; n \in \mathbb{N}\}$ , b)  $\{\frac{2+(-1)^n}{n}; n \in \mathbb{N}\}$ , c)  $\{\frac{1+2+\dots+n}{n^2}; n \in \mathbb{N}\}$ ,  
d)  $\{\sin \frac{1}{n!}; n \in \mathbb{N}\}$ , e)  $\{\frac{1}{n+n-1}; n \in \mathbb{N}\}$ , f)  $\{\sqrt{n + \sqrt{n}}; n \in \mathbb{N}\}$ .

**2.1.6.** Nájdite infimum a suprérum nasledujúcich množín: ♣

a)  $\{a \in \mathbb{R}; |2a + 1| < a < |a - 1|\}$ ,                      b)  $\{a \in \mathbb{R}; |a^2 - 1| < a < |a + 1|\}$ .

**2.1.7.** Nech  $A, B \subset \mathbb{R}$  sú neprázdne ohraničené množiny. Označme **súčet**, resp. **súčin množín**  $A, B$  symbolmi  $A+B = \{a+b; a \in A, b \in B\}$ , resp.  $AB = \{ab; a \in A, b \in B\}$  a  $n$ -tú mocninu množiny  $A$ ,  $n \in \mathbb{N}$  symbolom  $A^n = \{a^n; a \in A\}$ . Dokážte, že platí:

a)  $\sup(A+B) = \sup A + \sup B$ ,                      b)  $\inf(A+B) = \inf A + \inf B$ ,  
 c)  $\sup(A \cup B) = \max\{\sup A, \sup B\}$ ,              d)  $\inf(A \cup B) = \min\{\inf A, \inf B\}$ ,  
 e)  $\sup(A \cap B) \leq \min\{\sup A, \sup B\}$ ,              f)  $\inf(A \cap B) \geq \max\{\inf A, \inf B\}$ ,  
 g)  $\sup A^n = (\sup A)^n$ ,                                  h)  $\inf A^n = (\inf A)^n$ .

**2.1.8.** Nech  $A, B \subset \mathbb{R}$  sú neprázdne ohraničené množiny. Dokážte, že aj množiny  $A \cup B$ ,  $A \cap B$ ,  $A+B$ ,  $AB$ ,  $A^n$  pre  $n \in \mathbb{N}$  sú ohraničené množiny.

**2.1.9.** Nájdite všetky  $x \in \mathbb{R}$ , pre ktoré predstavujú nasledujúce výrazy reálne čísla: ♣

a)  $\sqrt{x-3} + \sqrt{4-x}$ ,                      b)  $\frac{x}{\sqrt{x-3}} + \frac{x}{\sqrt{4-x}}$ ,                      c)  $\frac{\sqrt{x-3}}{\sqrt{x-3}} + \sqrt{\frac{4-x}{4-x}}$ .

**2.1.10.** Nájdite všetky  $x \in \mathbb{R}$ , pre ktoré predstavujú nasledujúce výrazy reálne čísla: ♣

a)  $\sqrt{1 - \operatorname{sgn} x}$ ,                      b)  $\sqrt{\operatorname{sgn} x - 1}$ ,                      c)  $\sqrt{|x| - x}$ ,                      d)  $\sqrt{x^3 + x^2 - x}$ ,  
 e)  $\frac{x^2-2}{3-x^2}$ ,                      f)  $\sqrt{x+x^3}$ ,                      g)  $\sqrt{\operatorname{sgn} x - x^2}$ ,                      h)  $\frac{x}{\sqrt{x \operatorname{sgn} x - x}}$ .

**2.1.11.** Dokážte, že ak  $a, b \in \mathbb{R}$ , potom: a)  $\sqrt{ab} \leq \frac{a+b}{2}$                       b)  $(\frac{a+b}{2})^n \leq \frac{a^n+b^n}{2}$ .

**2.1.12.** Do akej množiny patrí číslo  $x$ , ak platí: ♣

a)  $x^2 + 3x - 1 \in (2; 3)$ ,                      b)  $x^2 - 4x + 1 \in (2; \infty)$ ,                      c)  $x^2 + x - 1 \in \mathbb{R} - \langle 1; 2 \rangle$ .

## 2.2 Topologické a metrické vlastnosti reálnych čísel

### 2.2.1 Okolie bodu

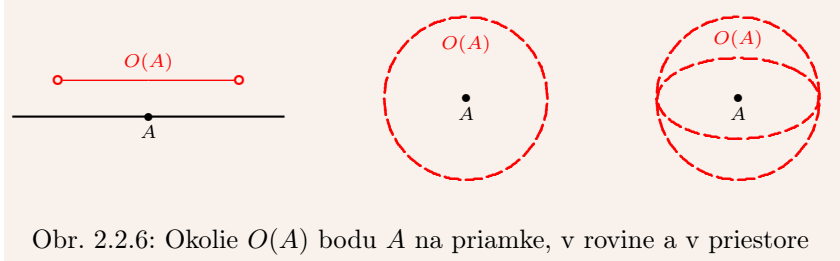
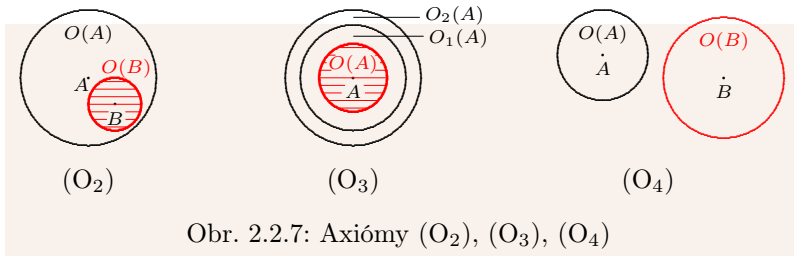
Topologická štruktúra vyjadruje polohové vzťahy medzi prvkami a podmnožinami danej množiny. Základným topologickým pojmom je **okolie bodu**. Najprv uvedieme geometrickú interpretáciu okolia bodu (obr. 2.2.6) Okolím  $O(A)$  bodu  $A \in \mathbb{R}$  na priamke je vnútro úsečky so stredom v bode  $A$ , v rovine  $\mathbb{R}^2$  je to vnútro kruhu so stredom v bode  $A$  a v priestore  $\mathbb{R}^3$  je to vnútro gule so stredom v bode  $A$ .

Nech  $M \neq \emptyset$ ,  $M \subset \mathbb{R}$ , resp.  $M \subset \mathbb{R}^2$ ,  $M \subset \mathbb{R}^3$ , potom pre všetky body z množiny  $M$  a ich okolia platia tzv. **Hausdorffove axiomy** (viď obr. 2.2.7):

- (O<sub>1</sub>) Ku každému bodu  $A \in M$  existuje aspoň jedno okolie  $O(A)$ .
- (O<sub>2</sub>) Pre každé  $O(A)$  a každé  $B \in O(A)$  existuje  $O(B) \subset O(A)$ .
- (O<sub>3</sub>) Pre všetky  $O_1(A), O_2(A)$  existuje  $O(A) \subset O_1(A) \cap O_2(A)$ .
- (O<sub>4</sub>) Pre všetky  $A \neq B$  existujú  $O(A), O(B)$  také, že  $O(A) \cap O(B) = \emptyset$ .

**Veta 2.2.1.**

$$A, B \in M, C \in O(A) \cap O(B) \implies \exists O(C): O(C) \subset O(A) \cap O(B).$$

Obr. 2.2.6: Okolie  $O(A)$  bodu  $A$  na priamke, v rovine a v priestoreObr. 2.2.7: Axiómy  $(O_2)$ ,  $(O_3)$ ,  $(O_4)$ 

Nech  $a \in R$ , potom interval  $(a - \delta; a + \delta)$  označujeme  $O_\delta(a)$  a nazývame  **$\delta$ -okolím bodu  $a$** . Číslo  $\delta > 0$  nazývame **polomer okolia**.

Niekedy je výhodné z okolia vylúčiť samotný bod  $a \in R$ . Množinu  $O_\delta(a) - \{a\}$  nazývame **prstencovým  $\delta$ -okolím bodu  $a \in R$**  a označujeme  $P_\delta(a)$ .

V prípade, že nie je veľkosť polomeru  $\delta$  podstatná, hovoríme o **okolí bodu  $a$** , resp. o **prstencovom okolí bodu  $a$**  a označujeme stručne  $O(a)$ , resp.  $P(a)$ .

**Okolím ( $r$ -okolím) bodu  $\infty$**  nazývame interval  $(r; \infty)$  a označujeme  $O_r(\infty)$ , resp.  $O(\infty)$ . Analogicky interval  $(-\infty; r)$  nazývame **okolím ( $r$ -okolím) bodu  $-\infty$**  a označujeme  $O_r(-\infty)$ , resp.  $O(-\infty)$ . Tieto okolia sú zároveň aj prstencovými okoliami.

### Poznámka 2.2.1.

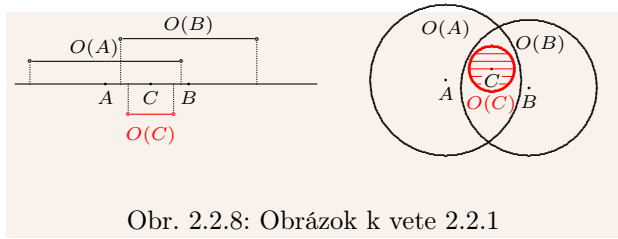
Množina  $R = (-\infty; \infty)$  je okolím každého bodu  $a \in R^*$  (t. j. aj  $\pm\infty$ ) s polomerom  $r = \infty$ . Množina  $\emptyset = (a; a)$  je okolím každého bodu  $a \in R$  s polomerom  $\delta = 0$ . Otvorený interval  $(a; b)$ ,  $a, b \in R$ ,  $a < b$  je okolím bodu  $c = \frac{a+b}{2}$  s polomerom  $\delta = \frac{b-a}{2}$ .

Nech  $r \in R$ ,  $\delta > 0$ , potom môžeme okolia bodov  $a \in R$  a  $\pm\infty$  vyjadriť nasledujúco:

$$\begin{aligned} O_\delta(a) &= (a - \delta; a + \delta) = \{x \in R; a - \delta < x < a + \delta\} = \{x \in R; |x - a| < \delta\}, \\ P_\delta(a) &= (a - \delta; a + \delta) - \{a\} = (a - \delta; a) \cup (a; a + \delta) = \{x \in R; 0 < |x - a| < \delta\}, \\ O_r(\infty) &= (r; \infty) = \{x \in R; r < x\}, \quad O_r(-\infty) = (-\infty; r) = \{x \in R; x < r\}. \end{aligned}$$

V matematike majú veľký význam a často sa používajú tzv. **jednostranné okolia**:

$$\begin{aligned} O_\delta^+(a) &= \langle a; a + \delta \rangle && \text{nazývame } \mathbf{pravé } \delta\text{-okolie bodu } a, \\ O_\delta^-(a) &= (a - \delta; a) && \text{nazývame } \mathbf{\textit{l}avé } \delta\text{-okolie bodu } a, \\ P_\delta^+(a) &= (a; a + \delta) && \text{nazývame } \mathbf{pravé prstencové } \delta\text{-okolie bodu } a, \\ P_\delta^-(a) &= (a - \delta; a) && \text{nazývame } \mathbf{\textit{l}avé prstencové } \delta\text{-okolie bodu } a. \end{aligned}$$



Obr. 2.2.8: Obrázok k vete 2.2.1

## 2.2.2 Otvorené a uzavreté množiny

Bod  $a \in A$  sa nazýva **vnútorný bod množiny**  $A \subset R$ , ak existuje okolie  $O(a) \subset A$ . Množinu všetkých vnútorných bodov množiny  $A$  nazývame **vnútro množiny**  $A$  a označujeme  $\text{int } A$ , resp.  $A^0$ .

Bod  $a \in R$  sa nazýva **vonkajší bod množiny**  $A \subset R$ , ak je vnútorným bodom jej doplnku  $A' = R - A$ . Množinu všetkých vonkajších bodov množiny  $A$  nazývame **vonkajšok množiny**  $A$  a označujeme  $\text{ext } A$ .

Bod  $a \in R$  sa nazýva **hraničný bod množiny**  $A \subset R$ , ak nie je ani vnútorným a ani vonkajším bodom<sup>8</sup> množiny  $A$ . Množinu všetkých hraničných bodov množiny  $A$  nazývame **hranica množiny**  $A$  a označujeme  $\partial A$ .

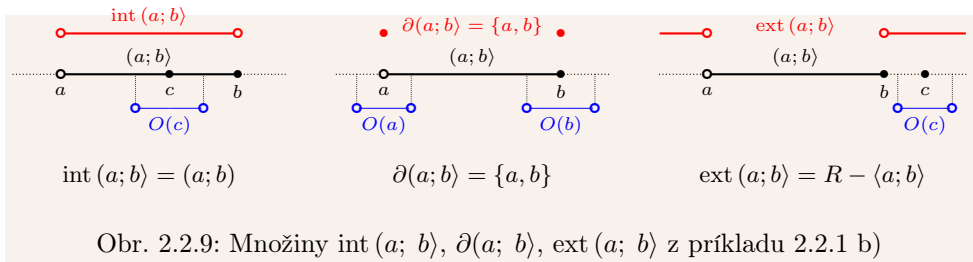
Množiny  $\text{int } A$ ,  $\partial A$ ,  $\text{ext } A$  sú disjunktné. Navyše pre množiny  $A$  a  $A'$  platí:

$$\partial A = \partial A', \quad \text{int } A = \text{ext } A', \quad \text{ext } A = \text{int } A'.$$

### Príklad 2.2.1.

a)  $\text{int } \emptyset = \text{ext } R = \emptyset$ ,  $\text{ext } \emptyset = \text{int } R = R$ ,  $\partial \emptyset = \partial R = \emptyset$ ,  $\partial Q = R$ .

b) Interval  $(a; b)$  je vnútrom, množina  $R - \langle a; b \rangle$  je vonkajšokom a množina  $\{a, b\}$  je hranicou (obr. 2.2.9) každého z intervalov  $(a; b)$ ,  $\langle a; b \rangle$ ,  $[a; b)$ ,  $\langle a; b \rangle$ . ■

Obr. 2.2.9: Množiny  $\text{int}(a; b)$ ,  $\partial(a; b)$ ,  $\text{ext}(a; b)$  z príkladu 2.2.1 b)

Bod  $a \in R$  sa nazýva **hromadný bod množiny**  $A \subset R$  práve vtedy, ak v každom jeho okolí  $O(a)$  leží aspoň jeden bod z množiny  $A$ , ktorý je rôzny od bodu  $a$ , t. j. pre každé prstencové okolie  $P(a)$  platí  $P(a) \cap A \neq \emptyset$ .

<sup>8</sup>T. j. v každom jeho okolí leží aspoň jeden bod z množiny  $A$  a aspoň jeden bod z množiny  $A'$ .

**Poznámka 2.2.2.**

Množina  $N$  nemá hromadný bod patriaci medzi reálne čísla. Ale v každom okolí bodu  $\infty$  leží aspoň jedno prirodzené číslo. Preto rozšírime definíciu hromadného bodu na množinu  $R^* = R \cup \{\pm\infty\}$  a pri vyšetrowaní hromadných bodov, budeme overovať aj  $\pm\infty$ .

Bod  $a \in R^*$  sa nazýva **hromadný bod množiny**  $A \subset R^*$  práve vtedy, ak v každom jeho okolí leží aspoň jeden bod z množiny  $A$ , ktorý je rôzny od bodu  $a$ .

**Uzáverom množiny**  $A \subset R$ , ozn.  $\overline{A}$ , nazývame zjednotenie množiny  $A$  s množinou všetkých jej hromadných bodov. Množina  $A \subset R$  sa nazýva **uzavretá**, ak obsahuje všetky svoje hromadné body, t. j. ak  $A = \overline{A}$ .

Ak bod  $a \in A$  nie je hromadným bodom  $A$ , nazýva sa **izolovaný bod množiny**  $A$ . Množina, ktorá obsahuje iba izolované body sa nazýva **izolovaná množina**.

Množina  $A \subset R$  sa nazýva **otvorená**, ak každý jej bod je vnútorný, t. j. ak  $A = \text{int } A$ .

**Poznámka 2.2.3.**

Je zrejmé, že ak v okolí  $O(a)$  leží aspoň jeden bod rôzny od  $a$ , leží ich tam nekonečne veľa. To znamená, že  $a \in R^*$  je hromadným bodom množiny  $A \subset R$  práve vtedy, ak v každom jeho okolí leží nekonečne veľa rôznych bodov z množiny  $A$ .

**Príklad 2.2.2.**

a) Interval  $(0; 1)$  je otvorená množina,  $\langle 0; 1 \rangle$  je uzavretá množina,<sup>9</sup>  $(0; 1)$ ,  $\langle 0; 1 \rangle$  nie sú ani otvorené ani uzavreté množiny a ich uzáverom je  $\langle 0; 1 \rangle$ .

b) Interval  $(-\infty; 1)$  je otvorená množina. Jeho uzáverom je množina  $(-\infty; 1) \cup \{-\infty\}$ .

c) Množina  $N$  neobsahuje svoj hromadný bod  $\infty$ , preto nie je uzavretá. Všetky jej body sú izolované, takže je izolovaná.

d) Množina  $Q$  nie je uzavretá, pretože neobsahuje všetky svoje hromadné body (neobsahuje napríklad hromadný bod  $\sqrt{2}$ ). Nie je ani otvorená, pretože žiaden jej bod nie je vnútorný.

e) Množina  $\{1, 2, 3, 4, 5, 6\}$  nemá hromadné body. To znamená, že obsahuje všetky svoje hromadné body a je uzavretá. Navyše každý jej bod je izolovaný.

f) Množina  $\{\frac{1}{n}, n; n \in N\} = \{1, 1, \frac{1}{2}, 2, \frac{1}{3}, 3, \frac{1}{4}, 4, \dots\}$  má dva hromadné body  $0, \infty$ . ■

**Veta 2.2.2.**

$A \subset R$  je otvorená  $\iff A' = R - A$  je uzavretá.

**Dôkaz.**

$NP \Rightarrow$ : Sporom.  $A$  je otvorená,  $A'$  nie je uzavretá  $\xrightarrow{A' \text{ nie je uzavretá}}$

$A'$  má hromadný bod  $a \notin A' \Rightarrow a \in A \xrightarrow{A \text{ je otvorená}}$  existuje okolie  $O(a) \subset A \Rightarrow$

$O(a) \cap A' = \emptyset \Rightarrow a$  nie je hromadný bod  $A' \Rightarrow A'$  je uzavretá (spor).

$PP \Leftarrow$ : Sporom.  $A'$  je uzavretá,  $A$  nie je otvorená  $\xrightarrow{A \text{ nie je otvorená}}$

existuje  $a \in A$  hraničný (nie vnútorný)  $\Rightarrow$  v každom okolí  $O(a)$  leží  $b \in A'$ ,  $b \neq a \Rightarrow$

$a \in A$  je hromadný bod  $A' \Rightarrow A'$  nie je uzavretá (spor). ■

<sup>9</sup> Preto aj názov otvorený a uzavretý interval.

**Veta 2.2.3.**

$A, B \subset R$  sú otvorené  $\implies A \cap B, A \cup B$  sú otvorené.

**Dôkaz.**

$a \in A \cap B \implies$  existujú okolia  $O_1(a) \subset A, O_2(a) \subset B \xrightarrow{\text{axioma } (O_3)}$

existuje okolie  $O(a) \subset O_1 \cap O_2 \subset A \cap B \implies A \cap B$  je otvorená.

$a \in A \cup B \implies a \in A$  alebo  $a \in B \implies a$  je vnútorným bodom  $A$  alebo  $B \implies$

$a$  je vnútorným bodom  $A \cup B \implies A \cup B$  otvorená. ■

**Veta 2.2.4.**

$A, B \subset R$  sú uzavreté  $\implies A \cap B, A \cup B$  sú uzavreté.

**Dôkaz.**

$A, B$  sú uzavreté  $\implies A', B', A' \cup B', A' \cap B'$  sú otvorené  $\implies$

$(A' \cup B')' = (A')' \cap (B')' = A \cap B, (A' \cap B')' = (A')' \cup (B')' = A \cup B$  sú uzavreté. ■

**Veta 2.2.5.**

$A_k \subset R, k \in N$  sú otvorené množiny  $\implies A = \bigcup_{k=1}^{\infty} A_k$  je otvorená množina.

**Dôkaz.**

$a \in A \implies$  existuje otvorená  $A_m$  taká, že  $a \in A_m \implies a$  je vnútorným bodom  $A_m \implies$

$a$  je vnútorným bodom nadmnožiny  $A \implies A$  je otvorená množina. ■

**Veta 2.2.6.**

$A_k \subset R, k \in N$  sú uzavreté množiny  $\implies A = \bigcap_{k=1}^{\infty} A_k$  je uzavretá množina.

**Dôkaz.**

$A_k, k \in N$  sú uzavreté množiny  $\implies A'_k, k \in N$  sú otvorené množiny  $\implies$

$\bigcup_{k=1}^{\infty} A'_k$  je otvorená  $\xrightarrow{\text{de Morganové zákony}} \bigcap_{k=1}^{\infty} A_k = \left[ \bigcup_{k=1}^{\infty} A'_k \right]'$  je uzavretá. ■

Ako dokazuje nasledujúci príklad, prienik nekonečného systému otvorených množín nemusí byť otvorená množina. A taktiež zjednotenie nekonečného systému uzavretých množín nemusí byť uzavretá množina.

**Príklad 2.2.3.**

a)  $(-\frac{1}{k}; \frac{1}{k}), k \in N$  sú otvorené množiny,  $\bigcap_{k=1}^{\infty} (-\frac{1}{k}; \frac{1}{k}) = \{0\}$  je uzavretá.

b) Množiny  $\{\frac{1}{k}\}, k \in N$  sú uzavreté,  $\bigcup_{k=1}^{\infty} \{\frac{1}{k}\} = \{\frac{1}{k}; k \in N\}$  nie je uzavretá, pretože neobsahuje bod 0, ktorý je jej hromadným bodom. ■

**2.2.3 Metrické vlastnosti čísel**

S pojmami ako dĺžka vektora, skalárny súčin dvoch vektorov, vzdialenosť dvoch bodov sme sa už stretli v analytickej geometrii. Tieto pojmy predstavujú metrické vlastnosti množiny  $a$  v tejto časti sa budeme zaoberať metrickými vlastnosťami reálnych čísel.

Keďže je množina  $R^1 = R$  špeciálnym prípadom  $R^n$ , uvedieme nasledujúce pojmy všeobecne pre  $n \in N$ . Množina  $R^n = \{(x_1; x_2; \dots; x_n); x_1, x_2, \dots, x_n \in R\}$  tvorí lineárny priestor, ktorý nazývame **Euklidov (euklidovský)  $n$ -rozmerný priestor**.



Prvky  $x = (x_1; x_2; \dots; x_n) \in R^n$  nazývame **vektory** ( **$n$ -rozmerné vektory**). Vektor  $x = (x_1; x_2; \dots; x_n) \in R^n$  graficky reprezentuje orientovanú úsečku zo začiatku súradnicového systému<sup>10</sup>  $O = (0; 0; \dots; 0)$  do bodu  $x = (x_1; x_2; \dots; x_n)$ .

Rozdiel vektorov  $x - y = (x_1 - y_1; x_2 - y_2; \dots; x_n - y_n)$  predstavuje orientovanú úsečku z bodu  $x = (x_1; x_2; \dots; x_n)$  do bodu  $y = (y_1; y_2; \dots; y_n)$ .

**Skalárnym súčinom vektorov**  $x, y \in R^n$ ,  $n \in N$  nazývame číslo

$$(x, y) = ((x_1; x_2; \dots; x_n), (y_1; y_2; \dots; y_n)) = x_1y_1 + x_2y_2 + \dots + x_ny_n = \sum_{i=1}^n x_iy_i.$$

Pomocou skalárneho súčinu môžeme vybudovať v priestore  $R^n$  geometriu s použitím vzdialeností a uhlov, ako sme zvyknutí v rovine, resp. v priestore.

### Veta 2.2.7.

$n \in N$ ,  $x, y, z \in R^n$ ,  $c \in R \implies$

$$(x, y) \geq 0, \quad (x, x) = 0 \Leftrightarrow x = O, \quad (x, y) = (y, x), \quad (x + y, z) = (x, z) + (y, z), \quad (cx, y) = c(x, y).$$

### Dôkaz.

Vyplýva priamo z definície. ■

(Euklidovskou) **normou vektora**  $x = (x_1; x_2; \dots; x_n) \in R^n$ ,  $n \in N$  nazývame číslo

$$|x| = \sqrt{(x, x)} = \sqrt{x_1^2 + x_2^2 + \dots + x_n^2} = \sqrt{\sum_{i=1}^n x_i^2}.$$

Vektor  $x \in R^n$ , pre ktorý platí  $|x| = 1$  nazývame **jednotkový**, resp. **normovaný vektor**. Z geometrického hľadiska predstavuje norma  $|x|$  dĺžku vektora  $x$ .

V priestore  $R$  sa norma vektora  $x \in R$ , t. j. reálneho čísla  $x$ , redukuje na absolútnu hodnotu. Vyplýva to zo vzťahov  $|x| = \sqrt{(x, x)} = \sqrt{x^2} = |x|$ .

### Lema 2.2.8 (Cauchyho nerovnosť).

$$x_1, x_2, \dots, x_n \in R, \quad y_1, y_2, \dots, y_n \in R, \quad n \in N \implies \left| \sum_{i=1}^n x_iy_i \right| \leq \sqrt{\sum_{i=1}^n x_i^2} \cdot \sqrt{\sum_{i=1}^n y_i^2}.$$

### Dôkaz.

Označme<sup>11</sup>  $S_x = \sqrt{\sum_{i=1}^n x_i^2}$ ,  $S_y = \sqrt{\sum_{i=1}^n y_i^2}$ ,  $a_i = \frac{x_i}{S_x}$ ,  $b_i = \frac{y_i}{S_y}$ ,  $i = 1, 2, \dots, n$ ,  $S_x \neq 0$ ,  $S_y \neq 0$ .

$$\text{Platí: } \sum_{i=1}^n a_i^2 = \sum_{i=1}^n \frac{x_i^2}{S_x^2} = \frac{1}{S_x^2} \sum_{i=1}^n x_i^2 = \frac{S_x^2}{S_x^2} = 1, \quad \sum_{i=1}^n b_i^2 = \sum_{i=1}^n \frac{y_i^2}{S_y^2} = \frac{1}{S_y^2} \sum_{i=1}^n y_i^2 = \frac{S_y^2}{S_y^2} = 1.$$

$$0 \leq (a_i \pm b_i)^2 = a_i^2 \pm 2a_ib_i + b_i^2, \quad i = 1, 2, \dots, n \implies \mp 2a_ib_i \leq a_i^2 + b_i^2, \quad i = 1, 2, \dots, n$$

$$\implies \mp 2 \sum_{i=1}^n a_ib_i = \sum_{i=1}^n (\mp 2a_ib_i) \leq \sum_{i=1}^n (a_i^2 + b_i^2) = \sum_{i=1}^n a_i^2 + \sum_{i=1}^n b_i^2 = 1 + 1 = 2$$

$$\implies 2 \geq 2 \left| \sum_{i=1}^n a_ib_i \right| = \left| \sum_{i=1}^n \left( \frac{x_i}{S_x} \frac{y_i}{S_y} \right) \right| = \frac{1}{S_x S_y} \left| \sum_{i=1}^n x_iy_i \right| \implies S_x S_y \geq \left| \sum_{i=1}^n x_iy_i \right|. \quad \blacksquare$$

### Veta 2.2.9.

$n \in N$ ,  $x, y \in R^n$ ,  $c \in R \implies$

$$\text{a) } |x| \geq 0, \quad |x| = 0 \Leftrightarrow x = (0; 0; \dots; 0), \quad \text{b) } |cx| = |c| \cdot |x|, \quad \text{c) } |x + y| \leq |x| + |y|.$$

<sup>10</sup>To znamená, že vektor vyjadruje smer a vzdialenosť od začiatku súradnicového systému  $O$ .

<sup>11</sup>Pre  $S_x = 0$  ( $x_1 = \dots = x_n = 0$ ), resp.  $S_y = 0$  ( $y_1 = \dots = y_n = 0$ ) platí nerovnosť triviálne.

**Dôkaz.**

a) Vyplýva priamo z definície.

$$b) |cx| = \sqrt{(cx, cx)} = \sqrt{c(x, cx)} = \sqrt{c(cx, x)} = \sqrt{c^2(x, x)} = |c| \sqrt{(x, x)} = |c| \cdot |x|.$$

$$c) \text{ Z Cauchyho nerovnosti vyplýva: } |x + y|^2 = \sum_{i=1}^n (x_i + y_i)^2 = \\ = \sum_{i=1}^n (x_i^2 + 2x_i y_i + y_i^2) = \sum_{i=1}^n x_i^2 + 2 \sum_{i=1}^n x_i y_i + \sum_{i=1}^n y_i^2 \leq \sum_{i=1}^n x_i^2 + 2 \left| \sum_{i=1}^n x_i y_i \right| + \sum_{i=1}^n y_i^2 \leq \\ \leq \sum_{i=1}^n x_i^2 + 2 \sqrt{\sum_{i=1}^n x_i^2} \sqrt{\sum_{i=1}^n y_i^2} + \sum_{i=1}^n y_i^2 = \left[ \sqrt{\sum_{i=1}^n x_i^2} + \sqrt{\sum_{i=1}^n y_i^2} \right]^2 = (|x| + |y|)^2. \blacksquare$$

(Euklidovskou) metrikou priestoru  $R^n$  nazývame zobrazenie  $\rho: R^n \times R^n \rightarrow R$ :

$$\rho(x, y) = |x - y| = \sqrt{(x - y, x - y)} = \sqrt{\sum_{i=1}^n (x_i - y_i)^2}, \quad x, y \in R^n.$$

Číslo  $\rho(x, y)$  nazývame **vzdialenosť vektorov  $x$  a  $y$** .

**Poznámka 2.2.4.**

Euklidovská metrika reprezentuje vzdialenosť, ako ju poznáme z geometrie. Pre  $x, y \in R$  platí  $\rho(x, y) = \sqrt{(x - y)^2} = |x - y|$  a pre  $x, y \in R^2$  platí  $\rho(x, y) = \sqrt{(x_1 - y_1)^2 + (x_2 - y_2)^2}$ .

**Veta 2.2.10.**

$n \in N, x, y, z \in R^n \implies$

$$a) \rho(x, y) \geq 0, \quad \rho(x, y) = 0 \Leftrightarrow x = y, \quad b) \rho(x, y) = \rho(y, x), \quad c) \rho(x, y) \leq \rho(x, z) + \rho(z, y).$$

**Dôkaz.**

a), b) Vyplýva z definície.

$$c) \rho(x, y) = |x - y| = |(x - z) + (z - y)| \leq |x - z| + |z - y| = \rho(x, z) + \rho(z, y). \blacksquare$$

Nerovnosti c) vo vetách 2.2.9 a 2.2.10 nazývame **trojuholníkové nerovnosti**. Sú to analógie z geometrie známej nerovnosti, platnej medzi dĺžkami strán v trojuholníku.

**Cvičenia**

**2.2.1.** Dokážte, že v  $R^n, n \in N$  je zjednotením konečného počtu otvorených, resp. uzavretých množín otvorená, resp. uzavretá množina.

**2.2.2.** Dokážte Cauchyho nerovnosť (lema 2.2.8).

[Návod: Pre všetky  $t \in R, x, y \in R^n$  platí  $P(t) = \sum_{i=1}^n (tx_i + y_i)^2 \geq 0$ . Takže kvadratická rovnica  $P(t) = 0$  má najviac jeden reálny koreň a nekladný diskriminant.

Iný návod: Pre všetky  $x, y \in R^n$  platí  $\sum_{i=1}^n \sum_{j=1}^n (x_i y_j - x_j y_i)^2 \geq 0$ .]

**2.2.3.** Nájdite všetky hromadné body množín: ♣

$$\begin{array}{lll} a) \left\{ \frac{1}{m} + \frac{1}{n}; m, n \in N \right\}, & b) \left\{ \frac{1}{m^2} + \frac{1}{n}; m, n \in N \right\}, & c) \left\{ \frac{1}{n}; n \in N \right\}, \\ d) \left\{ \frac{1}{m^2} + n; m, n \in N \right\}, & e) \left\{ \frac{1}{m} + n^2; m, n \in N \right\}, & f) \left\{ \frac{1}{n^2}; n \in N \right\}, \\ g) \{p^2 + q^2; p, q \in Q\}, & h) \left\{ \frac{1}{n} + p^2; n \in N, p \in Q \right\}, & i) \left\{ \frac{1}{p^2}; p \in Q \right\}. \end{array}$$

**2.2.4.** Dokážte, že každá množina, ktorá má nekonečne veľa prvkov, má aspoň jeden hromadný bod.

**2.2.5.** Zostrojte v priestore  $R^n$ ,  $n \in N$  s euklidovskou metrikou množinu  $A$  s  $n+1$  prvkami tak, aby  $\{\rho(x, y); x, y \in A\} = \{0, 1\}$ . ♣

## 2.3 Postupnosti reálnych čísel

**Postupnosťou reálnych čísel (reálnou postupnosťou)** nazývame každú postupnosť  $\{a_n\}_{n=1}^{\infty}$ , ktorej členy sú reálne čísla  $a_n \in R$ . T. j.  $\{a_n\}_{n=1}^{\infty}$  je zobrazením  $N \rightarrow R$ .

Postupnosť  $\{a_n\}_{n=1}^{\infty}$  zadávame **explicitne**, t. j. všeobecným vyjadrením člena  $a_n$  ako funkcie premennej  $n$  alebo **rekurentne**, t. j. zadaním prvého člena a zadaním člena  $a_n$  pomocou predchádzajúcich členov.

**Postupnosť  $\{a_n\}_{n=1}^{\infty}$  sa rovná postupnosti  $\{b_n\}_{n=1}^{\infty}$  (postupnosti sa rovnajú)**, ak pre všetky  $n \in N$  platí  $a_n = b_n$ . Symbolicky to zapisujeme  $\{a_n\}_{n=1}^{\infty} = \{b_n\}_{n=1}^{\infty}$ .

### Príklad 2.3.1.

a)  $\{a_n\}_{n=1}^{\infty} = \{2n-1\}_{n=1}^{\infty} = \{1, 3, 5, \dots\}$  je explicitne zadaná vzťahmi  $a_n = 2n-1$ ,  $n \in N$  a rekurentne vzťahmi  $a_1 = 1$ ,  $a_{n+1} = a_n + 2$ ,  $n \in N$ .

b)  $\{5^{2n}\}_{n=1}^{\infty}$  je rekurentne zadaná vzťahmi  $a_1 = 25$ ,  $a_{n+1} = 25a_n$ ,  $n \in N$ .

c) Explicitný zápis  $a_n = \frac{n+1}{n}$ ,  $n \in N$  definuje postupnosť  $\{a_n\}_{n=1}^{\infty} = \left\{\frac{n+1}{n}\right\}_{n=1}^{\infty}$ . ■

Niekedy potrebujeme definovať postupnosť nie od prvého člena, ale od nejakého člena  $a_k$ , kde  $k \in Z$ . Najčastejšie je to od nultého člena  $a_0$ . Postupnosť potom zapisujeme v tvare  $\{a_n\}_{n=k}^{\infty} = \{a_k, a_{k+1}, a_{k+2}, \dots\}$ . Ak pre  $n \in N$  označíme  $b_n = a_{n+k-1}$ , potom platí:

$$\{a_n\}_{n=k}^{\infty} = \{a_k, a_{k+1}, a_{k+2}, \dots\} = \{a_{1+k-1}, a_{2+k-1}, \dots\} = \{b_1, b_2, b_3, \dots\} = \{b_n\}_{n=1}^{\infty}.$$

Postupnosť  $\{a_n\}_{n=1}^{\infty}$  sa nazýva:

- **ohraničená zdola**, ak existuje  $\alpha \in R$  také, že pre všetky  $n \in N$  platí  $\alpha \leq a_n$ ,
- **ohraničená zhora**, ak existuje  $\beta \in R$  také, že pre všetky  $n \in N$  platí  $a_n \leq \beta$ ,
- **ohraničená**, ak je ohraničená zdola a zhora,  
t. j. existujú  $\alpha, \beta \in R$  také, že pre všetky  $n \in N$  platí  $\alpha \leq a_n \leq \beta$ ,
- **neohraničená zdola [resp. zhora]**, ak nie je ohraničená zdola [resp. zhora],
- **neohraničená zdola**, ak nie je ohraničená zdola, t. j. pre každé  $\alpha \in R$  existuje  $a_n < \alpha$ ,
- **neohraničená zhora**, ak nie je ohraničená zhora, t. j. pre každé  $\beta \in R$  existuje  $a_n > \beta$ ,
- **neohraničená**, ak nie je ohraničená (je neohraničená zdola alebo neohraničená zhora),
- **rastúca [resp. klesajúca]**, ak pre všetky  $n \in N$  platí  $a_n < a_{n+1}$  [resp.  $a_n > a_{n+1}$ ],
- **neklesajúca [resp. nerastúca]**, ak pre všetky  $n \in N$  platí  $a_n \leq a_{n+1}$  [resp.  $a_n \geq a_{n+1}$ ],
- **stacionárna (konštantná)**, ak pre všetky  $n \in N$  platí  $a_n = a_1 = a$ ,
- **monotónna**, ak je neklesajúca, nerastúca alebo stacionárna,
- **rýdzo monotónna**, ak je rastúca alebo klesajúca.

Nech  $\{k_n\}_{n=1}^{\infty}$  je rastúca postupnosť prirodzených čísel. Potom sa postupnosť  $\{a_{k_n}\}_{n=1}^{\infty}$  nazýva **podpostupnosť (vybraná postupnosť z) postupnosti  $\{a_n\}_{n=1}^{\infty}$** .

**Príklad 2.3.2.**

Uvažujme postupnosť  $\{a_n\}_{n=1}^{\infty} = \{2n-1\}_{n=1}^{\infty} = \{1, 3, 5, 7, 9, 11, 13, \dots\}$ .

Ak vyberieme párne členy, t. j.  $\{k_n\}_{n=1}^{\infty} = \{2n\}_{n=1}^{\infty} = \{2, 4, 6, \dots\}$ , potom vybraná postupnosť má tvar  $\{a_{k_n}\}_{n=1}^{\infty} = \{a_{2n}\}_{n=1}^{\infty} = \{a_2, a_4, a_6, \dots\} = \{3, 7, 11, \dots\} = \{4n-1\}_{n=1}^{\infty}$ . Vybrané sú tiež postupnosti  $\{2n-1\}_{n=1}^{\infty}$ ,  $\{2n-1\}_{n=2}^{\infty}$ ,  $\{101, 109, 235, 637, \dots\}$ . ■

**Súčtom, rozdielom, súčinom, resp. podielom postupností**  $\{a_n\}_{n=1}^{\infty}$  a  $\{b_n\}_{n=1}^{\infty}$  nazývame postupnosti  $\{a_n+b_n\}_{n=1}^{\infty}$ ,  $\{a_n-b_n\}_{n=1}^{\infty}$ ,  $\{a_nb_n\}_{n=1}^{\infty}$ , resp.  $\{a_n/b_n\}_{n=1}^{\infty}$ . V prípade podielu predpokladáme, že pre všetky  $n \in N$  platí  $b_n \neq 0$ .

**2.3.1 Limita postupnosti**

Jedným zo základných pojmov v matematike je limita a s ňou spojené limitné procesy.

**Príklad 2.3.3.**

a) Postupnosť  $\{a_n\}_{n=1}^{\infty} = \{n^{-1}\}_{n=1}^{\infty} = \{1, \frac{1}{2}, \frac{1}{3}, \frac{1}{4}, \dots, \frac{1}{n}, \dots\}$  je klesajúca a s rastúcou hodnotou  $n$  sa členy  $a_n$  blížia k bodu 0. Bod 0 je hranica, ktorú nikdy neprekročia. Môžeme povedať, že sa **body  $a_n$  hromadia v bode 0**.

b) Uvažujme postupnosť  $\{a_n\}_{n=1}^{\infty} = \{n, \frac{1}{n}\}_{n=1}^{\infty} = \{1, 1, 2, \frac{1}{2}, 3, \frac{1}{3}, 4, \frac{1}{4}, \dots, n, \frac{1}{n}, \dots\}$ . Nepárne členy  $a_n$  sa neobmedzene zväčšujú a párne členy zmenšujú. Nepárne sa približujú k bodu  $\infty$  (**hromadia v  $\infty$** ). Párne členy sa približujú k bodu 0 (**hromadia v bode 0**). ■

Bod  $a \in R^* = R \cup \{\pm\infty\}$  sa nazýva **hromadnou hodnotou postupnosti**  $\{a_n\}_{n=1}^{\infty}$ , ak v každom okolí  $O(a)$  existuje nekonečne veľa členov  $a_n \in O(a)$ . Navyše  $a \in R$  sa nazýva **vlastná hromadná hodnota** a body  $\pm\infty$  **nevlastné hromadné hodnoty**.

**Poznámka 2.3.1.**

Bod  $a \in R$  je **vlastnou hromadnou hodnotou**  $\{a_n\}_{n=1}^{\infty}$ , ak pre každé  $\varepsilon > 0$  existuje nekonečne veľa členov  $a_n \in (a - \varepsilon; a + \varepsilon)$ , t. j.  $|a_n - a| < \varepsilon$ .

Bod  $\infty$  [resp.  $-\infty$ ] je **nevlastnou hromadnou hodnotou**  $\{a_n\}_{n=1}^{\infty}$ , ak pre každé  $\alpha \in R$  existuje nekonečne veľa členov  $a_n > \alpha$  [resp.  $a_n < \alpha$ ].

**Veta 2.3.1.**

Každá postupnosť  $\{a_n\}_{n=1}^{\infty}$  má aspoň jednu hromadnú hodnotu.

**Dôkaz.**

Ak je  $\{a_n\}_{n=1}^{\infty}$  neohraničená zhora, potom pre každé  $\alpha \in R$  existuje aspoň jedno  $a_n > \alpha$ . Vzhľadom na to, že čísel väčších ako  $\alpha$  existuje nekonečne veľa, musí existovať aj nekonečne veľa členov  $a_n > \alpha$ . To znamená, že  $a = \infty$  je hromadnou hodnotou  $\{a_n\}_{n=1}^{\infty}$ .

Ak je  $\{a_n\}_{n=1}^{\infty}$  neohraničená zdola, potom analogicky je hromadnou hodnotou  $a = -\infty$ .

Ak je  $\{a_n\}_{n=1}^{\infty}$  ohraničená, potom existuje interval  $\langle b_1; c_1 \rangle$  taký, že všetky  $a_n \in \langle b_1; c_1 \rangle$ . Označme jeho dĺžku  $d = c_1 - b_1$  a rozdeľme ho na dva rovnaké intervaly

$$\langle b_1; \frac{b_1+c_1}{2} \rangle, \quad \langle \frac{b_1+c_1}{2}; c_1 \rangle$$

V aspoň jednom z nich leží nekonečne veľa členov  $\{a_n\}_{n=1}^{\infty}$ . Označme ho  $\langle b_2; c_2 \rangle$ . Pre jeho dĺžku platí  $c_2 - b_2 = \frac{d}{2} = \frac{d}{2^{2-1}}$ . Rozdeľme  $\langle b_2; c_2 \rangle$  na dva rovnaké intervaly

$$\langle b_2; \frac{b_2+c_2}{2} \rangle, \quad \langle \frac{b_2+c_2}{2}; c_2 \rangle$$

V aspoň jednom z nich leží nekonečne veľa členov  $\{a_n\}_{n=1}^{\infty}$ . Označme ho  $\langle b_3; c_3 \rangle$ . Pre jeho dĺžku platí  $c_3 - b_3 = \frac{d}{2^2} = \frac{d}{2^{3-1}}$ . Rozdeľme  $\langle b_3; c_3 \rangle$  na dva rovnaké intervaly atď.

Predpokladajme, že pre  $m \in \mathbb{N}$  máme zostrojený interval  $\langle b_m; c_m \rangle$ . Rozdeľme ho na dva rovnaké intervaly a symbolom  $\langle b_{m+1}; c_{m+1} \rangle$  označme ten z intervalov

$$\langle b_m; \frac{b_m + c_m}{2} \rangle, \quad \langle \frac{b_m + c_m}{2}; c_m \rangle$$

v ktorom leží nekonečne veľa členov  $a_n$ . Pre jeho dĺžku platí  $c_{m+1} - b_{m+1} = \frac{d}{2^m}$ .

Je zrejmé, že pre každé  $\varepsilon > 0$  existuje interval  $\langle b_m; c_m \rangle$  taký, že  $c_m - b_m < \frac{d}{2^{m-1}} < \varepsilon$ .

Potom (veta 2.1.9) existuje práve jeden bod  $a \in \bigcap_{m=1}^{\infty} \langle b_m; c_m \rangle$ .

Ak to zhrnieme, potom pre každé  $\varepsilon > 0$  existuje interval  $\langle b_m; c_m \rangle$ , v ktorom leží nekonečne veľa členov  $a_n$ , pre ktoré platí  $|a_n - a| \leq c_m - b_m < \varepsilon$ . To znamená, že  $a$  je hromadnou hodnotou postupnosti  $\{a_n\}_{n=1}^{\infty}$ . ■

### Dôsledok 2.3.1.a.

Ak je  $\{a_n\}_{n=1}^{\infty}$  ohraničená, potom má hromadnú hodnotu  $a \in \mathbb{R}$ . Ak je neohraničená zhora [resp. zdola], potom má hromadnú hodnotu  $\infty$  [resp.  $-\infty$ ].

Označme množinu všetkých hromadných hodnôt postupnosti  $\{a_n\}_{n=1}^{\infty}$  symbolom  $E$ . Suprémum  $E$  nazývame **limes superior (horná limita)**  $\{a_n\}_{n=1}^{\infty}$  a značíme  $\limsup_{n \rightarrow \infty} a_n$ . Infimum  $E$  nazývame **limes inferior (dolná limita)**  $\{a_n\}_{n=1}^{\infty}$  a označujeme  $\liminf_{n \rightarrow \infty} a_n$ .

### Príklad 2.3.4.

- $\{0, 1, 0, 1, 0, 1, \dots\}$  má dve hromadné hodnoty 0 a 1.
- $\{2n-1\}_{n=1}^{\infty} = \{1, 3, 5, 7, \dots\}$  má jednu nevlastnú hromadnú hodnotu  $\infty$ .
- $\{n, -n\}_{n=1}^{\infty} = \{1, -1, 2, -2, \dots\}$  má dve hromadné hodnoty  $\pm\infty$ .
- $\{n, \frac{1}{n}\}_{n=1}^{\infty} = \{1, 1, 2, \frac{1}{2}, 3, \frac{1}{3}, \dots\}$  má dve hromadné hodnoty 0 a  $\infty$ .
- $\{0, \frac{1}{n}\}_{n=1}^{\infty} = \{0, 1, 0, \frac{1}{2}, 0, \frac{1}{3}, \dots\}$  má jednu hromadnú hodnotu 0. ■

Bod  $a \in \mathbb{R}^*$  nazývame **limita postupnosti**  $\{a_n\}_{n=1}^{\infty}$ , ak je jedinou hromadnou hodnotou tejto postupnosti, t. j. ak  $a = \liminf_{n \rightarrow \infty} a_n = \limsup_{n \rightarrow \infty} a_n$ . Označujeme ju  $\lim_{n \rightarrow \infty} a_n = a$ .

Limitu  $a \in \mathbb{R}$  nazývame **vlastná limita** a hovoríme, že **postupnosť**  $\{a_n\}_{n=1}^{\infty}$  **konverguje k (číslu)  $a$** . Stručne to zapisujeme  $\{a_n\}_{n=1}^{\infty} \mapsto a$ . Ďalej hovoríme, že postupnosť  $\{a_n\}_{n=1}^{\infty}$  **konverguje (je konvergentná)** a označujeme  $\{a_n\}_{n=1}^{\infty} \mapsto$ .

Limitu  $a \pm \infty$  nazývame **nevlastná** a hovoríme, že **postupnosť**  $\{a_n\}_{n=1}^{\infty}$  **diverguje do  $\infty$ , resp.  $-\infty$** . Stručne to zapisujeme  $\{a_n\}_{n=1}^{\infty} \mapsto \infty$ , resp.  $\{a_n\}_{n=1}^{\infty} \mapsto -\infty$ .

Ak  $\lim_{n \rightarrow \infty} a_n$  neexistuje, potom hovoríme, že **postupnosť**  $\{a_n\}_{n=1}^{\infty}$  **osciluje**.

Ak postupnosť  $\{a_n\}_{n=1}^{\infty}$  diverguje do  $\pm\infty$  alebo osciluje, potom hovoríme, že **diverguje (je divergentná)** a zapisujeme  $\{a_n\}_{n=1}^{\infty} \not\mapsto$ .

### Príklad 2.3.5.

- Postupnosti  $\{0, 1, 0, 1, \dots\}$ ,  $\{n, -n\}_{n=1}^{\infty}$ ,  $\{n, \frac{1}{n}\}_{n=1}^{\infty}$  oscilujú.
- $\{\frac{1}{n}\}_{n=1}^{\infty} \mapsto 0$ , t. j.  $\lim_{n \rightarrow \infty} \frac{1}{n} = 0$ ,  $\{0, \frac{1}{n}\}_{n=1}^{\infty} \mapsto 0$ ,  $\{a\}_{n=1}^{\infty} \mapsto a$ ,
- $\{n^3\}_{n=1}^{\infty} \mapsto \infty$ , t. j.  $\lim_{n \rightarrow \infty} n^3 = \infty$ ,  $\{2n-1\}_{n=1}^{\infty} \mapsto \infty$ ,  $\{n^n\}_{n=1}^{\infty} \mapsto \infty$ . ■

Z definície vyplýva, že ak existuje limita postupnosti  $\{a_n\}_{n=1}^{\infty}$ , potom existuje jediná.

**Veta 2.3.2.**

$\lim_{n \rightarrow \infty} a_n = a \in R^* \Leftrightarrow$   
pre každé  $O(a)$  existuje  $n_0 \in N$  tak, že pre všetky  $n \in N, n \geq n_0$  platí  $a_n \in O(a)$ .

**Dôkaz.**

*NP $\Rightarrow$* : Sporom. Nech  $O(a)$  je také, že ku každému  $n_0 \in N$  existuje  $a_n \notin O(a), n \geq n_0$ . Potom existuje nekonečne veľa  $a_n \notin O(a)$ . Potom na základe dôkazu vety 2.3.1 má postupnosť  $\{a_n\}_{n=1}^{\infty}$  ďalšiu hromadnú hodnotu  $b \neq a$ . To je spor s definíciou limity.

*PP $\Leftarrow$* : Je zrejmé, že  $a$  je hromadným bodom  $\{a_n\}_{n=1}^{\infty}$ . Ukážeme sporom, že je jediným. Ak  $b \neq a$  je hromadným bodom  $\{a_n\}_{n=1}^{\infty}$ , potom v každom okolí  $O(b)$  existuje nekonečne veľa  $a_n \in O(b)$ . Ak zvolíme  $O(b) \cap O(a) = \emptyset$ , potom neexistuje  $n_0$  také, aby pre všetky  $n \geq n_0$  platilo  $a_n \in O(a)$ . To je spor. ■

Z poznámky 2.3.1 a z predchádzajúcej vety vyplýva:

$$\begin{aligned} \lim_{n \rightarrow \infty} a_n = a \in R &\Leftrightarrow \forall \varepsilon > 0 \exists n_0 \in N \forall n \in N, n \geq n_0: a_n \in (a - \varepsilon; a + \varepsilon), \\ \lim_{n \rightarrow \infty} a_n = \infty &\Leftrightarrow \forall \alpha \in R \exists n_0 \in N \forall n \in N, n \geq n_0: \alpha < a_n, \\ \lim_{n \rightarrow \infty} a_n = -\infty &\Leftrightarrow \forall \alpha \in R \exists n_0 \in N \forall n \in N, n \geq n_0: a_n < \alpha. \end{aligned}$$

**Veta 2.3.3.**

$a \in R^*$  je hromadnou hodnotou  $\{a_n\}_{n=1}^{\infty} \Leftrightarrow$  existuje podpostupnosť  $\{a_{k_n}\}_{n=1}^{\infty} \mapsto a$ .

**Dôkaz.**

*NP $\Rightarrow$* : Nech  $a \in R^*$  je hromadnou hodnotou postupnosti  $\{a_n\}_{n=1}^{\infty}$ .

$a \in R \Rightarrow$  Pre každé  $k \in N$  existuje nekonečne veľa  $a_n$  takých, že  $|a_n - a| < \frac{1}{k}$ . Pre každé  $k$  vyberieme jeden z členov tak, aby jeho index bol väčší ako index predtým vybraného a označíme ho  $a_{k_n}$ . Z konštrukcie vyplýva, že  $\{a_{k_n}\}_{n=1}^{\infty} \mapsto a$ , t. j.  $\lim_{n \rightarrow \infty} a_{k_n} = a$ .

$a = \infty$  [resp.  $a = -\infty$ ]  $\Rightarrow$  Pre každé  $k \in N$  existuje nekonečne veľa  $a_n$  takých, že  $k < a_n$  [resp.  $a_n < k$ ]. Postupnosť  $\{a_{k_n}\}_{n=1}^{\infty} \mapsto \infty$ , [resp.  $\{a_{k_n}\}_{n=1}^{\infty} \mapsto -\infty$ ] zvolíme analogicky.

*PP $\Leftarrow$* : Vyplýva z definície hromadnej hodnoty a limity. ■

**Príklad 2.3.6.**

a)  $\{0, 1, 0, 1, \dots\}$  má dve hromadné hodnoty 0 a 1.

Vybrané postupnosti sú napríklad  $\{0, 0, \dots\} \mapsto 0, \{1, 1, \dots\} \mapsto 1$ .

b)  $\{\pm n, 0\}_{n=1}^{\infty} = \{1, -1, 0, 2, -2, 0, \dots\}$  má tri hromadné hodnoty  $\pm\infty, 0$ .

Platí napríklad  $\{-1, -2, -3, \dots\} \mapsto -\infty, \{0, 0, 0, \dots\} \mapsto 0, \{1, 2, 3, \dots\} \mapsto \infty$ . ■

V mnohých prípadoch môžeme o konvergencii postupnosti  $\{a_n\}_{n=1}^{\infty}$  rozhodnúť aj bez toho, aby sme poznali jej limitu. Táto skutočnosť vyplýva z axiómy o najmenšom hornom ohraničení. Základné kritérium je uvedené v nasledujúcej vete a uvádzame ho bez dôkazu.

**Veta 2.3.4 (Cauchy–Bolzanov princíp konvergencie).**

$\{a_n\}_{n=1}^{\infty}$  konverguje práve vtedy, ak ku každému  $\varepsilon > 0$  existuje  $n_0 \in N$  také, že pre všetky  $m, n \in N, n \geq n_0, m \geq n_0$  platí  $|a_m - a_n| < \varepsilon$ .

### 2.3.2 Prehľad základných tvrdení

V tejto časti sformulujeme a dokážeme niektoré jednoduché tvrdenia, ktoré nám uľahčia prácu s postupnosťami a hlavne s limitami postupností (reálnych čísel).

#### Veta 2.3.5.

Bod  $a \in R^*$  je hromadným bodom množiny  $A \subset R$  práve vtedy, ak existuje postupnosť  $\{a_n\}_{n=1}^{\infty}$ , kde  $a_n \in A$ ,  $a_n \neq a$  taká, že platí  $\lim_{n \rightarrow \infty} a_n = a$ .

#### Dôkaz.

Z poznámky 2.2.3 vyplýva, že bod  $a \in R^*$  je hromadným bodom množiny  $A \subset R$  práve vtedy, ak v každom jeho okolí leží nekonečne veľa bodov, ktoré sú rôzne od bodu  $a$ .

Na druhej strane je bod  $a$  hromadnou hodnotou postupnosti  $\{a_n\}_{n=1}^{\infty}$ . To znamená, že v každom jeho okolí leží nekonečne veľa bodov z tejto postupnosti, t. j. bodov  $a_n \in A$ ,  $a_n \neq a$ . Keďže uvedené tvrdenia sú ekvivalentné, dôkaz je ukončený. ■

#### Príklad 2.3.7.

Bod 0 je hromadným bodom intervalu  $(0; 2)$ , pretože  $\{\frac{1}{n}\}_{n=1}^{\infty} \mapsto 0$  a pre všetky  $n \in N$  platí  $\frac{1}{n} \neq 0$ ,  $\frac{1}{n} \in (0; 2)$ . ■

#### Veta 2.3.6.

Ak existuje  $n_0 \in N$  také, že pre všetky  $n \in N$ ,  $n \geq n_0$  platí  $a_n = b_n$ , potom majú postupnosti  $\{a_n\}_{n=1}^{\infty}$ ,  $\{b_n\}_{n=1}^{\infty}$  rovnaké hromadné hodnoty.

#### Dôkaz.

Ak  $a \in R^*$  je hromadnou hodnotou  $\{a_n\}_{n=1}^{\infty}$ , potom v každom okolí  $O(a)$  existuje nekonečne veľa bodov  $a_n = b_n$ . To znamená, že  $a$  je hromadným bodom  $\{b_n\}_{n=1}^{\infty}$ .

Ak  $b \in R^*$  je hromadnou hodnotou  $\{b_n\}_{n=1}^{\infty}$ , potom v každom okolí  $O(b)$  existuje nekonečne veľa bodov  $b_n = a_n$ . To znamená, že  $b$  je hromadnou hodnotou  $\{a_n\}_{n=1}^{\infty}$ . ■

#### Dôsledok 2.3.6.a.

Ak existuje  $n_0 \in N$  také, že pre všetky  $n \in N$ ,  $n \geq n_0$  platí  $a_n = b_n$ , potom (pokiaľ limity existujú) platí  $\lim_{n \rightarrow \infty} a_n = \lim_{n \rightarrow \infty} b_n$ .

#### Poznámka 2.3.2.

Z vety 2.3.6 vyplýva, že **konečný počet členov neovplyvní konvergenciu, resp. divergenciu postupnosti**, t. j. nemá vplyv na chovanie postupnosti. Prakticky to znamená, že podmienky platia až od nejakého  $n_0$  (platia pre  $n \in N$ ,  $n \geq n_0$ ). T. j. existuje  $n_0 \in N$  také, že pre všetky  $n \in N$ ,  $n \geq n_0$  platia podmienky.

V budúcnosti budeme predpoklady a tvrdenia formulovať v zjednodušenom tvare **pre všetky  $a_n$  okrem konečného počtu členov** a zapisovať **o.k.p.**

#### Veta 2.3.7.

$\lim_{n \rightarrow \infty} a_n = a \in R^* \Leftrightarrow$  pre každú podpostupnosť  $\{a_{k_n}\}_{n=1}^{\infty}$  platí  $\lim_{n \rightarrow \infty} a_{k_n} = a$ .

#### Dôkaz.

$NP \Rightarrow$ : Sporom. Nech existuje podpostupnosť  $\{a_{k_n}\}_{n=1}^{\infty} \mapsto b$ , kde  $b \neq a$ .

Z vety 2.3.3 vyplýva, že  $b$  je hromadnou hodnotou  $\{a_n\}_{n=1}^{\infty}$ . To znamená, že  $\{a_n\}_{n=1}^{\infty}$  má dve rôzne hromadné hodnoty a nemá limitu. To je spor.

$PP_{\Leftarrow}$ : Z vety 2.3.3 vyplýva, že  $a$  je jedinou hromadnou hodnotou, t. j.  $\lim_{n \rightarrow \infty} a_n = a$ . ■

#### Dôsledok 2.3.7.a.

$\lim_{n \rightarrow \infty} a_n = a \Rightarrow$  pre všetky  $k \in \mathbb{N}$  platí  $\lim_{n \rightarrow \infty} a_n = \lim_{n \rightarrow \infty} a_{n+k} = a$ .

#### Dôsledok 2.3.7.b.

Ak existujú vybrané postupnosti také, že  $\lim_{n \rightarrow \infty} a_{k_n} \neq \lim_{n \rightarrow \infty} a_{l_n} \Rightarrow \lim_{n \rightarrow \infty} a_n$  neexistuje.

#### Príklad 2.3.8.

a) Postupnosť  $\{a_n\}_{n=1}^{\infty} = \{(-1)^n\}_{n=1}^{\infty} = \{-1, 1, -1, 1, \dots\}$  osciluje, pretože vybrané postupnosti  $\{-1\}_{n=1}^{\infty} \mapsto -1$ ,  $\{1\}_{n=1}^{\infty} \mapsto 1$ .

b) Bod 0 je jediná hromadná hodnota postupnosti  $\{\frac{1}{n}\}_{n=1}^{\infty}$ , t. j.  $\lim_{n \rightarrow \infty} \frac{1}{n} = 0$ . ■

#### Veta 2.3.8.

$\{a_n\}_{n=1}^{\infty} \mapsto \Rightarrow \{a_n\}_{n=1}^{\infty}$  je ohraničená.

#### Dôkaz.

Sporom. Nech  $\{a_n\}_{n=1}^{\infty}$  konverguje a nie je ohraničená.

Ak  $\{a_n\}_{n=1}^{\infty}$  nie je ohraničená zhora, potom z dôsledku 2.3.1.a vyplýva, že  $\infty$  je jej hromadným bodom. To je spor s konvergenciou a znamená, že  $\{a_n\}_{n=1}^{\infty}$  je ohraničená.

Ak  $\{a_n\}_{n=1}^{\infty}$  nie je ohraničená zdola, dôkaz je analogický. ■

Opačné tvrdenie neplatí. Ohraničená postupnosť nemusí konvergovať. Napríklad postupnosť  $\{-1, 1, -1, 1, \dots\} = \{(-1)^n\}_{n=1}^{\infty}$  je ohraničená, ale nekonverguje.

#### Veta 2.3.9 (Bolzano–Weierstrass).

Z každej ohraničenej postupnosti  $\{a_n\}_{n=1}^{\infty}$  sa dá vybrať konvergentná podpostupnosť.

#### Dôkaz.

Z vety 2.3.1 vyplýva, že  $\{a_n\}_{n=1}^{\infty}$  má aspoň jednu reálnu hromadnú hodnotu  $a$ . Z vety 2.3.3 vyplýva existencia vybranej postupnosti, ktorá konverguje k  $a$ . ■

#### Veta 2.3.10.

$\{a_n\}_{n=1}^{\infty}$  je monotónna  $\Rightarrow$  existuje  $\lim_{n \rightarrow \infty} a_n \in \mathbb{R}^*$ .

Ak je postupnosť  $\{a_n\}_{n=1}^{\infty}$  ohraničená, potom je jej limita reálne číslo a ak nie je ohraničená potom má nevlastnú limitu  $\infty$  (v prípade neklesajúcej postupnosti) alebo  $-\infty$  (v prípade nerastúcej postupnosti).

Základom pre výpočet zložitejších limít a zjednodušenie tohto výpočtu je použitie nasledujúcich dvoch viet a ich dôsledkov.

#### Veta 2.3.11.

$c \in \mathbb{R}$ ,  $\lim_{n \rightarrow \infty} a_n = a \in \mathbb{R}^*$ ,  $\lim_{n \rightarrow \infty} b_n = b \in \mathbb{R}^*$   $\xrightarrow{\text{ak majú príslušné výrazy zmysel}}$

$$\lim_{n \rightarrow \infty} (c \cdot a_n) = c \cdot \lim_{n \rightarrow \infty} a_n = c \cdot a, \quad \lim_{n \rightarrow \infty} (a_n \pm b_n) = \lim_{n \rightarrow \infty} a_n \pm \lim_{n \rightarrow \infty} b_n = a \pm b,$$



$$\lim_{n \rightarrow \infty} |a_n| = \left| \lim_{n \rightarrow \infty} a_n \right| = |a|, \quad \lim_{n \rightarrow \infty} (a_n \cdot b_n) = \lim_{n \rightarrow \infty} a_n \cdot \lim_{n \rightarrow \infty} b_n = a \cdot b,$$

$$\lim_{n \rightarrow \infty} \frac{1}{b_n} = \frac{1}{\lim_{n \rightarrow \infty} b_n} = \frac{1}{b}, \quad \lim_{n \rightarrow \infty} \frac{a_n}{b_n} = \frac{\lim_{n \rightarrow \infty} a_n}{\lim_{n \rightarrow \infty} b_n} = \frac{a}{b}.$$

**Veta 2.3.12.**

$a_n \leq b_n$  pre všetky  $n \in N$  o.k.p.  $\xrightarrow{\text{ak limity existujú}}$   $\lim_{n \rightarrow \infty} a_n \leq \lim_{n \rightarrow \infty} b_n$ .

Tvrdenie vety sa nezmení, ak nahradíme výraz  $a_n \leq b_n$  výrazom  $a_n < b_n$ . Napríklad pre všetky  $n \in N$  platí  $\frac{1}{2n} < \frac{1}{n}$ , ale  $\lim_{n \rightarrow \infty} \frac{1}{2n} = \lim_{n \rightarrow \infty} \frac{1}{n} = 0$ .

**Dôsledok 2.3.12.a (Veta o zovretí).**

$a_n \leq c_n \leq b_n$  pre všetky  $n \in N$  o.k.p.,  $\lim_{n \rightarrow \infty} a_n = \lim_{n \rightarrow \infty} b_n = a \in R^* \Rightarrow$  existuje  $\lim_{n \rightarrow \infty} c_n = a$ .

**Dôkaz.**

Vyplýva z nerovností  $\lim_{n \rightarrow \infty} a_n \leq \liminf_{n \rightarrow \infty} c_n \leq \limsup_{n \rightarrow \infty} c_n \leq \lim_{n \rightarrow \infty} b_n = \lim_{n \rightarrow \infty} a_n$ . ■

**Veta 2.3.13.**

$\lim_{n \rightarrow \infty} a_n < \lim_{n \rightarrow \infty} b_n \Rightarrow a_n < b_n$  pre všetky  $n \in N$  o.k.p.

**Dôkaz.**

Označme  $\lim_{n \rightarrow \infty} a_n = a$ ,  $\lim_{n \rightarrow \infty} b_n = b$ ,  $a < b$ . Potom existujú okolia  $O(a) \cap O(b) = \emptyset$ .

Z vety 2.3.2 vyplýva, že existujú  $n_1, n_2 \in N$  také, že pre všetky  $n \geq n_1$ :  $a_n \in O(a)$  a pre všetky  $n \geq n_2$ :  $b_n \in O(b)$ . Potom pre všetky  $n \geq n_0 = \max\{n_1, n_2\}$  platí  $a_n < b_n$ . ■

**Príklad 2.3.9.**

Vypočítajte  $\lim_{n \rightarrow \infty} n^q$ , kde  $q \in R$ .

**Riešenie.**

$$q = 0 \Rightarrow \lim_{n \rightarrow \infty} n^q = \lim_{n \rightarrow \infty} n^0 = \lim_{n \rightarrow \infty} 1 = 1.$$

$$q > 0 \Rightarrow \text{je postupnosť } \{n^q\}_{n=1}^{\infty} \text{ rastúca a neohraničená zhora} \Rightarrow \lim_{n \rightarrow \infty} n^q = \infty.$$

$$q < 0 \Rightarrow -q > 0 \Rightarrow \lim_{n \rightarrow \infty} n^q = \lim_{n \rightarrow \infty} \frac{1}{n^{-q}} = \frac{1}{\lim_{n \rightarrow \infty} n^{-q}} = \frac{1}{\infty} = 0. \blacksquare$$

Ak niektorý z čiastkových výrazov nemá zmysel, neznamená to ešte, že daná limita neexistuje. V tomto prípade musíme nájsť limitu iným spôsobom. Niekedy pomôže vhodná úprava výrazu, ktorým je daná postupnosť definovaná.

**Príklad 2.3.10.**

a)  $\lim_{n \rightarrow \infty} (-1)^n, \lim_{n \rightarrow \infty} (-1)^{n+1}$  neexistujú, ale existujú:

$$\lim_{n \rightarrow \infty} [(-1)^n + (-1)^{n+1}] = \lim_{n \rightarrow \infty} 0 = 0, \quad \lim_{n \rightarrow \infty} \frac{(-1)^n}{(-1)^n} = \lim_{n \rightarrow \infty} |(-1)^n| = \lim_{n \rightarrow \infty} 1 = 1.$$

b)  $\lim_{n \rightarrow \infty} n^2 = \lim_{n \rightarrow \infty} n = \infty \Rightarrow \lim_{n \rightarrow \infty} (n^2 - n) = \lim_{n \rightarrow \infty} n^2 - \lim_{n \rightarrow \infty} n = \infty - \infty$  nemá zmysel.

Limita ale existuje pretože  $\lim_{n \rightarrow \infty} (n^2 - n) = \lim_{n \rightarrow \infty} n \cdot \lim_{n \rightarrow \infty} (n-1) = \infty \cdot \infty = \infty$ . ■

**Príklad 2.3.11.**

- a)  $\lim_{n \rightarrow \infty} \frac{n^2+n}{n^3-2} = \lim_{n \rightarrow \infty} \frac{n^3(n^{-1}+n^{-2})}{n^3(1-2n^{-3})} = \lim_{n \rightarrow \infty} \frac{n^{-1}+n^{-2}}{1-2n^{-3}} = \frac{0+0}{1-0} = 0.$
- b)  $\lim_{n \rightarrow \infty} \frac{n^3-2}{n^2+n} = \lim_{n \rightarrow \infty} \frac{n^2(n-2n^{-2})}{n^2(1+n^{-1})} = \lim_{n \rightarrow \infty} \frac{n-2n^{-2}}{1+n^{-1}} = \frac{\infty-0}{1+0} = \infty.$
- c)  $\lim_{n \rightarrow \infty} \frac{n^4-n^3}{n^2+n} = \lim_{n \rightarrow \infty} \frac{n^4(1-n^{-1})}{n^2(1+n^{-1})} = \lim_{n \rightarrow \infty} n^2 \cdot \lim_{n \rightarrow \infty} \frac{1-n^{-1}}{1+n^{-1}} = \infty \cdot \frac{1-0}{1+0} = \infty \cdot 1 = \infty.$
- d)  $\lim_{n \rightarrow \infty} \frac{n^2+n}{n^2-2} = \lim_{n \rightarrow \infty} \frac{n^2(1+n^{-1})}{n^2(1-2n^{-2})} = \lim_{n \rightarrow \infty} \frac{1+n^{-1}}{1-2n^{-2}} = \frac{1+0}{1-0} = 1. \blacksquare$

Limitu môžeme vypočítať rôznymi spôsobmi. Musíme si dávať pozor, aby sme nedostali nedefinované výrazy, ako napríklad v limite z príkladu 2.3.11 c):

$$\lim_{n \rightarrow \infty} \frac{n^4-n^3}{n^2+n} = \lim_{n \rightarrow \infty} \frac{n^2(n^2-n)}{n^2(1+n^{-1})} = \lim_{n \rightarrow \infty} \frac{n^2-n}{1+n^{-1}} = \frac{\infty-\infty}{1+0} = \infty - \infty.$$

**Veta 2.3.14.**

$$\lim_{n \rightarrow \infty} a_n = 0 \Leftrightarrow \lim_{n \rightarrow \infty} |a_n| = 0.$$

**Dôkaz.**

*NP* ⇒: Vyplýva z vety 2.3.11.

$$PP \Leftarrow: 0 = - \lim_{n \rightarrow \infty} |a_n| = \lim_{n \rightarrow \infty} (-|a_n|) \leq \lim_{n \rightarrow \infty} a_n \leq \lim_{n \rightarrow \infty} |a_n| = 0 \Rightarrow \lim_{n \rightarrow \infty} a_n = 0. \blacksquare$$

**Príklad 2.3.12.**

- a)  $\lim_{n \rightarrow \infty} [\sqrt{n+1} - n] = \lim_{n \rightarrow \infty} \sqrt{n} [\sqrt{1+n^{-1}} - \sqrt{n}] = \infty \cdot (1 - \infty) = -\infty.$
- b)  $\lim_{n \rightarrow \infty} [\sqrt{n+1} - \sqrt{n}] = \lim_{n \rightarrow \infty} [\sqrt{n+1} - \sqrt{n}] \cdot \frac{\sqrt{n+1} + \sqrt{n}}{\sqrt{n+1} + \sqrt{n}} =$   
 $= \lim_{n \rightarrow \infty} \frac{n+1-n}{\sqrt{n+1} + \sqrt{n}} = \lim_{n \rightarrow \infty} \frac{1}{\sqrt{n+1} + \sqrt{n}} = \frac{1}{\infty + \infty} = \frac{1}{\infty} = 0.$
- c)  $\lim_{n \rightarrow \infty} [\sqrt{n+1} - n] = \lim_{n \rightarrow \infty} [\sqrt{n+1} - n] \cdot \frac{\sqrt{n+1} + n}{\sqrt{n+1} + n} = \lim_{n \rightarrow \infty} \frac{n+1-n^2}{\sqrt{n+1} + n} =$   
 $= \lim_{n \rightarrow \infty} \frac{n}{n} \frac{1+n^{-1}-n}{\sqrt{n^{-1}+n^{-2}}+1} = \frac{1+0-\infty}{0+1} = -\infty. \blacksquare$

**Príklad 2.3.13.**

Vypočítajte limitu **geometrickej postupnosti**  $\lim_{n \rightarrow \infty} a^n$ , kde  $a \in \mathbb{R}$ .

**Riešenie.**

$$a > 1 \Rightarrow a^n \mapsto \infty, \quad a = 1 \Rightarrow a^n = 1, \quad a \in (-1; 1) \Rightarrow a^n \mapsto 0,$$

$$a = -1 \Rightarrow a^n = a^{2k} \mapsto 1, \quad a^n = a^{2k-1} \mapsto -1 \Rightarrow \text{limita neexistuje,}$$

$$a < -1 \Rightarrow a^n = a^{2k} \mapsto \infty, \quad a^n = a^{2k-1} \mapsto -\infty \Rightarrow \text{limita neexistuje.}$$

$$\Rightarrow \lim_{n \rightarrow \infty} a^n = \begin{cases} \nexists, & \text{pre } a \in (-\infty; -1), \\ \infty, & \text{pre } a \in (1; \infty), \end{cases} \quad \lim_{n \rightarrow \infty} a^n = \begin{cases} 0, & \text{pre } a \in (-1; 1), \\ 1, & \text{pre } a = 1. \end{cases} \blacksquare$$

Nasledujúce dve vety nám môžu uľahčiť výpočet limit.

**Veta 2.3.15.**

$$a_n > 0 \text{ pre všetky } n \in \mathbb{N} \text{ o.k.p.} \xrightarrow{\text{ak limity existujú}} \lim_{n \rightarrow \infty} \sqrt[n]{a_n} = \lim_{n \rightarrow \infty} \frac{a_{n+1}}{a_n}.$$

**Veta 2.3.16.**

$a_n \geq 0$  pre všetky  $n \in N$  o.k.p.,  $\lim_{n \rightarrow \infty} \sqrt[n]{a_n} = a \in R^* \Rightarrow \lim_{n \rightarrow \infty} a_n = \begin{cases} 0, & \text{pre } a < 1, \\ \infty, & \text{pre } a > 1. \end{cases}$

**Dôkaz.**

$a < 1 \Rightarrow$  zvolíme  $q \in R: a < q < 1 \xrightarrow{\text{veta 2.3.13}} \text{existuje } n_0 \in N, \text{ že } \sqrt[n]{a_n} < q \text{ pre } n \geq n_0 \Rightarrow$

$$0 \leq a_n < q^n \Rightarrow 0 \leq \lim_{n \rightarrow \infty} a_n \leq \lim_{n \rightarrow \infty} q^n = 0 \Rightarrow \lim_{n \rightarrow \infty} a_n = 0.$$

$a > 1 \Rightarrow$  zvolíme  $q \in R: 1 < q < a \Rightarrow \text{existuje } n_0 \in N, \text{ že } q < \sqrt[n]{a_n} \text{ pre } n \geq n_0 \Rightarrow$

$$1 < q^n < a_n \Rightarrow \infty = \lim_{n \rightarrow \infty} q^n \leq \lim_{n \rightarrow \infty} a_n \Rightarrow \lim_{n \rightarrow \infty} a_n = \infty. \blacksquare$$

**Dôsledok 2.3.16.a.**

$a_n > 0$  pre všetky  $n \in N$  o.k.p.,  $\lim_{n \rightarrow \infty} \frac{a_{n+1}}{a_n} = a \in R^* \Rightarrow \lim_{n \rightarrow \infty} a_n = \begin{cases} 0, & \text{pre } a < 1, \\ \infty, & \text{pre } a > 1. \end{cases}$

Ak  $\lim_{n \rightarrow \infty} \frac{a_{n+1}}{a_n} = 1$ , resp.  $\lim_{n \rightarrow \infty} \sqrt[n]{a_n} = 1$ , potom vo všeobecnosti nevieme rozhodnúť o konvergencii postupnosti  $\{a_n\}_{n=1}^{\infty}$ . Napríklad pre  $\{\frac{1}{n}\}_{n=1}^{\infty}$ ,  $\{1\}_{n=1}^{\infty}$ ,  $\{n\}_{n=1}^{\infty}$  platí:

$$\lim_{n \rightarrow \infty} \frac{a_{n+1}}{a_n} = \lim_{n \rightarrow \infty} \sqrt[n]{a_n} = 1, \quad \text{ale } \lim_{n \rightarrow \infty} \frac{1}{n} = 0, \quad \lim_{n \rightarrow \infty} 1 = 1, \quad \lim_{n \rightarrow \infty} n = \infty.$$

Na záver tejto časti uvedieme bez výpočtu niektoré dôležité limity, na ktoré sa budeme v budúcnosti odvolávať, a vyriešime niektoré ukázkové príklady.

**Veta 2.3.17.**

Pre všetky  $a, b \in R, a > 0$  platí:<sup>12</sup>  $\lim_{n \rightarrow \infty} \sqrt[n]{a} = 1, \quad \lim_{n \rightarrow \infty} \sqrt[n]{n} = 1, \quad \lim_{n \rightarrow \infty} \sqrt[n]{n!} = \infty,$

$$\lim_{n \rightarrow \infty} \left(1 + \frac{1}{1!} + \frac{1}{2!} + \dots + \frac{1}{n!}\right) = e, \quad \lim_{n \rightarrow \infty} \left(1 + \frac{1}{n}\right)^n = e, \quad \lim_{n \rightarrow \infty} \left(1 + \frac{b}{n}\right)^n = e^b,$$

$$\lim_{n \rightarrow \infty} n \left(\sqrt[n]{e} - 1\right) = 1, \quad \lim_{n \rightarrow \infty} n \left(\sqrt[n]{a} - 1\right) = \ln a, \quad \lim_{n \rightarrow \infty} \frac{n!}{n^n} = 0.$$

**Príklad 2.3.14.**

a)  $\lim_{n \rightarrow \infty} \left(1 + \frac{1}{n}\right)^{2n} = \lim_{n \rightarrow \infty} \left[\left(1 + \frac{1}{n}\right)^n\right]^2 = \left[\lim_{n \rightarrow \infty} \left(1 + \frac{1}{n}\right)^n\right]^2 = e^2.$

b)  $\lim_{n \rightarrow \infty} \left(1 + \frac{1}{n}\right)^{n^2+1} = \lim_{n \rightarrow \infty} \left[\left(1 + \frac{1}{n}\right)^n\right]^{\frac{n^2+1}{n}} = \lim_{n \rightarrow \infty} \left[\left(1 + \frac{1}{n}\right)^n\right]^{\frac{n}{n} \left(n + \frac{1}{n}\right)} = e^\infty = \infty. \blacksquare$

**Príklad 2.3.15.**

Vypočítajte  $\lim_{n \rightarrow \infty} \frac{n^q}{a^n}$ , kde  $a > 0, q > 0$ .

**Riešenie.**

$$a \neq 1 \Rightarrow a_n = \frac{n^q}{a^n} \Rightarrow \frac{a_{n+1}}{a_n} = \frac{(n+1)^q a^n}{a^{n+1} n^q} = \frac{1}{a} \left(1 + \frac{1}{n}\right)^q \mapsto \frac{1}{a} \cdot 1^q = \frac{1}{a}.$$

$$a = 1 \Rightarrow \lim_{n \rightarrow \infty} \frac{n^q}{a^n} = \lim_{n \rightarrow \infty} n^q = \infty. \quad \Rightarrow \lim_{n \rightarrow \infty} a_n = \begin{cases} 0, & \text{pre } a > 1, \\ \infty, & \text{pre } a \leq 1. \end{cases} \blacksquare$$

**Príklad 2.3.16.**

Dokážte, že  $\lim_{n \rightarrow \infty} \frac{n}{\sqrt[n]{n!}} = e$ .

**Riešenie.**

$$a_n = \frac{n^n}{n!} \Rightarrow \sqrt[n]{a_n} = \frac{n}{\sqrt[n]{n!}}, \quad \frac{a_{n+1}}{a_n} = \frac{(n+1)^{n+1} n!}{(n+1)! n^n} = \frac{(n+1)^{n+1}}{(n+1)n^n} = \frac{(n+1)^n}{n^n} \Rightarrow$$

$$\lim_{n \rightarrow \infty} \frac{n}{\sqrt[n]{n!}} = \lim_{n \rightarrow \infty} \sqrt[n]{a_n} = \lim_{n \rightarrow \infty} \frac{a_{n+1}}{a_n} = \lim_{n \rightarrow \infty} \frac{(n+1)^n}{n^n} = \lim_{n \rightarrow \infty} \left(1 + \frac{1}{n}\right)^n = e. \blacksquare$$

<sup>12</sup>Číslo  $e$  nazývame **Eulerovo číslo**. Jeho hodnota je približne 2,718 281 827.

**Príklad 2.3.17.**

Dokážte, že pre všetky  $a \in \mathbb{R}$  platí  $\lim_{n \rightarrow \infty} \frac{a^n}{n!} = 0$ .

**Riešenie.**

$$\begin{aligned} \text{Zvoľme } k \in \mathbb{N}: \frac{|a|}{k} < 1 &\Rightarrow 0 < \frac{|a|^n}{n!} = \frac{1}{k!} \frac{|a|^n}{(k+1) \cdots n} < \frac{1}{k!} \frac{|a|^n}{k \cdots k} = \frac{1}{k!} \frac{k^k}{k^k} \frac{|a|^n}{k^{n-k}} = \frac{k^k}{k!} \left[ \frac{|a|}{k} \right]^n \Rightarrow \\ 0 \leq \lim_{n \rightarrow \infty} \frac{|a|^n}{n!} &\leq \lim_{n \rightarrow \infty} \frac{k^k}{k!} \left[ \frac{|a|}{k} \right]^n = \frac{k^k}{k!} \cdot \lim_{n \rightarrow \infty} \left[ \frac{|a|}{k} \right]^n = 0 \Rightarrow \lim_{n \rightarrow \infty} \frac{|a|^n}{n!} = \lim_{n \rightarrow \infty} \frac{a^n}{n!} = 0. \end{aligned}$$

**Iné riešenie.**

$$\begin{aligned} a_n = \frac{a^n}{n!} &\Rightarrow \sqrt[n]{|a_n|} = \sqrt[n]{\frac{|a|^n}{n!}} = \frac{|a|}{\sqrt[n]{n!}} \Rightarrow \\ \lim_{n \rightarrow \infty} \sqrt[n]{|a_n|} &= \lim_{n \rightarrow \infty} \frac{|a|}{\sqrt[n]{n!}} = \frac{|a|}{\infty} = 0 < 1 \Rightarrow \lim_{n \rightarrow \infty} |a_n| = \lim_{n \rightarrow \infty} a_n = \lim_{n \rightarrow \infty} \frac{a^n}{n!} = 0. \end{aligned}$$

**Iné riešenie.**

$$\begin{aligned} a_n = \frac{a^n}{n!} &\Rightarrow \left| \frac{a_{n+1}}{a_n} \right| = \left| \frac{a^{n+1}}{(n+1)!} \frac{n!}{a^n} \right| = \frac{|a|}{n+1} \Rightarrow \\ \lim_{n \rightarrow \infty} \left| \frac{a_{n+1}}{a_n} \right| &= \lim_{n \rightarrow \infty} \frac{|a|}{n+1} = \frac{|a|}{\infty} = 0 < 1 \Rightarrow \lim_{n \rightarrow \infty} |a_n| = \lim_{n \rightarrow \infty} a_n = \lim_{n \rightarrow \infty} \frac{a^n}{n!} = 0. \blacksquare \end{aligned}$$

**Príklad 2.3.18.**

Vypočítajte  $\lim_{n \rightarrow \infty} \frac{a^n n!}{n^n}$ , kde  $a \in \mathbb{R}$ ,  $a > 0$ ,  $a \neq e$ .

**Riešenie.**

$$\begin{aligned} a_n = \frac{a^n n!}{n^n} &\Rightarrow \frac{a_{n+1}}{a_n} = \frac{a^{n+1} (n+1)!}{(n+1)^{n+1}} \frac{n^n}{a^n n!} = \frac{a}{n+1} \frac{n^n}{n^n} = a \left( \frac{n}{n+1} \right)^n \Rightarrow \\ \lim_{n \rightarrow \infty} \frac{a_{n+1}}{a_n} &= a \lim_{n \rightarrow \infty} \left[ \left( \frac{n}{n+1} \right)^n \right]^{-1} = \frac{a}{e} \Rightarrow \lim_{n \rightarrow \infty} a_n = \begin{cases} 0, & \text{pre } a < e, \\ \infty, & \text{pre } a > e. \end{cases} \blacksquare \end{aligned}$$

**Príklad 2.3.19.**

- a)  $\lim_{n \rightarrow \infty} \frac{2^{2n+3n}}{2^{n+1} + 3^{n+1}} = \lim_{n \rightarrow \infty} \frac{3^n \cdot \left(\frac{2}{3}\right)^{n+1}}{3^n \cdot 2 \left(\frac{2}{3}\right)^{n+3}} = 1 \cdot \frac{0+1}{2 \cdot 0+3} = \frac{1}{3}$ .
- b)  $\lim_{n \rightarrow \infty} \left[ \frac{n}{2} - \frac{1+\dots+n}{n+2} \right] = \lim_{n \rightarrow \infty} \left[ \frac{n}{2} - \frac{n(n+1)}{2(n+2)} \right] = \lim_{n \rightarrow \infty} \frac{n}{2(n+2)} = \lim_{n \rightarrow \infty} \frac{1}{2+\frac{2}{n}} = \frac{1}{2}$ .
- c)  $\lim_{n \rightarrow \infty} \sqrt[n]{3^n - 2^n} = \lim_{n \rightarrow \infty} \sqrt[n]{3^n \left[ 1 - \left(\frac{2}{3}\right)^n \right]} = \lim_{n \rightarrow \infty} 3 \sqrt[n]{1 - \left(\frac{2}{3}\right)^n} = 3 \cdot 1 = 3. \blacksquare$

**Príklad 2.3.20.**

Vypočítajte limitu  $\{a_n\}_{n=1}^{\infty}$  zadanej rekurentne  $a_1 = 1$ ,  $a_{n+1} = \sqrt{a_n + 6}$ .

**Riešenie.**

$$\begin{aligned} \lim_{n \rightarrow \infty} a_n = a &\Rightarrow a^2 = \lim_{n \rightarrow \infty} a_n^2 = \lim_{n \rightarrow \infty} a_{n+1}^2 = \lim_{n \rightarrow \infty} (a_n + 6) = a + 6 \Rightarrow a^2 = a + 6 \Rightarrow \\ a^2 - a - 6 &= (a-3)(a+2) = 0 \Rightarrow a = -2 \text{ alebo } a = 3 \Rightarrow \lim_{n \rightarrow \infty} a_n = 3 \text{ (pokiaľ existuje)}. \end{aligned}$$

Ešte musíme ukázať, že existuje  $\lim_{n \rightarrow \infty} a_n$ , t. j. že  $\{a_n\}_{n=1}^{\infty}$  konverguje.

$$\begin{aligned} a_1 = 1 &\Rightarrow a_2 = \sqrt{1+6} < \sqrt{3+6} = 3 \Rightarrow a_3 = \sqrt{a_2+6} < \sqrt{3+6} = 3 \Rightarrow \dots \Rightarrow \\ a_n &= \sqrt{a_{n-1}+6} < \sqrt{3+6} = 3, n \in \mathbb{N} \Rightarrow \{a_n\}_{n=1}^{\infty} \text{ je ohraničená zhora.} \end{aligned}$$

$$\begin{aligned} a_n > 0, a_n < 3, n \in \mathbb{N} &\Rightarrow a_n^2 - a_{n+1}^2 = a_n^2 - a_n - 6 = (a_n - 3)(a_n + 2) < 0 \Rightarrow \\ a_n^2 &< a_{n+1}^2 \Rightarrow a_n < a_{n+1} \Rightarrow \{a_n\}_{n=1}^{\infty} \text{ je rastúca.} \end{aligned}$$

$$\{a_n\}_{n=1}^{\infty} \text{ je rastúca, zhora ohraničená} \Rightarrow \{a_n\}_{n=1}^{\infty} \rightarrow \lim_{n \rightarrow \infty} a_n = 3. \blacksquare$$

**Príklad 2.3.21.**

Vypočítajte limitu  $\{a_n\}_{n=1}^{\infty} = \{0, 2; 0, 23; 0, 233; \dots\}$ , t. j. vyjadrite  $0, \overline{23}$  ako zlomok.

**Riešenie.**

$$q=0, 1 < 1 \Rightarrow a_1=0, 2 \Rightarrow a_2=0, 2+0, 03 \Rightarrow a_3=0, 2+0, 03+0, 003=0, 2+0, 03(1+q) \Rightarrow$$

$$a_n = 0, 2 + 0, 03(1 + q + \dots + q^{n-2}) = 0, 2 + 0, 03 \frac{1-q^{n-1}}{1-q}, n \in N \Rightarrow$$

$$\lim_{n \rightarrow \infty} a_n = \lim_{n \rightarrow \infty} [0, 2 + 0, 03 \frac{1-q^{n-1}}{1-q}] = 0, 2 + 0, 03 \frac{1}{1-q} = 0, 2 + \frac{0,03}{0,9} = \frac{7}{30} \Rightarrow 0, \overline{23} = \frac{7}{30}. \blacksquare$$

**Cvičenia**

**2.3.1.** Nájdite množinu hromadných hodnôt postupnosti  $\{a_n\}_{n=1}^{\infty}$ , ak: ♣

- $a_n = 2/(n+3)$  pre  $n$  nepárne a  $a_n = 3^{-n}$  pre  $n$  párne,
- $a_n = (n+1)/(n-1)$  pre  $n$  nepárne a  $a_n = 3^n/(1+3^n)$  pre  $n$  párne,
- $a_n = 1 + 3^{-n}$  pre  $n$  nepárne a  $a_n = n/(n+1)$  pre  $n$  párne,
- $a_n = n/(2n+3)$  pre  $n$  nepárne a  $a_n = (2n+3)/n$  pre  $n$  párne.

**2.3.2.** Nech  $\{a_n\}_{n=1}^{\infty} \mapsto, \{b_n\}_{n=1}^{\infty} \not\mapsto$ . Zistite, či  $\{a_n \pm b_n\}_{n=1}^{\infty}, \{a_n b_n\}_{n=1}^{\infty}, \{a_n/b_n\}_{n=1}^{\infty}, \{b_n/a_n\}_{n=1}^{\infty}, \{1/(a_n b_n)\}_{n=1}^{\infty}$  konvergujú alebo divergujú. Uveďte príklady. ♣

**2.3.3.** Nech  $\{a_n\}_{n=1}^{\infty} \not\mapsto, \{b_n\}_{n=1}^{\infty} \not\mapsto$ . Zistite, či  $\{a_n \pm b_n\}_{n=1}^{\infty}, \{a_n b_n\}_{n=1}^{\infty}, \{a_n/b_n\}_{n=1}^{\infty}, \{1/(a_n b_n)\}_{n=1}^{\infty}$  konvergujú alebo divergujú. Uveďte príklady. ♣

**2.3.4.** Nájdite postupnosti  $\{a_n\}_{n=1}^{\infty}, \{b_n\}_{n=1}^{\infty}$ , pre ktoré platí: ♣

- $\lim_{n \rightarrow \infty} a_n b_n = 0, \lim_{n \rightarrow \infty} a_n \neq 0, \lim_{n \rightarrow \infty} b_n \neq 0,$     b)  $\lim_{n \rightarrow \infty} a_n = \lim_{n \rightarrow \infty} b_n = 0, \lim_{n \rightarrow \infty} \frac{a_n}{b_n} \neq 1,$
- $\lim_{n \rightarrow \infty} a_n = \lim_{n \rightarrow \infty} b_n = 0, \lim_{n \rightarrow \infty} a_n b_n = \infty,$     d)  $\lim_{n \rightarrow \infty} \frac{a_n}{b_n} = 1, \lim_{n \rightarrow \infty} (a_n - b_n) \neq 0.$

**2.3.5.** Dokážte, že  $\{a_n\}_{n=1}^{\infty}$  zadaná rekurentne  $a_{n+1} = 1 + a_n - n, a_1 = 1$  je nerastúca a ohraničená zhora. Nájdite všeobecný vzorec pre člen  $a_n$  a vypočítajte jej limitu. ♣

**2.3.6.** Nájdite rekurentné vyjadrenie pre člen  $a_n, n \in N$  postupnosti  $\{a_n\}_{n=1}^{\infty}$ : ♣

- $\{2^n + 3\}_{n=1}^{\infty},$     b)  $\{1 + (-1)^n\}_{n=1}^{\infty},$     c)  $\{1 - n\}_{n=1}^{\infty},$     d)  $\{n^{-1}\}_{n=1}^{\infty}.$

**2.3.7.** Nájdite všeobecný vzorec pre  $n$ -tý člen postupnosti  $\{a_n\}_{n=1}^{\infty}$  zadanej rekurentne: ♣

- $a_1 = 1, a_{n+1} = a_n + 1,$     b)  $a_1 = 1, a_{n+1} = -a_n,$     c)  $a_1 = 1, a_{n+1} = 2(n+1)a_n,$

**2.3.8.** Nájdite množiny hromadných hodnôt postupností: ♣

- $\{(-1)^n \sqrt[n]{n}\}_{n=1}^{\infty},$     b)  $\{(-n)^{-n}\}_{n=1}^{\infty},$     c)  $\{(-1)^n\}_{n=1}^{\infty},$     d)  $\{n^{-2n}\}_{n=1}^{\infty},$
- $\{n + (-1)^n\}_{n=1}^{\infty},$     f)  $\{(-n)^n\}_{n=1}^{\infty},$     g)  $\{(-1)^n(\sqrt{n^2+1} - n)\}_{n=1}^{\infty}.$

**2.3.9.** Nech  $\{S_n\}_{n=1}^{\infty}$  je postupnosť štvorcov, kde  $S_1$  je štvorec so stranou  $a_1 = a > 0$  a štvorec  $S_n, n \geq 2$  má vrcholy umiestnené v stredoch strán štvorca  $S_{n-1}$ . ♣

- Určte všeobecný vzorec pre dĺžku strany  $a_n$  štvorca  $S_n, n \in N.$
- Určte súčet obvodov štvorcov  $S_n.$     c) Určte súčet obsahov štvorcov  $S_n.$

**2.3.10.** Určte, ktoré z nasledujúcich rekurentne zadaných postupností konvergujú: ♣

- a)  $a_0 = 1, a_{n+1} = \sqrt{\sqrt{a_n + 1}},$                       b)  $a_0 = 11, a_{n+1} = \sqrt{a_n + 5},$   
 c)  $a_0 = 2, a_{n+1} = \frac{a_n^2 + 1}{2},$                       d)  $a_0 = 1, a_{n+1} = \frac{a_n^2 + 1}{2},$   
 e)  $a_0 = 0, a_{n+1} = e^{1-a_n},$                       f)  $a_0 = 2, a_{n+1} = e^{1-a_n},$

**2.3.11.** Vypočítajte  $\lim_{n \rightarrow \infty} a_n,$  kde postupnosť  $\{a_n\}_{n=1}^{\infty}$  je rekurentne zadaná vzťahmi: ♣

- a)  $a_{n+1} = \sqrt{a_n + 2}, a_0 > 0,$                       b)  $a_{n+1} = \sqrt{a_n + 12}, a_0 > 0,$   
 c)  $a_{n+1} = \sqrt{a_n + 20}, a_0 > 0,$                       d)  $a_{n+1} = \frac{a_n^2 + 1}{2}, a_0 \in \langle -1; 1 \rangle,$   
 e)  $a_{n+1} = e^{1-a_n}, a_0 \in \mathbb{R}.$                       f)  $a_{n+1} = \frac{a_n^2 + 4}{4}, a_0 \in \langle -1; 1 \rangle,$   
 g)  $a_{n+1} = \frac{a_n}{2+a_n}, a_0 > 0,$                       h)  $a_{n+1} = 1 + a_n^{-1}, a_0 = 1,$

**2.3.12.** Určte  $\liminf_{n \rightarrow \infty} a_n$  a  $\limsup_{n \rightarrow \infty} a_n,$  ak pre všetky  $n \in \mathbb{N}$  platí: ♣

- a)  $a_n = \frac{n \sin n!}{n^2 + 1},$                       b)  $a_n = \frac{n \cos n!}{n^2 + 1},$                       c)  $a_n = \frac{n \sin n!}{n^2 - 1},$                       d)  $a_n = \frac{n \cos n!}{n^2 - 1}.$

**2.3.13.** Určte limity nasledujúcich postupností (vyjadrite periodické čísla ako zlomky): ♣

- a)  $\{0, 1; 0, 13; 0, 135; 0, 1355; \dots\},$                       b)  $\{0, 5; 0, 53; 0, 533; 0, 5333; \dots\},$   
 c)  $\{0, 9; 0, 99; 0, 999; 0, 9999; \dots\},$                       d)  $\{0, 5; 0, 50; 0, 505; 0, 5050; \dots\},$   
 e)  $\{0, 6; 0, 66; 0, 666; 0, 6666; \dots\},$                       f)  $\{0, 1; 0, 12; 0, 121; 0, 1212; \dots\}.$

**2.3.14.** Určte  $a \in \mathbb{R}$  tak, aby nasledujúce limity boli vlastné: ♣

- a)  $\lim_{n \rightarrow \infty} \frac{n^a + 5}{1 + n^3},$                       b)  $\lim_{n \rightarrow \infty} \left[ a + \frac{1}{n} \right]^n,$                       c)  $\lim_{n \rightarrow \infty} \left[ \frac{a+1}{3} \right]^n,$                       d)  $\lim_{n \rightarrow \infty} \frac{1 - a^n}{1 + a^n}.$

**2.3.15.** Nájdite všetky čísla  $a, b \in \mathbb{R}$  tak, aby platilo: ♣

- a)  $\lim_{n \rightarrow \infty} \left[ \frac{n}{n+2} + an + b \right] = 0,$                       b)  $\lim_{n \rightarrow \infty} \left[ \frac{n^2}{n+2} + an + b \right] = 0,$                       c)  $\lim_{n \rightarrow \infty} \left[ \frac{n^a}{n^2+1} + bn \right] = 0.$

**2.3.16.** Vypočítajte nasledujúce limity: ♣

- a)  $\lim_{n \rightarrow \infty} \frac{n^2 + 1}{n^2 - 1},$                       b)  $\lim_{n \rightarrow \infty} \frac{(n+1)^2}{n^2 + 1},$                       c)  $\lim_{n \rightarrow \infty} \frac{5n^2}{1 - n^2},$                       d)  $\lim_{n \rightarrow \infty} \frac{2n}{n^2 + 1},$   
 e)  $\lim_{n \rightarrow \infty} \frac{1+2+\dots+n}{\sqrt{9n^4+1}},$                       f)  $\lim_{n \rightarrow \infty} \frac{1^2+2^2+\dots+n^2}{n^3},$                       g)  $\lim_{n \rightarrow \infty} \frac{1^2+3^2+\dots+(2n-1)^2}{n^3}.$

**2.3.17.** Vypočítajte nasledujúce limity: ♣

- a)  $\lim_{n \rightarrow \infty} \frac{n^4 - n + 1}{2n^2 + 1},$                       b)  $\lim_{n \rightarrow \infty} \frac{n^4 - n + 1}{2n^4 + 1},$                       c)  $\lim_{n \rightarrow \infty} \frac{n^4 - n + 1}{2n^6 + 1},$   
 d)  $\lim_{n \rightarrow \infty} \left[ \frac{n^2}{n+2} - \frac{n^2}{n+3} \right],$                       e)  $\lim_{n \rightarrow \infty} \left[ \frac{2n^2}{n+2} - 2n \right],$                       f)  $\lim_{n \rightarrow \infty} \frac{5n^2 - 3n + 2}{3n^2 - n + 1},$   
 g)  $\lim_{n \rightarrow \infty} \left[ n - \frac{n^2}{n+1} \right],$                       h)  $\lim_{n \rightarrow \infty} \frac{n^4 - 3n^2 + 2}{n^2 + 1},$                       i)  $\lim_{n \rightarrow \infty} \left[ \frac{n^2}{n-1} - \frac{n^2 + 1}{n+3} \right].$

**2.3.18.** Vypočítajte nasledujúce limity: ♣

- a)  $\lim_{n \rightarrow \infty} \frac{1 - \sqrt{n}}{1 + \sqrt{n}},$                       b)  $\lim_{n \rightarrow \infty} \frac{n + 3^n}{n - 3^n},$                       c)  $\lim_{n \rightarrow \infty} \frac{n^2}{3^n + 1},$                       d)  $\lim_{n \rightarrow \infty} \frac{n - \sqrt{n}}{n - 1},$   
 e)  $\lim_{n \rightarrow \infty} \frac{3^n - n}{n^4},$                       f)  $\lim_{n \rightarrow \infty} \frac{n + (-1)^n}{n - (-1)^n},$                       g)  $\lim_{n \rightarrow \infty} \frac{n^2}{1 + n\sqrt{n}},$                       h)  $\lim_{n \rightarrow \infty} \frac{\sqrt[3]{n^2 + 1}}{n + 1},$

$$\begin{array}{llll}
 \text{i)} \lim_{n \rightarrow \infty} \frac{\sqrt[3]{n^2+n}}{n-2}, & \text{j)} \lim_{n \rightarrow \infty} \frac{n}{\sqrt{n^2+1}}, & \text{k)} \lim_{n \rightarrow \infty} \frac{(-1)^n}{2n+1}, & \text{l)} \lim_{n \rightarrow \infty} \frac{3^{n+1}}{n!+1}, \\
 \text{m)} \lim_{n \rightarrow \infty} \frac{4^n n!}{(3n)^n}, & \text{n)} \lim_{n \rightarrow \infty} \sqrt[n]{\frac{5n+1}{n+5}}, & \text{o)} \lim_{n \rightarrow \infty} \left[ \frac{n-1}{n+1} \right]^n, & \text{p)} \lim_{n \rightarrow \infty} \left[ \frac{n-3}{n} \right]^{\frac{n}{2}}, \\
 \text{q)} \lim_{n \rightarrow \infty} \left[ \frac{2n-1}{2n+1} \right]^n, & \text{r)} \lim_{n \rightarrow \infty} \left[ 1 - \frac{5}{n} \right]^n, & \text{s)} \lim_{n \rightarrow \infty} \left[ 1 - \frac{1}{3n} \right]^n, & \text{t)} \lim_{n \rightarrow \infty} \left[ \frac{n+6}{n+5} \right]^n.
 \end{array}$$

**2.3.19.** Vypočítajte nasledujúce limity: ♣

$$\begin{array}{lll}
 \text{a)} \lim_{n \rightarrow \infty} \frac{(-2)^n + 3^n}{(-2)^{n+1} + 3^{n+1}}, & \text{b)} \lim_{n \rightarrow \infty} \frac{(n+4)! - (n+2)!}{(n+3)!}, & \text{c)} \lim_{n \rightarrow \infty} \frac{\sqrt{n^2-1} + \sqrt{n^2+1}}{n}, \\
 \text{d)} \lim_{n \rightarrow \infty} \frac{\sqrt{n}}{\sqrt{n+\sqrt{n+\sqrt{n}}}}, & \text{e)} \lim_{n \rightarrow \infty} \frac{\sqrt{n+1}}{\sqrt{n+\sqrt{n+\sqrt{n}}}}, & \text{f)} \lim_{n \rightarrow \infty} \frac{\sqrt{n} + \sqrt[3]{n} + \sqrt[4]{n}}{\sqrt{2n+1}}.
 \end{array}$$

**2.3.20.** Nech  $a, b \in \mathbb{R}$ ,  $b \geq a > 0$ . Vypočítajte nasledujúce limity: ♣

$$\text{a)} \lim_{n \rightarrow \infty} \frac{a^n + b^n}{a^{n+1} + b^{n+1}}, \quad \text{b)} \lim_{n \rightarrow \infty} \frac{a^n - b^n}{a^{n+1} - b^{n+1}}, \quad \text{c)} \lim_{n \rightarrow \infty} \left[ \frac{\sqrt[n]{a} + \sqrt[n]{b}}{2} \right]^n.$$

**2.3.21.** Nech  $a \in \mathbb{R}$ . Vypočítajte nasledujúce limity: ♣

$$\begin{array}{llll}
 \text{a)} \lim_{n \rightarrow \infty} \frac{a}{a^n + 1}, & \text{b)} \lim_{n \rightarrow \infty} \frac{a^n}{a^n + 1}, & \text{c)} \lim_{n \rightarrow \infty} \frac{a^n}{a^{2n} + 1}, & \text{d)} \lim_{n \rightarrow \infty} \left[ \frac{a+3}{2} \right]^n, \\
 \text{e)} \lim_{n \rightarrow \infty} \left[ a + \frac{1}{n} \right]^n, & \text{f)} \lim_{n \rightarrow \infty} a^2 \sqrt{\frac{n-a}{n}}, & \text{g)} \lim_{n \rightarrow \infty} \left[ \frac{n-a}{n+a} \right]^n, & \text{h)} \lim_{n \rightarrow \infty} \frac{a^n}{1-3^n}.
 \end{array}$$

**2.3.22.** Nech  $a, b \in \mathbb{R}$ . Vypočítajte nasledujúce limity: ♣

$$\begin{array}{llll}
 \text{a)} \lim_{n \rightarrow \infty} [\sqrt{n+a} - \sqrt{n}], & \text{b)} \lim_{n \rightarrow \infty} [\sqrt{n} - \sqrt{n-a}], & \text{c)} \lim_{n \rightarrow \infty} [\sqrt{n(n-a)} - n], \\
 \text{d)} \lim_{n \rightarrow \infty} [\sqrt{n^2+1} - n], & \text{e)} \lim_{n \rightarrow \infty} [\sqrt{n^2+n} - n], & \text{f)} \lim_{n \rightarrow \infty} [\sqrt{n+1} - n], \\
 \text{g)} \lim_{n \rightarrow \infty} [n - \sqrt{n^2-1}], & \text{h)} \lim_{n \rightarrow \infty} [\sqrt[3]{n^3-1} - n], & \text{i)} \lim_{n \rightarrow \infty} n [\sqrt{n^2+1} - n], \\
 \text{j)} \lim_{n \rightarrow \infty} \left[ \frac{an^2}{n+1} - \frac{bn^2}{n-1} \right], & \text{k)} \lim_{n \rightarrow \infty} \left[ \frac{n^2}{n-a} - \frac{n^2}{n-b} \right], & \text{l)} \lim_{n \rightarrow \infty} \frac{n^2 - an^2 + 3n}{n+5}.
 \end{array}$$

**2.3.23.** Nech  $a, b \in \mathbb{R}$ . Vypočítajte nasledujúce limity: ♣

$$\begin{array}{ll}
 \text{a)} \lim_{n \rightarrow \infty} \left[ \sqrt[3]{(n+1)^2} - \sqrt[3]{(n-1)^2} \right], & \text{b)} \lim_{n \rightarrow \infty} [3n - \sqrt{9n^2 - 10n + 1}], \\
 \text{c)} \lim_{n \rightarrow \infty} \left[ \sqrt[3]{n^3 + n + 1} - \sqrt[3]{n^3 - n + 1} \right], & \text{d)} \lim_{n \rightarrow \infty} \left[ \sqrt[3]{n^3 + n^2 + 1} - \sqrt[3]{n^3 - n^2 + 1} \right], \\
 \text{e)} \lim_{n \rightarrow \infty} \left[ \sqrt{(n-a)(n-b)} - n \right], & \text{f)} \lim_{n \rightarrow \infty} \left[ \sqrt{n+\sqrt{n+1}} - \sqrt{n-\sqrt{n+1}} \right].
 \end{array}$$

**2.3.24.** Nech  $a, b \in \mathbb{R}$ ,  $a \geq b \geq 0$ . Vypočítajte nasledujúce limity: ♣

$$\begin{array}{llll}
 \text{a)} \lim_{n \rightarrow \infty} [2\sqrt{a}]^n, & \text{b)} \lim_{n \rightarrow \infty} \sqrt[n]{1+a^n}, & \text{c)} \lim_{n \rightarrow \infty} \sqrt[n]{a^n + b^n}, & \text{d)} \lim_{n \rightarrow \infty} na^n, \\
 \text{e)} \lim_{n \rightarrow \infty} n^2 [\sqrt[n]{a} - \sqrt[n+1]{a}], & \text{f)} \lim_{n \rightarrow \infty} \frac{[n\sqrt[n]{a-1}]^2}{[n\sqrt[n]{b-1}]^2}, & \text{g)} \lim_{n \rightarrow \infty} n [\sqrt[n]{a} - \sqrt[n]{b}].
 \end{array}$$

## 2.4 Číselné rady

Číselné rady úzko súvisia s postupnosťami a zovšeobecňujú pojem sčítavania na nekonečný počet sčítancov. S výrazmi, ktoré obsahujú nekonečne veľa sčítancov sa nepriamo stretávame už v základnej škole. Jednoduchým príkladom sú zlomky a periodické čísla.

**Príklad 2.4.1.**

Nech  $T$  je pravouhlý trojuholník (obr. 2.4.10) s preponou 2, výškou 1 a odvesnami  $\sqrt{2}$ . Obsah trojuholníka  $T$  je  $S = \frac{2 \cdot 1}{2} = 1$ .

Uvažujme postupnosť štvorcov vpísaných do  $T$ . Prvý štvorec má stranu  $a = \frac{2}{3}$  a obsah  $P_1 = \frac{4}{9}$ . Druhý štvorec (sú dva) má stranu  $a_2 = \frac{a}{2} = \frac{a}{2}$  a obsah  $P_2 = \frac{P_1}{4} = \frac{4}{9 \cdot 4}$ . Tretí štvorec (sú dva) má stranu  $a_3 = \frac{a_2}{2} = \frac{a}{2^2}$  a obsah  $P_3 = \frac{P_1}{4^2} = \frac{4}{9 \cdot 4^2}$  atď. Je zrejmé, že obsah trojuholníka  $T$  je väčší ako súčet obsahov štvorcov, t. j.

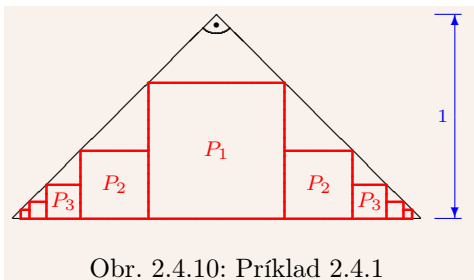
$$1 > P_1 + 2 \frac{P_1}{4} + 2 \frac{P_1}{4^2} + \cdots + 2 \frac{P_1}{4^n} + \cdots = \frac{4}{9} + \frac{8}{9 \cdot 4} + \frac{8}{9 \cdot 4^2} + \cdots + \frac{8}{9 \cdot 4^n} + \cdots > 0. \blacksquare$$

**Príklad 2.4.2.**

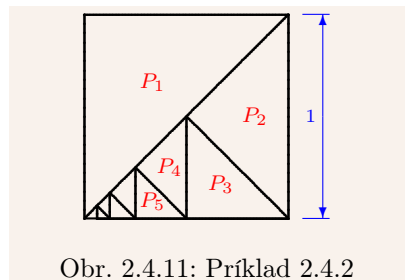
Nech  $S$  je štvorec so stranou  $a = 1$  a obsahom  $P = 1^2 = 1$  (obr. 2.4.11).

Štvorec  $S$  rozdelíme uhlopriečkou na dva zhodné pravouhlé trojuholníky. Jeden označíme  $T_1$  a druhý rozdelíme na dva zhodné pravouhlé trojuholníky. Jeden označíme  $T_2$  a druhý opäť rozdelíme na dva zhodné pravouhlé trojuholníky. Takto pokračujeme pre všetky  $n \in \mathbb{N}$ . Obsah trojuholníka  $T_1$  je  $P_1 = \frac{P}{2} = \frac{1}{2}$ , obsah trojuholníka  $T_2$  je  $P_2 = \frac{P_1}{2} = \frac{1}{2^2}$ , obsah trojuholníka  $T_3$  je  $P_3 = \frac{P_2}{2} = \frac{1}{2^3}$  atď. Je zrejmé, že tieto trojuholníky pokryjú celý štvorec  $S$ , t. j. súčet ich obsahov je rovný číslu  $P = 1$ . Potom platí:

$$1 = P_1 + \frac{P_1}{2} + \frac{P_1}{2^2} + \cdots + \frac{P_1}{2^n} + \cdots = \frac{1}{2} + \frac{1}{2^2} + \cdots + \frac{1}{2^n} + \cdots. \blacksquare$$



Obr. 2.4.10: Príklad 2.4.1



Obr. 2.4.11: Príklad 2.4.2

Nech  $\{a_n\}_{n=1}^{\infty}$  je číselná postupnosť, potom **nekonečným číselným radom** (**neko-****nečným radom čísel**), stručne (**číselným**) **radom**, nazývame výraz

$$\sum_{n=1}^{\infty} a_n = a_1 + a_2 + a_3 + \cdots + a_n + \cdots.$$

Číselné rady a postupnosti úzko súvisia. Rad je jednoznačne určený postupnosťou. To znamená, že rad môžeme zadať **všeobecným vyjadrením** (**explicitne**) každého člena  $a_n$ ,  $n \in \mathbb{N}$  alebo **rekurentným vyjadrením** prvého člena a členov  $a_n$ ,  $n \in \mathbb{N}$ .

**Poznámka 2.4.1.**

Pre spočítavanie nekonečného počtu sčítancov neplatia všetky pravidlá, ktoré platia pre konečné počty sčítancov. Neplatí tu komutatívny zákon (prerovnanie radov, str. 64), a ako



ukazuje nasledujúci príklad, ani asociatívny zákon:

$$\sum_{n=1}^{\infty} (-1)^{n+1} = \begin{cases} (1-1) + (1-1) + (1-1) + \dots = 0 + 0 + 0 + \dots = 0, \\ 1 + (-1+1) + (-1+1) + \dots = 1 + 0 + 0 + \dots = 1. \end{cases}$$

Nech  $k \in \mathbb{N}$ ,  $k$ -tým čiastočným súčtom radu  $\sum_{n=1}^{\infty} a_n$  nazývame konečný súčet

$$s_k = a_1 + a_2 + \dots + a_k.$$

Postupnosť  $\{s_k\}_{k=1}^{\infty} = \{s_n\}_{n=1}^{\infty}$  nazývame **postupnosťou čiastočných súčtov radu**  $\sum_{n=1}^{\infty} a_n$  a  $k$ -tým **zvyškom radu**  $\sum_{n=1}^{\infty} a_n$  nazývame nekonečný súčet

$$r_k = a_{k+1} + a_{k+2} + a_{k+3} + \dots$$

Z definície vyplýva, že pre všetky  $k \in \mathbb{N}$  platí:

$$\sum_{n=1}^{\infty} a_n = s_k + r_k = \sum_{n=1}^k a_n + \sum_{n=k+1}^{\infty} a_n = \sum_{n=1}^k a_n + \sum_{n=1}^{\infty} a_{k+n}.$$

Vzťah medzi  $\sum_{n=1}^{\infty} a_n$  a  $\{s_n\}_{n=1}^{\infty}$  je vzájomne jednoznačný. Pre  $\{s_n\}_{n=1}^{\infty}$  platí:

$$s_1 = a_1, \quad s_2 = a_1 + a_2 = s_1 + a_2, \quad \dots, \quad s_n = a_1 + \dots + a_{n-1} + a_n = s_{n-1} + a_n, \quad \dots$$

Ak označíme  $s_0 = 0$ , potom pre rad  $\sum_{n=1}^{\infty} a_n$  platí:

$$a_1 = s_1 = s_1 - s_0, \quad a_2 = s_2 - s_1, \quad \dots, \quad a_n = s_n - s_{n-1}, \quad \dots$$

Ak existuje  $\lim_{n \rightarrow \infty} s_n = s$ , potom hovoríme, že  $\sum_{n=1}^{\infty} a_n$  **má súčet**  $s \in \mathbb{R}^*$  a zapisujeme:

$$a_1 + a_2 + \dots + a_n + \dots = \sum_{n=1}^{\infty} a_n = \lim_{n \rightarrow \infty} s_n = s, \quad \text{resp.} \quad \sum_{n=1}^{\infty} a_n \mapsto s.$$

Ak  $s \in \mathbb{R}$ , potom hovoríme, že **rad konverguje k číslu  $s$  (je konvergentný k  $s$ )** alebo stručne **rad konverguje (je konvergentný)**, označujeme  $\sum_{n=1}^{\infty} a_n \mapsto s$ .

Ak  $s = \infty$  [resp.  $-\infty$ ], potom hovoríme, že **rad diverguje do  $\infty$**  [resp. **do  $-\infty$** ]. Ak rad súčet nemá, t. j. ak  $\lim_{n \rightarrow \infty} s_n$  neexistuje, potom hovoríme, že **rad osciluje**.

Ak rad nemá konečný súčet, t. j. ak diverguje do  $\pm\infty$  alebo osciluje, potom hovoríme, že **rad diverguje (je divergentný)** a označujeme  $\sum_{n=1}^{\infty} a_n \not\mapsto$ .

### Príklad 2.4.3.

a)  $\sum_{n=1}^{\infty} 0 = 0$ , pretože  $\{s_n\}_{n=1}^{\infty} = \{0\}_{n=1}^{\infty}$ ,  $\lim_{n \rightarrow \infty} s_n = \lim_{n \rightarrow \infty} 0 = 0$ .

b)  $\sum_{n=1}^{\infty} 1 = \infty$ , pretože  $\{s_n\}_{n=1}^{\infty} = \{n\}_{n=1}^{\infty}$ ,  $\lim_{n \rightarrow \infty} s_n = \lim_{n \rightarrow \infty} n = \infty$ .

c)  $\sum_{n=1}^{\infty} (-1) = -\infty$ , pretože  $\{s_n\}_{n=1}^{\infty} = \{-n\}_{n=1}^{\infty}$ ,  $\lim_{n \rightarrow \infty} s_n = \lim_{n \rightarrow \infty} (-n) = -\infty$ .

d)  $\sum_{n=1}^{\infty} (-1)^n$  osciluje, pretože  $\{s_n\}_{n=1}^{\infty} = \{-1, 0, -1, 0, \dots\}$  a  $\lim_{n \rightarrow \infty} s_n$  neexistuje.

e)  $\sum_{n=1}^{\infty} \frac{1}{n!} = 1 + \frac{1}{2!} + \frac{1}{3!} + \frac{1}{4!} + \dots + \frac{1}{n!} + \dots = \lim_{n \rightarrow \infty} \left(1 + \frac{1}{1!} + \frac{1}{2!} + \dots + \frac{1}{n!}\right) = e$ . ■

**Príklad 2.4.4.**

$$\sum_{n=1}^{\infty} a_n = \sum_{n=1}^{\infty} \frac{1}{n(n+1)} = \frac{1}{1 \cdot 2} + \frac{1}{2 \cdot 3} + \frac{1}{3 \cdot 4} + \dots = 1.$$

**Riešenie.**

Pre všetky  $n \in \mathbb{N}$  platí  $a_n = \frac{1}{n(n+1)} = \frac{1}{n} - \frac{1}{n+1} \Rightarrow$

$$s_n = a_1 + a_2 + \dots + a_n = \left[\frac{1}{1} - \frac{1}{2}\right] + \left[\frac{1}{2} - \frac{1}{3}\right] + \dots + \left[\frac{1}{n} - \frac{1}{n+1}\right] = 1 - \frac{1}{n+1} \Rightarrow$$

$$\sum_{n=1}^{\infty} \frac{1}{n(n+1)} = \lim_{n \rightarrow \infty} s_n = \lim_{n \rightarrow \infty} \left[1 - \frac{1}{n+1}\right] = 1 - 0 = 1. \blacksquare$$

**Príklad 2.4.5.**

**Harmonický rad**  $\sum_{n=1}^{\infty} \frac{1}{n} = 1 + \frac{1}{2} + \frac{1}{3} + \frac{1}{4} + \frac{1}{5} + \dots = \infty.$

**Riešenie.**

Pre všetky  $n \in \mathbb{N}$  platí  $s_n = 1 + \frac{1}{2} + \dots + \frac{1}{n}$ . Postupnosť  $\{s_n\}_{n=1}^{\infty}$  je rastúca a podľa vety 2.3.10 má limitu. Pre vybranú postupnosť  $\{s_{2^n}\}_{n=1}^{\infty}$  platí:

$$s_{2^0} = s_1 = 1 \geq 1 + \frac{0}{2}, \quad s_{2^1} = s_2 = s_1 + \frac{1}{2} \geq 1 + \frac{0}{2} + \frac{1}{2} = 1 + \frac{1}{2},$$

$$s_{2^2} = s_4 = s_2 + \frac{1}{3} + \frac{1}{4} \geq 1 + \frac{1}{2} + \frac{1}{4} + \frac{1}{4} = 1 + \frac{1}{2} + \frac{1}{2} = 1 + \frac{2}{2}, \quad \dots, \quad s_{2^n} \geq 1 + \frac{n}{2}.$$

Poslednú nerovnosť dokážeme pomocou matematickej indukcie. Pre  $s_1$  sme vzťah už dokázali. Predpokladajme, že platí  $s_{2^k} \geq 1 + \frac{k}{2}$ . Potom pre  $s_{2^{k+1}}$  platí:

$$s_{2^{k+1}} = s_{2^k} + \frac{1}{2^{k+1}} + \frac{1}{2^{k+2}} + \dots + \frac{1}{2^{k+1}} \geq$$

$$\geq 1 + \frac{k}{2} + \underbrace{\frac{1}{2^{k+1}} + \frac{1}{2^{k+1}} + \dots + \frac{1}{2^{k+1}}}_{2^k \text{-krát}} = 1 + \frac{k}{2} + \frac{2^k}{2^{k+1}} = 1 + \frac{k}{2} + \frac{1}{2} = 1 + \frac{k+1}{2}.$$

Potom:  $\lim_{n \rightarrow \infty} s_{2^n} \geq \lim_{n \rightarrow \infty} \left(1 + \frac{n}{2}\right) = \infty \Rightarrow \lim_{n \rightarrow \infty} s_n = \infty \Rightarrow \sum_{n=1}^{\infty} \frac{1}{n} = \lim_{n \rightarrow \infty} s_n = \infty. \blacksquare$

**Príklad 2.4.6.**

**Geometrický rad**  $\sum_{n=1}^{\infty} q^{n-1} = 1 + q + q^2 + \dots$ , kde  $q \in \mathbb{R}$ .

**Riešenie.**

$$q = 1 \Rightarrow \sum_{n=1}^{\infty} q^{n-1} = \sum_{n=1}^{\infty} 1 = \infty.$$

$$q \neq 1 \Rightarrow s_n = 1 + q + \dots + q^{n-1} = (q^{n-1} + \dots + q + 1) \frac{q-1}{q-1} = \frac{q^n - 1}{q-1} \xrightarrow{\text{príklad 2.3.13}}$$

$$\sum_{n=1}^{\infty} q^{n-1} = \lim_{n \rightarrow \infty} s_n = \lim_{n \rightarrow \infty} \frac{q^n - 1}{q-1} = \begin{cases} \frac{\infty - 1}{q-1} = \infty, & \text{pre } q > 1, \text{ t. j. diverguje do } \infty, \\ \infty, & \text{pre } q = 1, \text{ t. j. diverguje do } \infty, \\ \frac{0-1}{q-1} = \frac{1}{1-q}, & \text{pre } q \in (-1; 1), \text{ t. j. konverguje,} \\ \neq, & \text{pre } q \leq -1, \text{ t. j. osciluje.}^{13} \blacksquare \end{cases}$$

<sup>13</sup>Použili sme nerovnosť  $a^n - b^n = (a-b)(a^{n-1} + a^{n-2}b + \dots + ab^{n-2} + b^{n-1})$  pre  $a, b \in \mathbb{R}, n \in \mathbb{N}$ .

**Príklad 2.4.7.**

Vyšetrte konvergenciu číselného radu  $\sum_{n=1}^{\infty} \frac{1}{\sqrt{n}}$ .

**Riešenie.**

$$\forall n \in \mathbb{N}: s_n = 1 + \frac{1}{\sqrt{2}} + \dots + \frac{1}{\sqrt{n}} > \frac{1}{\sqrt{n}} + \frac{1}{\sqrt{n}} + \dots + \frac{1}{\sqrt{n}} = \frac{n}{\sqrt{n}} = \sqrt{n} \Rightarrow$$

$$\lim_{n \rightarrow \infty} s_n \geq \lim_{n \rightarrow \infty} \sqrt{n} = \infty \Rightarrow \lim_{n \rightarrow \infty} s_n = \infty \Rightarrow \sum_{n=1}^{\infty} \frac{1}{\sqrt{n}} = \lim_{n \rightarrow \infty} s_n = \infty. \blacksquare$$

**2.4.1 Vlastnosti konvergentných radov**

V tejto časti uvedieme niektoré základné vlastnosti číselných radov, ako aj niektoré kritériá na určovanie konverencie, resp. divergencie radov.

**Veta 2.4.1 (Nutná podmienka konverencie radu).**

$$\sum_{n=1}^{\infty} a_n \text{ konverguje} \Rightarrow \lim_{n \rightarrow \infty} a_n = 0.$$

**Dôkaz.**

$$\sum_{n=1}^{\infty} a_n \text{ konverguje} \Rightarrow \sum_{n=1}^{\infty} a_n = \lim_{n \rightarrow \infty} s_n = s \in \mathbb{R}.$$

$$n \in \mathbb{N}: a_n = s_n - s_{n-1} \Rightarrow \lim_{n \rightarrow \infty} a_n = \lim_{n \rightarrow \infty} (s_n - s_{n-1}) = \lim_{n \rightarrow \infty} s_n - \lim_{n \rightarrow \infty} s_{n-1} = s - s = 0. \blacksquare$$

Ako dokazujú príklady 2.4.5 a 2.4.7, tvrdenie vety sa nedá obrátiť, t. j. z podmienky  $\lim_{n \rightarrow \infty} a_n = 0$  nevyplýva konvergenciu radu  $\sum_{n=1}^{\infty} a_n$ .

**Dôsledok 2.4.1.a.**

Ak neplatí  $\lim_{n \rightarrow \infty} a_n = 0$ , potom rad  $\sum_{n=1}^{\infty} a_n$   $\not\rightarrow$ .

**Príklad 2.4.8.**

a) Rad  $\sum_{n=1}^{\infty} n = 1 + 2 + 3 + 4 + 5 + \dots$  nekonverguje (tento rad diverguje do  $\infty$ ), pretože nie je splnená nutná podmienka konverencie,  $\lim_{n \rightarrow \infty} n = \infty$ .

b) Rad  $\sum_{n=1}^{\infty} (-1)^n n = -1 + 2 - 3 + 4 - 5 + \dots$  nekonverguje (tento rad osciluje), pretože nie je splnená nutná podmienka konverencie,  $\lim_{n \rightarrow \infty} (-1)^n n$  totiž neexistuje.  $\blacksquare$

Podobne ako pri postupnostiach, môžeme niekedy o konvergencii radu rozhodnúť aj bez toho, aby sme poznali jeho súčet. Nasledujúca veta je analógiou Cauchy–Bolzanovho princípu pre číselné postupnosti (veta 2.3.4, str. 42), ktorý je pre postupnosti čiastočných súčtov  $\{s_n\}_{n=1}^{\infty}$  sformulovaný v leme 2.4.2.

**Lema 2.4.2.**

$\{s_n\}_{n=1}^{\infty}$  konverguje práve vtedy, ak ku každému  $\varepsilon > 0$  existuje  $n_0 \in \mathbb{N}$  také, že pre všetky  $m, n \in \mathbb{N}$ ,  $n \geq n_0$ ,  $m \geq n_0$  platí  $|s_m - s_n| < \varepsilon$ .

**Veta 2.4.3 (Cauchy–Bolzanov princíp konverencie radu).**

$\sum_{n=1}^{\infty} a_n$  konverguje práve vtedy, ak ku každému  $\varepsilon > 0$  existuje  $n_0 \in \mathbb{N}$  také, že pre všetky  $n, k \in \mathbb{N}$ ,  $n \geq n_0$  platí  $|a_{n+1} + a_{n+2} + \dots + a_{n+k}| < \varepsilon$ .

**Dôkaz.**

$$\begin{aligned} \sum_{n=1}^{\infty} a_n &= \lim_{n \rightarrow \infty} s_n \in R, \quad m = n + k > n \xrightarrow{\text{lema 2.4.2}} |s_m - s_n| = |s_{n+k} - s_n| = \\ &= |(a_1 + \dots + a_n + \dots + a_{n+k}) - (a_1 + \dots + a_n)| = |a_{n+1} + a_{n+2} + \dots + a_{n+k}| < \varepsilon. \blacksquare \end{aligned}$$

Podobne, ako pri číselných postupnostiach, ak zmeníme v číselnom rade konečný počet členov, jeho konvergencia, divergencia do  $\pm\infty$ , resp. oscilácia sa nezmenia. Toto platí pre rady vo všeobecnosti, t. j. **konečný počet členov nemá vplyv na vlastnosti radu.**

Rady  $\sum_{n=1}^{\infty} (a_n \pm b_n)$ ,  $\sum_{n=1}^{\infty} ca_n$  nazývame **súčtom a rozdielom radov**  $\sum_{n=1}^{\infty} a_n$ ,  $\sum_{n=1}^{\infty} b_n$ , resp. **násobkom číselného radu**  $\sum_{n=1}^{\infty} a_n$  číslom  $c \in R$ .

**Veta 2.4.4.**

$\sum_{n=1}^{\infty} a_n = s \in R^*$ ,  $\sum_{n=1}^{\infty} b_n = t \in R^*$ ,  $c \in R \xrightarrow{\text{ak majú príslušné výrazy zmysel}}$

$$\sum_{n=1}^{\infty} (a_n \pm b_n) = \sum_{n=1}^{\infty} a_n \pm \sum_{n=1}^{\infty} b_n = s \pm t, \quad \sum_{n=1}^{\infty} ca_n = c \sum_{n=1}^{\infty} a_n = cs.$$

**Dôkaz.**

Ak označíme  $\{s_n\}_{n=1}^{\infty}$ ,  $\{t_n\}_{n=1}^{\infty}$  postupnosti čiastočných súčtov radov  $\sum_{n=1}^{\infty} a_n$ ,  $\sum_{n=1}^{\infty} b_n$ , potom sú postupnosti  $\{s_n \pm t_n\}_{n=1}^{\infty}$ ,  $\{cs_n\}_{n=1}^{\infty}$  postupnosťami čiastočných súčtov radov  $\sum_{n=1}^{\infty} (a_n \pm b_n)$ ,  $\sum_{n=1}^{\infty} ca_n$  a tvrdenie vyplýva z vety 2.3.11.  $\blacksquare$

Opačné tvrdenie v predchádzajúcej vete neplatí, t. j. konvergencia súčtu radov ešte nezaručuje konvergenciu jednotlivých radov. Napríklad  $\sum_{n=1}^{\infty} [(-1)^n + (-1)^{n+1}] \mapsto 0$ , aj keď  $\sum_{n=1}^{\infty} (-1)^n \not\mapsto$ ,  $\sum_{n=1}^{\infty} (-1)^{n+1} \not\mapsto$ .

**Príklad 2.4.9.**

Určte súčet radu  $\sum_{n=0}^{\infty} \text{text} \frac{ap^n + bq^n}{p^n q^n}$ , kde  $a, b, p, q \in R$ ,  $|p| > 1$ ,  $|q| > 1$ .

**Riešenie.**

$$\begin{aligned} |p| > 1, |q| > 1 &\Rightarrow \frac{1}{|p|} < 1, \frac{1}{|q|} < 1 \xrightarrow{\text{príklad 2.4.6}} \sum_{n=0}^{\infty} \frac{1}{p^n} = \sum_{n=0}^{\infty} \left[\frac{1}{p}\right]^n = \frac{1}{1-\frac{1}{p}} = \frac{p}{p-1} \Rightarrow \\ \sum_{n=0}^{\infty} \frac{1}{q^n} &= \frac{q}{q-1} \Rightarrow \sum_{n=0}^{\infty} \frac{ap^n + bq^n}{p^n q^n} = \sum_{n=0}^{\infty} \left[\frac{a}{q^n} + \frac{b}{p^n}\right] = a \sum_{n=0}^{\infty} \frac{1}{q^n} + b \sum_{n=0}^{\infty} \frac{1}{p^n} = \frac{aq}{q-1} + \frac{bp}{p-1}. \blacksquare \end{aligned}$$

Pre číselný rad  $\sum_{n=1}^{\infty} (-1)^{n+1}$  (poznámka 2.4.1) neplatí asociatívny zákon. Problém je v tom, že tento rad nemá súčet. Ale ak rad súčet má, potom asociatívny zákon platí.

**Veta 2.4.5.**

Ak  $\sum_{n=1}^{\infty} a_n = s \in R^*$ ,  $\{k_n\}_{n=1}^{\infty}$  je rastúca postupnosť indexov, potom:

$$\sum_{n=1}^{\infty} a_n = \underbrace{a_1 + \dots + a_{k_1}}_{c_1} + \underbrace{a_{k_1+1} + \dots + a_{k_2}}_{c_2} + \dots + \underbrace{a_{k_{n-1}+1} + \dots + a_{k_n}}_{c_n} + \dots = \sum_{n=1}^{\infty} c_n = s.$$

**Dôkaz.**

Pre  $\{s_n\}_{n=1}^{\infty}$ ,  $\{t_n\}_{n=1}^{\infty}$  postupnosti čiastočných súčtov radov  $\sum_{n=1}^{\infty} a_n$ ,  $\sum_{n=1}^{\infty} c_n$  platí:

$$\begin{aligned} t_1 &= c_1 = a_1 + \dots + a_{k_1} = s_{k_1}, \quad t_2 = c_1 + c_2 = a_1 + \dots + a_{k_2} = s_{k_2}, \quad \dots \\ t_n &= c_1 + c_2 + \dots + c_n = a_1 + \dots + a_{k_n} = s_{k_n}, \quad \dots \Rightarrow \end{aligned}$$

$\{t_n\}_{n=1}^{\infty}$  je vybraná z postupnosti  $\{s_n\}_{n=1}^{\infty}$  a platí  $\lim_{n \rightarrow \infty} t_n = \lim_{n \rightarrow \infty} s_n = s$ .  $\blacksquare$

**Dôsledok 2.4.5.a.**

Ak z radu  $\sum_{n=1}^{\infty} a_n$  vynecháme všetky nulové členy alebo doň vložíme ľubovoľný (aj spočítateľný) počet nulových členov, potom sa jeho súčet nezmení.

**2.4.2 Číselné rady s nezápornými členmi**

Nech  $\sum_{n=1}^{\infty} a_n$  je rad s nezápornými členmi, t. j. nech pre všetky  $n \in N$  platí  $a_n \geq 0$ . Jeho postupnosť čiastočných súčtov  $\{s_n\}_{n=1}^{\infty}$  je neklesajúca a podľa vety 2.3.10 má limitu. To znamená, že každý **rad s nezápornými členmi má súčet**.

Ak je  $\{s_n\}_{n=1}^{\infty}$  ohraničená zhora, potom rad konverguje, t. j.  $\sum_{n=1}^{\infty} a_n \mapsto$ . V opačnom prípade rad diverguje do  $\infty$ , t. j.  $\sum_{n=1}^{\infty} a_n \mapsto \infty$ , resp.  $\sum_{n=1}^{\infty} a_n = \infty$ , resp.  $\sum_{n=1}^{\infty} a_n \not\mapsto$ .

Ak z takéhoto radu vylúčime všetky jeho nulové členy, dostaneme rad s rovnakým súčtom a pri vyšetrovaní konvergenencie môžeme použiť aj podielové kritériá.

**Veta 2.4.6.**

$$0 \leq a_n \leq b_n \text{ pre všetky } n \in N \implies 0 \leq \sum_{n=1}^{\infty} a_n \leq \sum_{n=1}^{\infty} b_n \leq \infty.$$

**Dôkaz.**

$\{s_n\}_{n=1}^{\infty}, \{t_n\}_{n=1}^{\infty}$  sú postupnosti čiastočných súčtov radov  $\sum_{n=1}^{\infty} a_n, \sum_{n=1}^{\infty} b_n$ .

$$n \in N \implies 0 \leq s_n = a_1 + \dots + a_n \leq b_1 + \dots + b_n = t_n \implies$$

$$0 \leq \sum_{n=1}^{\infty} a_n = \lim_{n \rightarrow \infty} s_n \leq \lim_{n \rightarrow \infty} t_n = \sum_{n=1}^{\infty} b_n \leq \infty. \blacksquare$$

Rovnako ako pri postupnostiach (poznámka 2.3.2) **konečný počet členov nemá vplyv na konvergenciu a divergenciu radu**. Je ale zrejme, že **má vplyv na súčet**.

V budúcnosti budeme niektoré podmienky pre rady taktiež formulovať v zjednodušenom tvare **pre všetky  $a_n$  okrem konečného počtu členov** a zapisovať **o.k.p.**.

**Veta 2.4.7 (Porovnávacie kritérium).**

$0 \leq a_n \leq b_n$  pre všetky  $n \in N_{\infty}$  o.k.p.  $\implies$

$$\sum_{n=1}^{\infty} b_n \mapsto \implies \sum_{n=1}^{\infty} a_n \mapsto, \quad \sum_{n=1}^{\infty} a_n \mapsto \infty \implies \sum_{n=1}^{\infty} b_n \mapsto \infty.$$

**Dôkaz.**

Tvrdenie vyplýva priamo z vety 2.4.6.  $\blacksquare$

**Príklad 2.4.10.**

a)  $\sum_{n=1}^{\infty} \frac{1}{n} = \infty, \forall n \in N: \sqrt{n} \leq n, \text{ t. j. } \frac{1}{n} \leq \frac{1}{\sqrt{n}} \implies \sum_{n=1}^{\infty} \frac{1}{\sqrt{n}} \mapsto \infty.$

b)  $\sum_{n=1}^{\infty} \frac{1}{n(n+1)} \mapsto$  (príklad 2.4.4),  $\forall n \in N: (n+1)^2 = (n+1)(n+1) \geq n(n+1) \implies$

$$\frac{1}{(n+1)^2} \leq \frac{1}{n(n+1)} \implies \sum_{n=1}^{\infty} \frac{1}{(n+1)^2} \mapsto. \blacksquare$$

**Príklad 2.4.11.**

Vyšetrte konvergenciu **Riemannovho rad**  $\sum_{n=1}^{\infty} \frac{1}{n^p} = \sum_{n=1}^{\infty} n^{-p}$ .

**Riešenie.**

$$p = 1 \implies \sum_{n=1}^{\infty} n^{-p} = \sum_{n=1}^{\infty} \frac{1}{n} \mapsto \infty \text{ (harmonický rad).}$$

$$p \leq 0 \implies -p \geq 0 \implies \lim_{n \rightarrow \infty} n^{-p} = \begin{cases} 1, & \text{pre } p = 0 \\ \infty, & \text{pre } p < 0 \end{cases} \neq 0 \implies \sum_{n=1}^{\infty} n^{-p} \mapsto \infty.$$

$$p \in (0; 1) \Rightarrow \forall n \in \mathbb{N}: n^p \leq n \Rightarrow 0 \leq \frac{1}{n} \leq \frac{1}{n^p} \xrightarrow{\text{veta 2.4.7}} \sum_{n=1}^{\infty} n^{-p} \mapsto \infty.$$

$$p = 2 \xrightarrow{\text{príklad 2.4.10}} \sum_{n=1}^{\infty} \frac{1}{n^2} = 1 + \frac{1}{2^2} + \frac{1}{3^2} + \frac{1}{4^2} + \dots = 1 + \sum_{n=1}^{\infty} \frac{1}{(n+1)^2} \mapsto.$$

$$p > 2 \Rightarrow \forall n \in \mathbb{N}: n^p \geq n^2 \Rightarrow 0 \leq \frac{1}{n^p} \leq \frac{1}{n^2} \xrightarrow{\text{veta 2.4.7}} \sum_{n=1}^{\infty} n^{-p} \mapsto.$$

$p \in (1; 2) \Rightarrow \sum_{n=1}^{\infty} n^{-p} \mapsto$ . (Dôkaz tohto tvrdenia je s našimi doterajšími vedomosťami pomerne zložitý a prácný a preto ho nebudeme robiť.) ■

### Dôsledok 2.4.7.a (Limitný tvar).

$0 < a_n \leq b_n$  pre všetky  $n \in \mathbb{N}$  o.k.p.,  $\lim_{n \rightarrow \infty} \frac{a_n}{b_n} \in (0; \infty) \implies$

$$\sum_{n=1}^{\infty} a_n, \sum_{n=1}^{\infty} b_n \text{ súčasne konvergujú alebo divergujú, t. j. } \sum_{n=1}^{\infty} a_n \mapsto \Leftrightarrow \sum_{n=1}^{\infty} b_n \mapsto.$$

### Dôkaz.

$\lim_{n \rightarrow \infty} \frac{a_n}{b_n} \in (0; \infty) \Rightarrow \{a_n/b_n\}_{n=1}^{\infty} \mapsto \xrightarrow{\text{veta 2.3.8}} \{a_n/b_n\}_{n=1}^{\infty}$  je ohraničená  $\Rightarrow$

$$\exists \alpha, \beta \in \mathbb{R}, 0 < \alpha < \beta < \infty \forall n \in \mathbb{N}: \alpha < \frac{a_n}{b_n} < \beta \Rightarrow \alpha b_n < a_n < \beta b_n \Rightarrow$$

$$\xrightarrow[\text{veta 2.4.7}]{\text{veta 2.4.4}} \begin{cases} NP \Rightarrow: \sum_{n=1}^{\infty} a_n \mapsto \Rightarrow \sum_{n=1}^{\infty} \alpha b_n \mapsto \Rightarrow \sum_{n=1}^{\infty} b_n \mapsto. \\ PP \Leftarrow: \sum_{n=1}^{\infty} b_n \mapsto \Rightarrow \sum_{n=1}^{\infty} \beta b_n \mapsto \Rightarrow \sum_{n=1}^{\infty} a_n \mapsto. \blacksquare \end{cases}$$

Ekvivalencia  $\sum_{n=1}^{\infty} a_n \mapsto \Leftrightarrow \sum_{n=1}^{\infty} b_n \mapsto$  znamená aj  $\sum_{n=1}^{\infty} b_n \not\mapsto \Leftrightarrow \sum_{n=1}^{\infty} a_n \not\mapsto$ .

### Príklad 2.4.12.

Uvažujme rady z príkladu 2.4.10.

a) O divergencii  $\sum_{n=1}^{\infty} \frac{1}{\sqrt{n}}$  pomocou  $\sum_{n=1}^{\infty} \frac{1}{n}$  nevieme rozhodnúť, pretože platí:

$$\lim_{n \rightarrow \infty} \frac{\frac{1}{\sqrt{n}}}{\frac{1}{n}} = \lim_{n \rightarrow \infty} \frac{n}{\sqrt{n}} = \lim_{n \rightarrow \infty} \sqrt{n} = \infty, \quad \lim_{n \rightarrow \infty} \frac{\frac{1}{n}}{\frac{1}{\sqrt{n}}} = \lim_{n \rightarrow \infty} \frac{\sqrt{n}}{n} = \lim_{n \rightarrow \infty} \frac{1}{\sqrt{n}} = 0.$$

b)  $\sum_{n=1}^{\infty} \frac{1}{n(n+1)} \mapsto$ ,  $\lim_{n \rightarrow \infty} \frac{\frac{1}{n(n+1)}}{\frac{1}{(n+1)^2}} = \lim_{n \rightarrow \infty} \frac{n+1}{n} = \lim_{n \rightarrow \infty} (1 + \frac{1}{n}) = 1 \Rightarrow \sum_{n=1}^{\infty} \frac{1}{(n+1)^2} \mapsto$ . ■

### Veta 2.4.8.

$a_n > 0, b_n > 0, \frac{a_{n+1}}{a_n} \leq \frac{b_{n+1}}{b_n}$  pre všetky  $n \in \mathbb{N}$  o.k.p.  $\implies$

$$\sum_{n=1}^{\infty} b_n \mapsto \Rightarrow \sum_{n=1}^{\infty} a_n \mapsto, \quad \sum_{n=1}^{\infty} a_n \mapsto \infty \Rightarrow \sum_{n=1}^{\infty} b_n \mapsto \infty.$$

### Dôkaz.

Nech  $k \in \mathbb{N}$  je také, že pre všetky  $n \geq k$  platí  $0 < \frac{a_{n+1}}{a_n} \leq \frac{b_{n+1}}{b_n} \Rightarrow 0 < \frac{b_n}{a_n} \leq \frac{b_{n+1}}{a_{n+1}} \Rightarrow$

$$\forall n \geq k: 0 < \alpha = \frac{b_k}{a_k} \leq \frac{b_{k+1}}{a_{k+1}} \leq \dots \leq \frac{b_n}{a_n} \leq \dots \Rightarrow \forall n \geq k: \alpha a_n \leq b_n \Rightarrow$$

$$\xrightarrow[\text{veta 2.4.7}]{\text{veta 2.4.4}} \begin{cases} \sum_{n=1}^{\infty} a_n \mapsto \infty \Rightarrow \sum_{n=1}^{\infty} \alpha a_n \mapsto \infty \Rightarrow \sum_{n=1}^{\infty} b_n \mapsto \infty, \\ \sum_{n=1}^{\infty} b_n \mapsto \Rightarrow \sum_{n=1}^{\infty} \alpha a_n \mapsto \Rightarrow \sum_{n=1}^{\infty} a_n \mapsto. \blacksquare \end{cases}$$

**Veta 2.4.9 (Podielové d'Alembertovo<sup>14</sup> kritérium).**

Nech  $a_n > 0$  pre všetky  $n \in N$  o.k.p. a nech:

$$\text{a) } \frac{a_{n+1}}{a_n} \leq q < 1, \text{ kde } q \in (0; 1) \implies \sum_{n=1}^{\infty} a_n \longmapsto, \quad \text{b) } 1 \leq \frac{a_{n+1}}{a_n} \implies \sum_{n=1}^{\infty} a_n \longmapsto \infty.$$

**Dôkaz.**

$$\text{a) } n \in N \text{ o.k.p. } \implies 0 < \frac{a_{n+1}}{a_n} \leq q = \frac{q^{n+1}}{q^n}, \quad \sum_{n=1}^{\infty} q^n \xrightarrow{\text{veta 2.4.8}} \sum_{n=1}^{\infty} a_n \longmapsto.$$

$$\text{b) } n \in N \text{ o.k.p. } \implies \frac{1}{1} = 1 \leq \frac{a_{n+1}}{a_n}, \quad \sum_{n=1}^{\infty} 1 \xrightarrow{\text{veta 2.4.8}} \sum_{n=1}^{\infty} a_n \longmapsto \infty. \blacksquare$$

**Dôsledok 2.4.9.a (Limitný tvar).**

Nech  $a_n > 0$  pre všetky  $n \in N$  o.k.p.,  $\lim_{n \rightarrow \infty} \frac{a_{n+1}}{a_n} = p \implies$

- a)  $p < 1 \implies \sum_{n=1}^{\infty} a_n \longmapsto,$
- b)  $1 < p \implies \sum_{n=1}^{\infty} a_n \longmapsto \infty,$
- c)  $p = 1 \implies$  nevieme rozhodnúť o konvergencii alebo divergencii radu  $\sum_{n=1}^{\infty} a_n.$

**Dôkaz.**

$$\text{a) } a_n > 0, p \in (0; 1), \text{ zvolíme } \varepsilon > 0 \text{ tak, aby } p + \varepsilon < 1 \xrightarrow{\text{veta 2.3.2}}$$

$$\frac{a_{n+1}}{a_n} \in O_\varepsilon(p) \text{ pre všetky } n \in N \text{ o.k.p. } \implies 0 < \frac{a_{n+1}}{a_n} < p + \varepsilon < 1 \xrightarrow{\text{veta 2.4.9}} \sum_{n=1}^{\infty} a_n \longmapsto.$$

$$\text{b) } 1 < p \xrightarrow{\text{dôsledok 2.3.16.a}} \lim_{n \rightarrow \infty} a_n = \infty \neq 0 \xrightarrow{\text{dôsledok 2.4.1.a}} \sum_{n=1}^{\infty} a_n \longmapsto \infty.$$

$$\text{c) Napríklad } \sum_{n=1}^{\infty} \frac{1}{(n+1)^2} \longmapsto, \quad \sum_{n=1}^{\infty} \frac{1}{n} \longmapsto \infty. \blacksquare$$

**Príklad 2.4.13.**

Vyšetrite konvergenciu  $\sum_{n=1}^{\infty} a_n$ , ak  $a_{2k-1} = \frac{1}{2 \cdot 6^{k-1}}, a_{2k} = \frac{1}{6^k}, k \in N.$

**Riešenie.**

Daný rad môžeme vyjadriť v tvare:

$$\sum_{n=1}^{\infty} a_n = \frac{1}{2 \cdot 6^0} + \frac{1}{6^1} + \frac{1}{2 \cdot 6^1} + \frac{1}{6^2} + \dots + \underbrace{\frac{1}{2 \cdot 6^{k-1}}}_{a_{2k-1}} + \underbrace{\frac{1}{6^k}}_{a_{2k}} + \underbrace{\frac{1}{2 \cdot 6^k}}_{a_{2k+1}} + \underbrace{\frac{1}{6^{k+1}}}_{a_{2k+2}} + \dots$$

$$\left. \begin{aligned} n = 2k &\implies \frac{a_{n+1}}{a_n} = \frac{a_{2k+1}}{a_{2k}} = \frac{6^k}{2 \cdot 6^k} = \frac{1}{2} \\ n = 2k+1 &\implies \frac{a_{n+1}}{a_n} = \frac{a_{2k+2}}{a_{2k+1}} = \frac{2 \cdot 6^k}{6^{k+1}} = \frac{1}{3} \end{aligned} \right\} \implies \lim_{n \rightarrow \infty} \frac{a_{n+1}}{a_n} \text{ neexistuje } \implies$$

$$\frac{a_{n+1}}{a_n} < \frac{1}{2} < 1 \text{ pre všetky } n \in N \xrightarrow{\text{veta 2.4.9}} \sum_{n=1}^{\infty} a_n \longmapsto. \blacksquare$$

**Veta 2.4.10 (Odmocninové Cauchyho kritérium).**

Nech  $a_n \geq 0$  pre všetky  $n \in N$  o.k.p. a nech:

$$\text{a) } \sqrt[n]{a_n} \leq q < 1, \text{ kde } q \in (0; 1) \implies \sum_{n=1}^{\infty} a_n \longmapsto, \quad \text{b) } 1 \leq \sqrt[n]{a_n} \implies \sum_{n=1}^{\infty} a_n \longmapsto \infty.$$

<sup>14</sup> Jean Baptiste d'Alembert [1717–1783] — francúzsky matematik, fyzik a filozof.

**Dôkaz.**

a)  $n \in \text{No.k.p.} \Rightarrow 0 < \sqrt[n]{a_n} \leq q$ , t. j.  $a_n \leq q^n$ ,  $\sum_{n=1}^{\infty} q^n \xrightarrow{\text{veta 2.4.7}} \sum_{n=1}^{\infty} a_n \xrightarrow{\text{veta 2.4.7}} \dots$

b)  $n \in \text{No.k.p.} \Rightarrow 1 < \sqrt[n]{a_n}$ , t. j.  $1 < a_n$ ,  $\sum_{n=1}^{\infty} 1 \xrightarrow{\text{veta 2.4.7}} \infty \xrightarrow{\text{veta 2.4.7}} \sum_{n=1}^{\infty} a_n \xrightarrow{\text{veta 2.4.7}} \infty$ . ■

**Dôsledok 2.4.10.a (Limitný tvar).**

Nech  $a_n \geq 0$  pre všetky  $n \in N$  o.k.p.,  $\lim_{n \rightarrow \infty} \sqrt[n]{a_n} = p \Rightarrow$

a)  $p < 1 \Rightarrow \sum_{n=1}^{\infty} a_n \xrightarrow{\text{veta 2.4.10.a}} \dots$

b)  $1 < p \Rightarrow \sum_{n=1}^{\infty} a_n \xrightarrow{\text{veta 2.4.10.a}} \infty$ ,

c)  $p = 1 \Rightarrow$  nevieme rozhodnúť o konvergencii alebo divergencii radu  $\sum_{n=1}^{\infty} a_n$ .

**Dôkaz.**

a)  $a_n > 0$ ,  $p \in (0; 1)$ , zvolíme  $\varepsilon > 0$  tak, aby  $p + \varepsilon < 1 \xrightarrow{\text{veta 2.3.2}} \dots$

$\sqrt[n]{a_n} \in O_\varepsilon(p)$  pre všetky  $n \in \text{No.k.p.} \Rightarrow 0 < \sqrt[n]{a_n} < p + \varepsilon < 1 \xrightarrow{\text{veta 2.4.10}} \sum_{n=1}^{\infty} a_n \xrightarrow{\text{veta 2.4.10}} \dots$

b)  $1 < p \xrightarrow{\text{dôsledok 2.3.16}} \lim_{n \rightarrow \infty} a_n = \infty \neq 0 \xrightarrow{\text{dôsledok 2.4.1.a}} \sum_{n=1}^{\infty} a_n \xrightarrow{\text{veta 2.4.10}} \infty$ .

c) Napríklad  $\sum_{n=1}^{\infty} \frac{1}{(n+1)^2} \xrightarrow{\text{veta 2.4.10}} \dots$ ,  $\sum_{n=1}^{\infty} \frac{1}{n} \xrightarrow{\text{veta 2.4.10}} \infty$ . ■

**Poznámka 2.4.2.**

Predpoklady a)  $\frac{a_{n+1}}{a_n} \leq q < 1$ ,  $\sqrt[n]{a_n} \leq q < 1$  z viet 2.4.9 a 2.4.10 nemôžeme nahradiť jednoduchšími tvarmi  $\frac{a_{n+1}}{a_n} < 1$ ,  $\sqrt[n]{a_n} < 1$ . Dokazuje to rad  $\sum_{n=1}^{\infty} a_n = \sum_{n=1}^{\infty} \frac{1}{n} \xrightarrow{\text{veta 2.4.10}} \infty$ , ktorý spĺňa obidva predpoklady  $\frac{a_{n+1}}{a_n} = \frac{n}{n+1} < 1$ ,  $\sqrt[n]{a_n} = \frac{1}{\sqrt[n]{n}} < 1$  pre všetky  $n \in N$ .

**Príklad 2.4.14.**

Vyšetrte konvergenciu  $\sum_{n=1}^{\infty} a_n$ , ak  $a_{2k-1} = \frac{1}{2^k}$ ,  $a_{2k} = \frac{1}{3^k}$ ,  $k \in N$ .

**Riešenie.**

Daný rad môžeme vyjadriť v tvare:

$$\sum_{n=1}^{\infty} a_n = \frac{1}{2^1} + \frac{1}{3^1} + \frac{1}{2^2} + \frac{1}{3^2} + \dots + \underbrace{\frac{1}{2^k}}_{a_{2k-1}} + \underbrace{\frac{1}{3^k}}_{a_{2k}} + \underbrace{\frac{1}{2^{k+1}}}_{a_{2k+1}} + \underbrace{\frac{1}{3^{k+1}}}_{a_{2k+2}} + \dots$$

$n = 2k - 1 \Rightarrow \frac{a_{n+1}}{a_n} = \frac{a_{2k}}{a_{2k-1}} = \frac{2^k}{3^k} < 1$  }  $\Rightarrow$  podielové d'Alembertovo kritérium  
 $n = 2k \Rightarrow \frac{a_{n+1}}{a_n} = \frac{a_{2k+1}}{a_{2k}} = \frac{3^k}{2^{k+1}} > 1$  } nemôžeme použiť.

$n = 2k - 1 \Rightarrow \sqrt[n]{a_n} = 2^{k-1} \sqrt[2k-1]{a_{2k-1}} = \frac{1}{2^{k-1} \sqrt[2k-1]{2^k}} \leq \frac{1}{2^{k-1} \sqrt[2k-1]{2^k}} = \frac{1}{\sqrt{2}}$  }  $\Rightarrow$   
 $n = 2k \Rightarrow \sqrt[n]{a_n} = 2^k \sqrt[2k]{a_{2k}} = \frac{1}{2^k \sqrt[2k]{3^k}} = \frac{1}{\sqrt{3}}$

$\sqrt[n]{a_n} \leq \frac{1}{\sqrt{2}} < 1$  pre všetky  $n \in N \xrightarrow{\text{veta 2.4.10}} \sum_{n=1}^{\infty} a_n \xrightarrow{\text{veta 2.4.10}} \dots$ . ■



**Príklad 2.4.15.**

$$\text{a) } \sum_{n=1}^{\infty} \frac{n^n}{n!} \mapsto \infty, \text{ pretože } \lim_{n \rightarrow \infty} \frac{(n+1)^{n+1}}{(n+1)!} \frac{n!}{n^n} = \lim_{n \rightarrow \infty} \frac{(n+1)^n}{n^n} = \lim_{n \rightarrow \infty} \left(1 + \frac{1}{n}\right)^n = e > 1.$$

$$\text{b) } \sum_{n=1}^{\infty} \frac{a^n}{n!} \mapsto \text{pre } a > 0, \text{ pretože } \lim_{n \rightarrow \infty} \frac{a^{n+1}}{(n+1)!} \frac{n!}{a^n} = \lim_{n \rightarrow \infty} \frac{a}{n+1} = \frac{a}{\infty} = 0 < 1,$$

$$\text{resp. } \lim_{n \rightarrow \infty} \sqrt[n]{\frac{a^n}{n!}} = \lim_{n \rightarrow \infty} \frac{a}{\sqrt[n]{n!}} = \frac{a}{\infty} = 0 < 1. \blacksquare$$

Na záver uvedieme bez dôkazu Raabeho kritérium, ktoré je ešte silnejšie ako Cauchyho kritérium a samozrejme tiež ako D'Alembertovo kritérium. To znamená, že ak o konvergencii radu môžeme rozhodnúť pomocou d'Alembertovho kritéria, potom môžeme rozhodnúť tiež pomocou Cauchyho a taktiež pomocou Raabeho kritéria.

**Veta 2.4.11 (Raabeho<sup>15</sup> kritérium).**

Nech  $a_n > 0$  pre všetky  $n \in \mathbb{N}$  o.k.p. a nech:

$$\text{a) } r \leq n \left[ \frac{a_n}{a_{n+1}} - 1 \right], \text{ kde } r > 1 \implies \sum_{n=1}^{\infty} a_n \mapsto, \quad \text{b) } n \left[ \frac{a_n}{a_{n+1}} - 1 \right] \leq 1 \implies \sum_{n=1}^{\infty} a_n \mapsto \infty.$$

**Dôsledok 2.4.11.a (Limitný tvar).**

Nech  $a_n \geq 0$  pre všetky  $n \in \mathbb{N}$  o.k.p.,  $\lim_{n \rightarrow \infty} n \left[ \frac{a_n}{a_{n+1}} - 1 \right] = t \in \mathbb{R}^* \implies$

$$\text{a) } 1 < t \implies \sum_{n=1}^{\infty} a_n \mapsto, \quad \text{b) } t < 1 \implies \sum_{n=1}^{\infty} a_n \mapsto \infty.$$

**Príklad 2.4.16.**

Vyšetrite konvergenciu radu  $\sum_{n=1}^{\infty} a_n = \sum_{n=1}^{\infty} \frac{n!}{a(a+1)(a+2)\dots(a+n)}$ ,  $a > 0$ .

**Riešenie.**

Limitné d'Alembertovo a Cauchyho kritériá použiť nemôžeme, pretože:

$$\lim_{n \rightarrow \infty} \sqrt[n]{a_n} = \lim_{n \rightarrow \infty} \frac{a_{n+1}}{a_n} = \lim_{n \rightarrow \infty} \frac{a(a+1)\dots(a+n)(n+1)!}{n! a(a+1)\dots(a+n+1)} = \lim_{n \rightarrow \infty} \frac{n+1}{a+n+1} = 1.$$

$$\text{Raabe: } \lim_{n \rightarrow \infty} n \left[ \frac{a_n}{a_{n+1}} - 1 \right] = \lim_{n \rightarrow \infty} n \left[ \frac{a+n+1}{n+1} - 1 \right] = \lim_{n \rightarrow \infty} \frac{na}{n+1} = a \lim_{n \rightarrow \infty} \frac{1}{1+\frac{1}{n}} = a.$$

$$a = 1 \implies \sum_{n=1}^{\infty} a_n = \sum_{n=1}^{\infty} \frac{n!}{(n+1)!} = \sum_{n=1}^{\infty} \frac{1}{n+1} = \sum_{n=2}^{\infty} \frac{1}{n} \mapsto \infty.$$

$$\sum_{n=1}^{\infty} a_n \mapsto \text{pre } a > 1, \quad \sum_{n=1}^{\infty} a_n \mapsto \infty \text{ pre } a \leq 1. \blacksquare$$

**2.4.3 Absolútna, relatívna konvergencia a alternujúce rady**

Doteraz sme sa zaoberali číselnými radmi s nezápornými členmi. Tieto rady konvergujú alebo divergujú do  $\infty$ . Rady vo všeobecnosti môžu mať aj záporné členy. Pri vyšetrovaní radov je niekedy vhodné skúmať rady s absolútnymi hodnotami ich členov.

**Rad  $\sum_{n=1}^{\infty} a_n$  konverguje absolútne (je absolútne konvergentný)**, ak konverguje rad absolútnych hodnôt  $\sum_{n=1}^{\infty} |a_n|$ , t. j. ak  $\sum_{n=1}^{\infty} |a_n| \mapsto$ . Označujeme  $\sum_{n=1}^{\infty} |a_n| \xrightarrow{a}$ .

**Rad  $\sum_{n=1}^{\infty} a_n$  konverguje relatívne (neabsolútne)**, ak  $\sum_{n=1}^{\infty} a_n$  konverguje a rad  $\sum_{n=1}^{\infty} |a_n|$  diverguje, t. j. ak  $\sum_{n=1}^{\infty} a_n \mapsto$ ,  $\sum_{n=1}^{\infty} |a_n| \mapsto \infty$ . Označujeme  $\sum_{n=1}^{\infty} |a_n| \xrightarrow{r}$ .

<sup>15</sup> Wilhelm Raabe [1831–1910] — nemecký matematik.

**Veta 2.4.12.**

$\sum_{n=1}^{\infty} a_n \xrightarrow{a} (\text{absolútne}) \implies \sum_{n=1}^{\infty} a_n \xrightarrow{r} (\text{konverguje}).$

**Dôkaz.**

$\sum_{n=1}^{\infty} |a_n| \xrightarrow{r} \xrightarrow{\text{Cauchy-Bolzanov princíp konvergence (veta 2.4.3)}}$

$\forall \varepsilon > 0 \exists n_0 \in \mathbb{N} \forall n, k \in \mathbb{N}, n \geq n_0: \left| |a_{n+1}| + |a_{n+2}| + \dots + |a_{n+k}| \right| < \varepsilon \implies$

$|a_{n+1} + a_{n+2} + \dots + a_{n+k}| \leq |a_{n+1}| + |a_{n+2}| + \dots + |a_{n+k}| < \varepsilon \implies \sum_{n=1}^{\infty} a_n \xrightarrow{r}. \blacksquare$

**Príklad 2.4.17.**

Vyšetrte konvergenciu  $\sum_{n=1}^{\infty} a_n = 1 - 1 + \frac{1}{2} - \frac{1}{2} + \frac{1}{3} - \frac{1}{3} + \dots$ .

**Riešenie.**

Pre postupnosť čiastočných súčtov  $\{s_n\}_{n=1}^{\infty}$  radu  $\sum_{n=1}^{\infty} a_n$  platí:

$n \in \mathbb{N} \implies s_{2n} = 1 - 1 + \frac{1}{2} - \frac{1}{2} + \dots + \frac{1}{n} - \frac{1}{n} = 0, s_{2n+1} = s_{2n} + \frac{1}{n+1} = \frac{1}{n+1} \implies$

$\left. \begin{array}{l} \lim_{n \rightarrow \infty} s_{2n} = \lim_{n \rightarrow \infty} s_{2n+1} = 0 \implies \lim_{n \rightarrow \infty} s_n = \sum_{n=1}^{\infty} a_n = 0 \\ \sum_{n=1}^{\infty} |a_n| = 1 + 1 + \frac{1}{2} + \frac{1}{2} + \dots + \frac{1}{n} + \frac{1}{n} + \dots = 2 \sum_{n=1}^{\infty} \frac{1}{n} = \infty \end{array} \right\} \implies \sum_{n=1}^{\infty} a_n \xrightarrow{r}. \blacksquare$

Nech  $\sum_{n=1}^{\infty} a_n$  je číselný rad, potom rady<sup>16</sup>

$$\sum_{n=1}^{\infty} a_n^+ = s^+, \quad \sum_{n=1}^{\infty} a_n^- = s^-$$

obsahujú iba nezáporné členy. To znamená, že majú vždy súčet, pričom môže byť aj nevlastný. Potom na základe vety 2.4.4, pokiaľ majú uvedené výrazy zmysel, platí:

$$\sum_{n=1}^{\infty} a_n = \sum_{n=1}^{\infty} (a_n^+ - a_n^-) = s^+ - s^-, \quad \sum_{n=1}^{\infty} |a_n| = \sum_{n=1}^{\infty} (a_n^+ + a_n^-) = s^+ + s^-.$$

**Poznámka 2.4.3.**

$\sum_{n=1}^{\infty} a_n \xrightarrow{a} \implies (s^+ - s^-) \in \mathbb{R}, (s^+ + s^-) \in \mathbb{R} \implies s^+, s^- \in \mathbb{R}.$

$\sum_{n=1}^{\infty} a_n \xrightarrow{r} \implies (s^+ - s^-) \in \mathbb{R}, s^+ + s^- = \infty \implies s^+ = s^- = \infty.$

Nech  $a_n \geq 0$  [resp.  $a_n \leq 0$ ] pre všetky  $n \in \mathbb{N}$ , potom **alternujúcim radom** (radom so striedavými znamienkami) nazývame rad:

$$\sum_{n=1}^{\infty} (-1)^{n+1} a_n = a_1 - a_2 + a_3 - a_4 + \dots + (-1)^{n+1} a_n + \dots$$

**Veta 2.4.13 (Leibnizovo kritérium).**

Nech  $a_n \geq 0$  pre  $n \in \mathbb{N}$ ,  $\{a_n\}_{n=1}^{\infty}$  je nerastúca,  $\lim_{n \rightarrow \infty} a_n = 0 \implies \sum_{n=1}^{\infty} (-1)^{n+1} a_n \xrightarrow{r}.$

**Dôkaz.**

$\{a_n\}_{n=1}^{\infty}$  je nerastúca  $\implies \forall n \in \mathbb{N}: a_n \geq a_{n+1} \implies \forall n \in \mathbb{N}: a_n - a_{n+1} \geq 0.$

$\{s_n\}_{n=1}^{\infty}$  je postupnosť čiastočných súčtov  $\sum_{n=1}^{\infty} (-1)^{n+1} a_n \implies$

$$s_{2n} = a_1 - (a_2 - a_3) - \dots - (a_{2n-2} - a_{2n-1}) - a_{2n} \leq a_1,$$

<sup>16</sup>Strana 30:  $a^+ = \max\{a, 0\}$ ,  $a^- = \max\{-a, 0\}$ .

$$\begin{aligned}
s_{2(n+1)} &= s_{2n+2} = s_{2n} + (a_{2n+1} - a_{2n+2}) \geq s_{2n} \Rightarrow \\
\{s_{2n}\}_{n=1}^{\infty} &\text{ je neklesajúca a ohraničená zhora } \Rightarrow \{s_{2n}\}_{n=1}^{\infty} \mapsto s \in R \Rightarrow \\
\lim_{n \rightarrow \infty} s_{2n+1} &= \lim_{n \rightarrow \infty} (s_{2n} + a_{2n+1}) = \lim_{n \rightarrow \infty} s_{2n} + \lim_{n \rightarrow \infty} a_{2n+1} = s + 0 = s \Rightarrow \\
\lim_{n \rightarrow \infty} s_n &= \lim_{n \rightarrow \infty} s_{2n} = \lim_{n \rightarrow \infty} s_{2n+1} = s \Rightarrow \sum_{n=1}^{\infty} (-1)^{n+1} a_n \mapsto \blacksquare
\end{aligned}$$

**Príklad 2.4.18.**

Anharmonický rad<sup>17</sup>  $\sum_{n=1}^{\infty} \frac{(-1)^{n+1}}{n} = 1 - \frac{1}{2} + \frac{1}{3} - \frac{1}{4} + \dots + \frac{(-1)^{n+1}}{n} + \dots \xrightarrow{r} \ln 2$ .

**Riešenie.**

$$\begin{aligned}
\left\{ \frac{1}{n} \right\}_{n=1}^{\infty} &\text{ je klesajúca, } \lim_{n \rightarrow \infty} \frac{1}{n} = 0 \xrightarrow{\text{veta 2.4.13}} \sum_{n=1}^{\infty} \frac{(-1)^{n+1}}{n} \mapsto \cdot \\
\sum_{n=1}^{\infty} \left| \frac{(-1)^{n+1}}{n} \right| &= \sum_{n=1}^{\infty} \frac{1}{n} = \infty \Rightarrow \sum_{n=1}^{\infty} a_n \xrightarrow{r} \blacksquare
\end{aligned}$$

**Príklad 2.4.19.**

$$\sum_{n=1}^{\infty} a_n = \sum_{n=1}^{\infty} \frac{1}{(2n-1)2n} \xrightarrow{a} \ln 2.$$

**Riešenie.**

$$\begin{aligned}
a_n &= \frac{1}{(2n-1)2n} = \frac{1}{2n-1} - \frac{1}{2n}, \quad n \in N, \quad \{s_n\}_{n=1}^{\infty} \text{ je postupnosť čiastočných súčtov } \sum_{n=1}^{\infty} a_n \Rightarrow \\
n \in N &\Rightarrow 0 < a_n, \quad 0 < s_n = \frac{1}{1 \cdot 2} + \frac{1}{3 \cdot 4} + \dots + \frac{1}{(2n-1)2n} = \\
&= \left( \frac{1}{1} - \frac{1}{2} \right) + \left( \frac{1}{3} - \frac{1}{4} \right) + \dots + \left( \frac{1}{2n-1} - \frac{1}{2n} \right) = \frac{1}{1} - \frac{1}{2} + \frac{1}{3} - \frac{1}{4} + \dots + \frac{1}{2n-1} - \frac{1}{2n} = t_{2n} \Rightarrow \\
\{s_n\}_{n=1}^{\infty} &\text{ je rastúca a je podpostupnosťou z postupnosti čiastočných súčtov anharmonického} \\
\text{radu } \{t_n\}_{n=1}^{\infty} &\xrightarrow{a} \ln 2. \text{ Z toho vyplýva } \sum_{n=1}^{\infty} a_n \xrightarrow{a} \ln 2. \blacksquare
\end{aligned}$$

Niekedy je pri vyšetrowaní radu výhodné jeho členy vyjadriť v tvare súčinu  $a_n b_n$  a vyšetrowať  $\{a_n\}_{n=1}^{\infty}, \{b_n\}_{n=1}^{\infty}$ . Pre ilustráciu uvedieme dve kritériá bez dôkazov.

**Veta 2.4.14 (Abelovo<sup>18</sup> kritérium).**

$$\left. \begin{array}{l} \text{a) } \sum_{n=1}^{\infty} a_n \text{ konverguje} \\ \text{b) } \{b_n\}_{n=1}^{\infty} \text{ je monotónna a ohraničená} \end{array} \right\} \Rightarrow \text{číselný rad } \sum_{n=1}^{\infty} a_n b_n \text{ konverguje.}$$

Požiadavku monotónnosti  $\{b_n\}_{n=1}^{\infty}$  nemôžeme vynechať. Pre  $a_n = \frac{(-1)^n}{n}, b_n = (-1)^n$  by boli predpoklady vety splnené, ale  $\sum_{n=1}^{\infty} a_n b_n = \sum_{n=1}^{\infty} \frac{(-1)^{2n}}{n} = \sum_{n=1}^{\infty} \frac{1}{n} = \infty$ .

**Veta 2.4.15 (Dirichletovo kritérium).**

Nech  $\{s_n\}_{n=1}^{\infty}$  je postupnosť čiastočných súčtov radu  $\sum_{n=1}^{\infty} a_n$  a nech platí:

$$\left. \begin{array}{l} \text{a) } \{s_n\}_{n=1}^{\infty} \text{ je ohraničená} \\ \text{b) } \{b_n\}_{n=1}^{\infty} \text{ je nerastúca, } \lim_{n \rightarrow \infty} b_n = 0 \end{array} \right\} \Rightarrow \text{číselný rad } \sum_{n=1}^{\infty} a_n b_n \text{ konverguje.}$$

Leibnizovo kritérium je špeciálnym prípadom Dirichletovho. Ak rad  $\sum_{n=1}^{\infty} (-1)^{n+1} c_n$  spĺňa predpoklady Leibnizovho kritéria, potom stačí položiť  $a_n = (-1)^{n+1}, b_n = c_n$ .

<sup>17</sup>Jeho súčet je  $\ln 2$  (viď napr. [9]).

<sup>18</sup>Niels Henrik Abel [1802–1829] — nórsky matematik.

**Príklad 2.4.20.**

Vyšetrite konvergenciu radu  $\sum_{n=1}^{\infty} \frac{(-1)^{n+1}}{n} \ln \left[ c + \frac{1}{n} \right]$ ,  $c > 0$ .

**Riešenie.**

Pre  $c > 0$  sú splnené predpoklady Abelovho kritéria:

$$a_n = \frac{(-1)^{n+1}}{n}, n \in N \Rightarrow \sum_{n=1}^{\infty} a_n = \sum_{n=1}^{\infty} \frac{(-1)^{n+1}}{n} \mapsto \ln 2.$$

$$b_n = \ln \left[ c + \frac{1}{n} \right], n \in N \Rightarrow c + 1 \geq c + \frac{1}{n} \geq c + \frac{1}{n+1} \geq c \xrightarrow{\text{vlastnosti funkcie } \ln \text{ (str. 85)}}$$

$$\begin{aligned} \ln(c+1) &\geq \underbrace{\ln \left[ c + \frac{1}{n} \right]}_{b_n} \geq \underbrace{\ln \left[ c + \frac{1}{n+1} \right]}_{b_{n+1}} \geq \ln c \Rightarrow \{b_n\}_{n=1}^{\infty} \text{ je ohraničená, nerastúca} \\ &\Rightarrow \sum_{n=1}^{\infty} \frac{(-1)^{n+1}}{n} \ln \left[ c + \frac{1}{n} \right] \mapsto \text{pre všetky } c > 0. \blacksquare \end{aligned}$$

**2.4.4 Prerovnanie radov a rady s predpísaným súčtom**

Už sme spomínali, že pre nekonečné rady vo všeobecnosti neplatí asociatívny zákon. Platí iba pre konvergentné rady (veta 2.4.5). S komutatívnym zákonom je to trochu zložitejšie, nemusí platiť ani pre konvergentné rady (príklad 2.4.21).

Nech  $\{k_n\}_{n=1}^{\infty}$  je postupnosť prirodzených čísel, ktorá obsahuje každé prirodzené číslo práve raz.<sup>19</sup> **Prerovnaným radom (prerovnaním) radu**  $\sum_{n=1}^{\infty} a_n$  nazývame rad

$$\sum_{n=1}^{\infty} a_{k_n} = a_{k_1} + a_{k_2} + a_{k_3} + \dots + a_{k_n} + \dots$$

**Príklad 2.4.21.**

$$\sum_{n=1}^{\infty} \frac{(-1)^{n+1}}{n} = 1 - \frac{1}{2} + \frac{1}{3} - \frac{1}{4} + \frac{1}{5} - \frac{1}{6} + \frac{1}{7} - \frac{1}{8} + \dots + \frac{(-1)^{n+1}}{n} + \dots = \ln 2.$$

Rad prerovnáme pomocou postupnosti

$$\{2k-1, 2(2k-1), 2 \cdot 2k\}_{k=1}^{\infty} = \{1, 2, 4, 3, 6, 8, 5, 10, 12, 7, 14, 16, \dots\}.$$

Potom dostaneme prerovnaný rad

$$\sum_{n=1}^{\infty} b_n = 1 - \frac{1}{2} - \frac{1}{4} + \frac{1}{3} - \frac{1}{6} - \frac{1}{8} + \dots + \frac{1}{2k-1} - \frac{1}{2(2k-1)} - \frac{1}{2 \cdot 2k} + \dots$$

Označme postupnosť čiastočných súčtov pôvodného radu  $\{s_n\}_{n=1}^{\infty}$  a prerovnaného radu  $\{t_n\}_{n=1}^{\infty}$ . Potom pre  $n = 3k$ ,  $n = 3k+1$ ,  $n = 3k+2$ ,  $k \in N$  a pre  $k \mapsto \infty$  platí:

$$\begin{aligned} t_{3k} &= \left[ 1 - \frac{1}{2} - \frac{1}{4} \right] + \dots + \left[ \frac{1}{2k-1} - \frac{1}{2(2k-1)} - \frac{1}{2 \cdot 2k} \right] = \left[ \frac{1}{2} - \frac{1}{4} \right] + \dots + \left[ \frac{1}{2(2k-1)} - \frac{1}{2 \cdot 2k} \right] = \\ &= \frac{1}{2} - \frac{1}{4} + \dots + \frac{1}{2(2k-1)} - \frac{1}{2 \cdot 2k} = \frac{1}{2} \left[ 1 - \frac{1}{2} + \dots + \frac{1}{2k-1} - \frac{1}{2k} \right] = \frac{1}{2} s_{2k} \mapsto \frac{\ln 2}{2}, \end{aligned}$$

$$t_{3k+1} = t_{3k} + \frac{1}{2k+1} = \frac{s_{2k}}{2} + \frac{1}{2k+1} \mapsto \frac{\ln 2}{2}, \quad t_{3k+2} = \frac{s_{2k}}{2} + \frac{1}{2k+1} - \frac{1}{2(2k+1)} \mapsto \frac{\ln 2}{2}.$$

To znamená, že prerovnaný rad konverguje k (inému) číslu  $\sum_{n=1}^{\infty} b_n \mapsto \frac{\ln 2}{2}$ . ■

<sup>19</sup>Postupnosť  $\{k_n\}_{n=1}^{\infty}$  je bijekcia množiny  $N$  na množinu  $N$ . To znamená, že pre každé  $n \in N$  existuje  $m \in N$  také, že platí  $k_m = n$  (surjekcia) a pre všetky  $m, n \in N$ ,  $m \neq n$  platí  $k_m \neq k_n$  (injekcia).

Prerovnaním konvergentného radu môžeme dostať aj divergentný rad. Dokonca môžeme tento rad prerovnať tak, aby smeroval k dopredu zvolenej hodnote  $s \in \mathbb{R}^*$ .

Z poznámky 2.4.3 vyplýva, že prerovnávať k inému súčtu môžeme iba relatívne konvergentné rady.

**Veta 2.4.16 (Riemann).**

$\alpha \in \mathbb{R}^*$ ,  $\sum_{n=1}^{\infty} a_n \xrightarrow{r} \implies$  existuje prerovnanie  $\sum_{n=1}^{\infty} a_{k_n} \xrightarrow{r} \alpha$ .

**Dôkaz.**

Dôkaz je formálne náročný a nebudeme ho robiť. Myšlienku ukážeme na príklade 2.4.22. Je založená na skutočnosti, že súčty kladných a záporných členov relatívne konvergentného radu sú nevlastné (poznámka 2.4.3). ■

**Príklad 2.4.22.**

Prerovnajte  $\sum_{n=1}^{\infty} a_n = \sum_{n=1}^{\infty} \frac{(-1)^{n+1}}{n}$  tak, aby konvergoval k číslu  $\frac{5}{4}$ .

**Riešenie.**

$\sum_{n=1}^{\infty} a_n \xrightarrow{r} \ln 2$  (príklad 2.4.18). Z poznámky 2.4.3 vyplýva:

$$P = \sum_{n=1}^{\infty} a_n^+ = 1 + \frac{1}{3} + \frac{1}{5} + \frac{1}{7} + \dots = \infty, \quad M = \sum_{n=1}^{\infty} a_n^- = -\frac{1}{2} - \frac{1}{4} - \frac{1}{6} - \frac{1}{8} - \dots = -\infty.$$

Z radu  $P$  vyberieme toľko prvých členov, aby ich súčet  $s > \frac{5}{4}$ . Potom k nim pridáme toľko prvých členov z radu  $M$ , aby ich spoločný súčet  $s < \frac{5}{4}$ . V našom prípade to bude:

$$1 + \frac{1}{3} = \frac{4}{3} \approx 1,333 > \frac{5}{4} = 1,25, \quad 1 + \frac{1}{3} - \frac{1}{2} = \frac{5}{6} \approx 0,8333 < \frac{5}{4} = 1,25.$$

K nim pridáme toľko prvých nevybratých členov radu  $P$ , aby spoločný súčet  $s > \frac{5}{4}$ :

$$1 + \frac{1}{3} - \frac{1}{2} + \frac{1}{5} + \frac{1}{7} + \frac{1}{9} = \frac{811}{630} \approx 1,287 > 1,25.$$

Potom k nim pridáme toľko prvých nevybratých členov radu  $M$ , aby spoločný súčet  $s < \frac{5}{4}$ :

$$1 + \frac{1}{3} - \frac{1}{2} + \frac{1}{5} + \frac{1}{7} + \frac{1}{9} - \frac{1}{4} = \frac{1307}{1260} \approx 1,037 < 1,25.$$

Takto môžeme pokračovať do nekonečna a prerovnaný rad bude konvergovať k číslu  $\frac{5}{4}$ . Prakticky pokračujeme po požadovanú presnosť. Pre ilustráciu uvedieme ešte dva kroky:

$$1 + \frac{1}{3} - \frac{1}{2} + \frac{1}{5} + \frac{1}{7} + \frac{1}{9} - \frac{1}{4} + \frac{1}{11} + \frac{1}{13} + \frac{1}{15} \approx 1,272 > 1,25,$$

$$1 + \frac{1}{3} - \frac{1}{2} + \frac{1}{5} + \frac{1}{7} + \frac{1}{9} - \frac{1}{4} + \frac{1}{11} + \frac{1}{13} + \frac{1}{15} - \frac{1}{6} \approx 1,105 < 1,25. \quad \blacksquare$$

Pre absolútne konvergentné rady Riemannova veta neplatí. V tomto prípade každé prerovnanie daného radu konverguje k rovnakému súčtu (poznámka 2.4.3).

**Príklad 2.4.23.**

Určte súčet radu  $\sum_{n=1}^{\infty} a_n$ , ak  $a_n = \frac{1}{2^{n+1}}$  pre  $n$  nepárne a  $a_n = \frac{-1}{2^{n-1}}$  pre  $n$  párne.

**Riešenie.**

Daný rad môžeme zapísať v tvare:

$$\sum_{n=1}^{\infty} a_n = \frac{1}{2^2} - \frac{1}{2} + \frac{1}{2^4} - \frac{1}{2^3} + \dots = \left(-\frac{1}{2}\right)^2 + \left(-\frac{1}{2}\right)^1 + \left(-\frac{1}{2}\right)^4 + \left(-\frac{1}{2}\right)^3 + \dots$$

Tento rad je prerovnaním geometrického radu  $\sum_{n=1}^{\infty} \left(-\frac{1}{2}\right)^n \xrightarrow{a}$ . Potom platí

$$\sum_{n=1}^{\infty} a_n = \sum_{n=1}^{\infty} \left(-\frac{1}{2}\right)^n = -1 + \sum_{n=0}^{\infty} \left(-\frac{1}{2}\right)^n = -1 + \frac{1}{1+\frac{1}{2}} = -1 + \frac{2}{3} = -\frac{1}{3}. \blacksquare$$

Na záver sa budeme zaoberať **úlohou ako nájsť nejaký rad s predpísaným súčtom**. Vytvoriť rad  $\sum_{n=1}^{\infty} a_n$  s konkrétnym súčtom  $s \in R^*$  nie je zložité.

#### Príklad 2.4.24.

Nech  $s \in R^*$ . Zostrojte číselný rad  $\sum_{n=1}^{\infty} a_n$  tak, aby  $\sum_{n=1}^{\infty} a_n \mapsto s$ .

#### Riešenie.

Nech  $\{s_n\}_{n=1}^{\infty} \mapsto s \in R^*$ . Označme  $s_0 = 0$ . Ak pre  $n \in N$  položíme:

$$a_1 = s_1 = s_1 - s_0, \quad a_2 = s_2 - s_1, \quad a_3 = s_3 - s_2, \quad \dots, \quad a_n = s_n - s_{n-1}, \quad \dots,$$

potom pre  $n$ -tý čiastočný súčet  $t_n$  radu  $\sum_{n=1}^{\infty} a_n$  platí:

$$t_n = a_1 + a_2 + \dots + a_n = s_1 + (s_2 - s_1) + (s_3 - s_2) + \dots + (s_n - s_{n-1}) = s_n.$$

$$\Rightarrow \sum_{n=1}^{\infty} a_n = \sum_{n=1}^{\infty} (s_n - s_{n-1}) = \lim_{n \rightarrow \infty} t_n = \lim_{n \rightarrow \infty} s_n = s.$$

#### Iné riešenie.

Nech  $s \in R$ ,  $\{b_n\}_{n=1}^{\infty} \mapsto 0$ . Ak položíme  $s_n = s + b_n$  pre  $n \in N$ , potom  $\{s_n\}_{n=1}^{\infty}$  je postupnosť čiastočných súčtov radu  $\sum_{n=1}^{\infty} a_n$ , kde

$$a_1 = s_1 = s + b_1, \quad a_n = s_n - s_{n-1} = (s + b_n) - (s + b_{n-1}) = b_n - b_{n-1} \quad \text{pre } n \geq 2.$$

Zvoľme  $b_0$  tak, aby  $b_1 - b_0 = a_1 = s + b_1$ , t. j.  $b_0 = -s$ . Potom platí:

$$\sum_{n=1}^{\infty} a_n = \sum_{n=1}^{\infty} (b_n - b_{n-1}) = \lim_{n \rightarrow \infty} s_n = \lim_{n \rightarrow \infty} (s + b_n) = s + 0 = s.$$

Ak je  $\{b_n\}_{n=1}^{\infty}$  nerastúca, resp. neklesajúca, potom  $a_n = b_n - b_{n-1} \geq 0$ , resp.  $a_n \leq 0$ .

To znamená, že rad  $\sum_{n=1}^{\infty} a_n$  s predpísaným súčtom obsahuje iba nezáporné, resp. nekladné členy a konverguje absolútne, t. j.  $\sum_{n=1}^{\infty} a_n = \sum_{n=1}^{\infty} (b_n - b_{n-1}) \xrightarrow{a} s$ .  $\blacksquare$

#### Príklad 2.4.25.

Ak  $s = 0$ ,  $\{s_n\}_{n=1}^{\infty} = \left\{\frac{1}{n}\right\}_{n=1}^{\infty} \mapsto 0$ , potom pre všetky  $n \in N$  platí:

$$a_1 = s_1 = 1, \quad a_n = s_n - s_{n-1} = \frac{1}{n} - \frac{1}{n-1} = \frac{n-1-n}{n(n-1)} = \frac{-1}{(n-1)n} < 0 \quad \text{pre } n \geq 2 \Rightarrow$$

$$\sum_{n=1}^{\infty} a_n = 1 - \sum_{n=2}^{\infty} \frac{1}{(n-1)n} = 1 - \frac{1}{1 \cdot 2} - \frac{1}{2 \cdot 3} - \dots - \frac{1}{(n-1)n} - \dots = \lim_{n \rightarrow \infty} s_n = 0.$$

Z toho navyše vyplýva  $\sum_{n=1}^{\infty} \frac{1}{n(n+1)} = \frac{1}{1 \cdot 2} + \frac{1}{2 \cdot 3} + \dots + \frac{1}{n(n+1)} + \dots \xrightarrow{a} 1$ .  $\blacksquare$

**Príklad 2.4.26.**

Zostrojte číselný rad  $\sum_{n=1}^{\infty} a_n \mapsto s$ ,  $s = 1$ .

**Riešenie.**

$\{b_n\}_{n=1}^{\infty} = \left\{ \frac{(-1)^{n+1}}{n+1} \right\}_{n=1}^{\infty} \mapsto 0$ . Potom (príklad 2.4.24) pre  $n \in N$  platí:

$$s_n = s + b_n = 1 + \frac{(-1)^{n+1}}{n+1}, \quad \lim_{n \rightarrow \infty} s_n = 1, \quad a_1 = s + b_1 = 1 + \frac{1}{2} = \frac{3}{2} = \frac{2 \cdot 1 + 1}{1 \cdot (1+1)},$$

$$a_n = b_n - b_{n-1} = \frac{(-1)^{n+1}}{n+1} - \frac{(-1)^n}{n} = (-1)^{n+1} \left[ \frac{1}{n+1} + \frac{1}{n} \right] = (-1)^{n+1} \frac{2n+1}{n(n+1)} \quad \text{pre } n \geq 2 \Rightarrow$$

$$\sum_{n=1}^{\infty} (-1)^{n+1} \frac{2n+1}{n(n+1)} = \frac{3}{1 \cdot 2} - \frac{5}{2 \cdot 3} + \frac{7}{3 \cdot 4} - \frac{9}{4 \cdot 5} + \dots + (-1)^{n+1} \frac{2n+1}{n(n+1)} + \dots \mapsto 1.$$

**Iné riešenie.**

$\{b_n\}_{n=1}^{\infty} = \left\{ \frac{-1}{(n+1)^2} \right\}_{n=1}^{\infty} \mapsto 0$ . Potom (príklad 2.4.24) pre  $n \in N$  platí:

$$s_n = s + b_n = 1 - \frac{1}{(n+1)^2}, \quad \lim_{n \rightarrow \infty} s_n = 1, \quad a_1 = s + b_1 = 1 - \frac{1}{4} = \frac{3}{4} = \frac{2 \cdot 1 + 1}{1^2 \cdot (1+1)^2},$$

$$a_n = b_n - b_{n-1} = -\frac{1}{(n+1)^2} + \frac{1}{n^2} = \frac{-n^2 + n^2 + 2n + 1}{n^2(n+1)^2} = \frac{2n+1}{n^2(n+1)^2} > 0 \quad \text{pre } n \geq 2 \Rightarrow$$

$$\sum_{n=1}^{\infty} \frac{2n+1}{n^2(n+1)^2} = \frac{3}{1 \cdot 4} + \frac{5}{4 \cdot 9} + \frac{7}{9 \cdot 16} + \frac{9}{16 \cdot 25} + \dots + \frac{2n+1}{n^2(n+1)^2} + \dots \xrightarrow{a} 1. \blacksquare$$

Vytváranie radov s predpísaným súčtom nie je samoúčelné. Znalosť súčtu niektorého radu môžeme využiť pri určovaní súčtu iného radu (príklad 2.4.27).

**Príklad 2.4.27.**

Určte súčet radu  $\sum_{n=1}^{\infty} \frac{1}{2n(2n+1)} = \frac{1}{2 \cdot 3} + \frac{1}{4 \cdot 5} + \dots + \frac{1}{2n(2n+1)} + \dots$ .

**Riešenie.**

Na základe príkladov 2.4.19 a 2.4.25 platí:

$$\begin{aligned} \sum_{n=1}^{\infty} \frac{1}{n(n+1)} &= \frac{1}{1 \cdot 2} + \frac{1}{2 \cdot 3} + \frac{1}{3 \cdot 4} + \frac{1}{4 \cdot 5} + \frac{1}{5 \cdot 6} + \frac{1}{6 \cdot 7} + \frac{1}{7 \cdot 8} + \frac{1}{8 \cdot 9} + \dots = 1, \\ \sum_{n=1}^{\infty} \frac{1}{(2n-1)2n} &= \frac{1}{1 \cdot 2} + \frac{1}{3 \cdot 4} + \frac{1}{5 \cdot 6} + \frac{1}{7 \cdot 8} + \dots = \ln 2, \\ \sum_{n=1}^{\infty} \frac{1}{2n(2n+1)} &= \frac{1}{2 \cdot 3} + \frac{1}{4 \cdot 5} + \frac{1}{6 \cdot 7} + \frac{1}{8 \cdot 9} + \dots = ?. \end{aligned}$$

Z toho vyplýva  $\sum_{n=1}^{\infty} \frac{1}{2n(2n+1)} = \sum_{n=1}^{\infty} \frac{1}{n(n+1)} - \sum_{n=1}^{\infty} \frac{1}{(2n-1)2n} = 1 - \ln 2. \blacksquare$

Na záver uvedieme bez výpočtu niektoré číselné rady a ich súčty:

$$\sum_{n=0}^{\infty} \frac{a^n}{n!} = e^a, \quad a \in \mathbb{R}, \quad \sum_{n=1}^{\infty} \frac{1}{n^2} = \frac{\pi^2}{6}, \quad \sum_{n=1}^{\infty} \frac{1}{n^4} = \frac{\pi^4}{90}, \quad \sum_{n=1}^{\infty} \frac{(-1)^{n+1}}{2n-1} = \frac{\pi}{4}.$$

## Cvičenia

## 2.4.1. Vyšetrite konvergenciu radov: ♣

$$\begin{array}{llll}
\text{a)} \sum_{n=2}^{\infty} \frac{1}{\ln n}, & \text{b)} \sum_{n=1}^{\infty} \frac{2}{n^2+1}, & \text{c)} \sum_{n=1}^{\infty} \frac{n}{2n-1}, & \text{d)} \sum_{n=1}^{\infty} (-1)^n, \\
\text{e)} \sum_{n=1}^{\infty} \frac{2^{n-1}}{n^n}, & \text{f)} \sum_{n=1}^{\infty} \frac{(n!)^2}{(2n)!}, & \text{g)} \sum_{n=1}^{\infty} \frac{\sqrt[3]{n}}{n+\sqrt{n}}, & \text{h)} \sum_{n=1}^{\infty} \frac{n^2}{n^2+1}, \\
\text{i)} \sum_{n=1}^{\infty} \frac{n+1}{n^2+1}, & \text{j)} \sum_{n=1}^{\infty} \frac{n}{n+1}, & \text{k)} \sum_{n=1}^{\infty} \frac{3^n n!}{n^n}, & \text{l)} \sum_{n=1}^{\infty} \frac{1}{n^2-n}, \\
\text{m)} \sum_{n=1}^{\infty} \frac{n!}{2^{n+1}}, & \text{n)} \sum_{n=1}^{\infty} \frac{(-1)^n}{2\sqrt{n}}, & \text{o)} \sum_{n=1}^{\infty} \frac{n^5}{2^n+3^n}, & \text{p)} \sum_{n=1}^{\infty} \frac{2^n n!}{n^n}, \\
\text{q)} \sum_{n=1}^{\infty} \sin \frac{1}{n}, & \text{r)} \sum_{n=1}^{\infty} \cos \frac{1}{n}, & \text{s)} \sum_{n=1}^{\infty} \cos \frac{1}{n^2}, & \text{t)} \sum_{n=1}^{\infty} \sin \frac{1}{n^2}.
\end{array}$$

## 2.4.2. Vyšetrite konvergenciu radov: ♣

$$\begin{array}{lll}
\text{a)} \sum_{n=1}^{\infty} \frac{1}{10n+1}, & \text{b)} \sum_{n=1}^{\infty} \ln \frac{n^2+1}{n^2}, & \text{c)} \sum_{n=1}^{\infty} \frac{1}{(2n-1)^2}, \\
\text{d)} \sum_{n=1}^{\infty} \arcsin \frac{1}{\sqrt{n}}, & \text{e)} \sum_{n=1}^{\infty} \operatorname{arctg} \frac{1}{n}, & \text{f)} \sum_{n=1}^{\infty} \operatorname{arctg} \frac{1}{n^2}, \\
\text{g)} \sum_{n=1}^{\infty} \arcsin \frac{1}{n}, & \text{h)} \sum_{n=1}^{\infty} \arcsin \frac{1}{n^2}, & \text{i)} \sum_{n=1}^{\infty} \ln \left(1 + \frac{1}{n}\right), \\
\text{j)} \sum_{n=1}^{\infty} \frac{1}{n} \left(\frac{2}{5}\right)^n, & \text{k)} \sum_{n=1}^{\infty} \frac{1}{n\sqrt{n+1}}, & \text{l)} \sum_{n=1}^{\infty} \frac{1}{\sqrt{n(n+1)}}.
\end{array}$$

## 2.4.3. Vyšetrite konvergenciu radov: ♣

$$\begin{array}{lll}
\text{a)} \sum_{n=1}^{\infty} \frac{1 \cdot 4 \cdots n^2}{1 \cdot 3 \cdots (2n-1)}, & \text{b)} \sum_{n=1}^{\infty} \frac{1}{3 \sqrt[2]{3} \sqrt[3]{3} \cdots \sqrt[n]{3}}, & \text{c)} \sum_{n=1}^{\infty} \frac{1+2+3+\cdots+n}{n^3}, \\
\text{d)} \sum_{n=1}^{\infty} \frac{\sqrt{n+1}-\sqrt{n}}{n}, & \text{e)} \sum_{n=1}^{\infty} [\sqrt{n}-\sqrt{n-1}], & \text{f)} \sum_{n=1}^{\infty} \frac{1}{\sqrt{(2n-1)(2n+1)}}, \\
\text{g)} \sum_{n=1}^{\infty} \frac{1}{\sqrt{n}} \sin \frac{1}{n}, & \text{h)} \sum_{n=1}^{\infty} \frac{1}{\sqrt{n(n+1)(n+2)}}, & \text{i)} \sum_{n=1}^{\infty} \left(\frac{1}{n} - \frac{1}{3^n}\right), \\
\text{j)} \sum_{n=1}^{\infty} \frac{3-(-1)^n}{(-1)^n 2^n}, & \text{k)} \sum_{n=1}^{\infty} \left(\frac{1}{2^{2n-1}} + \frac{1}{3^{2n}}\right), & \text{l)} \sum_{n=1}^{\infty} \frac{(-1)^n}{\ln(2n+1)}, \\
\text{m)} \sum_{n=1}^{\infty} \frac{1}{(3n-2)(3n+1)}, & \text{n)} \sum_{n=1}^{\infty} \frac{1}{(4n-3)(4n-1)}, & \text{o)} \sum_{n=1}^{\infty} \frac{2n+1}{(n+1)^2(n+2)^2}, \\
\text{p)} \sum_{n=1}^{\infty} \left(\frac{n+1}{n^2+1}\right)^{2n-1}, & \text{q)} \sum_{n=1}^{\infty} \left(\frac{3n}{3n+1}\right)^n, & \text{r)} \sum_{n=1}^{\infty} \left(\frac{n+2}{2n+1}\right)^n.
\end{array}$$

## 2.4.4. Vypočítajte súčet radov: ♣

$$\begin{array}{lll}
\text{a)} \sum_{n=1}^{\infty} \frac{1}{(n+1)(n+2)}, & \text{b)} \sum_{n=1}^{\infty} \binom{n+3}{n}^{-1}, & \text{c)} \sum_{n=1}^{\infty} [\sqrt{n+1} - \sqrt{n}],
\end{array}$$



- d)  $\sum_{n=1}^{\infty} \frac{1}{(n+3)(n+7)}$ , e)  $\sum_{n=1}^{\infty} \frac{2n+1}{n^2(n+1)^2}$ , f)  $\sum_{n=1}^{\infty} \frac{1}{(n+2)(n+3)(n+4)}$ ,  
 g)  $\sum_{n=1}^{\infty} \left[ \frac{1}{2^n} + \frac{1}{3^n} \right]$ , h)  $\sum_{n=1}^{\infty} \frac{2n-1}{2^n}$ , i)  $\sum_{n=1}^{\infty} \frac{1}{n(n+1)(n+2)}$ ,  
 j)  $\sum_{n=1}^{\infty} (-1)^{n+1} \left(\frac{2}{3}\right)^n$ , k)  $\sum_{n=1}^{\infty} (-1)^n \left(\frac{5}{7}\right)^n$ , l)  $\sum_{n=1}^{\infty} \frac{1}{(3n-2)(3n+1)}$

2.4.5. Vyšetrite relatívnu a absolútnu konvergenciu radov: ♣

- a)  $\sum_{n=1}^{\infty} \frac{(-1)^{n-1}}{n-1}$ , b)  $\sum_{n=1}^{\infty} \frac{(-1)^{2n-1}}{n-1}$ , c)  $\sum_{n=1}^{\infty} \frac{(-1)^{n-1}}{\sqrt{n}}$ , d)  $\sum_{n=1}^{\infty} \frac{(-1)^{\frac{n(n-1)}{2}}}{2^n}$ ,  
 e)  $\sum_{n=2}^{\infty} \frac{(-1)^n}{n \ln n}$ , f)  $\sum_{n=1}^{\infty} \frac{(-1)^{\sqrt{n}}}{n}$ , g)  $\sum_{n=1}^{\infty} \frac{(-1)^n}{\sqrt[n]{n}}$ , h)  $\sum_{n=1}^{\infty} \frac{(-1)^n}{\sqrt{n+(-1)^n}}$ ,  
 i)  $\sum_{n=1}^{\infty} \frac{(-1)^{n-1}}{n^2}$ , j)  $\sum_{n=1}^{\infty} \frac{(-1)^n \sin n}{6^n}$ , k)  $\sum_{n=1}^{\infty} \frac{(-1)^{n-1}}{n^3 + \ln n}$ , l)  $\sum_{n=1}^{\infty} \frac{(-1)^n \sin^2 n}{n}$ .

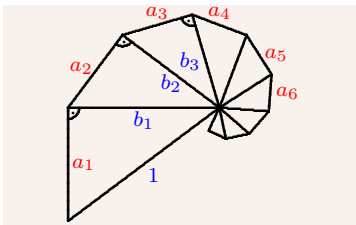
2.4.6. Nech rady  $\sum_{n=1}^{\infty} a_n$ ,  $\sum_{n=1}^{\infty} b_n$  divergujú. Čo platí o konvergencii radov: ♣

- a)  $\sum_{n=1}^{\infty} (a_n + b_n)$ , b)  $\sum_{n=1}^{\infty} a_n b_n$ , c)  $\sum_{n=1}^{\infty} \frac{a_n}{b_n}$ , d)  $\sum_{n=1}^{\infty} \max \{a_n, b_n\}$ .

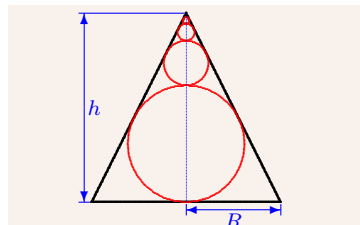
2.4.7. Nech  $\sum_{n=1}^{\infty} a_n$  konverguje a  $\sum_{n=1}^{\infty} b_n$  diverguje. Čo platí o konvergencii radov: ♣

- a)  $\sum_{n=1}^{\infty} (a_n + b_n)$ , b)  $\sum_{n=1}^{\infty} a_n b_n$ , c)  $\sum_{n=1}^{\infty} \frac{a_n}{b_n}$ , d)  $\sum_{n=1}^{\infty} \max \{a_n, b_n\}$ .

2.4.8. Prerovnajzte rad  $\sum_{n=1}^{\infty} \frac{(-1)^{n+1}}{n}$ , aby divergoval do  $\infty$ ,  $-\infty$  a konvergoval k 0.



Obr. 2.4.12: Cvičenie 2.4.10



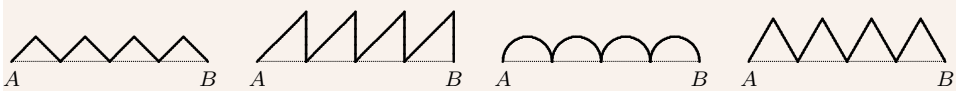
Obr. 2.4.13: Cvičenie 2.4.11

2.4.9. Určte súčet radu  $\sum_{n=1}^{\infty} a_n$  a jeho člen  $a_n$ , ak jeho  $n$ -tý čiastočný súčet je: ♣

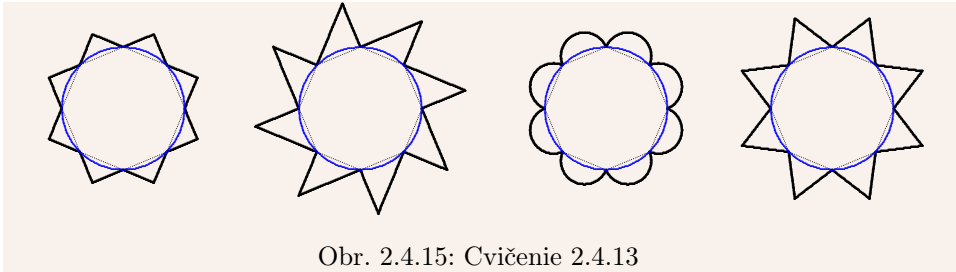
- a)  $s_n = 1 - \frac{1}{2^n}$ , b)  $s_n = 1 + \frac{1}{2^n}$ , c)  $s_n = \frac{(-1)^n}{n}$ , d)  $s_n = \frac{n-2}{2^n}$ .

2.4.10. Uvažujme pravouhlý trojuholník s preponou 1 a odvesnami  $a_1, b_1 \in (0; 1)$ . Nech  $b_1$  je preponou podobného pravouhlého trojuholníka s odvesnami  $a_2, b_2$ . Nech  $b_2$  je preponou podobného pravouhlého trojuholníka s odvesnami  $a_3, b_3$ . Takto pokračujeme až do nekonečna (obr. 2.4.12). Zistite, či rad  $\sum_{n=1}^{\infty} a_n$  konverguje a vypočítajte jeho súčet  $a$ . Vypočítajte súčet obsahov  $P$  týchto trojuholníkov. ♣

**2.4.11.** Do rotačného kužeľa s výškou  $h$  a polomerom podstavy  $R$  sú postupne vpísané gule (obr. 2.4.13). Nájdite súčet objemov týchto gulí. ♣



Obr. 2.4.14: Cvičenie 2.4.12



Obr. 2.4.15: Cvičenie 2.4.13

**2.4.12.** Úsečka  $AB$  dĺžky  $d > 0$  je rozdelená deliacimi bodmi na  $n \in \mathbb{N}$  rovnakých častí. Nad každou z týchto častí zostrojíme (viď obrázok 2.4.14): ♣

- pravouhlý rovnoramenný trojuholník s preponou, ktorá leží na úsečke  $AB$ ,
- pravouhlý rovnoramenný trojuholník s odvesnou, ktorá leží na úsečke  $AB$ ,
- polkružnicu, ktorej priemer leží na úsečke  $AB$ ,
- rovnostanný trojuholník.

Vypočítajte dĺžku takto vzniknutej čiary pre  $n \rightarrow \infty$  a porovnajte ju s hodnotou  $d$ .

**2.4.13.** Do kružnice s polomerom  $r > 0$  vpíšeme pravidelný  $n$ -uholník,  $n \in \mathbb{N}$ . Nad každou z jeho strán zostrojíme smerom von z kružnice (viď obrázok 2.4.15): ♣

- pravouhlý rovnoramenný trojuholník s preponou, ktorá leží na strane  $n$ -uholníka,
- pravouhlý rovnoramenný trojuholník s odvesnou, ktorá leží na strane  $n$ -uholníka,
- polkružnicu s priemerom na strane  $n$ -uholníka,
- rovnostanný trojuholník.

Vypočítajte dĺžku takto vzniknutej čiary pre  $n \rightarrow \infty$  a porovnajte s obvodom kružnice  $o$ .

„Mi řekni, prosím tě, co na tom chlastu máš?“ „Ja ti to řeknu a ty začneš chlastat taky.“

*úryvok z filmu SLUNCE, SENO A PÁR FACEK*

*Každá brzda si myslí, že je záchranna.*  
**TOMÁŠ JANOVIC**

*Sprostý je ako peň, ale strýka má múdreho.*  
**DARGINSKÉ PRÍSLOVIE**

*Nie všetci somári majú veľké uši.*  
**NEMECKÉ PRÍSLOVIE**

# Kapitola 3

## Reálne funkcie

### 3.1 Funkcie

V tejto kapitole sa budeme zaoberať zobrazeniami, ktorých definičný obor a obor hodnôt sú podmnožinami množiny reálnych čísel  $R$ . Takéto zobrazenia nazývame **funkcie**.

Nech  $y = f(x)$ ,  $x \in D(f)$ , t. j.  $f: D(f) \rightarrow H(f)$ . Ak  $D(f) \subset R$ , potom  $f$  nazývame **funkcia reálnej premennej**. Ak  $H(f) \subset R$ , potom  $f$  nazývame **reálna funkcia**.

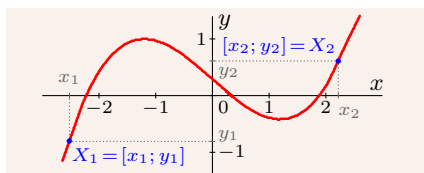
Hodnoty  $x$  nazývame **nezávislé premenné** a  $D(f)$  **definičný obor funkcie  $f$** .

Hodnoty  $f(x)$  nazývame **závislé premenné (funkčné hodnoty) v bode  $x$**  a množinu  $H(f) = f[D(f)] = \{f(x); x \in D(f)\}$  nazývame **obor hodnôt funkcie  $f$** .

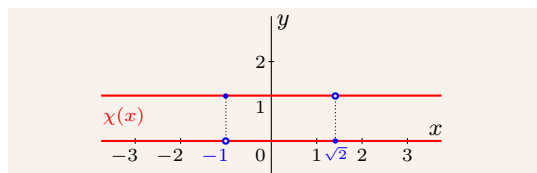
Pokiaľ nepovieme ináč, budeme pod pojmom **funkcia** rozumieť **reálnu funkciu jednej reálnej premennej**.

Funkciu  $y = f(x)$  tvoria usporiadané dvojice  $[x; f(x)]$ , takže ju môžeme v rovine  $R^2$  zobrazit v **pravouhлом súradnicovom systéme**<sup>1</sup> ako množinu bodov s týmito súradnicami. Túto množinu  $\{[x; y] \in R^2; x \in D(f), y = f(x)\}$  nazývame **graf funkcie  $f$** .

Karteziánsky súradnicový systém sa skladá z  **$x$ -ovej** a na ňu kolmej  **$y$ -ovej (súradnicovej) osi**. Ich priesečník označujeme 0 alebo  $O$  a nazývame **počiatok súradnicového systému**. Každému bodu  $X \in R^2$  je priradená dvojica hodnôt  $[x; y]$ , ktoré nazývame  **$x$ -ová súradnica** a  **$y$ -ová súradnica** (obr. 3.1.1).



Obr. 3.1.1: Karteziánsky systém



Obr. 3.1.2: Dirichletova funkcia  $\chi(x)$

Geometrická interpretácia funkcie nám v mnohých prípadoch pomôže pri skúmaní jej

<sup>1</sup>Tiež sa azýva **karteziánsky súradnicový systém**.

vlastností. Pojem grafu je ale u mnohých ľudí spojený s pojmom krivka, t. j. „súvislá čiara“. Táto predstava je ale zavádzajúca. Existujú funkcie, ktorých grafy majú veľmi málo spoločné s touto predstavou, dokonca sa dajú veľmi ťažko nakresliť. Príkladom je **Dirichletova funkcia**  $\chi$  (obr. 3.1.2) definovaná  $\chi(x) = 1$  pre  $x \in \mathbb{Q}$ ,  $\chi(x) = 0$  pre  $x \in I$ . Ďalším príkladom sú číselné postupnosti, t. j. funkcie s definičným oborom  $N \subset \mathbb{R}$ .

Funkcia  $y = f(x)$  je určená definičným oborom  $D(f)$  a vzťahom medzi  $x$  a  $y$ . Predpis  $y = f(x)$ ,  $x \in D(f)$  vyjadruje zároveň aj obor hodnôt  $H(f)$ .

Ak nie je definičný obor funkcie  $f$  zadaný, potom budeme pod  $D(f)$  rozumieť tzv. **prírodný (maximálny) definičný obor**, t. j. množinu všetkých reálnych čísel, pre ktoré má predpis funkcie zmysel. Potom predpisy  $y = f(x)$ , resp.  $y = f(x)$ ,  $x \in \mathbb{R}$ , resp.  $y = f(x): \mathbb{R} \rightarrow \mathbb{R}$  predstavujú funkciu s maximálnym definičným oborom a predpisy  $y = f(x)$ ,  $x \in A$  resp.  $y = f(x): A \rightarrow \mathbb{R}$  funkciu s definičným oborom  $D(f) = A$ .

Funkcia  $y = f(x)$ ,  $x \in A$  je **injektívna (injekcia, prostá)**, ak pre všetky  $x_1, x_2 \in A$ ,  $x_1 \neq x_2$ , platí  $f(x_1) \neq f(x_2)$ , t. j. ak zo vzťahu  $f(x_1) = f(x_2)$  vyplýva  $x_1 = x_2$ .

Ak  $f(A) \subset B$ , potom hovoríme, že funkcia  $f: A \rightarrow B$  **zobrazuje A do B**.

Ak  $f(A) = B$ , potom hovoríme, že funkcia  $f: A \rightarrow B$  **zobrazuje A na B** a funkciu  $f$  nazývame **surjektívna (surjekcia, na množinu B)**. To znamená, že  $f$  je surjektívna, ak ku každému  $y \in B$  existuje  $x \in A$  také, že  $y = f(x)$ .

Ak je funkcia  $f$  injektívna a zároveň surjektívna, nazývame ju **bijektívna (bijekcia, prostá na množinu, jednoznačná)**.

### Príklad 3.1.1.

Predpis  $f: y = \sqrt{x}$  vyjadruje  $f(x) = \sqrt{x}$ ,  $x \in \langle 0; \infty \rangle$ , t. j.  $f: \langle 0; 1 \rangle \rightarrow \mathbb{R}$ .

Predpis  $f: y = \sqrt{x}$ ,  $x \in \langle 0; 1 \rangle$  vyjadruje inú funkciu  $f(x) = \sqrt{x}$ ,  $f: \langle 0; 1 \rangle \rightarrow \mathbb{R}$  alebo presnejšie povedané  $f: \langle 0; 1 \rangle \rightarrow \langle 0; 1 \rangle$ . ■

Výraz, ktorým je daná funkcia definovaná, môže mať rôzne tvary. Najčastejšie a pre účely matematickej analýzy najvhodnejšie je analytické zadanie vzorcom, t. j. rovnicou  $y = f(x)$ ,  $x \in D(f)$ . Hovoríme, že funkcia  $f$  je zadaná **explicitne**.

Časté v praxi je **parametrické vyjadrenie** (obr. 3.1.3), t. j. vyjadrenie dvojicou rovníc

$$x = \varphi(t), y = \psi(t), t \in J, \quad (3.1)$$

kde  $\varphi, \psi$  sú funkcie definované na množine (obyčajne intervale)  $J \subset \mathbb{R}$ . Premenná  $t$  sa nazýva **parameter** a má pomocný význam, pretože nás zaujíma vzťah medzi  $x$  a  $y$ .

Predchádzajúce rovnice definujú reláciu

$$f = \{[x; y] \in \mathbb{R}^2; x = \varphi(t), y = \psi(t), t \in J\} \subset \mathbb{R}^2,$$

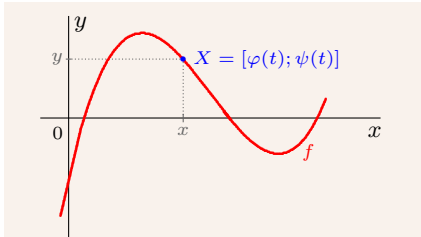
ktorá môže byť za určitých podmienok funkciou. Je to v prípade, keď je  $x = \varphi(t)$ ,  $t \in J$  prostá a ku každému  $\varphi(t)$ ,  $t \in J$  existuje práve jedno  $\psi(t)$ . Potom hovoríme, že funkcia  $f$  je definovaná **parametricky** (funkciu **parametrizujeme**) rovnicami (3.1).

Keďže je funkcia  $x = \varphi(t)$  na množine  $J$  prostá (t. j. aj bijektívna), existuje inverzná funkcia  $t = \varphi^{-1}(x)$ ,  $x \in M = \varphi(J)$ . Funkciu  $f$  môžeme potom vyjadriť v tvare:

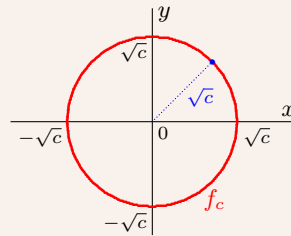
$$y = f(x) = \psi(t) = \psi[\varphi^{-1}(x)], x \in M. \quad (3.2)$$

Prechod od systému rovníc (3.1) k tvaru (3.2) nazývame **eliminácia<sup>2</sup> parametra  $t$** .

Funkciu  $y = f(x)$ ,  $x \in D(f)$  môžeme parametrizovať nekonečným množstvom spôsobov. Stačí zvoliť funkciu  $x = \varphi(t)$ ,  $t \in J$  tak, aby bola bijekciou:  $J \rightarrow D(f)$ . Pre  $y$  potom platí  $y = f(x) = f(\varphi(t))$ ,  $t \in J$ . Najjednoduchšie vyjadrenie má tvar  $x = t$ ,  $y = f(t)$ ,  $t \in D(f)$ .



Obr. 3.1.3: Funkcia  $f: x = \varphi(t)$ ,  
 $y = \psi(t)$  zadaná parametricky



Obr. 3.1.4: Kružnica  $x^2 + y^2 - c = 0$ ,  $c \geq 0$   
z príkladu 3.1.2

Funkcia  $f$  môže byť zadaná rovnicou  $F(x, y) = 0$ , kde  $F: \mathbb{R}^2 \rightarrow \mathbb{R}$ . Niekedy sa navyše požaduje, aby  $[x; y]$ , kde  $A \subset \mathbb{R}^2$  je vopred daná množina. Tým je definovaná relácia:

$$f = \{[x; y] \in \mathbb{R}^2; F(x, y) = 0\}, \text{ resp. } f = \{[x; y] \in \mathbb{R}^2; F(x, y) = 0, [x; y] \in A\} \subset \mathbb{R}^2.$$

Ak je  $f$  funkciou, potom hovoríme, že  $f$  je definovaná **implicitne** rovnicou  $F(x, y) = 0$ . Ak uvažime  $y = f(x)$ , potom môžeme písať  $F(x, f(x)) = 0$ .

### Príklad 3.1.2.

Uvažujme reláciu  $f_c = \{[x; y] \in \mathbb{R}^2; x^2 + y^2 = c\}$ ,  $c \in \mathbb{R}$ .

$c = 0 \Rightarrow f_0 = \{[0; 0]\}$  je reálna funkcia, môžeme ju vyjadriť napríklad  $f: y = x$ ,  $x \in \{0\}$ .

$c < 0 \Rightarrow f_c = \emptyset$ , pretože pre všetky  $x, y \in \mathbb{R}$  platí  $x^2 + y^2 - c \geq -c > 0$ .

$c > 0 \Rightarrow f_c = \{[x; \pm\sqrt{c - x^2}]; x \in \langle -\sqrt{c}; \sqrt{c} \rangle\}$  nie je funkciou, geometricky predstavuje kružnicu so stredom v počiatku  $[0; 0]$  a s polomerom  $\sqrt{c}$  (obr. 3.1.4). ■

### Príklad 3.1.3.

Funkciu  $f: y = |x|$ ,  $x \in \mathbb{R}$  môžeme zadať mnohými spôsobmi. Sú to napríklad:

Explicitne:  $y = \sqrt{x^2}$ , resp.  $y = \max\{-x, x\}$ , resp.  $y = \begin{cases} -x, & \text{pre } x < 0, \\ x, & \text{pre } x \geq 0. \end{cases}$

Parametricky:  $x = t$ ,  $t \in \mathbb{R}$ , resp.  $x = t$ ,  $t \in \mathbb{R}$ , resp.  $x = t^3$ ,  $t \in \mathbb{R}$ .  
 $y = |t|$ ,  $y = \sqrt{t^2}$ ,  $y = |t^3|$ ,

Implicitne:  $y^2 - x^2 = 0$ ,  $y \geq 0$ , resp.  $y - |x| = 0$ , resp.  $y - \sqrt{x^2} = 0$ . ■

Funkcia  $y = f(x)$ ,  $x \in D(f)$  môže byť niekedy zadaná aj **tabuľkou**, t. j. dvojicami hodnôt  $x$  a  $f(x)$ . Táto metóda sa používa najmä v praktických prípadoch pre závislosť medzi nejakými nameranými hodnotami.

<sup>2</sup>Theoreticky vieme eliminovať parameter z každého vyjadrenia, prakticky to ale môže byť problém.

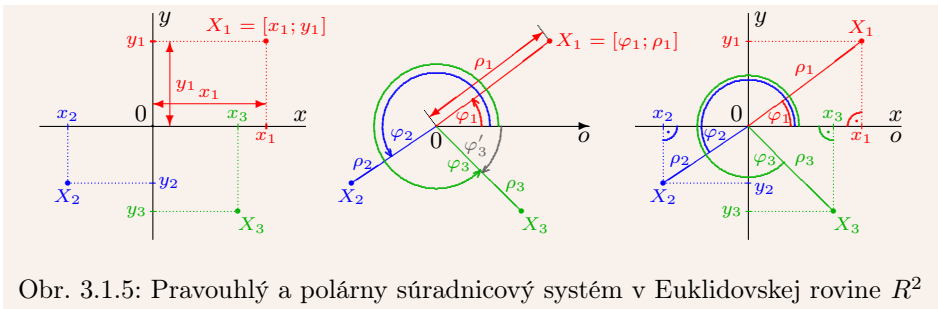
V technických aplikáciach sa niekedy funkcia zadáva **graficky**, pomocou nakresleného grafu. Z grafu môžeme hodnoty funkcie určiť iba približne a teda pre ďalšie spracovanie je táto metóda prinajmenšom málo vhodná.

Okrem pravouhlého súradnicového systému sa často používa tzv. **polárny súradnicový systém**, ktorý sa skladá z **počiatku (pólu)** a z jednej poloosi z neho vychádzajúcej, ktorú nazývame **polárna os** a označujeme  $o$ .

Pól ztotožníme s počiatkom  $0$  pravouhlého systému a polárnu os ztotožníme s kladnou  $x$ -ovou poloosou (obr. 3.1.5). Ak má bod  $X$  v pravouhlom systéme súradnice  $[x; y]$ , potom má v polárnych súradniciach súradnice  $[\varphi; \rho]$ . Súradnica  $\rho$  predstavuje vzdialenosť bodu  $X$  od počiatku  $0$  a nazýva sa **sprievodič (rádiusvektor) bodu  $X$** . Súradnica  $\varphi$  predstavuje orientovaný uhol, ktorý zvierá polárna os  $o$  s polpriamkou  $0X$  a nazýva sa **polárny uhol (amplitúda) bodu  $X$** . Z vlastností goniometrických funkcií potom vyplýva:

$$x = \rho \cdot \cos \varphi, \quad y = \rho \cdot \sin \varphi, \quad \text{pričom } \rho \in \langle 0; \infty \rangle, \quad \varphi \in (-\infty; \infty),$$

$$\rho = \sqrt{x^2 + y^2}, \quad \cos \varphi = \frac{x}{\rho} = \frac{x}{\sqrt{x^2 + y^2}}, \quad \sin \varphi = \frac{y}{\rho} = \frac{y}{\sqrt{x^2 + y^2}}, \quad \text{pre } x^2 + y^2 > 0.$$



Obr. 3.1.5: Pravouhlý a polárny súradnicový systém v Euklidovskej rovine  $R^2$

Bod  $X \in R^2$  má v karteziánskom systéme súradnice určené jednoznačne. Ten istý bod má v polárnych súradniciach nekonečne veľa vyjadrení, pretože funkcie sínus a kosínus sú periodické s periódou  $2\pi$ . Preto sa pre rozsah uhla  $\varphi$  zvykne určiť interval dĺžky  $2\pi$ .

Funkcia má v polárnom systéme tvar  $f = \{[\varphi; \rho] \in R^2\}$ , resp.  $f: \rho = f(\varphi), \varphi \in A$ .

#### Príklad 3.1.4.

- a)  $y = f_1(x) = 1, x \in R$  je konštantná (v pravouhlom systéme), jej grafom je priamka.  
 b)  $\rho = f_2(\varphi) = 1, \varphi \in R$  je konštantná (v polárnom systéme), jej grafom je kružnica so stredom v počiatku  $0$  a polomerom  $\rho = 1$ . V pravouhlom systéme ale funkciou nie je. ■

#### Príklad 3.1.5.

Nech  $[x_1; y_1], [x_2; y_2] \in R^2, x_1 \neq x_2$ .

Určte koeficienty  $a, b \in R$  funkcie  $f: y = ax + b$  tak, aby  $[x_1; y_1] \in f, [x_2; y_2] \in f$ .

#### Riešenie.

$$[x_1; y_1], [x_2; y_2] \in f \Rightarrow y_1 = ax_1 + b, y_2 = ax_2 + b \Rightarrow$$

$$y_2 - y_1 = ax_2 - ax_1 = a(x_2 - x_1) \Rightarrow a = \frac{y_2 - y_1}{x_2 - x_1} \Rightarrow$$

$$b = y_1 - ax_1 = y_1 - \frac{y_2 - y_1}{x_2 - x_1} x_1 = \frac{y_1 x_2 - y_1 x_1 - y_2 x_1 + y_1 x_1}{x_2 - x_1} = \frac{y_1 x_2 - y_2 x_1}{x_2 - x_1} \Rightarrow$$

$$f: y = ax + b = \frac{y_2 - y_1}{x_2 - x_1} x + \frac{y_1 x_2 - y_2 x_1}{x_2 - x_1} = \frac{y_2 x - y_1 x + y_1 x_2 - y_2 x_1}{x_2 - x_1} = \frac{x - x_1}{x_2 - x_1} y_2 + \frac{x_2 - x}{x_2 - x_1} y_1, x \in R. \blacksquare$$

Funkcia  $f: y = ax + b$ , kde  $a, b \in R$ , sa nazýva **lineárna**. Jej grafom je priamka. Hodnota  $a$  predstavuje jej smernicu, t. j. tangens uhla, ktorý zvierá priamka s osou  $x$ .

### 3.1.1 Základné vlastnosti funkcií

Funkcia  $y = f(x)$ ,  $x \in D(f)$  sa nazýva **na množine**  $A \subset D(f)$ :

- **ohraničená zdola**, ak je ohraničená zdola množina  $f(A)$ , t. j. ak existuje  $\alpha \in R$  také, že pre všetky  $x \in A$  platí  $\alpha \leq f(x)$ ,
  - **ohraničená zhora**, ak je ohraničená zhora množina  $f(A)$ , t. j. ak existuje  $\beta \in R$  také, že pre všetky  $x \in A$  platí  $f(x) \leq \beta$ ,
  - **ohraničená**, ak je ohraničená zdola a zhora na množine  $A$ , t. j. ak existujú  $\alpha, \beta \in R$  také, že pre všetky  $x \in A$  platí  $\alpha \leq f(x) \leq \beta$ ,
  - **neohraničená zdola**, ak nie je ohraničená zdola na množine  $A$ ,
  - **neohraničená zhora**, ak nie je ohraničená zhora na množine  $A$ ,
  - **neohraničená**, ak nie je ohraničená (t. j. je neohraničená zdola alebo zhora) na  $A$ ,
- kde  $f(A) = \{f(x); x \in A\}$  je množina funkčných hodnôt funkcie  $f$ .

Uvedené vlastnosti boli definované na množine  $A \subset D(f)$ , preto hovoríme o **lokálnych vlastnostiach**. Ak nejaká vlastnosť platí na celom definičnom obore  $D(f)$ , potom hovoríme o **globálnej vlastnosti** a prívlastok „na množine  $D(f)$ “ vynechávame.

Funkcia  $y = f(x)$ ,  $x \in D(f)$  sa nazýva:

- **ohraničená zdola**, ak existuje  $\alpha \in R$  také, že pre všetky  $x \in D(f)$  platí  $\alpha \leq f(x)$ ,
- **ohraničená zhora**, ak existuje  $\beta \in R$  také, že pre všetky  $x \in D(f)$  platí  $f(x) \leq \beta$ ,
- **ohraničená**, ak existujú  $\alpha, \beta \in R$  také, že pre všetky  $x \in D(f)$  platí  $\alpha \leq f(x) \leq \beta$ ,
- **neohraničená zdola**, resp. **zhora**, ak nie je ohraničená zdola, resp. zhora,
- **neohraničená**, ak nie je ohraničená (t. j. nie je ohraničená zdola alebo zhora).

#### Príklad 3.1.6.

a) Funkcia  $f: y = x^2 + 1$  je ohraničená zdola a nie je ohraničená zhora. Na intervale  $(0; 1)$  je ohraničená, pretože pre všetky  $x \in (0; 1)$  platí  $1 < x^2 + 1 < 2$ .

b)  $f: y = (x^2 + 1)^{-1}$  je ohraničená, pretože pre všetky  $x \in R$  platí  $0 < (x^2 + 1)^{-1} \leq 1$ .  $\blacksquare$

Nech  $y = f(x)$ ,  $x \in D(f)$ ,  $A \subset D(f)$ , potom:

- $\inf_{x \in A} f(x) = \inf \{f(x); x \in A\} = \inf f(A)$  nazývame **infimum funkcie  $f$  na množine  $A$** ,
- $\sup_{x \in A} f(x) = \sup \{f(x); x \in A\} = \sup f(A)$  nazývame **suprémum funkcie  $f$  na  $A$** ,
- $\inf f(x) = \inf \{f(x); x \in D(f)\}$  nazývame **infimum funkcie  $f$** ,
- $\sup f(x) = \sup \{f(x); x \in D(f)\}$  nazývame **suprémum funkcie  $f$** .

Z definície vyplýva, že ak je funkcia  $f$  ohraničená zdola na  $A$ , potom  $\inf f(A) \in R$  a ak je neohraničená zdola na  $A$ , potom  $\inf f(A) = -\infty$ . Analogicky platí  $\sup f(A) \in R$  pre funkciu ohraničenú zhora na  $A$  a  $\sup f(A) = \infty$  pre neohraničenú zhora funkciu.

Nech  $y = f(x)$ ,  $x \in D(f)$ ,  $A \subset D(f)$ . Potom **funkcia  $f$  nadobúda v bode  $x_0 \in A$ :**

- **minimum (minimálnu hodnotu, najmenšiu hodnotu) na množine  $A$** , ak platí  $f(x_0) = \min_{x \in A} f(x) = \min_{x \in A} f(x)$ , t. j. ak pre všetky  $x \in A$  platí  $f(x_0) \leq f(x)$ ,
- **maximum (maximálnu hodnotu, najväčšiu hodnotu) na množine  $A$** , ak platí  $f(x_0) = \max_{x \in A} f(x) = \max_{x \in A} f(x)$ , t. j. ak pre všetky  $x \in A$  platí  $f(x) \leq f(x_0)$ ,
- **ostré minimum na množine  $A$** , ak pre všetky  $x \in A$ ,  $x \neq x_0$  platí  $f(x_0) < f(x)$ ,
- **ostré maximum na množine  $A$** , ak pre všetky  $x \in A$ ,  $x \neq x_0$  platí  $f(x) < f(x_0)$ ,

Minimum a maximum súhrnne nazývame (**ostré**) **extrémy funkcie  $f$** .

Ak  $A = D(f)$ , potom hovoríme o **globálnych (absolútnych) extrémoch funkcie  $f$**  a označujeme ich symbolmi  $\min f(x)$ , resp.  $\max f(x)$ .

V opačnom prípade hovoríme o **lokálnych extrémoch funkcie  $f$** . Lokálne extrémy postačí vyšetrovať v nejakom okolí  $O(x_0) \subset D(f)$ .

Z predchádzajúceho vyplýva, že ak existuje  $\min \{f(x); x \in A\}$ , resp.  $\max \{f(x); x \in A\}$ , potom  $\min \{f(x); x \in A\} = \inf \{f(x); x \in A\}$ ,  $\max \{f(x); x \in A\} = \sup \{f(x); x \in A\}$ .

### Príklad 3.1.7.

Uvažujme funkciu  $f: y = x^2 + 1$ ,  $x \in R$ .

$A = D(f) \Rightarrow \inf_{x \in A} f(x) = \min_{x \in A} f(x) = 1$ ,  $\sup_{x \in A} f(x) = \infty$ ,  $\max_{x \in A} f(x)$  neexistuje.

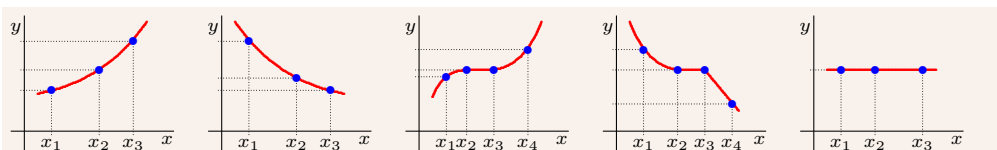
$A = (0; 1) \Rightarrow \inf_{x \in A} f(x) = 1$ ,  $\sup_{x \in A} f(x) = 2$ ,  $\min_{x \in A} f(x)$  a  $\max_{x \in A} f(x)$  neexistujú.

$A = \langle 0; 1 \rangle \Rightarrow \inf_{x \in A} f(x) = \min_{x \in A} f(x) = 1$ ,  $\sup_{x \in A} f(x) = \max_{x \in A} f(x) = 2$ . ■

Funkcia  $y = f(x)$ ,  $x \in D(f)$  sa nazýva **na množine  $A \subset D(f)$ :**

- **rastúca**, ak pre všetky  $x_1, x_2 \in A$ ,  $x_1 < x_2$  platí  $f(x_1) < f(x_2)$ ,
- **klesajúca**, ak pre všetky  $x_1, x_2 \in A$ ,  $x_1 < x_2$  platí  $f(x_1) > f(x_2)$ ,
- **neklesajúca**, ak pre všetky  $x_1, x_2 \in A$ ,  $x_1 < x_2$  platí  $f(x_1) \leq f(x_2)$ ,
- **nerastúca**, ak pre všetky  $x_1, x_2 \in A$ ,  $x_1 < x_2$  platí  $f(x_1) \geq f(x_2)$ ,
- **konštantná**, ak pre všetky  $x_1, x_2 \in A$  platí  $f(x_1) = f(x_2)$ , t. j. ak existuje  $c \in R$  také, že pre všetky  $x \in A$  platí  $f(x) = c$ , stručne ju označujeme  $f(x) = \text{konšt.}$ ,
- **monotónna**, ak je neklesajúca alebo nerastúca (aj rastúca, klesajúca alebo konšt.),
- **rýdzo (ostro) monotónna**, ak je rastúca alebo klesajúca.

Ak  $A = D(f)$  potom prívlastok „na množine  $D(f)$ “ vynechávame a hovoríme o **rastúcej, klesajúcej, neklesajúcej, nerastúcej alebo konštantnej funkcii** (obr. 3.1.6).



Obr. 3.1.6: Grafy rastúcej, klesajúcej, neklesajúcej, nerastúcej a konštantnej funkcie



Niekedy je výhodné definovať uvedené pojmy v konkrétnom bode množiny. Funkcia  $y = f(x)$ ,  $x \in D(f)$  sa nazýva **v bode**  $x_0 \in D(f)$ :

- **rastúca**, ak existuje okolie  $O(x_0)$  také, že pre všetky  $x \in O^-(x_0)$  (t. j.  $x < x_0$ ) platí  $f(x) < f(x_0)$  a pre všetky  $x \in O^+(x_0)$  (t. j.  $x_0 < x$ ) platí  $f(x_0) < f(x)$ ,
- **klesajúca**, ak existuje okolie  $O(x_0)$  také, že pre všetky  $x \in O^-(x_0)$  platí  $f(x) > f(x_0)$  a pre všetky  $x \in O^+(x_0)$  platí  $f(x_0) > f(x)$ ,
- **neklesajúca**, ak existuje  $O(x_0)$  také, že pre všetky  $x \in O^-(x_0)$  platí  $f(x) \leq f(x_0)$  a pre všetky  $x \in O^+(x_0)$  platí  $f(x_0) \leq f(x)$ ,
- **nerastúca**, ak existuje  $O(x_0)$  také, že pre všetky  $x \in O^-(x_0)$  platí  $f(x) \geq f(x_0)$  a pre všetky  $x \in O^+(x_0)$  platí  $f(x_0) \geq f(x)$ .

**Veta 3.1.1.**

$f$  je rastúca [resp. klesajúca] na intervale  $(a; b) \iff$   
 $f$  je rastúca [resp. klesajúca] v každom bode  $x_0 \in (a; b)$ .

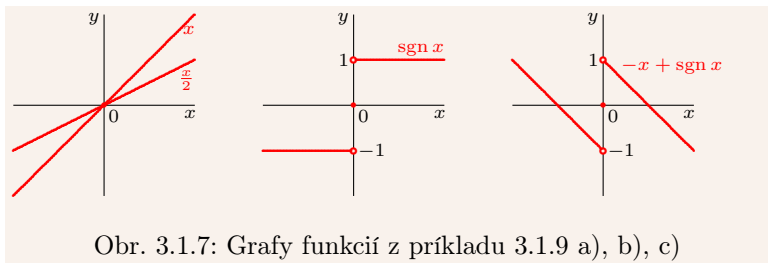
**Príklad 3.1.8.**

- a) Funkcia  $f: y = x + 1$  je rastúca na  $D(f) = \mathbb{R}$
- b) Funkcia  $f: y = \lfloor x \rfloor$  je neklesajúca na  $\mathbb{R}$ , konštantná na intervaloch  $\langle k; k + 1 \rangle$ ,  $k \in \mathbb{Z}$ .
- c) Funkcia  $f: y = x^2$  je klesajúca na intervale  $(-\infty; 0)$  a rastúca na intervale  $(0; \infty)$ .
- d) Funkcia  $f: y = \frac{x}{x}$  je konštantná na množine  $\mathbb{R} - \{0\}$ . ■

Z predchádzajúcich definícií vyplýva nasledujúca veta, ktorú uvádzame bez dôkazu.

**Veta 3.1.2.**

$f$  je rastúca [resp. klesajúca] na  $A \implies$   
 $f$  je rastúca [resp. klesajúca] v každom vnútornom bode  $x_0 \in A$ .



Ako dokazuje nasledujúci príklad, ak je funkcia  $f$  rastúca [resp. klesajúca] v jednom bode  $x_0 \in A$ , ešte nemusí byť rastúca [resp. klesajúca] v jeho okolí  $O(x_0)$ .

**Príklad 3.1.9.**

- a) Funkcia  $f$  definovaná vzťahmi  $f(x) = x$  pre  $x \in \mathbb{Q}$  a  $f(x) = \frac{x}{2}$  pre  $x \in I$  je rastúca v bode  $x_0 = 0$ , rastúca na množine  $\mathbb{Q}$  a na množine  $I$ . Na druhej strane je zrejmé, že neexistuje reálny interval  $I$ , na ktorom je  $f$  rastúca (obr. 3.1.7).
- b) Funkcia  $f(x) = \text{sgn } x$  je rastúca v bode 0, konštantná na  $(-\infty; 0)$  a na  $(0; \infty)$ .
- c) Funkcia  $f(x) = -x + \text{sgn } x$  je rastúca v bode 0 a klesajúca na  $(-\infty; 0)$  a  $(0; \infty)$ . ■

Funkcia  $y = f(x)$ ,  $x \in D(f)$  sa nazýva:

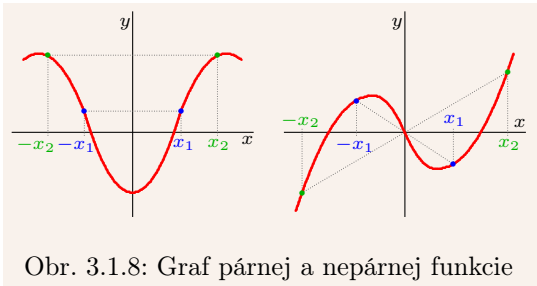
- **párna**, ak pre všetky  $x \in D(f)$  platí  $-x \in D(f)$  a navyše  $f(x) = f(-x)$ ,
- **nepárna**, ak pre všetky  $x \in D(f)$  platí  $-x \in D(f)$  a navyše  $f(x) = -f(-x)$ .

Graf párnej funkcie je súmerný podľa osi  $y$  a graf nepárnej funkcie je súmerný podľa počiatku súradnicového systému (obr. 3.1.8).

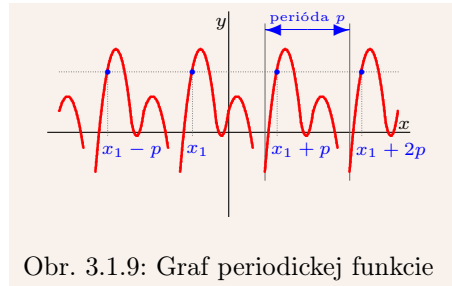
Funkcia  $y = f(x)$ ,  $x \in D(f)$  sa nazýva **periodická**, ak existuje  $p \in \mathbb{R}$ ,  $p \neq 0$  (nazývame ho **perióda funkcie**  $f$ ) také, že pre všetky  $x \in D(f)$  platí  $x+p \in D(f)$ ,  $x-p \in D(f)$  a  $f(x) = f(x+p) = f(x-p)$ .

Najmenšia kladná perióda funkcie  $f$  (pokiaľ existuje) sa nazýva **primitívna (základná)**. Je zrejmé, že každý celočíselný násobok periódy je tiež perióda.

Ak je funkcia  $f$  periodická s periódou  $p > 0$ , potom ju stačí vyšetrovať na intervale s dĺžkou  $p$ . Každý interval s dĺžkou  $p$  nazývame **interval periodicity** (obr. 3.1.9).



Obr. 3.1.8: Graf párnej a nepárnej funkcie



Obr. 3.1.9: Graf periodickej funkcie

### Príklad 3.1.10.

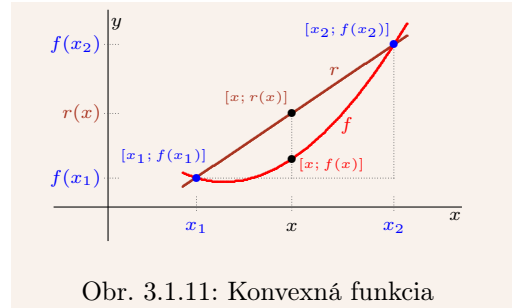
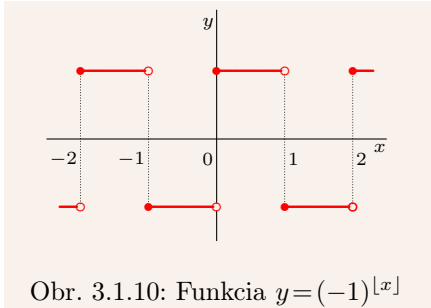
- a) Funkcia  $y = |x|$  je párna, funkcia  $y = \operatorname{sgn} x$  je nepárna.
- b) Funkcia  $y = \text{konšt.}$  je párna, funkcia  $y = 0$  je párna a zároveň aj nepárna.
- c) Funkcia  $y = x^2$ ,  $x \in \mathbb{R}$  je párna, ale funkcia  $y = x^2$ ,  $x \in \langle 0; 1 \rangle$  párna nie je.
- d) Funkcie  $y = \frac{1}{x^5}$ ,  $y = \frac{1}{x^3}$ ,  $y = \frac{1}{x}$ ,  $y = x$ ,  $y = x^3$ ,  $y = x^5$  sú nepárne.
- e) Dirichletova funkcia  $y = \chi(x)$  je párna. ■

### Príklad 3.1.11.

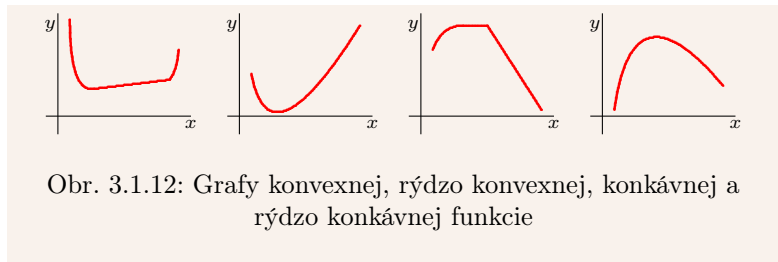
- a) Funkcie  $y = \sin x$ ,  $y = \cos x$  sú periodické so základnou periódou  $2\pi$ .
- b) Funkcie  $y = \operatorname{tg} x$ ,  $y = \operatorname{cotg} x$  sú periodické so základnou periódou  $\pi$ .
- c) Funkcia  $y = x - [x]$  je periodická s periódou 1 (obr. 2.1.2 na str. 28).
- d) Funkcia  $y = 1$  je periodická, periódou je každé  $p \in \mathbb{R}$ ,  $p \neq 0$ . Základnú periódou nemá.
- e) Dirichletova funkcia  $\chi$  je periodická, pričom periódou je každé  $p \in \mathbb{Q}$ ,  $p \neq 0$ .
- f) Funkcia  $y = (-1)^{[x]}$  je periodická so základnou periódou 2 (obr. 3.1.10). ■

Funkcia  $y = f(x)$ ,  $x \in D(f)$  sa nazýva **na intervale**  $I \subset D(f)$ :

- **konvexná**, ak pre všetky  $x, x_1, x_2 \in I$  také, že  $x_1 < x < x_2$  platí  $f(x) \leq r(x)$ ,
- **konkávna**, ak pre všetky  $x, x_1, x_2 \in I$  také, že  $x_1 < x < x_2$  platí  $f(x) \geq r(x)$ ,



- **rýdzo konvexná**, ak pre všetky  $x, x_1, x_2 \in I$  také, že  $x_1 < x < x_2$  platí  $f(x) < r(x)$ ,
  - **rýdzo konkávna**, ak pre všetky  $x, x_1, x_2 \in I$  také, že  $x_1 < x < x_2$  platí  $f(x) > r(x)$ ,
- príčom<sup>3</sup>  $r(x) = \frac{x-x_1}{x_2-x_1} f(x_2) + \frac{x_2-x}{x_2-x_1} f(x_1)$ .



Funkcia  $y = f(x)$ ,  $x \in D(f)$  sa nazýva **v bode**  $x_0 \in D(f)$ :

- **rýdzo konvexná**, ak existuje okolie  $O(x_0)$ , v ktorom je funkcia  $f$  rýdzo konvexná,
- **rýdzo konkávna**, ak existuje okolie  $O(x_0)$ , v ktorom je funkcia  $f$  rýdzo konkávna.

Funkcia  $f$  **má v bode**  $x_0 \in D(f)$  **inflexný bod (inflexiu)**, ak existuje okolie  $O(x_0)$  také, že v  $O^-(x_0)$  je  $f$  rýdzo konvexná [resp. rýdzo konkávna] a v  $O^+(x_0)$  je rýdzo konkávna [resp. rýdzo konvexná].

### Príklad 3.1.12.

- a) Funkcia  $y = ax + b$  je konvexná a konkávna na  $R$  pre všetky  $a, b \in R$ .
- b) Funkcia  $y = \text{konšt.}$  je konvexná (nie rýdzo) a konkávna (nie rýdzo) na  $R$ .
- c) Funkcia  $y = \sin x$  je rýdzo konkávna na  $\langle 0; \pi \rangle$  a rýdzo konvexná na  $\langle \pi; 2\pi \rangle$ .
- d) Funkcia  $y = x^2$  je rýdzo konvexná na  $R$  a funkcia  $y = -x^2$  je rýdzo konkávna na  $R$ . ■

### Veta 3.1.3.

$f$  je konvexná [resp. konkávna] na intervale  $I \subset D(f) \iff$

pre všetky  $x_1, x_2 \in I$ ,  $x_1 \neq x_2$ ,  $p \in (0; 1)$ ,  $q = 1 - p$  platí:

$$f(px_1 + qx_2) \leq pf(x_1) + qf(x_2) \quad [\text{resp. } f(px_1 + qx_2) \geq pf(x_1) + qf(x_2)].$$

<sup>3</sup>Graficky leží  $[x; r(x)]$  na priamke spájajúcej body  $[x_1; f(x_1)]$  a  $[x_2; f(x_2)]$  (obr. 3.1.11). Z príkladu 3.1.5 vyplýva  $r(x) = \frac{f(x_2) - f(x_1)}{x_2 - x_1} x + \frac{f(x_1)x_2 - f(x_2)x_1}{x_2 - x_1} = \frac{x - x_1}{x_2 - x_1} f(x_2) + \frac{x_2 - x}{x_2 - x_1} f(x_1)$ .

**Dôkaz.**

Vetu dokážeme iba pre konvexnosť, pre konkávnosť sa dokáže analogicky.

$NP \Rightarrow$ :  $p \in (0; 1)$ ,  $q = 1 - p$ , nech  $x_1 < x_2 \Rightarrow$  existuje  $x \in (x_1; x_2)$  také, že platí:

$$p = \frac{x_2 - x}{x_2 - x_1}, \quad q = 1 - p = \frac{x_2 - x_1}{x_2 - x_1} - \frac{x_2 - x}{x_2 - x_1} = \frac{x - x_1}{x_2 - x_1} \Rightarrow$$

$$px_1 + qx_2 = \frac{x_2 - x}{x_2 - x_1}x_1 + \frac{x - x_1}{x_2 - x_1}x_2 = \frac{x_2x_1 - xx_1 + xx_2 - x_1x_2}{x_2 - x_1} = \frac{x(x_2 - x_1)}{x_2 - x_1} = x \in (x_1; x_2)$$

$$\xrightarrow{\text{konvexnosť}} f(px_1 + qx_2) = f(x) \leq \frac{x - x_1}{x_2 - x_1}f(x_2) + \frac{x_2 - x}{x_2 - x_1}f(x_1) = qf(x_2) + pf(x_1).$$

$PP \Leftarrow$ :  $p \in (0; 1)$ ,  $q = 1 - p$ , nech  $x_1 < x_2$ , označme  $x = px_1 + qx_2 \Rightarrow$

$$x_1 < x_1 + q(x_2 - x_1) = (1 - q)x_1 + qx_2 = \underbrace{px_1 + (1 - p)x_2}_x = x_2 + p(x_1 - x_2) < x_2 \Rightarrow$$

$$\left. \begin{aligned} x &= (1 - q)x_1 + qx_2 = x_1 + q(x_2 - x_1) \Rightarrow q = \frac{x - x_1}{x_2 - x_1} \\ x &= px_1 + (1 - p)x_2 = x_2 - p(x_2 - x_1) \Rightarrow p = \frac{x_2 - x}{x_2 - x_1} \end{aligned} \right\} \Rightarrow$$

$$f(x) = f(px_1 + qx_2) \leq pf(x_1) + qf(x_2) = \frac{x_2 - x}{x_2 - x_1}f(x_1) + \frac{x - x_1}{x_2 - x_1}f(x_2). \blacksquare$$

Bod  $c \in D(f)$  sa nazýva **nulový bod (koreň) funkcie**  $y = f(x)$ , ak platí  $f(c) = 0$ . Korene funkcie  $f$  nájdeme riešením rovnice  $f(x) = 0$ ,  $x \in D(f)$ .

**Príklad 3.1.13.**

- a) Funkcie  $y = |x|$ ,  $y = x^2$ ,  $y = x^3$ ,  $y = x^2 + x^4$  majú jediný koreň  $c = 0$ .  
 b) Dirichletova funkcia  $\chi(x)$  má nekonečne veľa koreňov, sú to všetky iracionálne čísla.  
 c) Funkcia  $y = x^2 + 2$  nemá koreň, pretože pre všetky  $x \in R$  platí  $x^2 + 2 \geq 2 > 0$ . ■

Funkcie sú množiny, ktorých prvkami sú usporiadané dvojice  $[x; f(x)]$ . Takže aj relácie a operácie s funkciami musíme chápať ako relácie a operácie s množinami.

**Funkcia  $y = f(x)$  sa rovná funkcii  $y = g(x)$** , ak  $D(f) = D(g)$  a pre všetky  $x \in D(f)$  platí  $f(x) = g(x)$ . Označujeme  $f = g$  a v opačnom prípade  $f \neq g$ .

**Funkcia  $f$  sa rovná funkcii  $g$  na množine  $A \subset D(f) \cap D(g)$** , ak pre všetky  $x \in A$  platí  $f(x) = g(x)$ . Zapisujeme  $f = g$ ,  $x \in A$ .

**Funkcia  $f$  je menšia [resp. väčšia] ako funkcia  $g$  na množine  $A \subset D(f) \cap D(g)$** , ak pre všetky  $x \in A$  platí  $f(x) < g(x)$  [resp.  $f(x) > g(x)$ ].

Funkcie vo všeobecnosti nemôžeme porovnávať. Môžeme ale určiť množiny, na ktorých platí  $f < g$ ,  $f = g$  alebo  $f > g$ , prípadne  $f \leq g$  alebo  $f \geq g$ .

**Príklad 3.1.14.**

- a) Funkcie  $f: y = 1$ ,  $g: y = \frac{x}{x}$  sa nerovnajú, t. j.  $f \neq g$ , pretože  $D(f) = R$ ,  $D(g) = R - \{0\}$ . Ale  $f = g$  na množine  $R - \{0\}$ , pretože pre všetky  $x \neq 0$  platí  $1 = \frac{x}{x}$ .  
 b) Nech  $f: y = x$ ,  $g: y = x^2$ . Na množine  $R$  neplatí ani jedna z relácií  $f < g$ ,  $f = g$ ,  $f > g$ . Ale platí  $f < g$  na množine  $R - (0; 1)$ ,  $f = g$  na  $\{0, 1\}$  a  $f > g$  na  $(0; 1)$ . ■

Nech  $A \subset D(f) \cap D(g)$ . **Súčet**  $f + g$ , **rozdiel**  $f - g$ , **súčin**  $fg$ , **podiel**  $f/g$  (pre  $g(x) \neq 0$ ) **funkcií**  $f$  **a**  $g$  **na množine**  $A$  definujeme vzťahmi:

$$(f \pm g)(x) = f(x) \pm g(x), \quad (fg)(x) = f(x)g(x), \quad \left(\frac{f}{g}\right)(x) = \frac{f(x)}{g(x)}, \quad x \in A.$$

**Absolútnu hodnotu**  $|f|$  a  **$n$ -tú mocninu**  $f^n$  **funkcie**  $f$  **na množine**  $A$  definujeme vzťahmi  $|f|(x) = |f(x)|$ ,  $x \in A$  a  $f^n(x) = [f(x)]^n$ ,  $x \in A$ ,  $n \in \mathbb{N}$ .

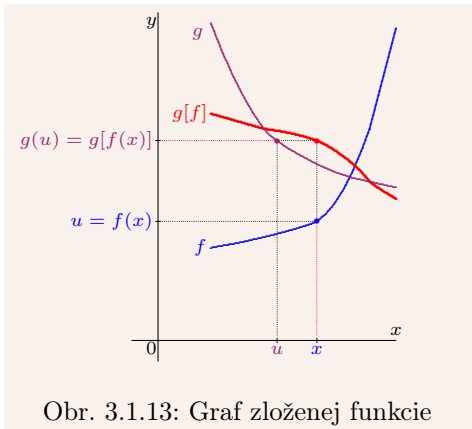
Nech  $A \subset D(f)$ . Funkcia  $y = h(x)$ ,  $x \in A$  sa nazýva **zúžením (reštrikciou) funkcie**  $y = f(x)$  **na množinu**  $A$ , ak pre všetky  $x \in A$  platí  $h(x) = f(x)$ . Označujeme  $h = f|_A$ .

### Príklad 3.1.15.

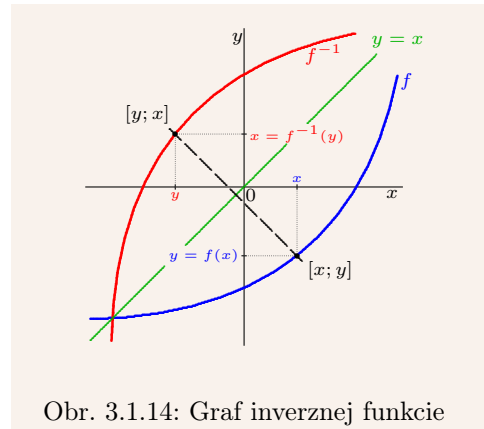
- a)  $f: y = 0, x \in \langle 0; 1 \rangle$  je zúžením funkcie  $g: y = \lfloor x \rfloor$  na interval  $\langle 0; 1 \rangle$ , t. j.  $f = g|_{\langle 0; 1 \rangle}$ .  
 b)  $y = x^2, x \in \langle -1; 1 \rangle$  je zúžením funkcie  $y = x^2, x \in \mathbb{R}$  na interval  $\langle -1; 1 \rangle$ .  
 c)  $y = 1, x \in \mathbb{Q}$  je zúžením Dirichletovej funkcie  $\chi(x)$  na množinu  $\mathbb{Q}$ . ■

Nech  $y = f(x)$ ,  $y = g(x)$ , pričom  $H(f) \subset D(g)$ . Funkcia  $y = F(x) = g[f(x)]$ ,  $x \in D(f)$  sa nazýva **zložená funkcia**  $f$  **a**  $g$  (viď str. 18) a označuje sa  $g(f)$ , resp.  $f \circ g$ . Funkcia  $f$  sa nazýva **vnútorná zložka** a  $g$  **vonkajšia zložka** (obr. 3.1.13).

Ak sú funkcie zadané analyticky  $u = f(x)$ ,  $y = g(u)$ , potom do vzorca pre  $g(f)$  stačí za  $u$  dosadiť  $f(x)$ . Hovoríme, že **vykonávame substitúciu premennej**  $u$  **výrazom**  $f(x)$ .



Obr. 3.1.13: Graf zloženej funkcie



Obr. 3.1.14: Graf inverznej funkcie

### Príklad 3.1.16.

Nech  $f: y = x^2$ ,  $g: y = \sin x$ . Nájdite zložené funkcie  $f(g)$  a  $g(f)$ .

#### Riešenie.

Keďže  $D(f) = D(g) = \mathbb{R}$ ,  $H(f) = \langle 0; \infty \rangle$ ,  $H(g) = \langle -1; 1 \rangle$ , potom platí:

$$f(g): y = f[g(x)] = [g(x)]^2 = (\sin x)^2 = \sin^2 x, \quad D(f(g)) = \mathbb{R}, \quad H(f(g)) = \langle -1; 1 \rangle, \\ g(f): y = g[f(x)] = \sin f(x) = \sin(x^2), \quad D(g(f)) = \mathbb{R}, \quad H(g(f)) = \langle -1; 1 \rangle. \quad \blacksquare$$

V mnohých prípadoch potrebujeme danú funkciu rozložiť na vnútornú a vonkajšiu zložku. Takýto rozklad väčšinou nebýva jednoznačný, preto ho musíme prispôbiť našim možnostiam a daným požiadavkám.

### Príklad 3.1.17.

Funkciu  $F: y = \sqrt{1-x^2}$ ,  $x \in \langle -1; 1 \rangle$  môžeme považovať za zloženú funkciu  $F = g(f)$ , pričom  $f: y = 1 - x^2$ ,  $x \in \langle -1; 1 \rangle$ ,  $g: y = \sqrt{x}$ ,  $x \in \langle 0; \infty \rangle$ . ■

Ak je  $y = f(x)$ ,  $x \in D(f)$  injektívna, je  $y = f(x): D(f) \rightarrow H(f)$  bijektívna.<sup>4</sup> Potom existuje **inverzná funkcia**  $x = f^{-1}(y)$ ,  $H(f) \rightarrow D(f)$  taká, že  $x = f^{-1}(y)$  práve vtedy, ak  $y = f(x)$ . Keďže sa  $[x; y] \in f$  a  $[y; x] \in f^{-1}$  líšia iba poradím prvkov, sú grafy funkcií  $f$  a  $f^{-1}$  osovo súmerné podľa priamky  $y = x$  (obr. 3.1.14).

### Veta 3.1.4.

$f: D(f) \rightarrow H(f)$  je bijekcia  $\implies f^{-1}: H(f) \rightarrow D(f)$  je bijekcia a platí:<sup>5</sup>

$$(f^{-1})^{-1} = f, \quad \forall y \in D(f^{-1}): f[f^{-1}(y)] = y, \quad \forall x \in H(f^{-1}): f^{-1}[f(x)] = x.$$

Spravidla sa dodržiava dohoda, že argument funkcie  $f$  a inverznej funkcie  $f^{-1}$  značíme rovnakým symbolom. Preto namiesto  $x = f^{-1}(y)$  píšeme  $y = f^{-1}(x)$ .

### Príklad 3.1.18.

Nájdite inverznú funkciu k funkcii  $f: y = 3x + 2$ ,  $x \in R$ .

### Riešenie.

Funkcia  $f$  je prostá na množinu  $R$ . Ak vyriešime rovnicu  $y = 3x + 2$  vzhľadom k  $x$ , dostaneme  $x = \frac{y-2}{3}$ . Z toho vyplýva  $f^{-1}: y = \frac{x-2}{3}$ ,  $x \in R$ . ■

Nech  $x = \varphi(t)$ ,  $y = \psi(t)$ ,  $t \in J$  je parametrické vyjadrenie funkcie  $f$ . Ak je  $\varphi$  je prostá, potom existuje inverzná funkcia  $t = \varphi^{-1}(x): \varphi(J) \rightarrow J$  a  $f$  môžeme vyjadriť v explicitne:

$$y = \psi(\varphi^{-1}(x)), \quad x \in \varphi(J).$$

Tento prechod k explicitnému vyjadreniu nazývame **vylúčenie parametra**  $t$ .

### Veta 3.1.5.

$y = f(x)$ ,  $x \in D(f)$  je rýdzo monotónna  $\implies f$  je prostá.

Ako dokazuje príklad 3.1.19, funkcia  $f$  môže byť prostá a nemusí byť rýdzo monotónna. To znamená, že tvrdenie vety 3.1.5 nemôžeme obrátiť.

### Veta 3.1.6.

$y = f(x)$ ,  $x \in D(f)$  je rastúca [resp. klesajúca]  $\implies$   
 $y = f^{-1}(x)$ ,  $x \in H(f)$  je tiež rastúca [resp. klesajúca].

### Dôkaz.

$f$  je rastúca:  $x_1, x_2 \in D(f)$ ,  $x_1 < x_2 \implies y_1, y_2 \in H(f)$ ,  $y_1 = f(x_1) < f(x_2) = y_2$ .

<sup>4</sup>Surjektívnosť je zaručená existenciou vzoru pre každý obraz z množiny  $H(f)$ .

<sup>5</sup>Analógia vety 1.3.5 na strane 19.

$y = f(x)$ ,  $x \in D(f)$  je rastúca  $\xrightarrow{\text{veta 3.1.5}}$   $f: D(f) \rightarrow H(f)$  je prostá a tiež bijektívna  $\Rightarrow$  existuje inverzná funkcia  $x = f^{-1}(y): H(f) \rightarrow D(f)$ , ktorá je tiež bijektívna.  $f^{-1}$  nie je rastúca  $\Rightarrow$  existujú  $y_1, y_2 \in H(f)$ ,  $y_2 < y_1: x_2 = f^{-1}(y_2) \geq f^{-1}(y_1) = x_1 \Rightarrow \xrightarrow{f^{-1} \text{ je prostá}} x_1 < x_2 \xrightarrow{f \text{ je rastúca}} y_1 < y_2$ , t. j. spor  $\Rightarrow f^{-1}$  je rastúca.

Pre klesajúcu funkciu je dôkaz analogický. ■

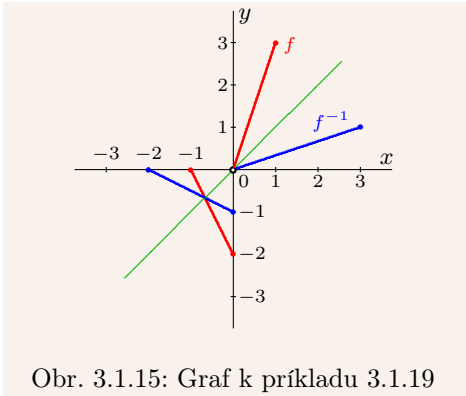
### Príklad 3.1.19.

Nájdite inverznú funkciu k funkcii  $f: y = \begin{cases} 2x + 2, & \text{pre } x \in \langle -1; 0 \rangle, \\ 3x + 3, & \text{pre } x \in (0; 1). \end{cases}$

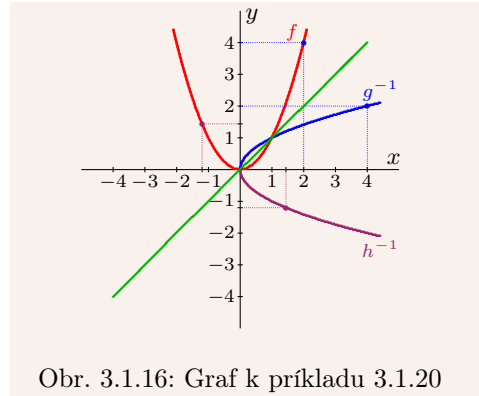
#### Riešenie.

Funkcia  $f$  je prostá a nie je rýdzo monotónna na  $D(f) = \langle -1; 1 \rangle$ .

Na intervale  $\langle -1; 0 \rangle$  je klesajúca a na intervale  $(0; 1)$  je rastúca (obr. 3.1.15). Ľahko overíme, že  $f^{-1}: y = \frac{x}{2} - 1$  pre  $x \in \langle 0; 2 \rangle$ ,  $y = \frac{x}{3} - 1$  pre  $x \in (3; 6)$ . ■



Obr. 3.1.15: Graf k príkladu 3.1.19



Obr. 3.1.16: Graf k príkladu 3.1.20

Často sa stáva, že funkcia  $f$  je prostá iba na nejakej časti  $A \subset D(f)$ . V tomto prípade môžeme utvoriť reštrikciu  $g = f|_A$ , ku ktorej inverzná funkcia  $g^{-1}$  existuje.

### Príklad 3.1.20.

Funkcia  $f: y = x^2$ ,  $x \in \mathbb{R}$  nie je prostá, t. j. k nej inverzná funkcia neexistuje.

Funkcia  $g = f|_{(-\infty; 0]}$  má inverznú funkciu  $g^{-1} = -\sqrt{x}$ ,  $x \in \langle 0; \infty \rangle$  a funkcia  $h = f|_{\langle 0; \infty \rangle}$  má inverznú funkciu  $h^{-1} = \sqrt{x}$ ,  $x \in \langle 0; \infty \rangle$  (obr. 3.1.16). ■

## 3.1.2 Elementárne funkcie

Elementárne funkcie majú veľký praktický význam, pretože sa dajú pomocou nich popísať (aspoň približne) mnohé prírodné a spoločenské zákonitosti a javy.

**Elementárnou funkciou** nazývame každú funkciu, ktorú dokážeme utvoriť pomocou operácií sčítania, odčítania, násobenia, delenia a skladania z funkcií:

$$y = \text{konšt.}, \quad y = x, \quad y = e^x, \quad y = \ln x, \quad y = \sin x, \quad y = \arcsin x, \quad y = \text{arctg } x.$$

**Polynómom (raciálnou celistvou funkciou)<sup>6</sup> stupňa  $n$**  nazývame funkciu:

$$f_n: y = a_0 + a_1x + a_2x^2 + \dots + a_nx^n, \quad \text{kde } a_0, a_1, \dots, a_n \in R, \quad n \in N \cup \{0\}, \quad a_n \neq 0.$$

Čísla  $a_0, a_1, \dots, a_n$  nazývame **koefficienty**. Prirodzený  $D(f_n) = R$ .

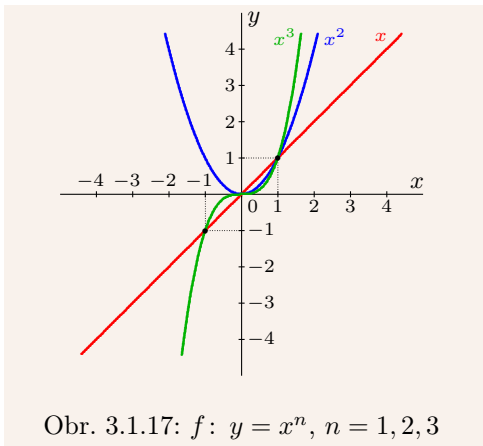
Funkcia  $f_2: y = a_0 + a_1x + a_2x^2$ ,  $a_2 \neq 0$  sa nazýva **kvadratická**,  $f_1: y = a_0 + a_1x$ ,  $a_1 \neq 0$  sa nazýva **lineárna funkcia**,  $f_0: y = a_0$ ,  $a_0 \neq 0$  sa nazýva **konštantná funkcia**.

Z algebr vieme, že funkcia  $f_n$ ,  $n \in N$  má najviac  $n$  reálnych koreňov.<sup>7</sup>

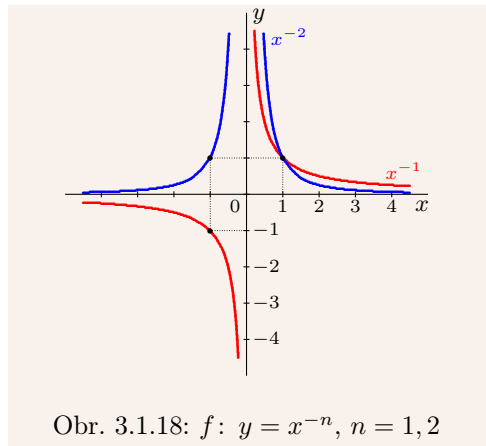
### Príklad 3.1.21.

a) Funkcia  $f_n: y = x^n$ ,  $n \in N$  je definovaná pre všetky  $x \in R$ . Jej grafom je tzv. **parabola stupňa  $n$** . Pre  $n = 1$  je grafom priamka (obr. 3.1.17). Funkcia  $f_n$  má pre všetky  $n \in N$  práve jeden nulový bod  $x = 0$ .

b) Funkcia  $f: y = x^3 - 2x^2$  má korene  $x_1 = 0$  (dvojnásobný),  $x_2 = 2$  (obr. 3.1.19). ■



Obr. 3.1.17:  $f: y = x^n$ ,  $n = 1, 2, 3$



Obr. 3.1.18:  $f: y = x^{-n}$ ,  $n = 1, 2$

**Raciálnou lomenou funkciou** nazývame funkciu:

$$f: y = \frac{f_n(x)}{f_m(x)} = \frac{a_0 + a_1x + a_2x^2 + \dots + a_nx^n}{b_0 + a_1x + a_2x^2 + \dots + b_mx^m}, \quad \text{kde } n, m \in N - \{0\}.$$

Funkcie  $f_n$ ,  $f_m$  sú polynómy stupňov  $n$  a  $m$ , pričom  $a_0, a_1, \dots, a_n \in R$ ,  $b_0, b_1, \dots, b_m \in R$ . Aby mala funkcia  $f$  zmysel, musí platiť  $f_m(x) \neq 0$ .

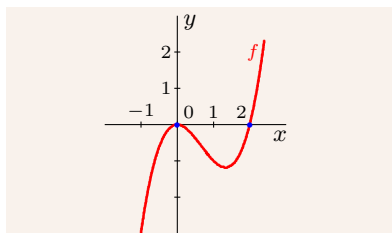
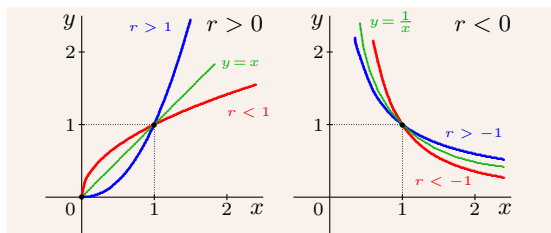
### Príklad 3.1.22.

Funkcia  $f: y = x^{-n}$ ,  $n \in N$  je definovaná pre všetky  $x \in R - \{0\}$ . Jej grafom je tzv. **hyperbola stupňa  $n+1$** . Funkcia  $f$  nemá nulový bod (obr. 3.1.18). ■

<sup>6</sup>Viac informácií o polynómoch čitateľ nájde v [18].

<sup>7</sup>V množine komplexných čísel  $C$  má práve  $n$  koreňov (vrátane násobnosti).



Obr. 3.1.19:  $f: y = x^3 - 2x^2$ Obr. 3.1.20:  $f: y = x^r$  pre  $r > 0$  a  $r < 0$ 

**Mocninovou funkciou** nazývame funkciu:

$$f: y = x^r, \quad \text{kde } r \in \mathbb{R}, r \neq 0.$$

Pre  $r \in \mathbb{N}$  sa stáva polynómom a pre  $r \in \mathbb{Z}^-$  racionálnou lomenou funkciou.

Pre  $r > 0$  je  $f$  rastúca a prirodzený  $D(f) = \langle 0; \infty \rangle$ . Pre  $r < 0$  je  $f$  klesajúca (obr. 3.1.20) a prirodzený  $D(f) = (0; \infty)$ . Inverznou funkciou je  $f^{-1}: y = x^{1/r}$ .

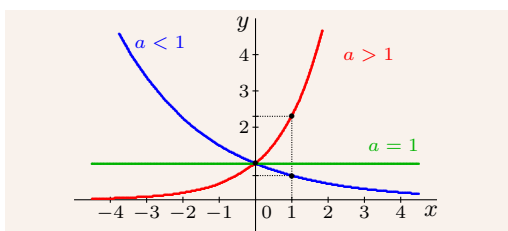
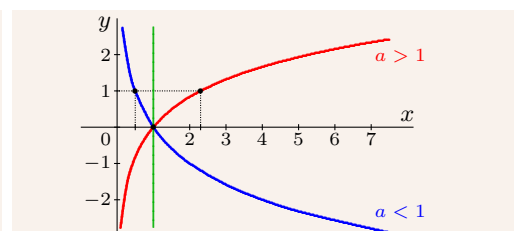
**Exponenciálnou funkciou so základom  $a > 0$**  nazývame funkciu:

$$f: y = a^x, \quad x \in \mathbb{R}.$$

Najdôležitejšia z nich je funkcia  $f: y = \exp x = e^x$  so základom  $e$  (Eulerovo číslo).

Pre  $a = 1$  sa rovná konštantnej funkcii  $y = 1$ . Pre  $a \in (0; 1)$  je klesajúca a pre  $a > 1$  je rastúca. Jej graf nazývame **exponenciálna krivka** alebo **exponenciála** (obr. 3.1.21).

Každá exponenciálna krivka prechádza bodmi  $[0; 1]$  a  $[1; a]$ . Navyše sú grafy funkcií  $y = a^x$  a  $y = a^{-x}$  symetrické podľa osi  $y$ .

Obr. 3.1.21:  $f: y = a^x, a > 0$ Obr. 3.1.22:  $f: y = \log_a x, a > 0, a \neq 1$ 

**Logaritmickou funkciou so základom  $a > 0, a \neq 1$**  nazývame funkciu:

$$f: y = \log_a x, \quad x \in \langle 0; \infty \rangle \quad \text{takú, že } x = a^y.$$

Graf funkcie  $f$  sa nazýva **logaritmická krivka**, prechádza bodmi  $[1; 0]$ ,  $[a; 1]$  a je osovo súmerný podľa priamky  $y = x$  s grafom funkcie  $y = a^x, x \in \mathbb{R}$ . Pre  $a \in (0; 1)$  je  $f$  klesajúca a pre  $a > 1$  je  $f$  rastúca (obr. 3.1.22).

Číslo  $\log_a x$  nazývame **logaritmus čísla  $x$  so základom  $a$** . Logaritmus so základom 10 nazývame **dekadický** a označujeme  $\log x$ . Logaritmus so základom  $e$  nazývame **prirodzený** a označujeme<sup>8</sup>  $\ln x$ .

Logaritmická funkcia  $f: y = \log_a x, x > 0$  a exponenciálna funkcia  $g: y = a^x, x \in \mathbb{R}$  sú inverzné, takže platí  $x = a^{\log_a x}$  pre všetky  $x > 0$  a  $x = \log_a a^x$  pre všetky  $x \in \mathbb{R}$ .

**Veta 3.1.7.**

$$a > 0, a \neq 1, b > 0, b \neq 1, x > 0, x_1 > 0, x_2 > 0, r \in \mathbb{R} \implies \log_a x = \frac{\log_b x}{\log_b a},$$

$$\log_a x_1 + \log_a x_2 = \log_a (x_1 x_2), \quad \log_a x^r = r \log_a x, \quad \log_a x_1 - \log_a x_2 = \log_a \frac{x_1}{x_2}.$$

Mocninná, exponenciálna a logaritmická funkcia sú elementárne funkcie, pretože platí

$$y = x^r = e^{\ln x^r} = e^{r \ln x}, \quad y = a^x = e^{\ln a^x} = e^{x \ln a}, \quad y = \log_a x = \frac{\ln x}{\ln a}.$$

Základné **goniometrické (trigonometrické) funkcie** sú sínus, kosínus, tangens, kotangens. Definujú sa pomocou jednotkovej kružnice v rovine  $\mathbb{R}^2$ .

Uvažujme v rovine  $\mathbb{R}^2$  súradnicový systém s osami  $u, v$  a kružnicu so stredom v bode  $O = [0; 0]$  a s polomerom  $r = 1$ . Označme  $J = [1; 0]$ . Každému  $x \in \mathbb{R}$  je priradený práve jeden orientovaný uhol  $\angle JOA$  (bod  $A = [u; v]$  zvolíme na kružnici). Číslo  $x$  vyjadruje veľkosť tohto uhla **v oblúkovej miere** v jednotkách **radiány**. Pre  $x < 0$  je orientácia tohto uhla súhlasná so smerom otáčania hodinových ručičiek a pre  $x > 0$  je jeho orientácia opačná.

Prvú súradnicu bodu  $A$  nazývame **kosínus uhla  $x$** , druhú nazývame **sínus uhla  $x$**  a označujeme  $A = [\cos x; \sin x]$ . Tým sú definované funkcie  $\cos x$  a  $\sin x$  pre všetky  $x \in \mathbb{R}$ .

V prípade  $\cos x \neq 0$ , resp.  $\sin x \neq 0$  definujeme **tangens** a **kotangens uhla  $x$**  vzťahmi

$$\operatorname{tg} x = \frac{\sin x}{\cos x}, \quad \operatorname{cotg} x = \frac{\cos x}{\sin x}.$$

Pre hodnoty goniometrických funkcií (obr. 3.1.23) platí  $|OA_x| = \cos x, |AA_x| = \sin x, |OJ| = |OK| = 1$ . Z podobnosti trojuholníkov  $OA_x A, OJT$  a  $OA_x A, CKO$  vyplýva:

$$\operatorname{tg} x = TJ = \frac{TJ}{OJ} = \frac{AA_x}{OA_x}, \quad \operatorname{cotg} x = CK = \frac{CK}{OK} = \frac{OA_x}{AA_x}.$$

Kružnica s polomerom  $r = 1$  má obvod<sup>9</sup>  $2\pi$ , veľkosť oblúka od bodu  $J$  po  $[0; 1]$  je  $\frac{\pi}{2}$ , veľkosť oblúka od bodu  $J$  po bod  $[0; -1]$  je  $-\frac{\pi}{2}$ , resp.  $2\pi - \frac{\pi}{2} = \frac{3\pi}{2}$ . Je zrejmé, že ak sa veľkosť oblúka  $x$  zväčší o  $2\pi$ , hodnoty goniometrických funkcií sa nezmenia.

Niekedy sa na vyjadrenie veľkosti uhla používajú **stupne**, ktoré značíme  $^\circ$ . Jeden stupeň sa delí na 60 **minút** a jedna minúta na 60 **sekúnd**. Uhlu  $2\pi$  zodpovedá  $360^\circ$ . Uhol  $x^\circ$  prevedieme na radiány pomocou vzorca  $\pi x^\circ / 180^\circ$ .

Funkcia  $y = \sin x: \mathbb{R} \rightarrow \langle -1; 1 \rangle$  je nepárna, periodická s periódou  $2\pi$ . Jej graf nazývame **sínusoida** a nulové body sú  $k\pi, k \in \mathbb{Z}$  (obr. 3.1.24).

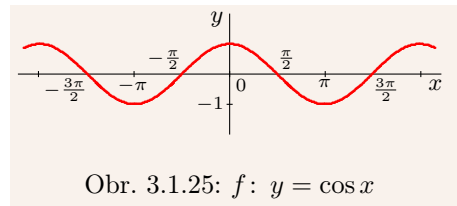
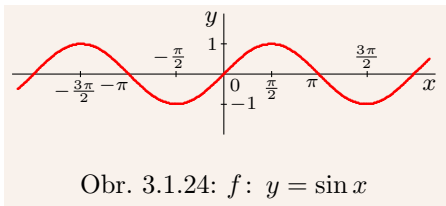
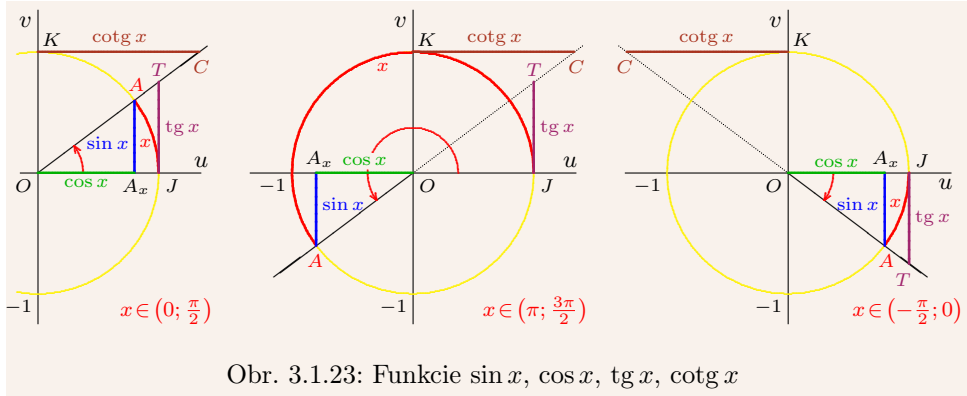
Funkcia  $y = \cos x: \mathbb{R} \rightarrow \langle -1; 1 \rangle$  je párna, periodická s periódou  $2\pi$ . Jej graf nazývame **kosínusoida** a nulové body sú  $\frac{\pi}{2} + k\pi, k \in \mathbb{Z}$  (obr. 3.1.25).

Funkcia  $y = \operatorname{tg} x: (\mathbb{R} - \{\frac{\pi}{2} + k\pi; k \in \mathbb{Z}\}) \rightarrow \mathbb{R}$  Je nepárna, periodická s periódou  $\pi$ . Jej graf nazývame **tangenta** a nulové body sú  $k\pi, k \in \mathbb{Z}$  (obr. 3.1.26).

Funkcia  $y = \operatorname{cotg} x: (\mathbb{R} - \{k\pi; k \in \mathbb{Z}\}) \rightarrow \mathbb{R}$  Je nepárna, periodická s periódou  $\pi$ . Jej graf nazývame **kotangenta** a nulové body sú  $\frac{\pi}{2} + k\pi, k \in \mathbb{Z}$  (obr. 3.1.27).

<sup>8</sup>Niekedy (hlavne v anglickej literatúre) sa označenie  $y = \log x$  používa pre prirodzený logaritmus.

<sup>9</sup>Číslo  $\pi$  sa nazýva **Ludolfovo**, je iracionálne a jeho hodnota je približne 3,141592654.



Hodnoty  $\cos x$ ,  $\sin x$  sú odvesnami pravouhlého trojuholníka s preponou 1. Potom z Pytagorovej vety pre všetky  $x \in \mathbb{R}$  platí  $\sin^2 x + \cos^2 x = 1$ .

$\sin 0 = \cos \frac{\pi}{2}$	$\sin \frac{\pi}{6} = \cos \frac{\pi}{3}$	$\sin \frac{\pi}{4} = \cos \frac{\pi}{4}$	$\sin \frac{\pi}{3} = \cos \frac{\pi}{6}$	$\sin \frac{\pi}{2} = \cos 0$
0	$\frac{1}{2}$	$\frac{\sqrt{2}}{2}$	$\frac{\sqrt{3}}{2}$	1

Tabuľka 3.1.1: Niektoré dôležité hodnoty funkcií sínus a kosínus

Na záver uvedieme bez dôkazov niektoré vzťahy, ktoré platia pre goniometrické funkcie.

**Veta 3.1.8 (Súčtové vzorce pre sínus a kosínus).**

$$x, y \in \mathbb{R} \implies \sin(x \pm y) = \sin x \cos y \pm \cos x \sin y, \quad \cos(x \pm y) = \cos x \cos y \mp \sin x \sin y,$$

$$\sin 2x = 2 \sin x \cos x, \quad \cos 2x = \cos^2 x - \sin^2 x, \quad \sin^2 x = \frac{1 - \cos 2x}{2}, \quad \cos^2 x = \frac{1 + \cos 2x}{2}.$$

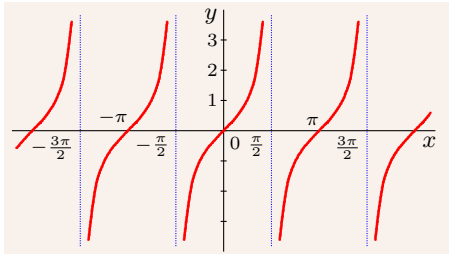
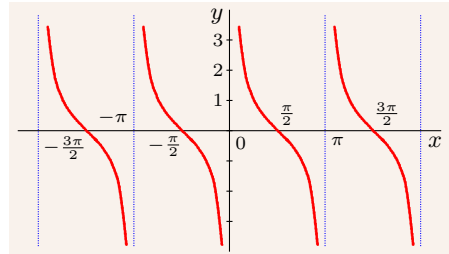
**Veta 3.1.9.**

$$x, y \in \mathbb{R} \implies \sin x \pm \sin y = 2 \sin \frac{x \pm y}{2} \cos \frac{x \mp y}{2},$$

$$\cos x + \cos y = 2 \cos \frac{x+y}{2} \cos \frac{x-y}{2}, \quad \cos x - \cos y = -2 \sin \frac{x+y}{2} \sin \frac{x-y}{2}.$$

**Veta 3.1.10 (Súčtové vzorce pre tangens a kotangens).**

$$x, y \in \mathbb{R} \implies \operatorname{cotg}(x \pm y) = \frac{\operatorname{cotg} x \operatorname{cotg} y \mp 1}{\operatorname{cotg} y \pm \operatorname{cotg} x}, \quad \operatorname{tg}(x \pm y) = \frac{\operatorname{tg} x \pm \operatorname{tg} y}{1 \mp \operatorname{tg} x \operatorname{tg} y} \quad (\text{pokiaľ výrazy existujú}).$$

Obr. 3.1.26:  $f: y = \operatorname{tg} x$ Obr. 3.1.27:  $f: y = \operatorname{cotg} x$ 

$\sin x =$		$\sqrt{1 - \cos^2 x}$	$\frac{\operatorname{tg} x}{\sqrt{1 + \operatorname{tg}^2 x}}$	$\frac{1}{\sqrt{1 + \operatorname{cotg}^2 x}}$
$\cos x =$	$\sqrt{1 - \sin^2 x}$		$\frac{1}{\sqrt{1 + \operatorname{tg}^2 x}}$	$\frac{\operatorname{cotg} x}{\sqrt{1 + \operatorname{cotg}^2 x}}$
$\operatorname{tg} x =$	$\frac{\sin x}{\sqrt{1 - \sin^2 x}}$	$\frac{\sqrt{1 - \cos^2 x}}{\cos x}$		$\frac{1}{\operatorname{cotg} x}$
$\operatorname{cotg} x =$	$\frac{\sqrt{1 - \sin^2 x}}{\sin x}$	$\frac{\cos x}{\sqrt{1 - \cos^2 x}}$	$\frac{1}{\operatorname{tg} x}$	

Tabuľka 3.1.2: Vzťahy medzi goniometrickými funkciami pre  $x \in (0; \frac{\pi}{2})$ 

Ku goniometrickým funkciám neexistujú inverzné funkcie, pretože nie sú prosté. Keď ich zúžime na vhodné intervaly, potom k nim inverzné funkcie vytvoriť môžeme. Tieto funkcie sa nazývajú **cyklometrické funkcie**.

Reštrikcia  $y = \sin x|_{\langle -\pi/2; \pi/2 \rangle}$ , t. j. funkcia  $y = \sin x: \langle -\pi/2; \pi/2 \rangle \rightarrow \langle -1; 1 \rangle$ , je bijektívna. Inverznú funkciu  $y = \arcsin x: \langle -1; 1 \rangle \rightarrow \langle \pi/2; \pi/2 \rangle$  nazývame **arkussínus**. Funkcia arkussínus je rastúca a nepárna (obr. 3.1.28).

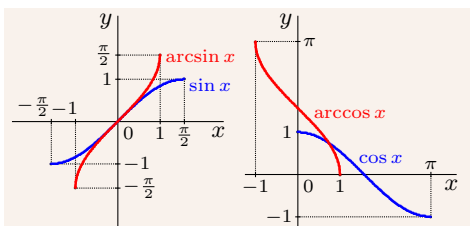
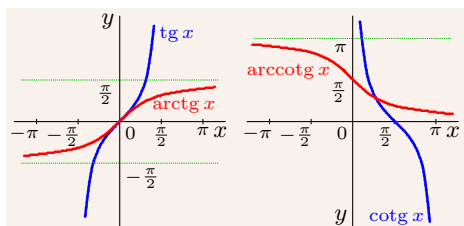
$y = \cos x, x \in \langle 0; \pi \rangle$  je bijektívna. Inverznú funkciu  $y = \arccos x: \langle -1; 1 \rangle \rightarrow \langle 0; \pi \rangle$  nazývame **arkuskosínus**. Funkcia arkuskosínus je klesajúca (obr. 3.1.28).

$y = \operatorname{tg} x, x \in \langle -\pi/2; \pi/2 \rangle$  je bijektívna. Inverznú funkciu  $y = \operatorname{arctg} x: \mathbb{R} \rightarrow \langle -\pi/2; \pi/2 \rangle$  nazývame **arkustangens**. Funkcia arkustangens je rastúca a nepárna (obr. 3.1.29).

$y = \operatorname{cotg} x, x \in \langle 0; \pi \rangle$  je bijektívna. Inverznú funkciu  $y = \operatorname{arccotg} x: \mathbb{R} \rightarrow \langle 0; \pi \rangle$  nazývame **arkuskotangens**. Funkcia arkuskotangens je klesajúca (obr. 3.1.29).

### Veta 3.1.11 (Súčtové vzorce pre cyklometrické funkcie).

$$x \in \langle -1; 1 \rangle \implies \arcsin x + \arccos x = \frac{\pi}{2}, \quad x \in \mathbb{R} \implies \operatorname{arctg} x + \operatorname{arccotg} x = \frac{\pi}{2}.$$

Obr. 3.1.28: Funkcie  $y = \arcsin x$ ,  
 $y = \arccos x$ Obr. 3.1.29: Funkcie  $y = \arctg x$ ,  
 $y = \text{arccotg } x$ 

**Sínus hyperbolický** a **kosínus hyperbolický**, definujeme vzťahmi:

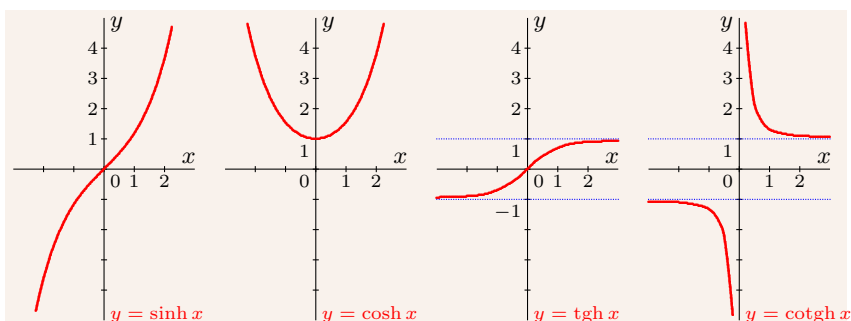
$$\sinh x = \frac{e^x - e^{-x}}{2} = \frac{e^{2x} - 1}{2e^x} : \mathbb{R} \rightarrow \mathbb{R}, \quad \cosh x = \frac{e^x + e^{-x}}{2} = \frac{e^{2x} + 1}{2e^x} : \mathbb{R} \rightarrow \langle 1; \infty \rangle.$$

Funkcia  $y = \sinh x$  je nepárna a rastúca. Funkcia  $y = \cosh x$  je párna (obr. 3.1.30).

**Tangens hyperbolický** a **kotangens hyperbolický** definujeme vzťahmi:

$$\text{tgh } x = \frac{\sinh x}{\cosh x} = \frac{e^x - e^{-x}}{e^x + e^{-x}} : \mathbb{R} \rightarrow (-1; 1), \quad \text{cotgh } x = \frac{\cosh x}{\sinh x} = \frac{e^x + e^{-x}}{e^x - e^{-x}} : (\mathbb{R} - \{0\}) \rightarrow \langle -1; 1 \rangle.$$

Funkcia  $y = \text{tgh } x$  je nepárna a rastúca. Funkcia  $y = \text{cotgh } x$  je nepárna (obr. 3.1.30).

Obr. 3.1.30: Hyperbolické funkcie  $\sinh x$ ,  $\cosh x$ ,  $\text{tgh } x$  a  $\text{cotgh } x$ 

Hyperbolické funkcie<sup>10</sup> majú podobné vlastnosti ako goniometrické funkcie, preto majú podobné názvy. Na záver uvedieme bez dôkazov niektoré vzťahy, ktoré pre ne platia.

**Veta 3.1.12.**

$$x \in \mathbb{R} \implies \sinh x \pm \cosh x = \pm e^{\pm x}, \quad \cosh^2 x - \sinh^2 x = 1.$$

<sup>10</sup>Rovnosť  $\cosh^2 x - \sinh^2 x = 1$  znamená, že body  $[\cosh x; \sinh x]$  ležia na hyperbole  $y^2 - x^2 = 1$ . Odtiaľ pochádza názov hyperbolické funkcie.

**Veta 3.1.13 (Súčtové vzorce pre hyperbolický sínus a kosínus).**

$$x, y \in R \Rightarrow \sinh(x \pm y) = \sinh x \cosh y \pm \cosh x \sinh y, \quad \cosh(x \pm y) = \cosh x \cosh y \pm \sinh x \sinh y,$$

$$\sinh 2x = 2 \sinh x \cosh x, \quad \cosh 2x = \cosh^2 x + \sinh^2 x, \quad \sinh^2 x = \frac{\cosh 2x - 1}{2}, \quad \cosh^2 x = \frac{\cosh 2x + 1}{2}.$$

**Veta 3.1.14.**

$$x, y \in R \Rightarrow \sinh x \pm \sinh y = 2 \sinh \frac{x \pm y}{2} \cosh \frac{x \mp y}{2},$$

$$\cosh x + \cosh y = 2 \cosh \frac{x+y}{2} \cosh \frac{x-y}{2}, \quad \cosh x - \cosh y = 2 \sinh \frac{x+y}{2} \sinh \frac{x-y}{2}.$$

**Veta 3.1.15 (Súčtové vzorce pre hyperbolický tangens a kotangens).**

$$x, y \in R \Rightarrow \operatorname{tgh}(x \pm y) = \frac{\operatorname{tgh} x \pm \operatorname{tgh} y}{1 \pm \operatorname{tgh} x \operatorname{tgh} y}, \quad \operatorname{cotgh}(x \pm y) = \frac{1 \pm \operatorname{cotgh} x \operatorname{cotgh} y}{\operatorname{cotgh} x \pm \operatorname{cotgh} y} \text{ pre } x \neq y.$$

**Veta 3.1.16 (Moivreov vzorec).**

$$x \in R, n \in N \Rightarrow (\cosh x \pm \sinh x)^n = \cosh nx \pm \sinh nx.$$

	$\sinh x$	$\cosh x$	$\operatorname{tgh} x$	$\operatorname{cotgh} x$
$\sinh x =$	$\sinh x$	$\sqrt{\cosh^2 x - 1}$	$\frac{\operatorname{tgh} x}{\sqrt{1 - \operatorname{tgh}^2 x}}$	$\frac{1}{\sqrt{\operatorname{cotgh}^2 x - 1}}$
$\cosh x =$	$\sqrt{\sinh^2 x + 1}$	$\cosh x$	$\frac{1}{\sqrt{1 - \operatorname{tgh}^2 x}}$	$\frac{\operatorname{cotgh} x}{\sqrt{\operatorname{cotgh}^2 x - 1}}$
$\operatorname{tgh} x =$	$\frac{\sinh x}{\sqrt{\sinh^2 x + 1}}$	$\frac{\sqrt{\cosh^2 x - 1}}{\cosh x}$	$\operatorname{tgh} x$	$\frac{1}{\operatorname{cotgh} x}$
$\operatorname{cotgh} x =$	$\frac{\sqrt{\sinh^2 x + 1}}{\sinh x}$	$\frac{\cosh x}{\sqrt{\cosh^2 x - 1}}$	$\frac{1}{\operatorname{tgh} x}$	$\operatorname{cotgh} x$

Tabuľka 3.1.3: Vzťahy medzi jednotlivými hyperbolickými funkciami pre  $x > 0$

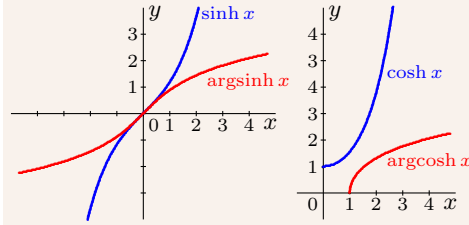
Funkcie  $\sinh x$ ,  $\operatorname{tgh} x$  a  $\operatorname{cotgh} x$  sú bijektívne, funkcia  $\cosh x$  je bijektívna na  $\langle 0; \infty \rangle$ . Inverzné funkcie k týmto funkciám nazývame **hyperbolometrické funkcie**.

Inverzná funkcia k  $y = \sinh x$ ,  $x \in R$  sa nazýva **argument sínusu hyperbolického** a označuje  $\operatorname{argsinh} x$ . Je rastúca a platí  $y = \operatorname{argsinh} x: R \rightarrow R$  (obr. 3.1.31).

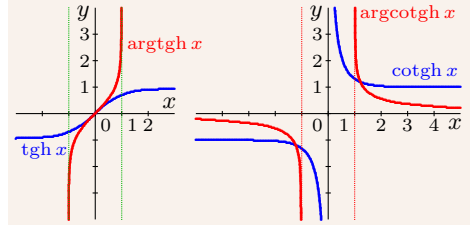
Inverzná funkcia k  $y = \cosh x$ ,  $x \in \langle 0; \infty \rangle$  sa nazýva **argument kosínusu hyperbolického** a označuje  $\operatorname{argcosh} x$ . Je rastúca a platí  $\operatorname{argcosh} x: \langle 1; \infty \rangle \rightarrow \langle 0; \infty \rangle$  (obr. 3.1.31).

Funkcie  $\operatorname{argsinh} x$  a  $\operatorname{argcosh} x$  môžeme vyjadriť v tvare:

$$\operatorname{argsinh} x = \ln \left[ x + \sqrt{x^2 + 1} \right], \quad x \in R, \quad \operatorname{argcosh} x = \ln \left[ x + \sqrt{x^2 - 1} \right], \quad x \in \langle 1; \infty \rangle.$$



Obr. 3.1.31: Funkcie  $y = \operatorname{arsinh} x$ ,  
 $y = \operatorname{argcosh} x$



Obr. 3.1.32: Funkcie  $y = \operatorname{argtgh} x$ ,  
 $y = \operatorname{argcotgh} x$

Inverzná funkcia k  $\operatorname{tgh} x$  sa nazýva **argument tangensu hyperbolického** a označuje  $\operatorname{argtgh} x$ . Je rastúca (obr. 3.1.32) a má tvar:

$$\operatorname{argtgh} x = \frac{1}{2} \ln \frac{1+x}{1-x} = \frac{\ln(1+x) - \ln(1-x)}{2}: (-1; 1) \rightarrow \mathbb{R}.$$

Inverzná funkcia k  $\operatorname{cotgh} x$  sa nazýva **argument kotangensu hyperbolického** a označuje  $\operatorname{argcotgh} x$ . Na intervaloch  $(-\infty; -1)$ ,  $(1; \infty)$  je klesajúca (obr. 3.1.32):

$$\operatorname{argcotgh} x = \frac{1}{2} \ln \frac{x+1}{x-1} = \frac{\ln(x+1) - \ln(x-1)}{2}: (\mathbb{R} - \langle -1; 1 \rangle) \rightarrow (\mathbb{R} - \{0\}).$$

## Cvičenia

**3.1.1.** Rozhodnite, či sú nasledujúce relácie funkciami: ♣

- a)  $f = \{[x; y] \in \mathbb{R}^2; x + |y - 1| = 0\}$ ,      b)  $f = \{[x; y] \in \mathbb{R}^2; |x - 1| + y = 0\}$ ,  
 c)  $f = \{[x; y] \in \mathbb{R}^2; |x| + |y| = 2, y \geq 0\}$ ,      d)  $f = \{[x; y] \in \mathbb{R}^2; |x - 1| + |y| = 0\}$ ,  
 e)  $f = \{[x; y] \in \mathbb{R}^2; x^2 + y^2 - 2x = -2\}$ ,      f)  $f = \{[x; y] \in \mathbb{R}^2; y^2 + 2y + 1 = 0\}$ .

**3.1.2.** Určte prirodzený definičný obor funkcie  $y = f(x)$  zadanej predpisom: ♣

- a)  $y = \arcsin \ln x$ ,      b)  $y = \operatorname{arctg} \operatorname{tg} x$ ,      c)  $y = \arcsin x^{-1}$ ,      d)  $y = \sqrt{\sin x^2}$ ,  
 e)  $y = \frac{x+2}{2x^2-1}$ ,      f)  $y = \frac{\sqrt{x}}{\sin \pi x}$ ,      g)  $y = \ln \sin \frac{\pi}{x}$ ,      h)  $y = \sqrt{\frac{x+1}{x-1}}$ ,  
 i)  $y = \frac{1}{\sqrt{|x|-x}}$ ,      j)  $y = \ln \frac{1-x}{1+x}$ ,      k)  $y = \frac{2}{2-[x]}$ ,      l)  $y = \frac{\sqrt{x-2}}{x-4}$ ,

**3.1.3.** Určte prirodzený definičný obor funkcie  $y = f(x)$  zadanej predpisom: ♣

- a)  $y = \sqrt{1 - \operatorname{tg} 2x}$ ,      b)  $y = \ln(x^2 - 4)$ ,      c)  $y = \ln(x-2) + \ln(x+2)$ ,  
 d)  $y = \sqrt{\sin x \cos x}$ ,      e)  $y = \sqrt{\sin x} \sqrt{\cos x}$ ,      f)  $y = \sqrt{\ln \sin x} \sqrt{\ln \cos x}$ ,  
 g)  $y = \arccos(2 \sin x)$ ,      h)  $y = \ln|1 - \sqrt{x}|$ ,      i)  $y = \ln|x^2 - 2x - 6|$ ,

**3.1.4.** Zostrojte graf funkcie  $y = f(x)$  zadanej predpisom:

- a)  $y = \lfloor \sin^2 x \rfloor$ ,      b)  $y = \lfloor \cos^2 x \rfloor$ ,      c)  $y = \sin(x+1)$ ,      d)  $y = |x| - |x-1|$ ,

- e)  $y = \arcsin 3x$ ,      f)  $y = \sin 3x$ ,      g)  $y = 3 \sin x$ ,      h)  $y = \max \{x, x^2\}$ ,  
 i)  $y = e^{\lfloor x \rfloor}$ ,      j)  $y = \lfloor e^x \rfloor$ ,      k)  $y = \lfloor \ln x \rfloor$ ,      l)  $y = \arcsin x + 1$ ,  
 m)  $y = x^2 \sin x$ ,      n)  $y = x^3 \sin x$ ,      o)  $y = \lfloor \sin x \rfloor$ ,      p)  $y = |x + |x| + 1|$ .

**3.1.5.** Zostrojte graf parametricky zadanej funkcie  $y = f(x)$  a určte jej explicitný tvar.

- a)  $x = 1 - t, y = t, t \in (-\infty; \infty)$ ,      b)  $x = t, y = t^2, t \in (-\infty; \infty)$ ,  
 c)  $x = 1 - t^2, y = t^2, t \in (-\infty; \infty)$ ,      d)  $x = t^2, y = t^3, t \in (-\infty; \infty)$ ,  
 e)  $x = 2 \cos t, y = \sin t, t \in \langle 0; 2\pi \rangle$ ,      f)  $x = 2 \cos t, y = \sin t, t \in \langle 0; \pi \rangle$ ,  
 g)  $x = t - t^2, y = t^2 - t^3, t \in (-\infty; \infty)$ ,      h)  $x = \cos^2 t, y = \sin^2 t, t \in \langle 0; 2\pi \rangle$ .

**3.1.6.** Rozhodnite, či je funkcia  $y = f(x)$  párna alebo nepárna. ♣

- a)  $y = x^2 + \sin x^2$ ,      b)  $y = \cos(\pi - x)$ ,      c)  $y = x \cosh x$ ,      d)  $y = \sin x + \cos x$ ,  
 e)  $y = x \ln |x|$ ,      f)  $y = x - x^3$ ,      g)  $y = x - x^2$ ,      h)  $y = \chi(x) - \chi^2(x)$ ,  
 i)  $y = |x|x^{-1}$ ,      j)  $y = x^2 + |x|$ ,      k)  $y = x + \sin x$ ,      l)  $y = |x| + \cos x$ ,  
 m)  $y = \ln \frac{2-x}{2+x}$ ,      n)  $y = \frac{\sinh x}{\sin x}$ ,      o)  $y = \frac{2^x + 2^{-x}}{2}$ ,      p)  $y = \frac{2^x - 2^{-x}}{2}$ .

**3.1.7.** Nech  $y = f(x)$  je ľubovoľná funkcia definovaná na intervale  $(-k; k)$ ,  $k > 0$ . Dokážte, že funkcia  $f(x) + f(-x)$  je párna a funkcia  $f(x) - f(-x)$  je nepárna na  $(-k; k)$ .

**3.1.8.** Je funkcia  $y = f(x)$  periodická? Ak áno, určte jej primitívnu periódu: ♣

- a)  $y = |\sin x|$ ,      b)  $y = \sin x^2$ ,      c)  $y = \sin^2 x$ ,      d)  $y = (-1)^{\lfloor x-1 \rfloor}$ ,  
 e)  $y = x - \lfloor x \rfloor$ ,      f)  $y = \lfloor \chi(x) \rfloor$ ,      g)  $y = \chi(\lfloor x \rfloor)$ ,      h)  $y = (-1)^{\lfloor x \rfloor}$ .

**3.1.9.** Je funkcia  $y = f(x)$  periodická? Ak áno, určte jej primitívnu periódu: ♣

- a)  $y = \sin x + \cos x$ ,      b)  $y = \sin x + \operatorname{tg} x$ ,      c)  $y = \operatorname{sgn}(x - \lfloor x \rfloor)$ ,  
 d)  $y = \sin x + \cos 2x$ ,      e)  $y = \arcsin \sin x$ ,      f)  $y = \cos x - 3 \sin 4x$ ,  
 g)  $y = \ln |\sin x + \cos x|$ ,      h)  $y = 2^{3 + \sin 2x}$ ,      i)  $y = x \arccos x$ .

**3.1.10.** Nájdite intervaly, na ktorých je funkcia  $y = f(x)$  monotónna: ♣

- a)  $y = \lfloor x^{-1} \rfloor$ ,      b)  $y = (x^2 - x)^3$ ,      c)  $y = 2^{x^2 - 3x + 2}$ ,      d)  $y = 2^{|x-2| + |x+1|}$ ,  
 e)  $y = x^2 - 3x + 2$ ,      f)  $y = x^4 - 3x^2 + 2$ ,      g)  $y = x - |x|$ ,      h)  $y = \ln^2 x - \ln x$ ,  
 i)  $y = 2 - 3x$ ,      j)  $y = x^3 - x$ ,      k)  $y = \sqrt{2 - 3x}$ ,      l)  $y = |x + 3| - |x|$ ,  
 m)  $y = x - \lfloor x \rfloor$ ,      n)  $y = |x + 1|$ ,      o)  $y = x + |x|$ ,      p)  $y = x + \sqrt{x - 1}$ .

**3.1.11.** Zistite, či je funkcia  $y = f(x)$ ,  $x \in D(f)$  ohraničená zhora alebo zdola a určte jej suprénum a infimum, prípadne maximum a minimum, ak existuje. ♣

- a)  $y = (1 + x^2)^{-1}, x \in \langle 0; \infty \rangle$ ,      b)  $y = (1 + x^2)^{-1}, x \in R$ ,  
 c)  $y = (1 + x^2)^{-1}, x \in (-1; 1)$ ,      d)  $y = 1 - 3x, x \in \langle 0; 5 \rangle$ ,  
 e)  $y = x^2 - 4x + 5, x \in R$ ,      f)  $y = x^2 - 4x + 5, x \in \langle 3; 6 \rangle$ .



**3.1.12.** Nájdite maximum a minimum funkcie  $y=f(x)$  zadanej predpisom: ♣

- a)  $y=x^2-3x+1$ ,    b)  $y=x^3-3x+1$ ,    c)  $y=x^2+|x|$ ,    d)  $y=x^2-|x|$ ,  
 e)  $y=\sin^2 x$ ,    f)  $y=\sin x^2$ ,    g)  $y=2+\sin x$ ,    h)  $y=\sin(x+1)$ .

**3.1.13.** Nech  $f: y=x$ ,  $g: y=1-x^2$ ,  $h: y=\sin x$ . Určte funkcie  $f(g)$ ,  $g(f)$ ,  $f(h)$ ,  $h(f)$ ,  $g(h)$ ,  $h(g)$ ,  $f[g(h)]$ ,  $f[h(g)]$ ,  $g[f(h)]$ ,  $g[h(f)]$ ,  $h[f(g)]$ ,  $h[g(f)]$ . ♣

**3.1.14.** Nájdite funkcie  $f \pm g$ ,  $fg$ ,  $f/g$ ,  $f(g)$ ,  $g(f)$ ,  $f(f)$ ,  $g(g)$ , ak: ♣

- a)  $f(x)=2x$ ,  $g(x)=4-x$ ,    b)  $f(x)=x^2+x+1$ ,  $g(x)=x^2-1$ ,  
 c)  $f(x)=\ln x$ ,  $g(x)=\sqrt{1-|x|}$ ,    d)  $f(x)=\ln x$ ,  $g(x)=\sinh x$ ,  
 e)  $f(x)=(x+1)^2$ ,  $g(x)=\sqrt{x}$ ,    f)  $f(x)=x^2$ ,  $g(x)=\lfloor x \rfloor$ ,  
 g)  $f(x)=x+\lfloor x \rfloor$ ,  $g(x)=x^2-x$ ,    h)  $f(x)=\sqrt{x+2}$ ,  $g(x)=(x+2)^{-1}$ .

**3.1.15.** Nájdite funkcie  $|g|$ ,  $f+g$ ,  $g^2$ ,  $fg$ ,  $f/g$ ,  $f(g)$ ,  $g(f)$ ,  $f(f)$ ,  $g(g)$  a ich definičné obory, ak  $f(x)=x$  pre  $x < 0$  a  $f(x)=x^2$  pre  $x \geq 0$  a platí: ♣

- a)  $g(x)=\begin{cases} 1, & \text{pre } x < 0, \\ x^2+1, & \text{pre } x \geq 0, \end{cases}$     b)  $g(x)=\begin{cases} x^2, & \text{pre } x < 0, \\ x+1, & \text{pre } x \geq 0. \end{cases}$

**3.1.16.** Nájdite zložené funkcie  $f_2=f(f)$ ,  $f_3=f(f(f))$ , ...,  $f_n=f(f(f \cdots f(f)))$ , ak funkcia  $f_1=f$  je definovaná predpisom: ♣

- a)  $f(x)=1+x$ ,    b)  $f(x)=1-x$ ,    c)  $f(x)=\frac{1+x}{x}$ ,    d)  $f(x)=\frac{x}{1+x}$ ,  
 e)  $f(x)=\frac{1+x}{1-x}$ ,    f)  $f(x)=\frac{1-x}{1+x}$ ,    g)  $f(x)=\frac{x}{1-x}$ ,    h)  $f(x)=\frac{x}{x-1}$ ,  
 i)  $f(x)=\frac{x-1}{x+1}$ ,    j)  $f(x)=\frac{x+1}{x-1}$ ,    k)  $f(x)=\frac{1-x}{x}$ ,    l)  $f(x)=\frac{x-1}{x}$ .

**3.1.17.** Nájdite inverznú funkciu k funkcii  $y=f(x)$  zadanej predpisom: ♣

- a)  $y=x^2-1$ ,  $x \in \langle 2; 5 \rangle$ ,    b)  $y=x/(x+3)$ ,  $x \in \mathbb{R} - \{3\}$ ,  
 c)  $y=x^2-8x+16$ ,  $x \in \langle 4; 5 \rangle$ ,    d)  $y=\sin(3x-1)$ ,  $|3x-1| < \pi/2$ ,  
 e)  $y=\ln \sqrt{x-1}$ ,  $x \in (1; \infty)$ ,    f)  $y=\ln(\sqrt{x}-1)$ ,  $x \in (1; \infty)$ .

**3.1.18.** Nájdite definičný obor a obor hodnôt funkcie  $y=f(x)$  tak, aby bola prostá. Potom k nej určte inverznú funkciu  $y=f^{-1}(x)$ . ♣

- a)  $y=1+2 \operatorname{tg} x$ ,    b)  $y=\arcsin \sin x$ ,    c)  $y=\sqrt{1+\sin x}$ ,    d)  $y=\arccos e^x$ ,  
 e)  $y=\ln \cos x$ ,    f)  $y=e^{1-x^2}-1$ ,    g)  $y=\ln(1+e^x)$ ,    h)  $y=e^{x-1}-1$ ,  
 i)  $y=|x|(-1)^{\lfloor x \rfloor}$ ,    j)  $y=x^2-2x-1$ ,    k)  $y=x^4-1$ ,    l)  $y=\sqrt{|x+1|}$ .

## 3.2 Limita funkcie

Pri vyšetrowaní funkcie je dôležité charakterizovať jej lokálne vlastnosti, t. j. jej chovanie v okoliach daných bodov, napríklad v okolí bodu, v ktorom nie je definovaná.

**Príklad 3.2.1.**

Nech  $f(x) = \frac{x^2-4}{x-2}$ ,  $x \in R - \{2\}$ . Pre všetky  $x \in R$ ,  $x \neq 2$  platí:

$$f(x) = \frac{x^2-4}{x-2} = \frac{(x-2)(x+2)}{x-2} = x + 2.$$

Je zrejmé, že ak  $x \rightarrow 2$ , potom  $f(x) \rightarrow 2+2 = 4$ . To znamená, že ak postupnosť argumentov  $\{x_n\}_{n=1}^{\infty} \mapsto 2$ , potom príslušná postupnosť funkčných hodnôt  $\{f(x_n)\}_{n=1}^{\infty} \mapsto 4$ . ■

Funkcia  $f$  nemusí byť definovaná v bode  $a$ , v okolí ktorého ju skúmame. Bod  $a$  musí byť hromadným bodom  $D(f)$ . Ak to zhrnieme, zaujíma nás správanie  $f(x)$  pre  $x \rightarrow a$ .

**Funkcia  $y = f(x)$  má v bode  $a \in R^*$  limitu rovnajúcu sa  $b \in R^*$  (limita funkcie  $f$  v bode  $a$  sa rovná  $b$ )<sup>11</sup> a označujeme  $\lim_{x \rightarrow a} f(x) = b$ , ak:**

- Bod  $a$  je hromadným bodom množiny  $D(f)$ .
- Pre všetky  $\{x_n\}_{n=1}^{\infty} \subset D(f)$ ,  $x_n \neq a$  také, že  $\{x_n\}_{n=1}^{\infty} \mapsto a$ , platí  $\{f(x_n)\}_{n=1}^{\infty} \mapsto b$  (t. j. ak  $x_n \in D(f)$ ,  $x_n \neq a$ ,  $\lim_{n \rightarrow \infty} x_n = a$ , potom  $\lim_{n \rightarrow \infty} f(x_n) = b$ ).

Ak  $a \in R$ , potom hovoríme o **limite vo vlastnom bode  $a$** . Ak  $a = \pm\infty$ , potom hovoríme o **limite v nevlastnom bode  $a$** . Ak  $b \in R$ , potom hovoríme o **vlastnej limite** a ak  $b = \pm\infty$ , hovoríme o **nevlastnej limite**.

**Poznámka 3.2.1.**

Z a) vyplýva existencia aspoň jednej postupnosti  $\{x_n\}_{n=1}^{\infty} \mapsto a$ ,  $x_n \in D(f)$ ,  $x_n \neq a$  (veta 2.3.5). Z b) vyplýva rovnosť  $\lim_{n \rightarrow \infty} f(x_n) = \lim_{x \rightarrow a} f(x)$  pre  $\{x_n\}_{n=1}^{\infty} \mapsto a$ .

**Príklad 3.2.2.**

Vypočítajte  $\lim_{x \rightarrow 0} \chi(x)$ , kde  $\chi(x) = 1$  pre  $x \in Q$ ,  $\chi(x) = 0$  pre  $x \in I$ .

**Riešenie.**

Je zrejmé, že bod 0 je hromadným bodom množiny  $D(\chi) = R$ .

Uvažujme postupnosti  $\{\frac{1}{n}\}_{n=1}^{\infty} \mapsto 0$ ,  $\{\frac{\pi}{n}\}_{n=1}^{\infty} \mapsto 0$ . Pre všetky  $N \in n$  platí:

$$\left. \begin{array}{l} \frac{1}{n} \neq 0, \frac{1}{n} \in Q, \chi(\frac{1}{n}) = 1 \Rightarrow \{\chi(\frac{1}{n})\}_{n=1}^{\infty} \mapsto 1 \\ \frac{\pi}{n} \neq 0, \frac{\pi}{n} \in I, \chi(\frac{\pi}{n}) = 0 \Rightarrow \{\chi(\frac{\pi}{n})\}_{n=1}^{\infty} \mapsto 0 \end{array} \right\} \Rightarrow \lim_{x \rightarrow 0} \chi(x) \text{ neexistuje. } \blacksquare$$

**Príklad 3.2.3.**

Vypočítajte  $\lim_{x \rightarrow a} c$ , kde  $c \in R$ ,  $a \in R^*$ .

**Riešenie.**

Označme  $f: y = c$ . Je zrejmé, že  $a \in R^*$  je hromadným bodom  $D(f) = R$ .

Nech  $\{x_n\}_{n=1}^{\infty} \mapsto a$ ,  $x_n \in R$ ,  $x_n \neq a \Rightarrow f(x_n) = c \Rightarrow$

$$\lim_{n \rightarrow \infty} f(x_n) = \lim_{n \rightarrow \infty} c = c \Rightarrow \lim_{x \rightarrow a} f(x) = \lim_{x \rightarrow a} c = c. \blacksquare$$

**Príklad 3.2.4.**

Vypočítajte  $\lim_{x \rightarrow a} f(x) = \lim_{x \rightarrow a} x^2$ , kde  $a \in R^*$ .

**Riešenie.**

Každý bod  $x = a \in R^*$  je hromadným bodom množiny  $D(f) = R$ .

<sup>11</sup>Táto definícia sa nazýva **definícia limity funkcie v zmysle Heineho**.

Nech  $\{x_n\}_{n=1}^{\infty} \mapsto a, x_n \in R, x_n \neq a$ , t. j.  $\lim_{n \rightarrow \infty} x_n^2 = a \Rightarrow$

$$\lim_{n \rightarrow \infty} x_n^2 = \lim_{n \rightarrow \infty} f(x_n) = \lim_{n \rightarrow \infty} x_n^2 = \lim_{n \rightarrow \infty} x_n \cdot \lim_{n \rightarrow \infty} x_n = a \cdot a = \begin{cases} a^2, & \text{pre } a \in R, \\ \infty, & \text{pre } a = \pm\infty. \blacksquare \end{cases}$$

### Príklad 3.2.5.

Vypočítajte  $\lim_{x \rightarrow 0} \cos \frac{1}{x}$ .

#### Riešenie.

Označme  $f: y = \cos \frac{1}{x}$ . Bod 0 je hromadný bod množiny  $D(f) = R - \{0\}$ .

Nech  $\{\alpha_n\}_{n=1}^{\infty} = \left\{ \frac{1}{2n\pi} \right\}_{n=1}^{\infty} \mapsto 0, \{\beta_n\}_{n=1}^{\infty} = \left\{ \frac{1}{\pi+2n\pi} \right\}_{n=1}^{\infty} \mapsto 0 \Rightarrow$

$$\left. \begin{aligned} \frac{1}{2n\pi} \neq 0, f(\alpha_n) = \cos(2n\pi) = 1, n \in N &\Rightarrow \{f(\alpha_n)\}_{n=1}^{\infty} \mapsto 1 \\ \frac{1}{\pi+2n\pi} \neq 0, f(\beta_n) = \cos(\pi+2n\pi) = 0, n \in N &\Rightarrow \{f(\beta_n)\}_{n=1}^{\infty} \mapsto 0 \end{aligned} \right\} \Rightarrow \lim_{x \rightarrow 0} \cos \frac{1}{x} \nexists. \blacksquare$$

Z definície je zrejmé, že  $\lim_{x \rightarrow a} f(x) = b$  predstavuje lokálnu závislosť v  $O(a), O(b)$ . Na základe vety 2.3.2 existujú  $n_a, n_b \in N$  také, že pre všetky  $n \geq n_a$  platí  $x_n \in O(a) - \{a\}$  a pre všetky  $n \geq n_b$  platí  $f(x_n) \in O(b)$ . Limitu potom môžeme charakterizovať pomocou  $O(a), O(b)$ .<sup>12</sup> Tento vzťah vyjadruje nasledujúca veta, ktorú uvádzame bez dôkazu.

#### Veta 3.2.1.

$a, b \in R^*, \lim_{x \rightarrow a} f(x) = b \iff$  platí a) a zároveň platí b), pričom:

a) Bod  $a$  je hromadným bodom množiny  $D(f)$ .

b) Pre každé  $O(b)$  existuje  $O(a)$  také, že pre všetky  $x \in O(a), x \neq a$  platí  $f(x) \in O(b)$ .

Ak označíme  $\varepsilon, \delta$  polomery okolí  $O(a), O(b)$ , môžeme tvrdenie b) symbolicky zapísať:

$$\begin{aligned} \lim_{x \rightarrow a} f(x) = b, a, b \in R &\Leftrightarrow \underbrace{\forall \varepsilon > 0}_{\forall \varepsilon > 0} \underbrace{\exists O_\delta(a)}_{\exists \delta > 0} \forall x \in D(f): \underbrace{x \in O_\delta(a), x \neq a}_{0 < |x-a| < \delta} \Rightarrow \underbrace{f(x) \in O_\varepsilon(b)}_{|f(x)-b| < \varepsilon}, \\ \lim_{x \rightarrow \pm\infty} f(x) = b, b \in R &\Leftrightarrow \forall \varepsilon > 0 \quad \exists \delta \in R \quad \delta < x \text{ [resp. } x < \delta] \quad |f(x)-b| < \varepsilon, \\ \lim_{x \rightarrow a} f(x) = \pm\infty, a \in R &\Leftrightarrow \forall \varepsilon \in R \quad \exists \delta > 0 \quad 0 < |x-a| < \delta \quad \delta < f(x) \text{ [} f(x) < \delta]. \end{aligned}$$

#### Veta 3.2.2.

$a \in R^*, \lim_{x \rightarrow a} f(x) = b \in R$  (konečná)  $\implies$  existuje okolie  $O(a)$ , v ktorom je  $f$  ohraničená.

#### Dôkaz.

$O(b)$  je ľubovoľné okolie  $\xrightarrow{\text{veta 3.2.1}}$  existuje  $O(a)$  také, že pre všetky  $x \in O(a), x \neq a$  platí  $f(x) \in O(b)$ , t. j. v ktorom je  $f$  ohraničená (obr. 3.2.34).  $\blacksquare$

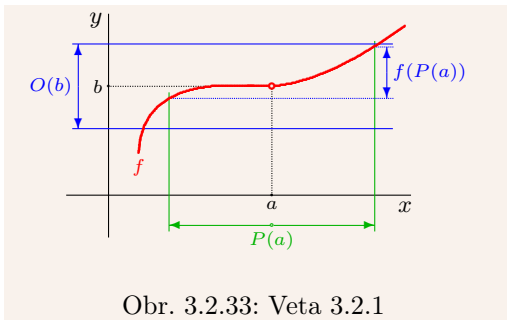
Nasledujúce vety reprezentujú základné vlastnosti limit funkcií. Tieto tvrdenia vyplývajú z definície a z analogických vlastností limit postupností. Uvádzame ich bez dôkazov.

#### Veta 3.2.3.

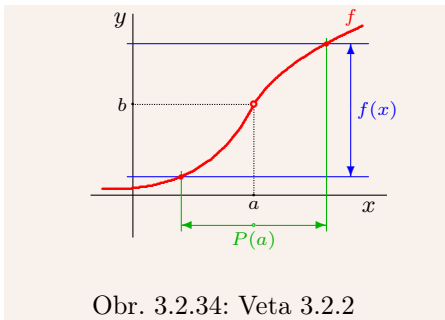
$a \in R^*$  je hromadný bod  $D(f)$  a  $D(g)$ ,  $f(x) = g(x)$  pre všetky  $x \in O(a), x \neq a$  potom:

$$\lim_{x \rightarrow a} f(x) \text{ existuje práve vtedy, ak existuje } \lim_{x \rightarrow a} g(x) \text{ a platí } \lim_{x \rightarrow a} f(x) = \lim_{x \rightarrow a} g(x).$$

<sup>12</sup>V literatúre sa limita funkcie v danom bode často definuje pomocou okolí a definícia pomocou postupností sa uvádza ako ekvivalentná definícia.



Obr. 3.2.33: Veta 3.2.1



Obr. 3.2.34: Veta 3.2.2

**Príklad 3.2.6.**

Dokážte, že  $\lim_{x \rightarrow 1} \frac{2x^2+x-3}{x-1} = 5$ .

**Riešenie.**

$$x \in \mathbb{R} - \{1\} \Rightarrow \frac{2x^2+x-3}{x-1} = \frac{(x-1)(2x+3)}{x-1} = 2x+3 \Rightarrow \lim_{x \rightarrow 1} \frac{2x^2+x-3}{x-1} = \lim_{x \rightarrow 1} (2x+3) = 5.$$

V praxi sa veta 3.2.3 neuvádza:  $\lim_{x \rightarrow 1} \frac{2x^2+x-3}{x-1} = \lim_{x \rightarrow 1} \frac{(x-1)(2x+3)}{x-1} = \lim_{x \rightarrow 1} (2x+3) = 5$ . ■

**Veta 3.2.4.**

$a \in \mathbb{R}^*$  je hromadný bod  $D(f)$  a  $D(g)$ ,  $f(x) \leq g(x)$  pre všetky  $x \in O(a)$ ,  $x \neq a \implies$   
(pokiaľ limity existujú)  $\lim_{x \rightarrow a} f(x) \leq \lim_{x \rightarrow a} g(x)$ .

Pre  $f(x) < g(x)$  sa tvrdenie vety  $\lim_{x \rightarrow a} f(x) \leq \lim_{x \rightarrow a} g(x)$  nezmení (príklad 3.2.7).

**Príklad 3.2.7.**

Nech  $f: y = 0$ ,  $x \in \mathbb{R}$  a  $g: y = \frac{1}{x}$ ,  $x \in \mathbb{R} - \{0\}$ . Bod  $\infty$  je hromadným bodom  $D(f)$ ,  $D(g)$ .  
Pre všetky  $x > 0$  platí  $0 < \frac{1}{x}$ , ale  $\lim_{x \rightarrow \infty} 0 = \lim_{x \rightarrow \infty} \frac{1}{x} = 0$ . ■

**Dôsledok 3.2.4.a (Veta o zovretí).**

$a \in \mathbb{R}^*$  je hromadný bod  $D(f)$ ,  $D(g)$  a  $D(h)$ ,  $\lim_{x \rightarrow a} h(x) = \lim_{x \rightarrow a} g(x) = b \in \mathbb{R}^*$ ,  
 $h(x) \leq f(x) \leq g(x)$  pre všetky  $x \in O(a)$ ,  $x \neq a \implies$  existuje  $\lim_{x \rightarrow a} f(x) = b$ .

**Dôsledok 3.2.4.b.**

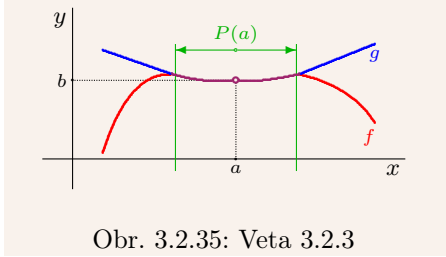
$a \in \mathbb{R}^*$  je hromadný bod  $D(f)$  a  $D(g)$ ,  
 $f$  je ohraničená v nejakom okolí  $O(a)$ ,  $\lim_{x \rightarrow a} g(x) = 0 \implies \lim_{x \rightarrow a} [f(x) \cdot g(x)] = 0$ .

**Príklad 3.2.8.**

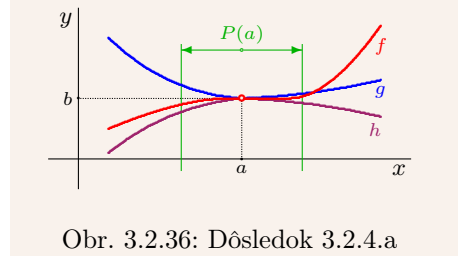
Dokážte, že  $\lim_{x \rightarrow \infty} \frac{\sin x}{x} = 0$ .

**Riešenie.**

$\infty$  je hromadný bod definičného oboru funkcie  $y = \frac{\sin x}{x}$ ,  $-1 \leq \sin x \leq 1$  pre  $x \in \mathbb{R} \implies$   
 $-\frac{1}{x} \leq \frac{\sin x}{x} \leq \frac{1}{x}$  pre  $x > 0 \implies 0 = -\lim_{x \rightarrow \infty} \frac{1}{x} \leq \lim_{x \rightarrow \infty} \frac{\sin x}{x} \leq \lim_{x \rightarrow \infty} \frac{1}{x} = 0 \implies \lim_{x \rightarrow \infty} \frac{\sin x}{x} = 0$ .



Obr. 3.2.35: Veta 3.2.3



Obr. 3.2.36: Dôsledok 3.2.4.a

**Iné riešenie.**

$y = \sin x$  je ohraničená na  $R$ ,  $\lim_{x \rightarrow \infty} \frac{1}{x} = 0 \xrightarrow{\text{dôsledok 3.2.4.b}} \lim_{x \rightarrow \infty} \frac{\sin x}{x} = 0$ . ■

**Veta 3.2.5.**

$a \in R^*$  je hromadný bod  $D(f)$ :  $\lim_{x \rightarrow a} f(x) = 0 \iff \lim_{x \rightarrow a} |f(x)| = 0$ .

**Dôsledok 3.2.5.a.**

$b \in R$ ,  $a \in R^*$  je hromadný bod  $D(f)$ :  $\lim_{x \rightarrow a} f(x) = b \iff \lim_{x \rightarrow a} (f(x) - b) = 0$ .

**Príklad 3.2.9.**

Dokážte, že  $\lim_{x \rightarrow 0} \frac{\sin x}{x} = 1$ .

**Riešenie.**

0 je hromadný bod  $D(f) = R - \{0\}$  funkcie  $f(x) = \frac{\sin x}{x}$ ,  $x \in (-\frac{\pi}{2}; \frac{\pi}{2})$ ,  $x \neq 0 \Rightarrow$

$$\left. \begin{aligned} 0 < x &\Rightarrow 0 < \sin x < x < \operatorname{tg} x \Rightarrow 1 = \frac{\sin x}{\sin x} < \frac{x}{\sin x} < \frac{\operatorname{tg} x}{\sin x} = \frac{1}{\cos x} \\ x < 0 &\Rightarrow \operatorname{tg} x < x < \sin x < 0 \Rightarrow 1 = \frac{\sin x}{\sin x} < \frac{x}{\sin x} < \frac{\operatorname{tg} x}{\sin x} = \frac{1}{\cos x} \end{aligned} \right\} \Rightarrow 1 < \frac{x}{\sin x} < \frac{1}{\cos x} \Rightarrow$$

$$0 < \cos x < \frac{x}{\sin x} < 1 \Rightarrow 1 = \lim_{x \rightarrow 0} \cos x \leq \lim_{x \rightarrow 0} \frac{x}{\sin x} \leq 1 \Rightarrow \lim_{x \rightarrow 0} \frac{x}{\sin x} = 1. \blacksquare$$

**Veta 3.2.6.**

$a \in R^*$  je hromadný bod  $D(f)$ ,  $f(x) > 0$  [resp.  $f(x) < 0$ ] pre všetky  $x \in O(a)$ ,  $x \neq a$ :

$$\lim_{x \rightarrow a} f(x) = 0 \iff \lim_{x \rightarrow a} \frac{1}{f(x)} = \infty, \quad [\text{resp. } \lim_{x \rightarrow a} f(x) = 0 \iff \lim_{x \rightarrow a} \frac{1}{f(x)} = -\infty].$$

**Príklad 3.2.10.**

$\lim_{x \rightarrow 0} x = 0$ ,  $\lim_{x \rightarrow 0} \frac{1}{x}$  neexistuje, pretože  $\{x_n\}_{n=1}^{\infty} = \{\frac{1}{n}\}_{n=1}^{\infty} \mapsto 0$ ,  $\{\frac{1}{x_n}\}_{n=1}^{\infty} = \{n\}_{n=1}^{\infty} \mapsto \infty$ ,  
ale  $\{x_n\}_{n=1}^{\infty} = \{-\frac{1}{n}\}_{n=1}^{\infty} \mapsto 0$ ,  $\{\frac{1}{x_n}\}_{n=1}^{\infty} = \{-n\}_{n=1}^{\infty} \mapsto -\infty$ . ■

**Veta 3.2.7.**

$a \in R^*$  je hromadný bod  $D(f)$  a  $D(g)$ ,  $\lim_{x \rightarrow a} f(x) < \lim_{x \rightarrow a} g(x) \implies$

existuje  $O(a)$  také, že pre všetky  $x \in O(a)$ ,  $x \neq a$  platí  $f(x) < g(x)$ .

**Dôsledok 3.2.7.a.**

$a \in R^*$  je hromadný bod  $D(f)$ ,  $\lim_{x \rightarrow a} f(x) > 0$ , [resp.  $\lim_{x \rightarrow a} f(x) < 0$ ]  $\implies$

existuje  $O(a)$  také, že pre všetky  $x \in O(a)$ ,  $x \neq a$  platí  $f(x) > 0$  [resp.  $f(x) < 0$ ].

**Veta 3.2.8 (Limita zloženej funkcie).**

$$\left. \begin{array}{l} a, b, c \in \mathbb{R}^*, \lim_{x \rightarrow a} f(x) = b, \lim_{u \rightarrow b} g(u) = c, H(f) \subset D(g) \\ f(x) \neq b \text{ pre všetky } x \in O(a), x \neq a \text{ alebo } g(b) = c \end{array} \right\} \implies \lim_{x \rightarrow a} g(f(x)) = \lim_{u \rightarrow b} g(u) = c.$$

**Dôkaz.**Označme  $F = g \circ f$ , potom  $a$  je hromadným bodom  $D(F)$ .

$$\left. \begin{array}{l} \lim_{x \rightarrow a} f(x) = b: \{x_n\}_{n=1}^{\infty} \mapsto a, x_n \neq a \Rightarrow \{f(x_n)\}_{n=1}^{\infty} \mapsto b \\ \lim_{u \rightarrow b} g(u) = c: \{u_n\}_{n=1}^{\infty} \mapsto b, u_n \neq b \Rightarrow \{g(u_n)\}_{n=1}^{\infty} \mapsto c \end{array} \right\} \Rightarrow$$

$$\xrightarrow{\text{platí a)}} u_n = f(x_n) \neq b \Rightarrow \{g(u_n)\}_{n=1}^{\infty} = \{g(f(x_n))\}_{n=1}^{\infty} = \{F(x_n)\}_{n=1}^{\infty} \mapsto c.$$

$$\xrightarrow{\text{platí b)}} \{F(x_n)\}_{n=1}^{\infty} = \{g(f(x_n))\}_{n=1}^{\infty} = \{g(b)\}_{n=1}^{\infty} = \{c\}_{n=1}^{\infty} \mapsto c. \blacksquare$$

Ak pri výpočte  $\lim_{x \rightarrow a} g(f)$  položíme  $u = f(x)$ , potom hovoríme, že **vykonávame substitúciu**  $u = f(x)$ .Ak položíme  $x = h+a$ ,  $h \rightarrow 0$ , potom platí  $\lim_{x \rightarrow a} f(x) = \lim_{h \rightarrow 0} f(h+a)$ .**Príklad 3.2.11.**Vypočítajte  $\lim_{x \rightarrow 1} \frac{\sqrt{x}-1}{\sqrt[3]{x}-1}$ .**Riešenie.**Zo vzorca  $a^n - b^n = (a-b)(a^{n-1}b + a^{n-2}b^2 + \dots + ab^{n-2} + b^{n-1})$  vyplýva:

$$\lim_{x \rightarrow 1} \frac{\sqrt{x}-1}{\sqrt[3]{x}-1} = \lim_{x \rightarrow 1} \frac{(\sqrt[6]{x})^3 - 1}{(\sqrt[6]{x})^2 - 1} = \lim_{x \rightarrow 1} \frac{(\sqrt[6]{x}-1)[\sqrt[6]{x^2} + \sqrt[6]{x} + 1]}{(\sqrt[6]{x}-1)[\sqrt[6]{x} + 1]} = \lim_{x \rightarrow 1} \frac{\sqrt[6]{x^2} + \sqrt[6]{x} + 1}{\sqrt[6]{x} + 1} = \frac{3}{2}.$$

Ak použijeme substitúciu  $z = \sqrt[6]{x}$ , t. j.  $x = z^6$ ,  $z \rightarrow 1$ , potom je riešenie prehľadnejšie:

$$\lim_{x \rightarrow 1} \frac{\sqrt{x}-1}{\sqrt[3]{x}-1} = \lim_{z \rightarrow 1} \frac{\sqrt{z^6}-1}{\sqrt[3]{z^6}-1} = \lim_{z \rightarrow 1} \frac{z^3-1}{z^2-1} = \lim_{z \rightarrow 1} \frac{(z-1)(z^2+z+1)}{(z-1)(z+1)} = \lim_{z \rightarrow 1} \frac{z^2+z+1}{z+1} = \frac{3}{2}. \blacksquare$$

**Príklad 3.2.12.**

a)  $\lim_{x \rightarrow 2} \frac{\sin(x-2)}{x-2} = \left[ \begin{array}{l} x-2 = z \\ z \rightarrow 0 \end{array} \right] = \lim_{z \rightarrow 0} \frac{\sin z}{z} = 1.$

b)  $\lim_{x \rightarrow 1} \ln \frac{x^2-1}{x-1} = \ln \left[ \lim_{x \rightarrow 1} \frac{x^2-1}{x-1} \right] = \ln \left[ \lim_{x \rightarrow 1} \frac{(x-1)(x+1)}{x-1} \right] = \ln \left[ \lim_{x \rightarrow 1} (x+1) \right] = \ln 2. \blacksquare$

**Veta 3.2.9.** $a, b, c \in \mathbb{R}^*, r \in \mathbb{R}, \lim_{x \rightarrow a} f(x) = b, \lim_{x \rightarrow a} g(x) = c$  pokiaľ majú dané výrazy zmysel

$$\lim_{x \rightarrow a} |f(x)| = \left| \lim_{x \rightarrow a} f(x) \right| = |b|, \quad \lim_{x \rightarrow a} [f(x) \pm g(x)] = \lim_{x \rightarrow a} f(x) \pm \lim_{x \rightarrow a} g(x) = b \pm c,$$

$$\lim_{x \rightarrow a} [r f(x)] = r \lim_{x \rightarrow a} f(x) = rb, \quad \lim_{x \rightarrow a} [f(x) \cdot g(x)] = \lim_{x \rightarrow a} f(x) \cdot \lim_{x \rightarrow a} g(x) = bc,$$

$$\lim_{x \rightarrow a} \frac{1}{g(x)} = \frac{1}{\lim_{x \rightarrow a} g(x)} = \frac{1}{c}, \quad \lim_{x \rightarrow a} \frac{f(x)}{g(x)} = \frac{\lim_{x \rightarrow a} f(x)}{\lim_{x \rightarrow a} g(x)} = \frac{b}{c}$$

Ak niektorý z daných výrazov nemá zmysel, nemusí to znamenať, že limita neexistuje. V tomto prípade ju musíme vypočítať iným spôsobom, napr. vhodnou úpravou výrazu.

**Príklad 3.2.13.**

$$\begin{aligned} \lim_{x \rightarrow \infty} [\sqrt{x^2+1}-x] &= \lim_{x \rightarrow \infty} [\sqrt{x^2+1}-x] \frac{\sqrt{x^2+1}+x}{\sqrt{x^2+1}+x} = \lim_{x \rightarrow \infty} \frac{x^2+1-x^2}{\sqrt{x^2+1}+x} = \\ &= \lim_{x \rightarrow \infty} \frac{1}{\sqrt{x^2+1}+x} = \frac{1}{\infty+\infty} = \frac{1}{\infty} = 0. \end{aligned}$$

Vetu 3.2.9 nemôžeme použiť priamo, pretože  $\lim_{x \rightarrow \infty} \sqrt{x^2+1} = \lim_{x \rightarrow \infty} x = \infty$ . ■

**Príklad 3.2.14.**

$$\left. \begin{array}{l} a \in \langle 0; 1 \rangle, x \mapsto \infty \Rightarrow a^x \mapsto 0 \\ a = 1, x \mapsto \infty \Rightarrow a^x \mapsto 1 \\ a > 1, x \mapsto \infty \Rightarrow a^x \mapsto \infty \end{array} \right\} \Rightarrow \lim_{x \rightarrow \infty} a^x = \begin{cases} 0, & \text{pre } a \in \langle 0; 1 \rangle, \\ 1, & \text{pre } a = 1, \\ \infty, & \text{pre } a \in (1; \infty). \end{cases} \blacksquare$$

**3.2.1 Limita vzhľadom na množinu a jednostranné limity**

Limitu funkcie v bode  $a \in R^*$  sme definovali v nejakom okolí  $O(a) - \{a\}$ . Ako ukazuje nasledujúci príklad, niekedy  $\lim_{x \rightarrow a} f(x)$  neexistuje, ale existuje  $\lim_{x \rightarrow a} g(x)$ , kde  $g$  je zúženie  $f$  na konkrétnu množinu  $A \subset D(f)$ . Preto má zmysel definovať limitu vzhľadom na množinu.

**Príklad 3.2.15.**

a) Uvažujme Dirichletovu funkciu  $\chi$  a jej zúženie  $f = \chi|_Q: y = 1, x \in Q$ .

Je zrejmé, že  $\lim_{x \rightarrow 0} f(x) = 1$ , aj keď  $\lim_{x \rightarrow 0} \chi(x)$  neexistuje (príklad 3.2.2).

b) Limita  $\lim_{x \rightarrow 0} f(x)$ , kde  $f(x) = \begin{cases} 1, & \text{pre } x \in (-\infty; 0), \\ 2, & \text{pre } x \in (0; \infty), \end{cases}$  neexistuje (obr. 3.2.37).

Ale ak označíme  $g = f|_{(-\infty; 0)}$ ,  $h = f|_{(0; \infty)}$ , potom  $\lim_{x \rightarrow 0} g(x) = 1$  a  $\lim_{x \rightarrow 0} h(x) = 2$ . ■

**Funkcia  $f$  má v bode  $a \in R^*$  limitu  $b \in R^*$  vzhľadom na množinu  $A \subset D(f)$ , ak má v bode  $a$  limitu  $b$  jej zúženie  $g = f|_A$ , t. j. ak  $\lim_{x \rightarrow a} [f|_A(x)] = b$ .**

**Veta 3.2.10.**

$$\lim_{x \rightarrow a} f(x) = b \iff \lim_{x \rightarrow a} [f|_A(x)] = b \text{ pre všetky } A \subset D(f).$$

Limitou zľava a limitou sprava funkcie  $f$  v bode  $a$  nazývame limity:

$$\lim_{x \rightarrow a^-} f(x) = \lim_{x \rightarrow a} [f|_{D(f) \cap (-\infty; a)}(x)], \quad \lim_{x \rightarrow a^+} f(x) = \lim_{x \rightarrow a} [f|_{D(f) \cap (a; \infty)}(x)].$$

Súhrnne ich nazývame **jednostranné limity**,  $\lim_{x \rightarrow a} f(x)$  nazývame **obojsstranná limita**.

Priamo z definície obojsstrannej a jednostranných limít vyplýva nasledujúca veta.

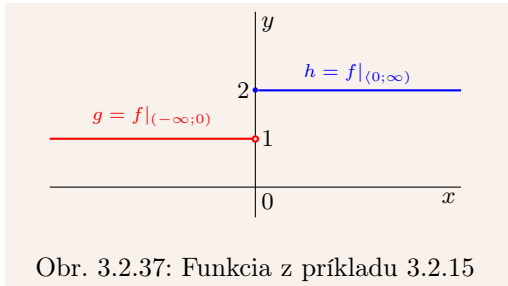
**Veta 3.2.11.**

$$\lim_{x \rightarrow a} f(x) = b \iff \lim_{x \rightarrow a^-} f(x) = \lim_{x \rightarrow a^+} f(x) = b.$$

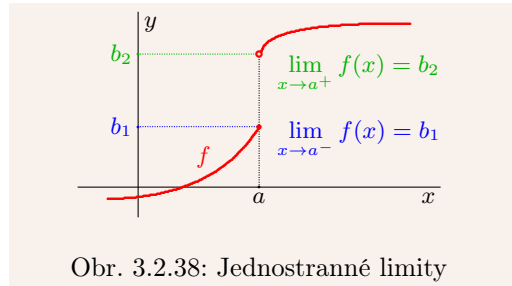
**Príklad 3.2.16.**

a)  $\lim_{x \rightarrow 0} \frac{1}{x}$  neexistuje, ale existujú  $\lim_{x \rightarrow 0^-} \frac{1}{x} = -\infty$ ,  $\lim_{x \rightarrow 0^+} \frac{1}{x} = \infty$ .

b)  $\lim_{x \rightarrow \frac{\pi}{2}^-} \operatorname{tg} x = \infty$ ,  $\lim_{x \rightarrow \frac{\pi}{2}^+} \operatorname{tg} x = -\infty$ ,  $\lim_{x \rightarrow \pm \infty} \operatorname{arctg} x = \pm \frac{\pi}{2}$  (obr. 3.1.26, 3.1.29). ■



Obr. 3.2.37: Funkcia z príkladu 3.2.15



Obr. 3.2.38: Jednostranné limity

**Príklad 3.2.17.**

$$a) \lim_{x \rightarrow 0^+} (1 + ax)^{\frac{1}{x}} = \left[ \begin{array}{l} z = 1/x \\ z \rightarrow \infty \end{array} \right] = \lim_{z \rightarrow \infty} \left(1 + \frac{a}{z}\right)^z = e^a.$$

$$\lim_{x \rightarrow 0^-} (1 + ax)^{\frac{1}{x}} = \left[ \begin{array}{l} z = -1/x \\ z \rightarrow \infty \end{array} \right] = \lim_{z \rightarrow \infty} \left(1 - \frac{a}{z}\right)^{-z} = \lim_{z \rightarrow \infty} \left[\left(1 + \frac{-a}{z}\right)^z\right]^{-1} = (e^{-a})^{-1} = e^a.$$

$$\xrightarrow{\text{veta 3.2.11}} \lim_{x \rightarrow 0^-} (1 + ax)^{\frac{1}{x}} = \lim_{x \rightarrow 0^+} (1 + ax)^{\frac{1}{x}} = \lim_{x \rightarrow 0} (1 + ax)^{\frac{1}{x}} = e^a.$$

$$b) \lim_{x \rightarrow 0} \frac{\ln(x+1)}{x} = \lim_{x \rightarrow 0} \ln(1+x)^{\frac{1}{x}} = \ln \left[ \lim_{x \rightarrow 0} (1+x)^{\frac{1}{x}} \right] = \ln e^1 = 1. \blacksquare$$

Na záver uvedieme bez výpočtu niektoré dôležité limity.

**Veta 3.2.12.**

$$a, b \in \mathbb{R}, a > 0, q \in \mathbb{R} \implies$$

$$\lim_{x \rightarrow \infty} a^{\frac{1}{x}} = 1, \quad \lim_{x \rightarrow \infty} x^{\frac{1}{x}} = 1, \quad \lim_{x \rightarrow 0} \frac{\sin x}{x} = 1, \quad \lim_{x \rightarrow 0} \frac{e^x - 1}{x} = 1, \quad \lim_{x \rightarrow 0} \frac{a^x - 1}{x} = \ln a,$$

$$\lim_{x \rightarrow \infty} x \left[ e^{\frac{1}{x}} - 1 \right] = 1, \quad \lim_{x \rightarrow \infty} \left[ 1 + \frac{1}{x} \right]^x = e, \quad \lim_{x \rightarrow \infty} \frac{x^q}{a^x} = \begin{cases} \infty, & \text{pre } a \in (0; 1), \\ 0, & \text{pre } a \in (1; \infty), \end{cases}$$

$$\lim_{x \rightarrow \infty} x \left[ a^{\frac{1}{x}} - 1 \right] = \ln a, \quad \lim_{x \rightarrow \infty} \left[ 1 + \frac{b}{x} \right]^x = e^b, \quad \lim_{x \rightarrow \infty} \frac{a^x}{x^q} = \begin{cases} 0, & \text{pre } a \in (0; 1), \\ \infty, & \text{pre } a \in (1; \infty). \end{cases}$$

**3.2.2 Asymptotické vlastnosti**

Nech  $a \in \mathbb{R}^*$  a nech  $f, g$  sú definované v nejakom prstencovom okolí  $P(a)$ . Potom hovoríme, že **funkcia  $f$  sa asymptoticky rovná funkcii  $g$  v bode  $a$**  (funkcie  $f$  a  $g$  sa asymptoticky rovnajú) a označujeme  $f \sim g, x \rightarrow a$  práve vtedy, ak  $\lim_{x \rightarrow a} \frac{f(x)}{g(x)} = 1$ .

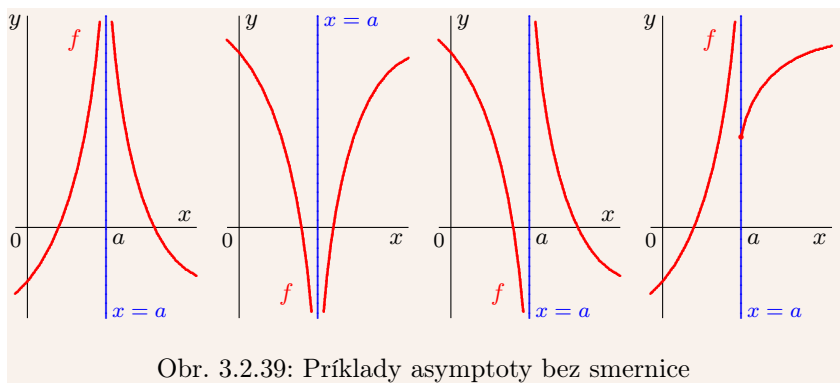
Asymptoticky sa rovnajú napríklad funkcie:

$$x^2 \sim x, x \rightarrow 1, \quad \sin x \sim x, x \rightarrow 0, \quad \sin x \sim 1, x \rightarrow \pi/2, \quad \ln(x+1) \sim x, x \rightarrow 0.$$

Pri vyšetrowaní funkcie  $f$  je dôležité preskúmať jej vlastnosti v nevlastných bodoch, t. j. pre  $x \rightarrow \pm\infty$ . A taktiež v okolí bodov  $a \in \mathbb{R}$ , v ktorých je aspoň jedna z jednostranných limít  $\lim_{x \rightarrow a^-} f(x), \lim_{x \rightarrow a^+} f(x)$  nevlastná, t. j. rovná  $\infty$  alebo  $-\infty$ .

Ak má funkcia  $f$  v bode  $a$  aspoň jednu z jednostranných limít nevlastnú, potom priamku  $x = a$  nazývame **asymptota bez smernice (vertikálna) grafu funkcie  $f$** .



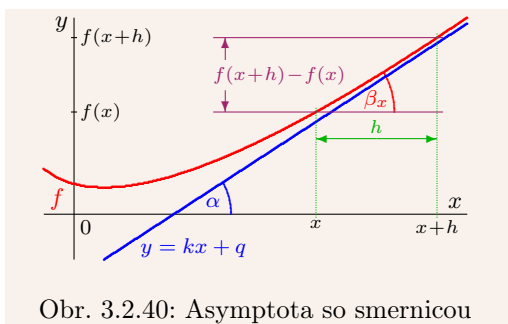


Obr. 3.2.39: Príklady asymptoty bez smernice

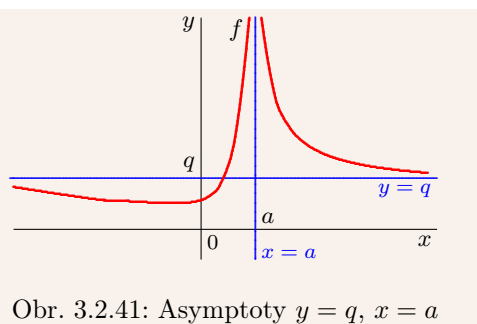
Priamka  $y = kx + q$  sa nazýva **asymptota so smernicou grafu funkcie  $f$** , ak platí:

$$\lim_{x \rightarrow -\infty} [f(x) - (kx + q)] = 0, \quad \text{resp.} \quad \lim_{x \rightarrow \infty} [f(x) - (kx + q)] = 0.$$

Číslo  $k$  predstavuje smernicu priamky (obr. 3.2.40). Ak  $k = 0$ , potom sa priamka  $y = q$  nazýva **horizontálna (vodorovná) asymptota** (obr. 3.2.41).



Obr. 3.2.40: Asymptota so smernicou

Obr. 3.2.41: Asymptoty  $y = q, x = a$ 

### Veta 3.2.13.

$y = kx + q$  je asymptotou grafu funkcie  $y = f(x)$  práve vtedy, ak existujú reálne limity:

$$\lim_{x \rightarrow -\infty} \frac{f(x)}{x} = k, \quad \lim_{x \rightarrow -\infty} [f(x) - kx] = q, \quad \text{resp.} \quad \lim_{x \rightarrow \infty} \frac{f(x)}{x} = k, \quad \lim_{x \rightarrow \infty} [f(x) - kx] = q.$$

### Dôkaz.

Vetu dokážeme pre  $x \rightarrow \infty$ . Pre  $x \rightarrow -\infty$  je dôkaz analogický.

$NP \Rightarrow$ :  $y = kx + q$  je asymptota so smernicou  $\Rightarrow \lim_{x \rightarrow \infty} [f(x) - (kx + q)] = 0 \Rightarrow$

$$\lim_{x \rightarrow \infty} \frac{f(x) - (kx + q)}{x} = 0 \Rightarrow \lim_{x \rightarrow \infty} \left[ \frac{f(x)}{x} - \underbrace{k - \frac{q}{x}}_{\rightarrow -k} \right] = 0 \xrightarrow{\text{dôsledok 3.2.5.a}} \lim_{x \rightarrow \infty} \frac{f(x)}{x} = k.$$

$$\lim_{x \rightarrow \infty} [f(x) - (kx + q)] = \lim_{x \rightarrow \infty} [(f(x) - kx) - q] = 0 \xrightarrow{\text{dôsledok 3.2.5.a}} \lim_{x \rightarrow \infty} [f(x) - kx] = q.$$

$$PP_{\leftarrow}: k, q \in \mathbb{R} \Rightarrow \lim_{x \rightarrow \infty} [f(x) - (kx + q)] = \lim_{x \rightarrow \infty} [f(x) - kx] - \lim_{x \rightarrow \infty} q = q - q = 0. \blacksquare$$

Na obrázku 3.2.40 je načrtnutý graf funkcie  $f$  s asymptotou  $y = kx + q$ . Smernica  $k$  priamky predstavuje tangens uhla  $\alpha$ , ktorý zvierá s osou  $x$ , t. j.  $k = \operatorname{tg} \alpha$ .

Nech  $h > 0$  je pevne dané číslo. Hodnota  $\beta_x$  predstavuje uhol, ktorý zvierá priamka určená bodmi  $[x; f(x)]$ ,  $[x + h; f(x + h)]$  so súradnicovou osou  $x$ . Pre  $x \rightarrow \infty$  platí  $\beta_x \rightarrow \alpha$ , t. j.  $\operatorname{tg} \beta_x \rightarrow \operatorname{tg} \alpha = k$ . Ak uvážime vetu 3.2.13, potom platí:

$$\operatorname{tg} \beta_x = \frac{f(x+h)-f(x)}{x+h-x} = \frac{f(x+h)-f(x)}{h} \rightarrow \operatorname{tg} \alpha \Rightarrow k = \lim_{x \rightarrow \infty} \frac{f(x)}{x} = \lim_{x \rightarrow \infty} \frac{f(x+h)-f(x)}{h}.$$

### Príklad 3.2.18.

Nájdite asymptoty funkcie  $f(x) = \frac{2x^2+x+1}{8x}$ .

#### Riešenie.

$D(f) = \mathbb{R} - \{0\}$ , t. j. asymptota bez smernice môže byť iba v bode  $x_0 = 0$ . Platí:

$$\lim_{x \rightarrow x_0^-} f(x) = \lim_{x \rightarrow 0^-} \frac{2x^2+x+1}{8x} = \lim_{x \rightarrow 0^-} \left[ \frac{x}{4} + \frac{1}{8} + \frac{1}{8x} \right] = 0 + \frac{1}{8} - \infty = -\infty,$$

$$\lim_{x \rightarrow x_0^+} f(x) = \lim_{x \rightarrow 0^+} \frac{2x^2+x+1}{8x} = \lim_{x \rightarrow 0^+} \left[ \frac{x}{4} + \frac{1}{8} + \frac{1}{8x} \right] = 0 + \frac{1}{8} + \infty = \infty.$$

Pre koeficienty asymptoty  $y = kx + q$  so smernicou na základe vety 3.2.13 platí:

$$k = \lim_{x \rightarrow \pm\infty} \frac{f(x)}{x} = \lim_{x \rightarrow \pm\infty} \frac{2x^2+x+1}{8x^2} = \lim_{x \rightarrow \pm\infty} \left[ \frac{1}{4} + \frac{1}{8x} + \frac{1}{8x^2} \right] = \frac{1}{4} + 0 + 0 = \frac{1}{4},$$

$$q = \lim_{x \rightarrow \pm\infty} [f(x) - kx] = \lim_{x \rightarrow \pm\infty} \left[ \frac{2x^2+x+1}{8x} - \frac{x}{4} \right] = \lim_{x \rightarrow \pm\infty} \left[ \frac{x}{4} + \frac{1}{8} - \frac{1}{8x} + \frac{x}{4} \right] =$$

$$= \lim_{x \rightarrow \pm\infty} \left[ \frac{1}{8} + \frac{1}{8x} \right] = \frac{1}{8} + 0 = \frac{1}{8}.$$

Potom asymptoty (obr. 3.2.42) sú  $x = 0$  (bez smernice) a  $y = \frac{x}{4} + \frac{1}{8}$  (so smernicou).  $\blacksquare$

### Príklad 3.2.19.

Nájdite asymptoty funkcie  $f(x) = 2x - 3\sqrt[3]{x^2}$ .

#### Riešenie.

$D(f) = \mathbb{R}$ , takže asymptoty bez smernice neexistujú.

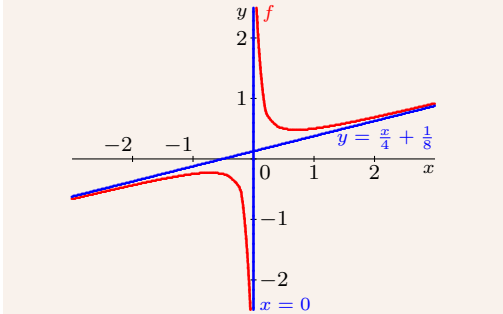
$$x > 0 \Rightarrow k_1 = \lim_{x \rightarrow \infty} \frac{2x - 3\sqrt[3]{x^2}}{x} = \lim_{x \rightarrow \infty} \left[ 2 - \frac{3}{\sqrt[3]{x}} \right] = 2 - \frac{3}{\infty} = 2.$$

$$x < 0 \Rightarrow k_2 = \lim_{x \rightarrow -\infty} \frac{2x - 3\sqrt[3]{x^2}}{x} = \left[ \begin{matrix} z = -x \\ z \rightarrow \infty \end{matrix} \right] = \lim_{z \rightarrow \infty} \frac{-2z - 3\sqrt[3]{z^2}}{-z} = \lim_{z \rightarrow \infty} \left[ 2 + \frac{3}{\sqrt[3]{z}} \right] = 2.$$

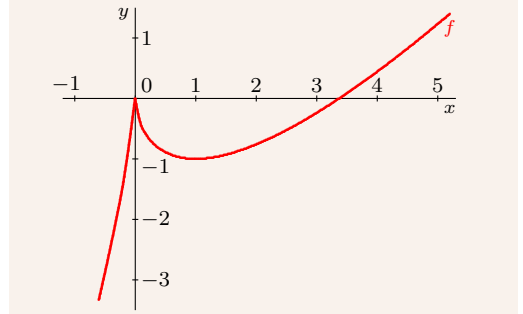
Asymptoty so smernicou tiež neexistujú (obr. 3.2.43), pretože v oboch prípadoch platí:

$$q = \lim_{x \rightarrow \pm\infty} \left[ 2x - 3\sqrt[3]{x^2} - 2x \right] = \lim_{x \rightarrow \pm\infty} \left[ -3\sqrt[3]{x^2} \right] = -\infty \notin \mathbb{R}. \blacksquare$$

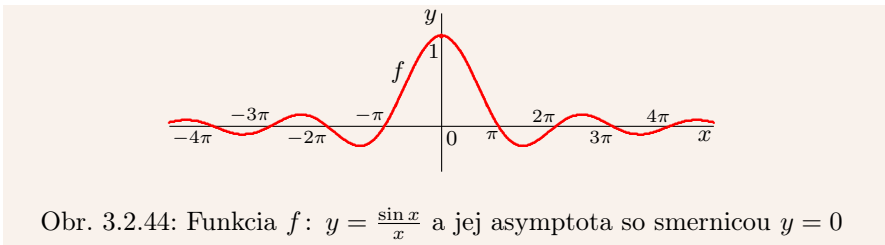
V zhode s definíciou, je priamka  $y = kx + q$  asymptotou so smernicou grafu funkcie  $f$  aj v prípade, keď graf funkcie  $f$  okolo priamky osciluje. Príkladom je funkcia  $f: y = \frac{\sin x}{x}$ ,  $x \in \mathbb{R} - \{0\}$ . Jej graf osciluje pre  $x \rightarrow \pm\infty$  okolo priamky  $y = 0$  (obr. 3.2.44).



Obr. 3.2.42: Graf funkcie s dvoma asymptotami (príklad 3.2.18)



Obr. 3.2.43: Graf funkcie bez asymptôt (príklad 3.2.19)

Obr. 3.2.44: Funkcia  $f: y = \frac{\sin x}{x}$  a jej asymptota so smernicou  $y = 0$ 

### 3.2.3 Riešené príklady

#### Príklad 3.2.20.

$$\text{a) } \lim_{x \rightarrow 2} \frac{x-2}{x^2-3x+2} = \lim_{x \rightarrow 2} \frac{x-2}{(x-2)(x-1)} = \lim_{x \rightarrow 2} \frac{1}{x-1} = \frac{1}{2-1} = 1.$$

$$\text{b) } \lim_{x \rightarrow 0} \frac{3x+2x^{-1}}{x+4x^{-1}} = \lim_{x \rightarrow 0} \left[ \frac{3x+2x^{-1}}{x+4x^{-1}} \cdot \frac{x}{x} \right] = \lim_{x \rightarrow 0} \frac{3x^2+2}{x^2+4} = \frac{3 \cdot 0 + 2}{0 + 4} = \frac{1}{2}.$$

$$\text{c) } \lim_{x \rightarrow 2} \frac{x^2-3x+2}{x^2-2x} = \lim_{x \rightarrow 2} \frac{(x-1)(x-2)}{x(x-2)} = \lim_{x \rightarrow 2} \frac{x-1}{x} = \frac{2-1}{2} = \frac{1}{2}. \blacksquare$$

#### Príklad 3.2.21.

Vypočítajte: a)  $\lim_{x \rightarrow 0} \frac{\sqrt[3]{1+mx}-1}{x}$ ,  $m \in \mathbb{R}$ , b)  $\lim_{x \rightarrow 1} \frac{\sqrt[3]{x}-1}{\sqrt{x}-1}$ .

#### Riešenie.

$$\text{a) } m=0 \Rightarrow \lim_{x \rightarrow 0} \frac{\sqrt[3]{1+mx}-1}{x} = \lim_{x \rightarrow 0} \frac{1-1}{x} = \lim_{x \rightarrow 0} 0 = 0.$$

$$\begin{aligned} m \neq 0 \Rightarrow \lim_{x \rightarrow 0} \frac{\sqrt[3]{1+mx}-1}{x} &= \left[ \begin{array}{l} z^3 = 1 + mx \\ z \rightarrow 1 \end{array} \middle| x = \frac{z^3-1}{m} \right] = \lim_{z \rightarrow 1} \frac{(z-1)m}{z^3-1} = \\ &= \lim_{z \rightarrow 1} \frac{m(z-1)}{(z-1)(z^2+z+1)} = \lim_{z \rightarrow 1} \frac{m}{z^2+z+1} = \frac{m}{3}. \end{aligned}$$

$$\text{b) } \lim_{x \rightarrow 1} \frac{\sqrt[3]{x}-1}{\sqrt{x}-1} = \left[ \begin{array}{l} x = z^{12} \\ z \rightarrow 1 \end{array} \right] = \lim_{z \rightarrow 1} \frac{\sqrt[3]{z^{12}}-1}{\sqrt{z^{12}}-1} = \lim_{z \rightarrow 1} \frac{z^4-1}{z^3-1} = \lim_{z \rightarrow 1} \frac{(z-1)(z^3+z^2+z+1)}{(z-1)(z^2+z+1)} = \frac{4}{3}. \blacksquare$$

**Príklad 3.2.22.**

$$a) \lim_{x \rightarrow \infty} \left[ \frac{5x^2}{x^2-1} + 2^{\frac{1}{x}} \right] = \lim_{x \rightarrow \infty} \frac{5}{1-x^{-2}} + \lim_{x \rightarrow \infty} 2^{\frac{1}{x}} = \frac{5}{1} + 2^0 = 6.$$

$$b) \lim_{x \rightarrow \infty} \frac{\sqrt{x^2-1} + \sqrt{x^2+1}}{x} = \lim_{x \rightarrow \infty} \left[ \sqrt{\frac{x^2-1}{x^2}} + \sqrt{\frac{x^2+1}{x^2}} \right] = \lim_{x \rightarrow \infty} \left[ \sqrt{1-\frac{1}{x^2}} + \sqrt{1+\frac{1}{x^2}} \right] = 1+1 = 2.$$

$$c) \lim_{x \rightarrow 0} \frac{x}{\sqrt{1+x}-\sqrt{1-x}} = \lim_{x \rightarrow 0} \frac{x(\sqrt{1+x}+\sqrt{1-x})}{(\sqrt{1+x}-\sqrt{1-x})(\sqrt{1+x}+\sqrt{1-x})} = \lim_{x \rightarrow 0} \frac{x(\sqrt{1+x}+\sqrt{1-x})}{(1+x)-(1-x)} = \\ = \lim_{x \rightarrow 0} \frac{x(\sqrt{1+x}+\sqrt{1-x})}{2x} = 1.$$

$$d) \lim_{x \rightarrow 0} \frac{1-\sqrt{1-x}}{x} = \lim_{x \rightarrow 0} \frac{(1-\sqrt{1-x})(1+\sqrt{1-x})}{x(1+\sqrt{1-x})} = \lim_{x \rightarrow 0} \frac{1-(1-x)}{x+\sqrt{x^2-x^3}} = \lim_{x \rightarrow 0} \frac{x}{x+\sqrt{x^2-x^3}} = \\ = \lim_{x \rightarrow 0} \frac{1}{1+x^{-1}\sqrt{x^2-x^3}} = \lim_{x \rightarrow 0} \frac{1}{1+\sqrt{1-x}} = 1. \blacksquare$$

**Príklad 3.2.23.**

Nech  $a > 0$ . Vypočítajte: a)  $\lim_{x \rightarrow 0} \frac{a^x-1}{x}$ , b)  $\lim_{x \rightarrow 0} \frac{a^{-x}-1}{x}$ .

**Riešenie.**

a) Substitúcia  $a^x-1 = z$ ,  $a^x = z+1$ ,  $z \rightarrow 0 \Rightarrow x \ln a = \ln a^x = \ln(z+1) \Rightarrow$

$$x = \frac{\ln(z+1)}{\ln a} \xrightarrow{\text{príklad 3.2.17}} \lim_{x \rightarrow 0} \frac{a^x-1}{x} = \lim_{z \rightarrow 0} \frac{z \ln a}{\ln(z+1)} = 1 \cdot \ln a = \ln a.$$

$$b) \lim_{x \rightarrow 0} \frac{a^{-x}-1}{x} = \left[ \begin{array}{l} x = -z \\ z \rightarrow 0 \end{array} \right] = \lim_{z \rightarrow 0} \frac{a^z-1}{-z} = -\lim_{z \rightarrow 0} \frac{a^z-1}{z} = -\ln a. \blacksquare$$

**Príklad 3.2.24.**

$$a) \lim_{x \rightarrow 0} \frac{\sin 5x}{x} = \left[ \begin{array}{l} 5x = z \\ z \rightarrow 0 \end{array} \right] = \lim_{z \rightarrow 0} \frac{5 \sin z}{z} = 5.$$

$$b) \lim_{x \rightarrow 2} \frac{\arcsin(x-2)}{x^2-2x} = \left[ \begin{array}{l} \arcsin(x-2) = z \\ x-2 = \sin z, z \rightarrow 0 \end{array} \right] = \lim_{z \rightarrow 0} \left( \frac{z}{\sin z} \cdot \frac{1}{2+\sin z} \right) = 1 \cdot \frac{1}{2} = \frac{1}{2}.$$

$$c) \lim_{x \rightarrow 0} \frac{\arctg x}{x} = \left[ \begin{array}{l} x = \operatorname{tg} z \\ z \rightarrow 0 \end{array} \right] = \lim_{z \rightarrow 0} \frac{z}{\operatorname{tg} z} = \lim_{z \rightarrow 0} \left( \frac{z}{\sin z} \cos z \right) = 1 \cdot 1 = 1. \blacksquare$$

**Príklad 3.2.25.**

Vypočítajte: a)  $\lim_{x \rightarrow 0} (\cos x)^{\cotg^2 x}$ , b)  $\lim_{x \rightarrow \frac{\pi}{4}} (\sin 2x)^{\operatorname{tg}^2 2x}$ .

**Riešenie.**

a) Substitúcia  $\sin^2 x = z$ ,  $z \rightarrow 0^+$ . Pre  $x \rightarrow 0$ ,  $x \in (-\frac{\pi}{2}; \frac{\pi}{2})$  platí:

$$\cos x > 0 \Rightarrow \cos x = |\cos x| = \sqrt{1-\sin^2 x} = (1-z)^{\frac{1}{2}}, \quad \cotg^2 x = \frac{\cos^2 x}{\sin^2 x} = \frac{1-z}{z} \Rightarrow$$

$$\lim_{x \rightarrow 0} (\cos x)^{\cotg^2 x} = \lim_{z \rightarrow 0} \left[ (1-z)^{\frac{1}{2}} \right]^{\frac{1-z}{z}} = \lim_{z \rightarrow 0} \left[ (1-z)^{\frac{1}{z}} \right]^{\frac{1-z}{2}} = (e^{-1})^{\frac{1}{2}} = e^{-\frac{1}{2}} = \frac{1}{\sqrt{e}}.$$

b) Substitúcia  $\cos^2 2x = z$ ,  $z \rightarrow 0^+$ . Pre  $x \rightarrow \frac{\pi}{4}$ ,  $x \in (0; \frac{\pi}{2})$  platí  $\sin 2x > 0$ . Potom:

$$\sin 2x = |\sin 2x| = \sqrt{1-\cos^2 2x} = (1-z)^{\frac{1}{2}}, \quad \operatorname{tg}^2 2x = \frac{\sin^2 2x}{\cos^2 2x} = \frac{1-z}{z} \xrightarrow{\text{a)}}$$

$$\lim_{x \rightarrow \frac{\pi}{4}} (\sin 2x)^{\operatorname{tg}^2 2x} = \lim_{z \rightarrow 0} \left[ (1-z)^{\frac{1}{2}} \right]^{\frac{1-z}{z}} = \frac{1}{\sqrt{e}}. \blacksquare$$

**Príklad 3.2.26.**

Vypočítajte pre  $a \in \mathbb{R}$ : a)  $\lim_{x \rightarrow 0^+} x^{a/\ln x}$ , b)  $\lim_{x \rightarrow \infty} x^{a/\ln x}$ , c)  $\lim_{x \rightarrow 0^+} x^{\ln x}$ .

**Riešenie.**

a) Z inverznosti funkcií  $e^x$ ,  $\ln x$  a zo skutočnosti  $x \rightarrow 0^+$ ,  $x > 0$  vyplýva:

$$\lim_{x \rightarrow 0^+} x^{a/\ln x} = \lim_{x \rightarrow 0^+} e^{\ln[x^{a/\ln x}]} = \lim_{x \rightarrow 0^+} e^{\frac{a}{\ln x} \ln x} = \lim_{x \rightarrow 0^+} e^a = e^a.$$

b) Analogicky ako v časti a) platí:  $\lim_{x \rightarrow \infty} x^{\frac{a}{\ln x}} = \lim_{x \rightarrow \infty} e^{\frac{a}{\ln x} \ln x} = e^a$ .

c)  $\lim_{x \rightarrow 0^+} x^{\ln x} = \lim_{x \rightarrow 0^+} e^{\ln x^{\ln x}} = \lim_{x \rightarrow 0^+} e^{\ln x \cdot \ln x} = e^{(-\infty) \cdot (-\infty)} = e^\infty = \infty$  ■

V príklade 3.2.26 sme počítali limity výrazov v tvare  $0^0$ . Vo všeobecnosti nevieme určiť, čomu sa takýto výraz rovná a nazývame ho neurčitý. S neurčitými výrazmi sa stretávame pomerne často a počítame ich pomocou limit. Medzi **neurčité výrazy** patria:

$$\infty - \infty, \quad \pm\infty \cdot 0, \quad \frac{0}{0}, \quad \frac{1}{0}, \quad \frac{\pm\infty}{0}, \quad \frac{\pm\infty}{\pm\infty}, \quad 0^0, \quad 0^{\pm\infty}, \quad 1^{\pm\infty}, \quad (\pm\infty)^0.$$

**Príklad 3.2.27.**

a)  $\lim_{x \rightarrow \infty} x[\ln(x+2) - \ln x] = \lim_{x \rightarrow \infty} x \ln \frac{x+2}{x} = \lim_{x \rightarrow \infty} \ln \left[1 + \frac{2}{x}\right]^x = \ln e^2 = 2$ .

b)  $\lim_{x \rightarrow 0} \frac{x}{\ln(1+tx)} = \left[ \begin{array}{l} tx = z \\ z \rightarrow 0 \end{array} \right] = \lim_{z \rightarrow 0} \frac{z}{t \ln(1+z)} = \frac{1}{t} \lim_{z \rightarrow 0} \frac{1}{\ln(1+z)^{\frac{1}{z}}} = \frac{1}{t} \cdot \frac{1}{\ln e} = \frac{1}{t}$ .

c)  $\lim_{x \rightarrow \infty} \left(\frac{3x-2}{3x+1}\right)^x = \lim_{x \rightarrow \infty} \left(\frac{3x+1-3}{3x+1}\right)^{\frac{3x+1-1}{3}} = \left[ \begin{array}{l} 3x+1 = z \\ z \rightarrow \infty \end{array} \right] = \lim_{z \rightarrow \infty} \left(\frac{z-3}{z}\right)^{\frac{z-1}{3}} =$   
 $= \lim_{z \rightarrow \infty} \left[\left(1 - \frac{3}{z}\right)^z\right]^{\frac{z-1}{3z}} = [e^{-3}]^{\frac{1}{3}} = e^{-1} = \frac{1}{e}$ . ■

**Príklad 3.2.28.**

Vypočítajte: a)  $\lim_{x \rightarrow 0^+} x^{1/x}$ , b)  $\lim_{x \rightarrow \infty} x^{1/x}$ .

**Riešenie.**

Pre všetky  $x > 0$  platí  $x^{1/x} = e^{\ln x^{1/x}} = e^{\ln x/x}$ .

a)  $x \rightarrow 0^+$ ,  $x \in (0; 1) \Rightarrow \ln x \rightarrow -\infty$ ,  $\ln x < 0 \Rightarrow$

$$\lim_{x \rightarrow 0^+} \frac{\ln x}{x} = \frac{-\infty}{0^+} = -\infty \Rightarrow \lim_{x \rightarrow 0^+} x^{1/x} = \lim_{x \rightarrow 0^+} e^{\ln x^{1/x}} = \lim_{x \rightarrow 0^+} e^{\ln x/x} = e^{-\infty} = 0.$$

b) Z vety 3.2.12 vyplýva:  $\lim_{x \rightarrow \infty} \frac{\ln x}{x} = \left[ \begin{array}{l} z = \ln x \\ z \rightarrow \infty \end{array} \right] = \lim_{z \rightarrow \infty} \frac{z}{e^z} = 0 \Rightarrow$

$$\lim_{x \rightarrow \infty} x^{1/x} = \lim_{x \rightarrow \infty} e^{\ln x^{1/x}} = \lim_{x \rightarrow \infty} e^{\ln x/x} = e^0 = 1. \quad \blacksquare$$

**Príklad 3.2.29.**

Nech  $m, n \in \mathbb{N}$ . Vypočítajte: a)  $\lim_{x \rightarrow 0} \frac{\sin mx}{\sin nx}$ , a)  $\lim_{x \rightarrow \pi} \frac{\sin mx}{\sin nx}$ .

**Riešenie.**

a)  $\lim_{x \rightarrow 0} \frac{\sin mx}{\sin nx} = \lim_{x \rightarrow 0} \left[ \frac{\sin mx}{mx} \cdot \frac{nx}{\sin nx} \cdot \frac{mx}{nx} \right] = 1 \cdot 1 \cdot \frac{m}{n} = \frac{m}{n}$  (príklad 3.2.9).

b) Pre všetky  $n \in \mathbb{N}$  platí:  $\sin n\pi = 0$ ,  $\cos n\pi = (-1)^n \Rightarrow$

$$\begin{aligned} \lim_{x \rightarrow \pi} \frac{\sin mx}{\sin nx} &= \left[ \begin{array}{l} x = \pi + z \\ z \rightarrow 0 \end{array} \right] = \lim_{z \rightarrow 0} \frac{\sin(m\pi + mz)}{\sin(n\pi + nz)} = \lim_{z \rightarrow 0} \frac{\sin m\pi \cos mz + \cos m\pi \sin mz}{\sin n\pi \cos nz + \cos n\pi \sin nz} = \\ &= \lim_{z \rightarrow 0} \frac{0 + (-1)^m \sin mz}{0 + (-1)^n \sin nz} = (-1)^{m-n} \lim_{z \rightarrow 0} \frac{\sin mz}{\sin nz} = (-1)^{m-n} \frac{m}{n}. \blacksquare \end{aligned}$$

## Cvičenia

**3.2.1.** Nech  $a, b \in \mathbb{R}$ ,  $a > 0$ ,  $b > 0$ . Vypočítajte limity: ♣

$$\begin{array}{llll} \text{a) } \lim_{x \rightarrow 2} (x^2 - 4), & \text{b) } \lim_{x \rightarrow 0} x \cotg x, & \text{c) } \lim_{x \rightarrow 0^+} (\tg x)^{\tg 2x}, & \text{d) } \lim_{x \rightarrow \pi/4} (\tg x)^{\tg 2x}, \\ \text{e) } \lim_{x \rightarrow 2} \frac{x^2 + 5}{x^2 - 3}, & \text{f) } \lim_{x \rightarrow 0^+} \frac{x - \sqrt{x}}{\sqrt{x}}, & \text{g) } \lim_{x \rightarrow 1} \frac{1}{1-x}, & \text{h) } \lim_{x \rightarrow \infty} \frac{x^2 - 1}{2x^2 + 1}, \\ \text{i) } \lim_{x \rightarrow 2} \frac{x^2 - 4}{x - 2}, & \text{j) } \lim_{x \rightarrow 1} \frac{x^{2/3} - 1}{x^{3/5} - 1}, & \text{k) } \lim_{x \rightarrow \infty} \frac{\sqrt{x^2 + 9}}{x + 3}, & \text{l) } \lim_{x \rightarrow -\infty} \frac{\sqrt{x^2 + 9}}{x + 3}, \\ \text{m) } \lim_{x \rightarrow 0} \frac{\sqrt{1 - \cos x}}{x}, & \text{n) } \lim_{x \rightarrow 0^-} \frac{\sqrt{1 - \cos x}}{x}, & \text{o) } \lim_{x \rightarrow 0^+} \frac{\sqrt{1 - \cos x}}{x}, & \text{p) } \lim_{x \rightarrow 0} \sqrt{\frac{1 - \cos x}{x^2}}, \\ \text{q) } \lim_{x \rightarrow 0} \frac{1 - 3^x}{\sin 3x}, & \text{r) } \lim_{x \rightarrow \infty} \frac{1 - 3^x}{\sin 3x}, & \text{s) } \lim_{x \rightarrow -\infty} \frac{1 - 3^x}{\sin 3x}, & \text{t) } \lim_{x \rightarrow 1} \frac{1 - 3^x}{\sin 3x}. \end{array}$$

**3.2.2.** Nech  $a, b \in \mathbb{R}$ ,  $m, n \in \mathbb{N}$ . Vypočítajte limity: ♣

$$\begin{array}{llll} \text{a) } \lim_{x \rightarrow 1} \frac{1 - x^n}{1 - x^m}, & \text{b) } \lim_{x \rightarrow 1} \frac{1 - \sqrt[n]{x}}{1 - \sqrt[m]{x}}, & \text{c) } \lim_{x \rightarrow 0} \frac{e^{ax} - 1}{x}, & \text{d) } \lim_{x \rightarrow 0} \frac{e^{ax} - e^{bx}}{x}, \\ \text{e) } \lim_{x \rightarrow 0} \frac{e^{3x} - e^x}{4x}, & \text{f) } \lim_{x \rightarrow 0} \frac{x}{e^x - e^{-x}}, & \text{g) } \lim_{x \rightarrow 0} \frac{e^x - 1}{e^{3x} - 1}, & \text{h) } \lim_{x \rightarrow 0} \frac{3^x - 1}{6^x - 1}, \\ \text{i) } \lim_{x \rightarrow a} \frac{e^x - e^a}{x - a}, & \text{j) } \lim_{x \rightarrow 0} x \sin \frac{1}{x}, & \text{k) } \lim_{x \rightarrow \infty} x \sin \frac{1}{x}, & \text{l) } \lim_{x \rightarrow 0} \frac{1 - \cos x}{x}, \\ \text{m) } \lim_{n \rightarrow \infty} n \sin \frac{\pi}{n}, & \text{n) } \lim_{x \rightarrow \infty} x \sin \frac{\pi}{x}, & \text{o) } \lim_{x \rightarrow \infty} \left( \cos \frac{a}{x} \right)^x, & \text{p) } \lim_{x \rightarrow -2} \frac{3x + 6}{x^3 + 8}, \\ \text{q) } \lim_{x \rightarrow 2} \frac{x + 1}{x - 1}, & \text{r) } \lim_{x \rightarrow 1} \frac{x + 1}{x - 1}, & \text{s) } \lim_{x \rightarrow 1^-} \frac{x + 1}{x - 1}, & \text{t) } \lim_{x \rightarrow 1^+} \frac{x + 1}{x - 1}. \end{array}$$

**3.2.3.** Vypočítajte limity: ♣

$$\begin{array}{llll} \text{a) } \lim_{x \rightarrow 0} (\cos x)^{\frac{1}{x}}, & \text{b) } \lim_{x \rightarrow 0} (\cos x)^{\frac{1}{x^2}}, & \text{c) } \lim_{x \rightarrow 0} (\cos^2 x)^{\frac{1}{x}}, & \text{d) } \lim_{x \rightarrow 0} (\cos^2 x)^{\frac{1}{x^2}}, \\ \text{e) } \lim_{x \rightarrow 0} (e^x + x)^{\frac{1}{x}}, & \text{f) } \lim_{x \rightarrow 0} \frac{\ln \cos x}{x}, & \text{g) } \lim_{x \rightarrow 0} \frac{\ln x}{\ln \sin x}, & \text{h) } \lim_{x \rightarrow 0} \frac{\ln \sin 2x}{\ln \sin x}, \\ \text{i) } \lim_{x \rightarrow 0} \frac{|\sin x|}{x}, & \text{j) } \lim_{x \rightarrow 0^-} \frac{|\sin x|}{x}, & \text{k) } \lim_{x \rightarrow 0^+} \frac{|\sin x|}{x}, & \text{l) } \lim_{x \rightarrow 3} \frac{9 - x^2}{\sqrt{3x} - 3}, \\ \text{m) } \lim_{x \rightarrow 0} (1 + \sin x)^{\frac{5}{x}}, & \text{n) } \lim_{x \rightarrow 0} (1 + x)^{\frac{5}{\sin x}}, & \text{o) } \lim_{x \rightarrow -\infty} \tg x, & \text{p) } \lim_{x \rightarrow \infty} \tg x, \\ \text{q) } \lim_{x \rightarrow 4} \frac{\sqrt{x} - 2}{\sqrt{x^3} - 8}, & \text{r) } \lim_{x \rightarrow 1} \frac{\sin \pi x}{\sin 3\pi x}, & \text{s) } \lim_{x \rightarrow 2} \frac{\tg \pi x}{x - 2}, & \text{t) } \lim_{x \rightarrow 0} \frac{\arctg 3x}{\arcsin 5x}. \end{array}$$

**3.2.4.** Nech  $a \in \mathbb{R}$ ,  $n \in \mathbb{N}$ . Vypočítajte limity: ♣

$$\begin{array}{lll} \text{a) } \lim_{x \rightarrow 0} \frac{\sqrt{1+x} - \sqrt{1-x}}{x}, & \text{b) } \lim_{x \rightarrow 1} \frac{x^2 - 2x + 1}{x^3 - x}, & \text{c) } \lim_{x \rightarrow 0} \frac{\sqrt{a^2 + x} - a}{x}, \\ \text{d) } \lim_{x \rightarrow \infty} \frac{\sqrt{x+2} - \sqrt{2}}{x}, & \text{e) } \lim_{x \rightarrow 0} \frac{\sqrt{x+2} - \sqrt{2}}{x}, & \text{f) } \lim_{x \rightarrow \infty} \frac{x^3 + x}{x^4 - 3x^2 + 1}, \\ \text{g) } \lim_{x \rightarrow -2} \frac{x^3 + 3x^2 + 2x}{x^2 - x - 6}, & \text{h) } \lim_{x \rightarrow \infty} \frac{1 + x - 3x^3}{1 + x^2 + 3x^3}, & \text{i) } \lim_{x \rightarrow \infty} \left( \frac{x^2 + x - 1}{2x^2 - x + 1} \right)^3, \end{array}$$

- j)  $\lim_{x \rightarrow 1} \frac{x^2-4}{x^2-3x+2}$ , k)  $\lim_{x \rightarrow 2} \frac{x^2-4}{x^2-3x+2}$ , l)  $\lim_{x \rightarrow 3} \frac{x^2-4}{x^2-3x+2}$ ,  
 m)  $\lim_{x \rightarrow \infty} \left( \sqrt{x^3+a-x} \right)$ , n)  $\lim_{n \rightarrow \infty} 2^n \sin 2\pi n$ , o)  $\lim_{x \rightarrow \infty} 2^x \sin 2\pi x$ ,  
 p)  $\lim_{x \rightarrow -\infty} 2^x \sin 2\pi x$ , q)  $\lim_{x \rightarrow \infty} 2^{-x} \sin 2\pi x$ , r)  $\lim_{x \rightarrow -\infty} 2^{-x} \sin 2\pi x$ .

**3.2.5.** Nech  $n \in \mathbb{N}$ . Vypočítajte limity: ♣

- a)  $\lim_{x \rightarrow \infty} \left( \frac{x^2+x-1}{2x^2-x+1} \right)^3$ , b)  $\lim_{x \rightarrow \infty} \frac{(\sqrt{x^2+1}+x)^2}{\sqrt[3]{x^6+1}}$ , c)  $\lim_{x \rightarrow \infty} \frac{\sqrt{x^2+1}+\sqrt{x}}{\sqrt[4]{x^3+x-x}}$ ,  
 d)  $\lim_{x \rightarrow 4} \frac{x^2+7x-44}{x^2-6x+8}$ , e)  $\lim_{x \rightarrow -2} \frac{\sqrt{x+6}-2}{x+2}$ , f)  $\lim_{x \rightarrow 1} \frac{x^3-5x+4}{x^3-1}$ ,  
 g)  $\lim_{x \rightarrow \infty} \frac{\sqrt[5]{x+1}-1}{x}$ , h)  $\lim_{x \rightarrow 0} \frac{\sin 4x + \sin 7x}{\sin 3x}$ , i)  $\lim_{x \rightarrow 0} \frac{\sqrt[3]{2+x} - \sqrt[3]{2-x}}{\sqrt{1+x} - \sqrt{1-x}}$ ,  
 j)  $\lim_{x \rightarrow 0} \frac{\cos x - \cos^3 x}{x^2}$ , k)  $\lim_{x \rightarrow \frac{\pi}{4}} \frac{\sin x - \cos x}{1 - \operatorname{tg} x}$ , l)  $\lim_{x \rightarrow 0} \frac{x}{\sqrt[4]{1+2x}-1}$ ,  
 m)  $\lim_{x \rightarrow -1} \frac{x^2-x-2}{x^3+1}$ , n)  $\lim_{x \rightarrow 0} \frac{1-\cos 2x}{x \sin x}$ , o)  $\lim_{x \rightarrow 0} \frac{\operatorname{tg} x - \sin x}{x^3}$ ,  
 p)  $\lim_{x \rightarrow 0} \left( \frac{\cos 2x}{\cos x} \right)^{\frac{1}{x^2}}$ , q)  $\lim_{x \rightarrow 0} \left( \frac{\cos x}{\cos 2x} \right)^{\frac{1}{x^2}}$ , r)  $\lim_{x \rightarrow 1} \left( \frac{\cos x}{\cos 2x} \right)^{\frac{1}{x^2}}$ ,  
 s)  $\lim_{x \rightarrow 1} (1-x) \operatorname{tg} \frac{\pi x}{2}$ , t)  $\lim_{x \rightarrow 0} x \operatorname{cotg} x$ , u)  $\lim_{x \rightarrow \frac{\pi}{6}} \frac{1-4 \sin^2 x}{\cos 3x}$ .

**3.2.6.** Nech  $a \in \mathbb{R}$ ,  $m, n \in \mathbb{R}$ . Vypočítajte limity: ♣

- a)  $\lim_{x \rightarrow 2} \frac{x^2-x-2}{x^3-3x^2+2x}$ , b)  $\lim_{x \rightarrow -2} \frac{x^2+x-2}{x^2+2x}$ , c)  $\lim_{x \rightarrow 0} \frac{1-\cos 2x + \operatorname{tg}^2 x}{x \sin x}$ ,  
 d)  $\lim_{x \rightarrow 1} \frac{3x^4-4x^3+1}{(x-1)^2}$ , e)  $\lim_{x \rightarrow 3} \frac{x-3}{x^2-5x+6}$ , f)  $\lim_{x \rightarrow \frac{\pi}{2}} \left( \frac{\sin x}{\cos^2 x} - \operatorname{tg}^2 x \right)$ ,  
 g)  $\lim_{x \rightarrow 0} \frac{\sin 3x}{\sqrt{x+2}-\sqrt{2}}$ , h)  $\lim_{x \rightarrow \infty} \frac{x^2+2x+1}{5x}$ , i)  $\lim_{x \rightarrow \frac{1}{2}} \frac{\arcsin(1-2x)}{4x^2-1}$ ,  
 j)  $\lim_{x \rightarrow 0} \frac{\sqrt{x+1}-1}{\sqrt[3]{x+1}-1}$ , k)  $\lim_{x \rightarrow a} \frac{x^2-(a+1)x+a}{x^3-a^3}$ , l)  $\lim_{x \rightarrow \infty} \frac{\sqrt[4]{x^5} + \sqrt[5]{x^3} + \sqrt[8]{x^8}}{\sqrt[3]{x^4+2}}$ ,  
 m)  $\lim_{x \rightarrow 0} \frac{x - \sin 2x}{x + \sin 3x}$ , n)  $\lim_{x \rightarrow 0} \frac{\cos mx - \cos nx}{x^2}$ , o)  $\lim_{h \rightarrow 0} \frac{\sin(x+h) - \sin x}{h}$ ,  
 p)  $\lim_{x \rightarrow 1} \operatorname{arctg} \frac{1}{1-x}$ , q)  $\lim_{x \rightarrow 1^-} \operatorname{arctg} \frac{1}{1-x}$ , r)  $\lim_{x \rightarrow 1^+} \operatorname{arctg} \frac{1}{1-x}$ .

**3.2.7.** Nech  $a \in \mathbb{R}$ ,  $m, n \in \mathbb{R}$ . Vypočítajte limity: ♣

- a)  $\lim_{x \rightarrow \infty} \frac{(x+3)(x+4)(x+5)}{x^4+x-11}$ , b)  $\lim_{x \rightarrow \infty} \frac{(4x-1)^{100}(3x+1)^{200}}{(6x+5)^{300}}$ ,  
 c)  $\lim_{x \rightarrow \infty} \left( \frac{x^3}{2x^2-1} - \frac{x^2}{2x+1} \right)$ , d)  $\lim_{x \rightarrow \pi} \frac{\sqrt{1-\operatorname{tg} x} - \sqrt{1+\operatorname{tg} x}}{\sin 2x}$ ,  
 e)  $\lim_{x \rightarrow \infty} x [\ln x - \ln(x+2)]$ , f)  $\lim_{x \rightarrow \infty} x [\ln(x+3) - \ln x]$ ,  
 g)  $\lim_{x \rightarrow \infty} x [\ln(x+a) - \ln(x-a)]$ , h)  $\lim_{x \rightarrow \infty} x [\ln(x+a) - \ln x]$ ,  
 i)  $\lim_{x \rightarrow 0} \frac{\sqrt{1+x \sin x} - \sqrt{\cos 2x}}{\operatorname{tg}^2 \frac{x}{2}}$ , j)  $\lim_{x \rightarrow -3} \frac{\sqrt{x^2+7} - \sqrt{7-3x}}{\sqrt{x+3} - \sqrt{x^2-9}}$ ,  
 k)  $\lim_{x \rightarrow \infty} \frac{\sqrt{x^2-1} + \sqrt{x^2+1}}{x}$ , l)  $\lim_{x \rightarrow 0} \frac{\sqrt{1+\sin x} - \sqrt{1-\sin x}}{x}$ ,  
 m)  $\lim_{x \rightarrow 0} \frac{\sin(a+x) - \sin(a-x)}{x}$ , n)  $\lim_{h \rightarrow 0} \frac{\sin(x+h) - \sin(x-h)}{h}$ .

**3.2.8.** Dokážte, že neexistujú limity  $\lim_{x \rightarrow \infty} e^x \sin x$ ,  $\lim_{x \rightarrow \infty} e^x(1 + \sin x)$ ,  $\lim_{x \rightarrow \infty} e^x(1 - \sin x)$ .

### 3.3 Spojitosť funkcie

S pojmom limity funkcie  $f$  v danom bode  $a$  úzko súvisí pojem spojitosti tejto funkcie  $f$  v bode  $a$ . Prírodné deje často prebiehajú spojitě a popisujú sa „spojitými funkciami“. Niekedy môžu samozrejme prebiehať diskkrétne alebo v kvantách, ale kvantá sú väčšinou také malé, že nám (ako nedokonalým pozorovateľom) sa celý proces javí ako spojitý. Najznámejším príkladom je premietanie filmu, kde postačí frekvencia väčšia ako 10 obrázkov za sekundu a pohyb sa nám javí ako spojitý.

Uvažujme hmotný bod, ktorý sa pohybuje po nejakej dráhe. Veľkosť dráhy závisí od času pohybu. Predpokladajme, že dráhu popisuje funkcia  $y = f(t)$ , kde  $t$  reprezentuje čas. V čase  $T$  bude veľkosť dráhy rovná hodnote  $f(T)$ . Ak sa čas  $T$  zmení o malú hodnotu, potom sa dráha  $f(T)$  tiež zmení o nejakú malú hodnotu. Ak  $t \rightarrow T$ , potom  $f(t) \rightarrow f(T)$ . To znamená, že ak  $\{t_n\}_{n=1}^{\infty} \rightarrow T$ , potom  $\{f(t_n)\}_{n=1}^{\infty} \rightarrow f(T)$ .

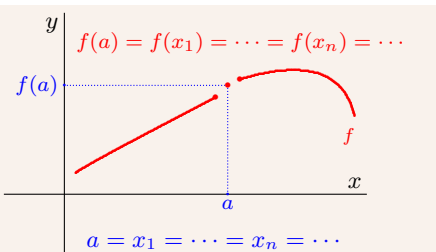
**Funkcia  $y = f(x)$  je spojitá v bode  $a \in D(f)$** , ak pre všetky  $\{x_n\}_{n=1}^{\infty} \subset D(f)$  také, že  $\{x_n\}_{n=1}^{\infty} \mapsto a$ , platí  $\{f(x_n)\}_{n=1}^{\infty} \mapsto f(a)$

(t. j. ak  $x_n \in D(f)$ ,  $\lim_{n \rightarrow \infty} x_n = a$ , potom  $\lim_{n \rightarrow \infty} f(x_n) = f(a)$ ).

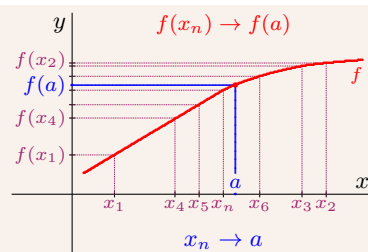
Bod  $a \in D(f)$  môže byť iba hromadný alebo izolovaný:

- Ak je bod  $a$  izolovaný (obr. 3.3.45), potom existuje jediná  $\{x_n\}_{n=1}^{\infty} = \{a\}_{n=1}^{\infty} \mapsto a$ . Potom  $\lim_{n \rightarrow \infty} f(x_n) = \lim_{n \rightarrow \infty} f(a) = f(a)$ , t. j.  **$f$  je spojitá v izolovanom bode  $a$**  vždy.
- Ak je  $a$  hromadný (obr. 3.3.46), potom  $\lim_{x \rightarrow a} f(x) = f(a)$  (veta 3.3.1).

Ak je  $f$  spojitá v bode  $a \in D(f)$ , potom  $a$  nazývame **bodom spojivosti funkcie  $f$** .



Obr. 3.3.45: Spojitosť funkcie  $f$  v izolovanom bode  $a \in D(f)$



Obr. 3.3.46: Spojitosť funkcie  $f$  v hromadnom bode  $a \in D(f)$

Ak funkcia  $f$  nie je spojitá v bode  $a \in D(f)$ , nazýva sa **nespojité v bode  $a$** . Bod  $a$  nazývame **bodom nespojivosti funkcie  $f$** . To znamená, že  $f$  je nespojitá v bode  $a$ , ak existuje  $\{x_n\}_{n=1}^{\infty} \subset D(f)$ ,  $\{x_n\}_{n=1}^{\infty} \mapsto a$  taká, že  $\{f(x_n)\}_{n=1}^{\infty} \not\mapsto f(a)$  (t. j. ak limita existuje  $\lim_{n \rightarrow \infty} f(x_n) \neq f(a)$  alebo  $\lim_{n \rightarrow \infty} f(x_n)$  neexistuje).

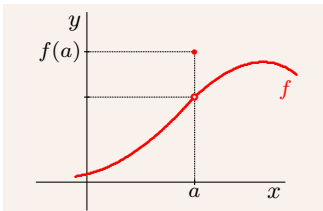


Je zrejmé, funkcia  $f$  môže byť nespojitá iba v hromadnom bode  $D(f)$ . Preto rozšírime pojem bodu nespojitosti na všetky hromadné body množiny  $D(f)$ . Body nespojitosti rozdeľujeme na body odstrániteľnej a neodstrániteľnej nespojitosti.

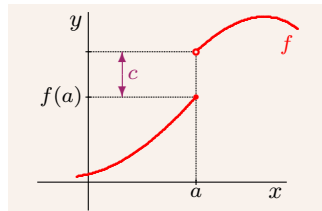
**Funkcia  $y = f(x)$ ,  $x \in D(f)$  má v hromadnom bode  $a$  množiny  $D(f)$ :**

- **bod odstrániteľnej nespojitosti**, ak existuje konečná  $\lim_{x \rightarrow a} f(x) \neq f(a)$ . Ak položíme  $f(a) = \lim_{x \rightarrow a} f(x)$ , nespojitosť sa odstráni (obr. 3.3.47).
- **bod neodstrániteľnej nespojitosti 1. druhu**, ak existujú  $\lim_{x \rightarrow a^-} f(x) \neq \lim_{x \rightarrow a^+} f(x)$  a sú konečné. Číslo  $c = \lim_{x \rightarrow a^+} f(x) - \lim_{x \rightarrow a^-} f(x)$  nazývame **skok funkcie  $f$  v bode  $a$** .
- **bod neodstrániteľnej nespojitosti 2. druhu**, ak aspoň jedna z limit  $\lim_{x \rightarrow a^-} f(x)$ ,  $\lim_{x \rightarrow a^+} f(x)$  neexistuje alebo je nevlastná (obr. 3.3.49). Ak je niektorá z nich nevlastná, hovoríme o **asymptotickej nespojitosti funkcie  $f$  v bode  $a$** .

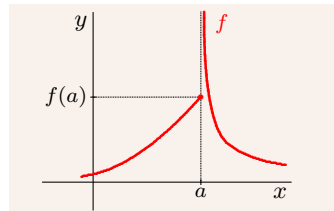
Z definície asymptoty bez smernice vyplýva, že funkcia  $f$  má v bode  $a$  asymptotu bez smernice práve vtedy, ak je v bode  $a$  asymptoticky nespojitá (obr. 3.2.39).



Obr. 3.3.47: Nespojitosť odstrániteľná



Obr. 3.3.48: Nespojitosť neodstrániteľná 1. druhu



Obr. 3.3.49: Nespojitosť neodstrániteľná 2. druhu

### Príklad 3.3.1.

a)  $y = \frac{\sin x}{x}$ : bod 0 je odstrániteľný bod nespojitosti, pretože  $\lim_{x \rightarrow 0} \frac{\sin x}{x} = 1$ .

b)  $y = \frac{x^2 - 1}{x - 1}$ : bod 1 odstrániteľný bod nespojitosti, pretože  $\lim_{x \rightarrow 1} \frac{x^2 - 1}{x - 1} = \lim_{x \rightarrow 1} (x + 1) = 2$ .

c)  $y = [x]$ : všetky  $k \in \mathbb{Z}$  sú bodmi nespojitosti 1. druhu so skokom  $c = 1$  (obr. 2.1.2), pretože platí  $\lim_{x \rightarrow k^-} [x] = k - 1$ ,  $\lim_{x \rightarrow k^+} [x] = k$ .

d)  $y = \sin \frac{1}{x}$ : bod 0 je neodstrániteľný bod nespojitosti 2. druhu, pretože ani jedna z jednostranných limit  $\lim_{x \rightarrow 0^-} \frac{1}{x}$ ,  $\lim_{x \rightarrow 0^+} \frac{1}{x}$  neexistuje (postačí neexistencia aspoň jednej).

e)  $y = \frac{1}{x}$ : bod 0 je neodstrániteľný bod nespojitosti 2. druhu, pretože  $\lim_{x \rightarrow 0^+} \frac{1}{x} = \infty$ . ■

### Veta 3.3.1.

$f$  je spojité v bode  $a \in D(f) \iff a$  je hromadný bod  $D(f)$ ,  $\lim_{x \rightarrow a} f(x) = f(a)$ .

Podobne ako limita, je aj spojitosť lokálna záležitosť v nejakom okolí  $O(a)$ . Pri spojitosti je potrebné, aby  $a \in D(f)$ . Pri limite musí byť bod  $a$  hromadným bodom  $D(f)$ .

**Veta 3.3.2.**

$f$  je spojité v bode  $a \in D(f) \iff$   
 pre každé okolie  $O(f(a))$  existuje  $O(a)$  tak, že pre všetky  $x \in O(a)$  platí  $f(x) \in O(f(a))$ .

Ak označíme  $\varepsilon, \delta$  polomery okolí, potom je  $f$  spojité v bode  $a \in D(f)$  práve vtedy, ak:

$$\underbrace{\forall O_\varepsilon(f(a))}_{\forall \varepsilon > 0} \underbrace{\exists O_\delta(a)}_{\exists \delta > 0} \forall x \in D(f): \underbrace{x \in O_\delta(a)}_{|x-a| < \delta} \Rightarrow \underbrace{f(x) \in O_\varepsilon(f(a))}_{|f(x)-f(a)| < \varepsilon}.$$

**Veta 3.3.3.**

$f, g$  sú spojité v bode  $a \in D(f) \cap D(g), r \in \mathbb{R} \implies$   
 v bode  $a$  sú spojité  $|f|, f \pm g, rf, fg$ , pre  $g(a) \neq 0$  sú v bode  $a$  spojité aj  $\frac{1}{g}, \frac{f}{g}$ .

**Veta 3.3.4 (Spojitosť zloženej funkcie).**

$f$  je spojité v bode  $a \in D(f), g$  spojité v bode  $b = f(a) \in D(g), H(f) \subset D(g) \implies$   
 $F = g \circ f$  je spojité v bode  $a$ .

**Príklad 3.3.2.**

- a) Funkcia  $f: y = x$  spojité v bode 1,  $f(1) \neq 0$ . Potom sú v bode 1 spojité tiež funkcie  $2f: y = 2x, f^2: y = x^2, f^n: y = x^n, n \in \mathbb{N}, 1/f^n: y = x^{-n}$ .
- b) Zložená funkcia  $g \circ f: y = \sqrt{x^2 + 1}$  je spojité v bode  $a = 1$ , pretože  $f: u = x^2 + 1$  je spojité v bode  $a = 1, g: y = \sqrt{u}$  je spojité v bode  $b = f(1) = 2$ . ■

**Veta 3.3.5.**

$f$  je spojité v bode  $a \in A, A \subset D(f) \implies$  reštrikcia  $g = f|_A$  je spojité v bode  $a$ .

**Dôkaz.**

$a$  je izolovaný bod  $D(f) \implies a$  je izolovaný bod  $A \subset D(f) \implies g$  je spojité v bode  $a$ .

$a$  je hromadný bod  $D(f) \implies f(a) = \lim_{x \rightarrow a} f(x), f(a) = g(a) \implies$  sú dve možnosti:

- $a$  je izolovaný bod  $A \implies g$  je spojité v bode  $a$ .
- $a$  je hromadný bod  $A \xrightarrow{\text{veta 3.2.10}} \lim_{x \rightarrow a} g(x) = \lim_{x \rightarrow a} f|_A(x) = f(a) = g(a) \implies$   
 $g$  je v spojité v bode  $a$ . ■

**Veta 3.3.6 (O zovretí).**

$g, h$  sú spojité v bode  $a \in D(f) \cap D(g) \cap D(h), h(a) = f(a) = g(a),$   
 existuje  $O(a)$ , že  $h(x) \leq f(x) \leq g(x)$  pre pre všetky  $x \in O(a) \implies f$  je spojité v bode  $a$ .

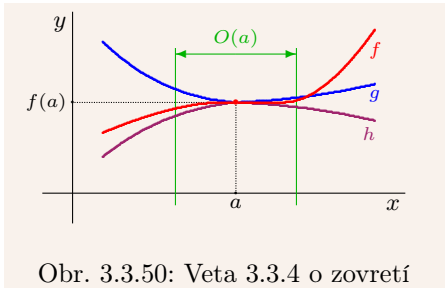
**Dôkaz.**

Zo spojitosti funkcií  $f, g$  v bode  $a$  a z predpokladu  $h(x) \leq f(x) \leq g(x)$  vyplýva:

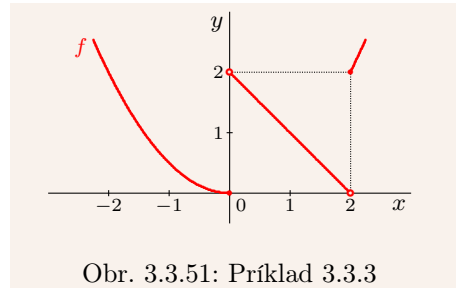
$$h(a) = \lim_{x \rightarrow a} h(x) \leq \lim_{x \rightarrow a} f(x) \leq \lim_{x \rightarrow a} g(x) = g(a) \implies \lim_{x \rightarrow a} f(x) = f(a) \implies f \text{ je spojité v } a. \blacksquare$$

Predpoklad  $h(a) = f(a) = g(a)$  je dôležitý (obr. 3.3.50). Ak nie je splnený, potom funkcia  $f$  v bode  $a$  nemusí byť spojité.

**Funkcia  $y = f(x)$  je spojité v bode  $a \in D(f)$  vzhľadom na množinu  $A \subset D(f)$ ,**  
 ak je v  $a$  spojité reštrikcia  $f|_A$  (t. j. ak  $x_n \in A, \lim_{n \rightarrow \infty} x_n = a$ , potom  $\lim_{n \rightarrow \infty} f(x_n) = f(a)$ ).



Obr. 3.3.50: Veta 3.3.4 o zovretí



Obr. 3.3.51: Príklad 3.3.3

Funkcia  $f$  sa nazýva **spojitá zľava** [resp. **spojitá sprava**] **v bode  $a$** , ak je spojitá v bode  $a$  vzhľadom na množinu  $D(f) \cap (-\infty; a)$  [resp. na množinu  $D(f) \cap (a; \infty)$ ]. V týchto prípadoch hovoríme o **jednostrannej spojitosti funkcie  $f$  v bode  $a$** .

**Veta 3.3.7.**

$f$  je spojitá v bode  $a \in D(f) \iff f$  je spojitá zľava a sprava v bode  $a$ .

**Príklad 3.3.3.**

Funkcia  $f$  na obrázku 3.3.51 je spojitá v každom bode množiny  $R - \{0; 2\}$ . V bode 0 je spojitá zľava a v bode 2 je spojitá sprava. ■

**Funkcia  $f$  je spojitá na množine  $A \subset D(f)$** , ak je spojitá v každom bode  $a \in A$ . Ak je funkcia  $f$  spojitá na celom svojom  $D(f)$ , potom ju nazývame **spojitá**.

Je zrejmé, že ak je  $f$  spojitá na  $A$ , potom je spojitá na každej podmnožine  $B \subset A$ .

**Funkcia  $f$  sa nazýva po častiach spojitá na intervale  $\langle a; b \rangle \subset D(f)$** , ak má na  $\langle a; b \rangle$  konečný počet bodov nespojitosti a ani jeden z nich nie je neodstrániteľný 2. druhu.

Túto definíciu môžeme rozšíriť na ľubovoľný interval  $I \subset D(f)$ , napr.  $(-\infty; \infty)$ ,  $\langle 0; \infty \rangle$ . Funkcia  $f$  sa nazýva **po častiach spojitá na intervale  $I \subset D(f)$** , ak je po častiach spojitá na každom uzavretom intervale  $\langle a; b \rangle \subset I$ .

**Príklad 3.3.4.**

a) Funkcia  $f: y = x^2$  je spojitá na  $R$ , t. j. aj po častiach spojitá na  $R$ .

b) Funkcia  $f: y = \lfloor x \rfloor$  je po častiach spojitá na  $R$ , pretože je po častiach spojitá na každom uzavretom intervale  $\langle a; b \rangle$ ,  $a, b \in R$ . ■

### 3.3.1 Vlastnosti spojitých funkcií na intervale

Spojitosť funkcie  $f$  na uzavretom intervale  $\langle a; b \rangle \subset D(f)$  znamená obojstrannú spojitosť na  $(a; b)$ , spojitosť sprava v bode  $a$ , spojitosť zľava v bode  $b$ .

**Veta 3.3.8 (Lokálna ohraničenosť).**

$f$  je spojitá v bode  $a \in D(f) \implies$

$f$  je lokálne ohraničená (t. j. existuje okolie  $O(a)$ , v ktorom je  $f$  ohraničená).

**Dôkaz.**

Ak je  $a$  izolovaný bod množiny  $D(f)$ , tvrdenie je zrejmé. Ak je  $a$  hromadný bod, potom  $\lim_{x \rightarrow a} f(x) = f(a)$  a tvrdenie vyplýva z vety 3.2.2 (obr. 3.3.52). ■

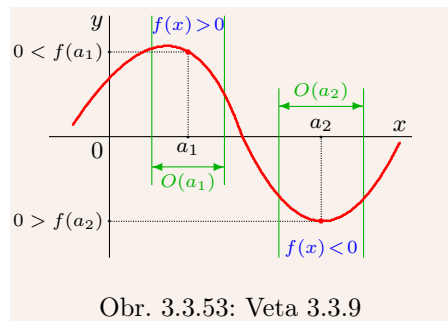
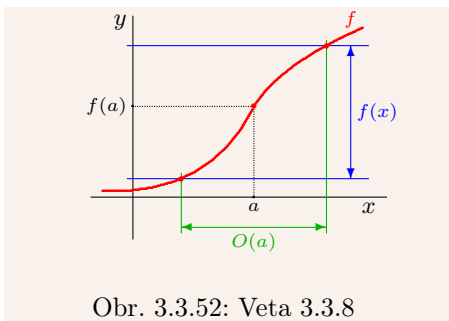
Zo spojitosti funkcie  $f$  na množine  $A \subset D(f)$  ešte nevyplýva jej ohraničenosť na tejto množine. Napríklad  $f: y = x^{-1}, x \in \mathbb{R}$  je spojitá na intervale  $(0; 1)$ , ale nie je ohraničená.

**Veta 3.3.9.**

$f$  je spojitá v bode  $a \in D(f)$ ,  $f(a) > 0$  [resp.  $f(a) < 0$ ]  $\implies$   
 existuje okolie  $O(a)$ , že pre všetky  $x \in O(a)$  platí  $f(x) > 0$  [resp.  $f(x) < 0$ ].

**Dôkaz.**

Vyplýva z dôsledku 3.2.7.a (obr. 3.3.52) ■



**Veta 3.3.10 (Weierstrass).**

$f$  je spojitá na uzavretom intervale  $\langle a; b \rangle \implies$

- a)  $f$  je na  $\langle a; b \rangle$  ohraničená,      b)  $f$  nadobúda na  $\langle a; b \rangle$  svoje extrémny.

**Dôkaz.**

a) Sporom. Nech je  $f$  spojitá a neohraničená na  $\langle a; b \rangle \implies$

pre každé  $n \in \mathbb{N}$  existuje  $x_n \in \langle a; b \rangle$  také, že  $|f(x_n)| > n \implies \{|f(x_n)|\}_{n=1}^{\infty} \mapsto \infty$ .

$\{x_n\}_{n=1}^{\infty}$  je ohraničená  $\xrightarrow{\text{veta 2.3.9}}$  existuje podpostupnosť  $\{x_{k_n}\}_{n=1}^{\infty} \mapsto c \in \langle a; b \rangle$

$\xrightarrow{\text{spojitosť}} \{f(x_{k_n})\}_{n=1}^{\infty} \mapsto f(c) \in \mathbb{R} \implies \{|f(x_{k_n})|\}_{n=1}^{\infty} \mapsto |f(c)| \neq \infty$ , t. j. spor.

b)  $f$  je ohraničená na  $\langle a; b \rangle \implies$  existujú  $\alpha, \beta \in \mathbb{R}$  také, že  $\alpha = \inf_{x \in \langle a; b \rangle} f(x)$ ,  $\beta = \sup_{x \in \langle a; b \rangle} f(x)$ .

Sporom. Ukážeme pre  $\beta$  (pre  $\alpha$  je dôkaz analogický). Nech  $f$  nenadobúda  $\beta \implies$

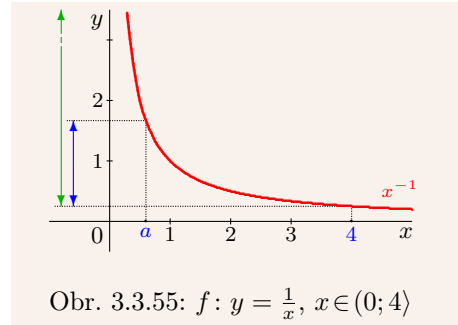
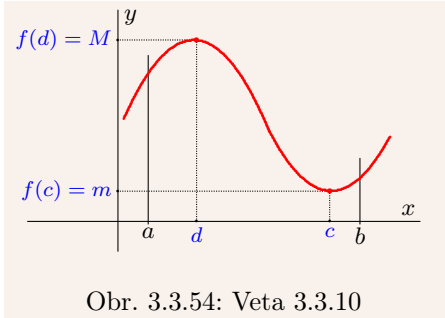
pre všetky  $x \in \langle a; b \rangle$  platí  $f(x) < \beta \implies 0 < \beta - f(x) \implies 0 < \frac{1}{\beta - f(x)}$

funkcia  $g: y = \frac{1}{\beta - f(x)}, x \in \langle a; b \rangle$  je spojitá  $\xrightarrow{\text{a)}} g$  je ohraničená  $\implies$

existuje  $k > 0$ , že pre všetky  $x \in \langle a; b \rangle$  platí  $0 < \frac{1}{\beta - f(x)} < k \implies \frac{1}{k} < \beta - f(x) \implies$

$\forall x \in \langle a; b \rangle: f(x) < \beta - \frac{1}{k} < \beta$ , t. j. spor s tým, že  $\beta = \sup A$ . ■

Veta 3.3.10 platí iba pre uzavretý interval  $\langle a; b \rangle$ . Funkcia  $f: y = \frac{1}{x}, x \in (0; 4)$  je spojitá, ale nie je ohraničená (obr. 3.3.55). Ohraničená je napríklad na každom otvorenom intervale  $(a; 4)$ , kde  $0 < a < 4$ .

**Veta 3.3.11 (Cauchyho o nulovom bode).**

$f$  je spojitá na  $\langle a; b \rangle$ ,  $f(a)f(b) < 0 \implies$  existuje  $c \in (a; b)$  také, že  $f(c) = 0$ .

**Dôkaz.**

Nech<sup>13</sup>  $f(a) < 0 < f(b)$  (pre  $f(a) > 0 > f(b)$  je dôkaz analogický).

Označme  $a = a_0, b = b_0, d = \frac{b-a}{2}$ . Rozdeľme  $\langle a_0; b_0 \rangle$  na polovičné intervaly (obr. 3.3.56):

$$\langle a_0; x_1 \rangle, \langle x_1; b_0 \rangle, \quad \text{kde } x_1 = \frac{a_0 + b_0}{2}.$$

Ak  $f(x_1) = 0$ , potom  $x_1$  je koreň. V opačnom prípade zvolíme za  $\langle a_1; b_1 \rangle$  interval:

$$\left. \begin{array}{l} \langle a_0; x_1 \rangle \text{ pre } f(x_1) > 0 \\ \langle x_1; b_0 \rangle \text{ pre } f(x_1) < 0 \end{array} \right\} \Rightarrow f(a_1) < 0 < f(b_1), \quad \langle a_1; b_1 \rangle \subset \langle a_0; b_0 \rangle, \quad b_1 - a_1 = \frac{b_0 - a_0}{2} = \frac{d}{2}.$$

Interval  $\langle a_1; b_1 \rangle$  rozdelíme na polovičné intervaly  $\langle a_1; x_2 \rangle, \langle x_2; b_1 \rangle$ , kde  $x_2 = \frac{a_1 + b_1}{2}$ .

Ak  $f(x_2) = 0$ , potom  $x_2$  je koreň. V opačnom prípade zvolíme za  $\langle a_2; b_2 \rangle$ :

$$\left. \begin{array}{l} \langle a_1; x_2 \rangle \text{ pre } f(x_2) > 0 \\ \langle x_2; b_1 \rangle \text{ pre } f(x_2) < 0 \end{array} \right\} \Rightarrow f(a_2) < 0 < f(b_2), \quad \langle a_2; b_2 \rangle \subset \langle a_1; b_1 \rangle, \quad b_2 - a_2 = \frac{b_1 - a_1}{2} = \frac{d}{2^2}.$$

Ak budeme takto pokračovať ďalej, dostaneme po konečnom počte krokov koreň  $x_k$ , alebo dostaneme postupnosť do seba vložených intervalov  $\{\langle a_n; b_n \rangle\}_{n=1}^{\infty}$ , pre ktorú platí:

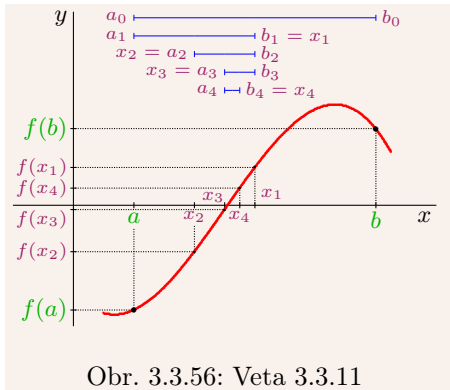
$$f(a_n) < 0 < f(b_n), \quad \langle a_n; b_n \rangle \subset \langle a_{n-1}; b_{n-1} \rangle, \quad b_n - a_n = \frac{b_{n-1} - a_{n-1}}{2} = \frac{d}{2^n}, \quad n \in \mathbb{N}.$$

Z Cantorovho princípu vložených intervalov (veta 2.1.9) vyplýva, že existuje jediné  $c$  také, že  $c \in \langle a_n; b_n \rangle$  pre všetky  $n \in \mathbb{N}$ , t. j.  $\lim_{n \rightarrow \infty} a_n = \lim_{n \rightarrow \infty} b_n = c$ . Zo spojitosti  $f$  vyplýva:

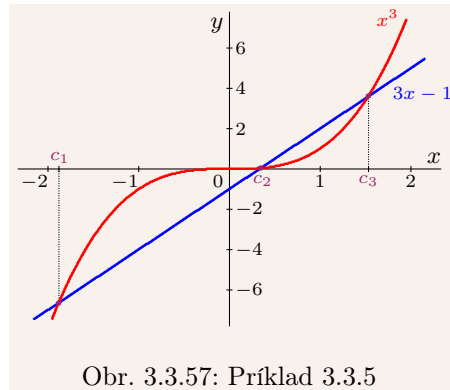
$$f(a_n) < 0 < f(b_n) \Rightarrow f(c) = \lim_{n \rightarrow \infty} f(a_n) \leq 0 \leq \lim_{n \rightarrow \infty} f(b_n) = f(c) \Rightarrow f(c) = 0. \blacksquare$$

Metóda z dôkazu predchádzajúcej vety sa nazýva **metóda delenia intervalu (metóda bisekcie)** a často sa používa pri numerickom hľadaní koreňov rovnice  $f(x) = 0$ .

<sup>13</sup>Predpoklad  $f(a)f(b) < 0$  znamená, že platí  $f(a) < 0 < f(b)$  alebo  $f(a) > 0 > f(b)$ .



Obr. 3.3.56: Veta 3.3.11



Obr. 3.3.57: Príklad 3.3.5

Koreň rovnice  $f(x) = 0$  aproximujeme hodnotou  $x_{n+1} = \frac{a_n + b_n}{2}$  tak, aby  $b_n - a_n < \varepsilon$ , resp.  $|f(x_{n+1})| < \varepsilon$ , kde  $\varepsilon$  je dopredu zvolená tolerancia (chyba výpočtu).

Metóda bisekcie je pomerne jednoduchá, ale aj prácna. Na spresnenie koreňa o jeden rád potrebuje približne 4 kroky, preto sa väčšinou používa iba ako štartovacia metóda na získanie počiatočných hodnôt pre iné metódy.

k	$a_k$ [ $f(a_k) > 0$ ]	$b_k$ [ $f(b_k) < 0$ ]	$x_{k+1}$	$f(x_{k+1})$		$b_k - a_k$
0	0,0	1,0	0,5	-0,375	$\rightarrow b_1$	1,0
1	0,0	0,5	0,25	0,265 625	$\rightarrow a_2$	0,5
2	0,25	0,5	0,375	-0,072 265 625	$\rightarrow b_3$	0,25
3	0,25	0,375	0,312 5	0,093 0175 78	$\rightarrow a_4$	0,125
4	0,312 5	0,375	0,343 75	0,009 368 896	$\rightarrow a_5$	0,062 5
5	0,343 75	0,375	0,359 375	-0,031 711 578	$\rightarrow b_6$	0,031 25
6	0,343 75	0,359 375	0,351 562 5	-0,011 235 714	$\rightarrow b_7$	0,015 625
7	0,343 75	0,351 562 5	0,347 656 25	-0,000 949 323	$\rightarrow b_8$	0,007 812 5
8	0,343 75	0,347 656 25				0,003 906 25

Tabuľka 3.3.4: Riešenie rovnice  $x^3 - 3x + 1 = 0$  príkladu 3.3.5 metódou bisekcie

### Príklad 3.3.5.

Nájdite s presnosťou  $\varepsilon = 0,01$  korene funkcie  $f: y = x^3 - 3x + 1$ .

#### Riešenie.

Z priesečníkov grafov funkcií  $y = x^3$ ,  $y = 3x - 1$  (obr. 3.3.57) odhadneme, že funkcia  $f$  má tri korene v intervaloch  $\langle -2; -1 \rangle$ ,  $\langle 0; 1 \rangle$ ,  $\langle 1; 2 \rangle$ . Korene skutočne ležia v týchto intervaloch, pretože (veta 3.3.11) platí:

$$f(-2) = -1 < f(-1) = 3, \quad f(0) = 1 > f(1) = -1, \quad f(1) = -1 < f(2) = 3.$$

Pomocou metódy bisekcie nájdeme s presnosťou  $\varepsilon = 0,01$  koreň z intervalu  $\langle 0; 1 \rangle$ . Na jeho nájdenie budeme potrebovať minimálne  $n$  krokov, pričom musí platiť:

$$b_n - a_n = \frac{b_0 - a_0}{2^n} = \frac{1}{2^n} < \varepsilon = \frac{1}{100} \Rightarrow 10^2 = 100 < 2^n \Rightarrow n = 7, 8, \dots \Rightarrow n = 7.$$

Postup riešenia je znázornený v tabuľke 3.3.4 a koreňom je číslo  $x_8 = 0,347\,656\,25$ , ktorého odchýlka od skutočného koreňa je menšia ako  $0,003\,906\,25$ . Keby sme požadovali iba presnosť  $|f(c)| < \varepsilon$ , postačil by nám koreň  $x_5 = 0,343\,75$ . Na záver pre porovnanie uvádzame všetky tri korene vypočítané s presnosťou na deväť desatinných miest:

$$c_1 = -1,879\,385\,242, \quad c_2 = 0,347\,296\,355, \quad c_3 = 1,532\,088\,886. \blacksquare$$

**Veta 3.3.12 (O medzihodnote).**

$f$  je spojitá na intervale  $I \subset \mathbb{R}$ ,  $a, b \in I \implies$

$f$  nadobúda všetky hodnoty z intervalu  $J$  s koncovými bodmi  $f(a)$ ,  $f(b)$ .

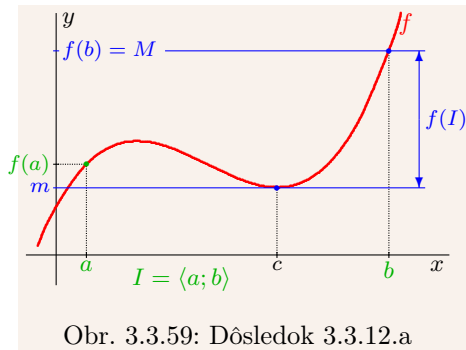
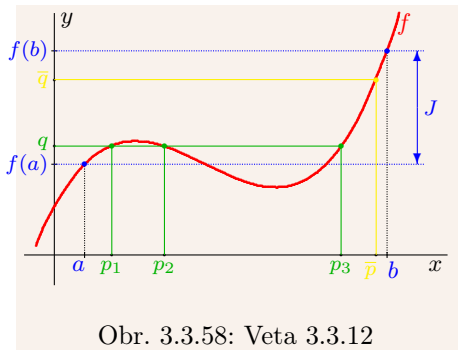
**Dôkaz.**

$f(a) = q = f(b) \implies p = a$  alebo  $p = b$ .

$f(a) < q < f(b)$ : označme  $g(x) = f(x) - q$ ,  $x \in \langle a; b \rangle \implies f(a) - q = g(a) < 0 < g(b) = f(b) - q$

$\xrightarrow{\text{veta 3.3.11}}$  existuje  $p \in (a; b)$  také, že  $g(p) = f(p) - q = 0 \implies f(p) = q$ .

$f(a) > q > f(b)$ : dôkaz je analogický ako v predchádzajúcom prípade (viď obr. 3.3.58).  $\blacksquare$



**Dôsledok 3.3.12.a.**

$f$  je spojitá na intervale  $I \subset \mathbb{R} \implies f(I)$  je interval.

Ak je  $f$  spojitá a  $I$  je uzavretý (a teda aj ohraničený), potom aj interval  $f(I)$  je uzavretý a na základe vety 3.3.10 platí  $f(I) = \langle \alpha; \beta \rangle$ , pričom<sup>14</sup>  $\alpha = \min_{x \in I} f(x)$ ,  $\beta = \max_{x \in I} f(x)$ .

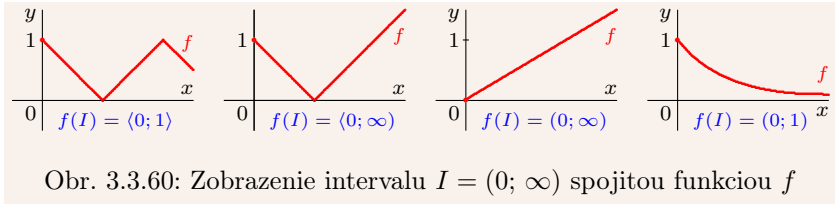
Ak je  $f$  spojitá a  $I$  nie je uzavretý alebo ohraničený, potom vo všeobecnosti typ intervalu  $f(I)$  určiť nevieme (obr. 3.3.60). Ale ak je funkcia  $f$  rýdzo monotónna, potom interval  $f(I)$  má rovnaký typ ako  $I$ .

**Príklad 3.3.6.**

Spojitá funkcia môže zobrazit'  $I = (-\pi; \pi)$  rôzne, napr. (obr. 3.3.61):

$$f_1(x) = \cos x: I \rightarrow (-1; 1), \quad f_2(x) = \sin x: I \rightarrow \langle -1; 1 \rangle,$$

<sup>14</sup>Ak  $\alpha = \beta$  dostaneme degenerovaný interval  $f(I) = \langle \alpha; \alpha \rangle = \{\alpha\}$ .



Obr. 3.3.60: Zobrazenie intervalu  $I = (0; \infty)$  spojitou funkciou  $f$

$$f_3(x) = 1: I \rightarrow \{1\}, \quad f_4(x) = \frac{x}{\pi}: I \rightarrow (-1; 1), \quad f_5(x) = \operatorname{tg} \frac{x}{2}: I \rightarrow \mathbb{R},$$

$$f_6(x) = \left| \operatorname{tg} \frac{x}{2} \right|: I \rightarrow (0; \infty), \quad f_7(x) = -\frac{2x}{x+\pi} - 1 = -\frac{3x+\pi}{x+\pi}: I \rightarrow (0; \infty). \blacksquare$$

**Veta 3.3.13.**

$f$  je spojité na intervale  $I$ , potom:  $f$  je prostá na  $I \iff f$  je rýdzo monotónna na  $I$ .

**Dôkaz.**

$PP_{\Leftarrow}$ : Vyplýva z vety 3.1.5.

$NP_{\Rightarrow}$ : Sporom. Funkcia  $f$  je prostá  $\Rightarrow \forall x_i, x_j \in I, x_i \neq x_j$  platí  $f(x_i) \neq f(x_j)$ .

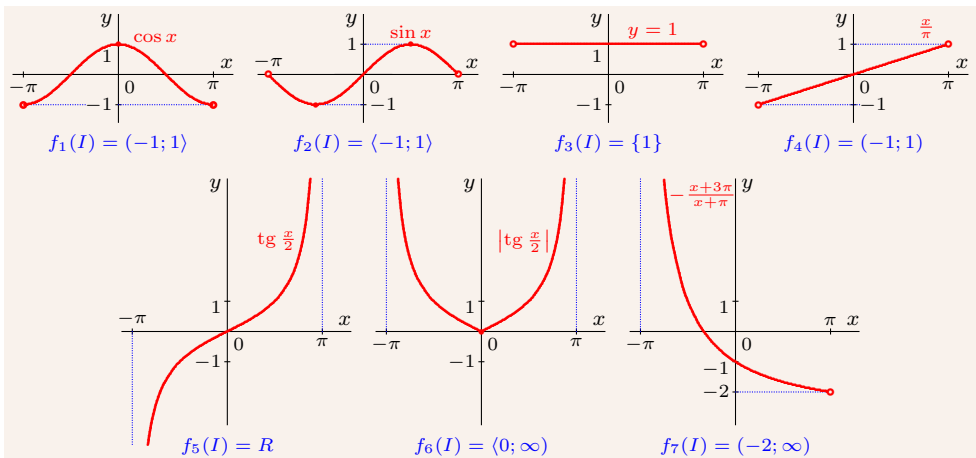
$f$  nie je rýdzo monotónna  $\Rightarrow$  existujú  $x_1, x_2, x_3 \in I, x_1 < x_2 < x_3$  také, že platí:

i)  $f(x_1) < f(x_2), f(x_3) < f(x_2) \Rightarrow f(x_1) < f(x_3) < f(x_2)$ , resp.  $f(x_3) < f(x_1) < f(x_2)$ .

ii)  $f(x_1) > f(x_2), f(x_3) > f(x_2) \Rightarrow f(x_1) > f(x_3) > f(x_2)$ , resp.  $f(x_3) > f(x_1) > f(x_2)$ .

T. j. štyri možnosti. Ich dôkaz je podobný a preto dokážeme iba  $f(x_1) < f(x_3) < f(x_2)$ :

$\xrightarrow{\text{veta 3.3.12}}$  existuje  $p \in (x_1; x_2)$ , t. j.  $p \neq x_3$  také, že  $f(p) = f(x_3) \Rightarrow$  spor.  $\blacksquare$



Obr. 3.3.61: Zobrazenie intervalu  $I = (-\pi; \pi)$  z príkladu 3.3.6

Na záver spomenieme bez dôkazu vetu o spojitosti inverznej funkcie (obr. 3.1.14).



**Veta 3.3.14 (Spojitosť inverznej funkcie).**

$f$  je prostá a spojitá na intervale  $I \implies$  inverzná funkcia  $f^{-1}$  je spojitá na  $f(I)$ .

Ak uvážime všetky doterajšie výsledky o spojitých funkciách, môžeme vysloviť tvrdenie, že **všetky elementárne funkcie sú spojité**.

**Cvičenia**

**3.3.1.** Vyšetrite spojitosť a charakter bodov nespojitosti funkcie: ♣

- |                                   |                                   |                             |                               |
|-----------------------------------|-----------------------------------|-----------------------------|-------------------------------|
| a) $y = x \sin \frac{1}{x}$ ,     | b) $y = \frac{1}{\sin x}$ ,       | c) $y = \frac{1}{\ln x}$ ,  | d) $y = \frac{x}{ x }$ ,      |
| e) $y = \lfloor \sin x \rfloor$ , | f) $y = \lfloor \cos x \rfloor$ , | g) $y = \ln  \sin x $ ,     | h) $y = \ln  \cos x $ ,       |
| i) $y = \sin \frac{1}{x}$ ,       | j) $y = \cos \frac{1}{x}$ ,       | k) $y = \frac{1}{1+x^2}$ ,  | l) $y = \frac{x^2}{ x^2 }$ ,  |
| q) $y = \frac{\sin x}{x}$ ,       | r) $y = \frac{\sin x}{ x }$ ,     | s) $y = \frac{x}{\sin x}$ , | t) $y = \arctg \frac{1}{x}$ . |

**3.3.2.** Určte  $a \in \mathbb{R}$  tak, aby bola funkcia  $f$  spojitá na svojom  $D(f)$ , ak: ♣

- |                                                                                                       |                                                                                                       |
|-------------------------------------------------------------------------------------------------------|-------------------------------------------------------------------------------------------------------|
| a) $f(x) = \begin{cases} a - x^2, & \text{pre } x < 0, \\ x + 2, & \text{pre } x \geq 0, \end{cases}$ | b) $f(x) = \begin{cases} a - x^2, & \text{pre } x < 0, \\ a - x, & \text{pre } x \geq 0, \end{cases}$ |
| c) $f(x) = \begin{cases} ax, & \text{pre } x < 1, \\ 2 - x/a, & \text{pre } x \geq 1, \end{cases}$    | d) $f(x) = \begin{cases} e^{ax}, & \text{pre } x < 0, \\ a - x, & \text{pre } x \geq 0. \end{cases}$  |

**3.3.3.** Určte  $a, b \in \mathbb{R}$  tak, aby bola funkcia  $f$  spojitá na svojom  $D(f)$ , ak:

- |                                                                                                                                                                                  |                                                                                                                                                                                  |
|----------------------------------------------------------------------------------------------------------------------------------------------------------------------------------|----------------------------------------------------------------------------------------------------------------------------------------------------------------------------------|
| a) $f(x) = \begin{cases} a - x^2, & \text{pre } x \in (-\infty; 0), \\ x + 2, & \text{pre } x \in (0; 2), \\ 3x + b, & \text{pre } x \in \langle 2; \infty \rangle, \end{cases}$ | b) $f(x) = \begin{cases} x^2 - a, & \text{pre } x \in (-\infty; b), \\ x + 2, & \text{pre } x \in (b; a), \\ 3x + b, & \text{pre } x \in \langle a; \infty \rangle. \end{cases}$ |
|----------------------------------------------------------------------------------------------------------------------------------------------------------------------------------|----------------------------------------------------------------------------------------------------------------------------------------------------------------------------------|

**3.3.4.** Určte  $f(0)$  tak, aby bola funkcia  $f$  spojitá v bode 0, ak pre  $x \neq 0$  platí: ♣

- |                                 |                                         |                                                    |
|---------------------------------|-----------------------------------------|----------------------------------------------------|
| a) $f(x) = \frac{\sin x}{2x}$ , | b) $f(x) = \frac{\sqrt[4]{1+x}-1}{x}$ , | c) $f(x) = \frac{(x+2)^2-4}{x}$ ,                  |
| d) $f(x) = (1+2x)^{1/x}$ ,      | e) $f(x) = x^2 + e^{-1/x^2} - 1$ ,      | f) $f(x) = \frac{\sqrt{1+x}-1}{\sqrt[3]{1+x}-1}$ . |

**3.3.5.** Nech je funkcia  $f$  nespojitá v bode  $a \in D(f)$ . Aká je funkcia  $|f|$  v bode  $a$ ? ♣

**3.3.6.** Zostrojte funkciu, ktorá je definovaná na množine  $\mathbb{R}$ , je všade spojitá a má práve 0, 1, 2, ...,  $n$ , ( $n \in \mathbb{N}$ ), resp. nespočítateľne veľa bodov nespojitosti. ♣

**3.3.7.** Nech sú funkcie  $f, g$  nespojité v bode  $a \in D(f) \cap D(g)$ . Zistite, aké sú nasledujúce funkcie v bode  $a$ . Svoje tvrdenie ilustrujte konkrétnymi príkladmi. ♣

- |              |            |           |             |             |               |
|--------------|------------|-----------|-------------|-------------|---------------|
| a) $f + g$ , | b) $g/f$ , | c) $fg$ , | d) $f(f)$ , | e) $f(g)$ , | f) $ f(g) $ . |
|--------------|------------|-----------|-------------|-------------|---------------|

**3.3.8.** Nech je funkcia  $f$  spojitá a funkcia  $g$  nespojitá v bode  $a \in D(f) \cap D(g)$ . Zistite, aké sú nasledujúce funkcie v bode  $a$ . Svoje tvrdenie ilustrujte konkrétnymi príkladmi. ♣

- |              |            |           |             |             |               |
|--------------|------------|-----------|-------------|-------------|---------------|
| a) $f + g$ , | b) $g/f$ , | c) $fg$ , | d) $g(f)$ , | e) $f(g)$ , | f) $ f(g) $ . |
|--------------|------------|-----------|-------------|-------------|---------------|

**3.3.9.** Určte množiny, na ktorých sú spojité funkcie  $f(g), g(f)$ , ak  $f(x) = \operatorname{sgn} x$  a platí: ♣

- |                                         |                                        |                                         |
|-----------------------------------------|----------------------------------------|-----------------------------------------|
| a) $g(x) = x(1 - x^2)$ ,                | b) $g(x) = (-1)^{\lfloor x \rfloor}$ , | c) $g(x) = \operatorname{sgn}(1 - x)$ , |
| d) $g(x) = 1 + x - \lfloor x \rfloor$ , | e) $g(x) = 1 + x \lfloor x \rfloor$ ,  | f) $g(x) = 1 - \chi(x)$ .               |

**3.3.10.** Dokážte, že ak sú na množine  $A$  spojité funkcie  $f, g$ , potom sú na množine  $A$  spojité aj funkcie  $y = \min \{f(x), g(x)\}$ ,  $y = \max \{f(x), g(x)\}$ ,  $x \in A$ .

**3.3.11.** Metódou bisekcie s presnosťou  $\varepsilon = 0,01$  nájdite všetky korene rovnice: ♣

$$\begin{array}{lll} \text{a) } 0 = x^3 + 2x - 11, & \text{c) } 0 = e^x + x, & \text{b) } 0 = x^3 - 6x^2 + x^{-1} + 5, \\ \text{d) } 0 = \ln x - 3 + x, & \text{e) } 0 = e^{x^2-1} - x - 1, & \text{f) } 0 = \cos x^2 + x - 1. \end{array}$$

**3.3.12.** Nájdite množinu  $f(I)$ , ak: ♣

$$\begin{array}{ll} \text{a) } I = \langle \pi; 3\pi/2 \rangle, & f(x) = \sin 2x, \\ \text{b) } I = \langle -2; 4 \rangle, & f(x) = x^2 + 2, \\ \text{c) } I = \langle 0; \infty \rangle, & f(x) = x \lfloor x \rfloor, \\ \text{d) } I = \langle 0; 4\pi \rangle, & f(x) = x \lceil \sin x \rceil, \\ \text{e) } I = \langle 0; \infty \rangle, & f(x) = \chi(x^2 + 1), \\ \text{f) } I = (0; 1), & f(x) = (x^2 - x)^{-1}. \end{array}$$

*Optimista vyhlasuje, že žijeme v najlepšom svete. Pesimista sa obáva, že je to pravda.*

**JAMES BRANCH CABELL**

*Život je žart. To som si vždy myslel, teraz to viem.*

**JOHN GAY — náhrobný nápis**

*Rečník má vyčerpať tému, nie poslucháčov.*

**WINSTON CHURCHIL**

*Každý je taký, ako ho boh stvoril, ba často aj horší.*

**RODA RODA**

*Klamár musí mať dobrú pamäť.*

**QUINTILIANUS**

*Kde sa nudíme lepšie ako v rodinnom kruhu?*

**OSKAR WILDE**

*Nikto učený z neba nespadol, ale hlupákov akoby zhadzovali.*

**JULIUS TUWIM**

*Je stále lepšie byť ženatý, ako byť mŕtvy.*

**JEAN BAPTISTE MOLIÈRE**

*Tretí v hre je ten, čo nie je.*

**RAINER MARIA RILKE**

*Najhoršie je tváriť sa, že chápeme, keď nechápeme.*

**LEV NIKOLAJEVIČ TOLSTOJ**

*Zaujímam sa o budúcnosť, pretože v nej hodlám stráviť zvyšok svojho života.*

**CHARLES KETTERING**

## Kapitola 4

# Diferenciálny počet reálnej funkcie reálnej premennej

### 4.1 Derivácia reálnej funkcie

Základným pojmom diferenciálneho počtu je derivácia. K zavedeniu derivácie funkcie viedli predovšetkým dva problémy, ktoré sú uvedené v nasledujúcich príkladoch. Po matematickej stránke vedú obidva príklady na rovnakú limitu, ktorá sa v praxi používa veľmi často a nazýva sa **derivácia funkcie**.

#### Príklad 4.1.1.

Uvažujme auto pohybujúce sa po priamke (obr. 4.1.1). Jeho pohyb je opísaný funkciou  $s(t)$ , závislou od času  $t$ . Čas začneme merať od okamihu  $t_0$  a bod na priamke, v ktorom sa práve auto nachádza, nazveme počiatok  $P_0$ .

Ak sa auto nachádza v čase  $t > t_0$  v bode  $P$ , potom  $s(t)$  predstavuje dĺžku úsečky  $P_0P$ . Označme polohu auta v čase  $t + \Delta t$  ( $\Delta t \neq 0$ ) symbolom  $Q$ . Úsečka  $PQ$  predstavuje jeho dráhu v čase od  $t$  po  $t + \Delta t$ , t. j. v intervale  $\Delta t$ . Ak označíme  $\Delta s = s(t + \Delta t) - s(t)$ , potom priemernú rýchlosť  $\bar{v}$  auta v časovom intervale  $\Delta t$  môžeme vyjadriť vzťahom:

$$\bar{v} = \frac{\Delta s}{\Delta t} = \frac{s(t + \Delta t) - s(t)}{\Delta t}.$$

Ak  $\Delta t \rightarrow 0$ , potom sa bude  $\bar{v}$  približovať k okamžitej rýchlosti  $v(t)$  v čase  $t$ . Potom platí:

$$v(t) = \lim_{\Delta t \rightarrow 0} \bar{v} = \lim_{\Delta t \rightarrow 0} \frac{\Delta s}{\Delta t} = \lim_{\Delta t \rightarrow 0} \frac{s(t + \Delta t) - s(t)}{\Delta t}. \blacksquare$$

#### Príklad 4.1.2.

Uvažujme bod  $P = [x_0; f(x_0)]$  ležiaci na grafe spojitej funkcie  $y = f(x)$ ,  $x \in D(f)$ . Rovnica dotyčnice  $d_P$  k funkcii  $f$  v bode  $P$  má tvar (obr. 4.1.2):

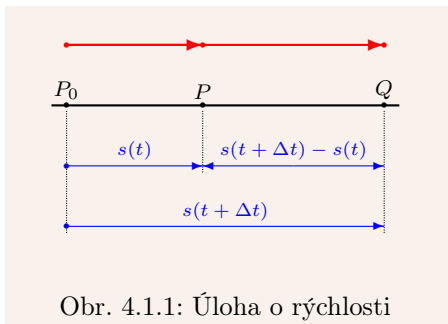
$$y - f(x_0) = k(x - x_0) = \operatorname{tg} \varphi (x - x_0) \Rightarrow \text{smernica } k = \operatorname{tg} \varphi = \frac{y - f(x_0)}{x - x_0}.$$

Ak bod  $Q = [x; f(x)]$  leží na grafe funkcie  $f$ , potom pre smernicu priamky  $PQ$  platí:

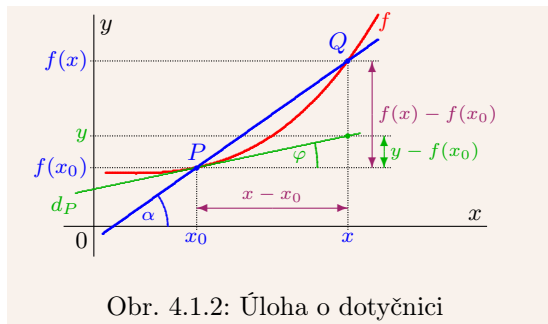
$$\operatorname{tg} \alpha = \frac{f(x) - f(x_0)}{x - x_0}.$$

Ak sa bude bod  $Q$  približovať k  $P$ , bude sa priamka  $PQ$  približovať k dotýčnici  $d_P$ , t. j.  $x \rightarrow x_0$ ,  $f(x) \rightarrow f(x_0)$ ,  $\alpha \rightarrow \varphi$ ,  $\operatorname{tg} \alpha \rightarrow \operatorname{tg} \varphi$ . Smernica  $\operatorname{tg} \varphi$  má potom tvar:

$$\operatorname{tg} \varphi = \lim_{\alpha \rightarrow \varphi} \operatorname{tg} \alpha = \lim_{x \rightarrow x_0} \frac{f(x) - f(x_0)}{x - x_0}. \blacksquare$$



Obr. 4.1.1: Úloha o rýchlosti



Obr. 4.1.2: Úloha o dotýčnici

**Funkcia  $y = f(x)$  má v bode  $x_0 \in D(f)$  deriváciu  $f'(x_0)$ , ak existuje limita:**

$$f'(x_0) = \lim_{x \rightarrow x_0} \frac{f(x) - f(x_0)}{x - x_0} = \lim_{h \rightarrow 0} \frac{f(x_0 + h) - f(x_0)}{h} \quad (\text{subst. } h = x - x_0).$$

Podľa toho, či je predchádzajúca limita vlastná alebo nevlastná, hovoríme o **vlastnej (konečnej)** alebo **nevlastnej derivácii funkcie  $f$  v bode  $x_0$** . Pokiaľ nebude uvedené ináč, budeme pod pojmom derivácia rozumieť vlastnú deriváciu.

Niekedy sa namiesto označenia  $f'(x_0)$  používa  $f'(x)|_{x=x_0}$  alebo častejšie  $y'(x_0)$ .

Často sa používa označenie pomocou tzv. diferenciálov, ktoré zaviedol G. W. Leibniz:

$$f'(x_0) = \frac{df(x_0)}{dx} = \frac{d}{dx} f(x_0), \quad \text{resp. } y'(x_0) = \frac{dy(x_0)}{dx} = \frac{d}{dx} y(x_0). \quad (4.1)$$

Tieto vzťahy čítame **derivácia  $f$  podľa  $x$  v bode  $x_0$** , resp. stručne  **$df(x_0)$  podľa  $dx$** .

### Príklad 4.1.3.

a)  $f: y = c$ , kde  $c \in \mathbb{R}$  (konštantná funkcia)  $\Rightarrow$  pre všetky  $x_0 \in \mathbb{R}$  platí:

$$f'(x_0) = \lim_{x \rightarrow x_0} \frac{f(x) - f(x_0)}{x - x_0} = \lim_{x \rightarrow x_0} \frac{c - c}{x - x_0} = \lim_{x \rightarrow x_0} 0 = 0,$$

$$\text{resp. } f'(x_0) = \lim_{h \rightarrow 0} \frac{f(x_0 + h) - f(x_0)}{h} = \lim_{h \rightarrow 0} \frac{c - c}{h} = \lim_{h \rightarrow 0} 0 = 0.$$

b)  $f: y = x^n$ ,  $x \in \mathbb{R}$ ,  $n \in \mathbb{N}$   $\Rightarrow$  pre všetky  $x_0 \in \mathbb{R}$  platí:

$$\begin{aligned} f'(x_0) &= \lim_{x \rightarrow x_0} \frac{x^n - x_0^n}{x - x_0} = \lim_{x \rightarrow x_0} \frac{(x^{n-1} + x^{n-2}x_0 + \dots + x_0^{n-1})(x - x_0)}{x - x_0} = \\ &= \lim_{x \rightarrow x_0} (x^{n-1} + x^{n-2}x_0 + \dots + x_0^{n-1}) = x_0^{n-1} + x_0^{n-2}x_0 + \dots + x_0^{n-1} = nx_0^{n-1}. \blacksquare \end{aligned}$$

**Veta 4.1.1.**

$f$  má v bode  $x_0$  konečnú deriváciu  $\implies f$  je v bode  $x_0$  spojitá.

**Dôkaz.**

$$f'(x_0) = \lim_{x \rightarrow x_0} \frac{f(x) - f(x_0)}{x - x_0} \text{ je konečná, } \lim_{x \rightarrow x_0} [x - x_0] = 0 \implies$$

$$\lim_{x \rightarrow x_0} [f(x) - f(x_0)] = \lim_{x \rightarrow x_0} \frac{f(x) - f(x_0)}{x - x_0} [x - x_0] = f'(x_0) \lim_{x \rightarrow x_0} [x - x_0] = f'(x_0) \cdot 0 = 0 \implies$$

$$\lim_{x \rightarrow x_0} f(x) = f(x_0) \xrightarrow{\text{veta 3.3.1}} \text{ funkcia } f \text{ je spojitá v bode } x_0. \blacksquare$$

Ako dokazuje príklad 4.1.4, opačná implikácia neplatí. To znamená, že spojitosť funkcie v danom bode nezaručuje existenciu derivácie v tomto bode.

Geometricky predstavuje  $f'(x_0) \in R$  smernicu priamky, ktorá sa dotýka grafu funkcie  $f$  v bode  $[x_0; f(x_0)]$  a ktorú nazývame **dotyčnica (so smernicou) ku grafu funkcie  $f$  v bode  $x_0$** . Jej rovnica má tvar (príklad 4.1.2):

$$y = f(x_0) + f'(x_0)(x - x_0).$$

Ak  $f'(x_0) = \pm\infty$  a  $f$  je spojitá v bode  $x_0$ , potom **dotyčnicou bez smernice ku grafu funkcie  $f$  v bode  $x_0$**  nazývame priamku, ktorá je rovnobežná s osou  $y$  (kolmá na os  $x$ ) a prechádza bodom  $[x_0; f(x_0)]$ , t. j. priamku  $x = x_0$  (obr. 4.1.3).

**Normálou ku grafu funkcie  $f$  v bode  $x_0$**  nazývame priamku, ktorá prechádza bodom  $[x_0; f(x_0)]$  a je kolmá na dotyčnicu ku grafu funkcie  $f$  v tomto bode.

Normála ku grafu funkcie  $f$  v bode  $x_0$  existuje práve vtedy, ak v tomto bode existuje dotyčnica. Ak  $f'(x_0) \in R$ ,  $f'(x_0) \neq 0$ , potom má normála tvar:<sup>1</sup>

$$y - f(x_0) = -\frac{1}{f'(x_0)}(x - x_0) \implies y = f(x_0) - \frac{1}{f'(x_0)}(x - x_0).$$

**4.1.1 Jednostranné derivácie a derivácia na množine**

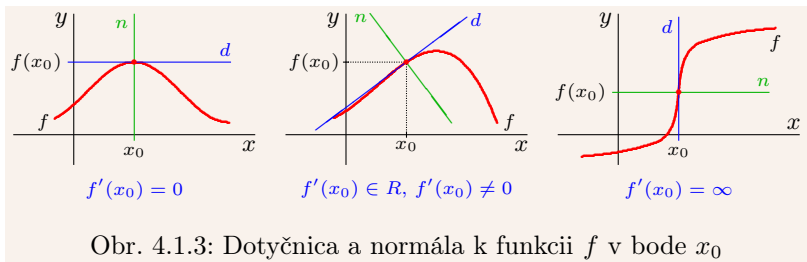
**Funkcia  $f$  má v bode  $x_0$  deriváciu zľava  $f'_-(x_0)$** , ak existuje limita:

$$f'_-(x_0) = \lim_{x \rightarrow x_0^-} \frac{f(x) - f(x_0)}{x - x_0} = \lim_{h \rightarrow 0^-} \frac{f(x_0 + h) - f(x_0)}{h}.$$

**Funkcia  $f$  má v bode  $x_0$  deriváciu sprava  $f'_+(x_0)$** , ak existuje limita:

$$f'_+(x_0) = \lim_{x \rightarrow x_0^+} \frac{f(x) - f(x_0)}{x - x_0} = \lim_{h \rightarrow 0^+} \frac{f(x_0 + h) - f(x_0)}{h}.$$

<sup>1</sup>Priamky  $y = kx + a$ ,  $y = qx + b$  (t. j.  $kx - y + a = 0$ ,  $qx - y + b = 0$ ) sú na seba kolmé, ak sú na seba kolmé ich normálové vektory  $(k; -1)$ ,  $(q; -1)$ . T. j. ak platí  $kq + (-1)(-1) = kq + 1 = 0$ , resp.  $k = -\frac{1}{q}$ .



Tieto derivácie nazývame **jednostranné**,  $f'(x_0)$  nazývame **obojustrannou deriváciou**. Z vlastností jednostranných limit vyplýva nasledujúca veta.

**Veta 4.1.2.**

$f'(x_0)$  existuje  $\iff$  existujú  $f'_-(x_0)$ ,  $f'_+(x_0)$  a  $f'_-(x_0) = f'_+(x_0)$ .

**Príklad 4.1.4.**

a) Funkcia  $f: y = |x|$  je spojitá na  $R$ ,  $f'(0)$  neexistuje, pretože:

$$f'_-(0) = \lim_{x \rightarrow 0^-} \frac{|x| - |0|}{x - 0} = \lim_{x \rightarrow 0^-} \frac{-x}{x} = -1, \quad f'_+(0) = \lim_{x \rightarrow 0^+} \frac{|x| - |0|}{x - 0} = \lim_{x \rightarrow 0^+} \frac{x}{x} = 1.$$

b) Funkcia  $f: y = \operatorname{sgn} x$  má deriváciu v každom  $x_0 \in R$ , aj keď nie je spojitá v bode 0. Pre  $x_0 < 0$  platí  $f'(x_0) = [-1]' = 0$ , pre  $0 < x_0$  platí  $f'(x_0) = [1]' = 0$ . Pre  $x_0 = 0$  platí:

$$f'_-(0) = \lim_{x \rightarrow 0^-} \frac{\operatorname{sgn} x - \operatorname{sgn} 0}{x - 0} = \lim_{x \rightarrow 0^-} \frac{-1 - 0}{x} = - \lim_{x \rightarrow 0^-} \frac{1}{x} = -\frac{1}{0^-} = -(-\infty) = \infty,$$

$$f'_+(0) = \lim_{x \rightarrow 0^+} \frac{\operatorname{sgn} x - \operatorname{sgn} 0}{x - 0} = \lim_{x \rightarrow 0^+} \frac{1 - 0}{x} = \lim_{x \rightarrow 0^+} \frac{1}{x} = \frac{1}{0^+} = \infty \quad \Rightarrow f'(0) = \infty. \blacksquare$$

Už sme spomínali, že ak má funkcia  $f$  v bode  $x_0$  vlastnú deriváciu, potom je v tomto bode spojitá (veta 4.1.1). Analogické tvrdenie platí aj pre jednostranné derivácie.

**Veta 4.1.3.**

$f'_-(x_0)$  [resp.  $f'_+(x_0)$ ] je vlastná  $\implies f$  je v  $x_0$  spojitá zľava [resp. sprava].

**Dôsledok 4.1.3.a.**

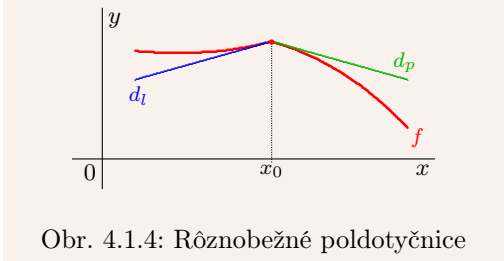
$f'_-(x_0)$ ,  $f'_+(x_0)$  sú vlastné (nemusia sa rovnať)  $\implies f$  je v  $x_0$  spojitá.

Graficky predstavujú  $f'_-(x_0)$ ,  $f'_+(x_0)$  smernice ľavej [resp. pravej] **poldotyčnice ku grafu funkcie  $f$  v bode  $x_0$** , t. j. polpriamky vychádzajúce z bodu  $x_0$  smerom doľava [resp. doprava] a dotýkajúce sa grafu funkcie  $f$  v bode  $[x_0; f(x_0)]$  (obr. 4.1.4, 4.1.5).

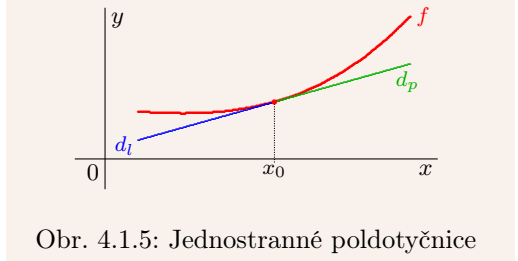
Nech  $y = f(x)$ ,  $x \in D(f)$  a nech  $A \subset \{x_0 \in D(f); f'(x_0) \text{ je konečná}\}$ . Ak  $A \neq \emptyset$ , potom má zmysel funkcia  $g: y = f'(x)$ ,  $x \in A$ , ktorú nazývame **derivácia funkcie  $f$  na množine  $A$**  a označujeme symbolmi  $f'$ ,  $y'$ , resp.  $\frac{df}{dx}$ ,  $\frac{dy}{dx}$ .

**Poznámka 4.1.1.**

Derivácia funkcie  $f$  v bode  $x_0 \in D(f)$  je  $f'(x_0)$ . Je to číslo, prípadne hodnota  $\pm\infty$ . Na druhej strane derivácia funkcie  $f$  na množine  $A \subset D(f)$  je funkcia  $y = f'(x)$ ,  $x \in A$ .



Obr. 4.1.4: Rôznobežné poldotyčnice



Obr. 4.1.5: Jednostranné poldotyčnice

Derivácia funkcie  $f$  na intervale  $\langle a; b \rangle$ , podobne ako spojitosť, znamená obojstrannú deriváciu  $f'(x)$ ,  $x \in (a; b)$  a jednostranné derivácie  $f'_+(a)$ ,  $f'_-(b)$ .

Z definície  $f'$  a z viet 4.1.1, 4.1.3 vyplýva priamo nasledujúce tvrdenie.

**Veta 4.1.4.**

$f$  má na množine  $A$  deriváciu  $f' \implies f$  je na  $A$  spojitá.

**Príklad 4.1.5.**

Vypočítajte derivácie funkcií  $y = e^x$ ,  $y = \sin x$ ,  $y = \cos x$  na množine  $R$ .

**Riešenie.**

$$[e^x]' = \lim_{h \rightarrow 0} \frac{e^{x+h} - e^x}{h} = \lim_{h \rightarrow 0} e^x \frac{e^h - 1}{h} = e^x \cdot \lim_{h \rightarrow 0} \frac{e^h - 1}{h} = e^x \cdot 1 = e^x.$$

$$\text{Na základe vzťahov } \lim_{h \rightarrow 0} \frac{\sin(h/2)}{h/2} = \left[ \begin{matrix} h/2 = z \\ z \rightarrow 0 \end{matrix} \right] = \lim_{z \rightarrow 0} \frac{\sin z}{z} = 1,$$

$$\sin x - \sin a = 2 \sin \frac{x-a}{2} \cos \frac{x+a}{2}, \quad \cos x - \cos a = -2 \sin \frac{x-a}{2} \sin \frac{x+a}{2} \text{ platí:}$$

$$[\sin x]' = \lim_{h \rightarrow 0} \frac{\sin(x+h) - \sin x}{h} = \lim_{h \rightarrow 0} \frac{2 \sin \frac{h}{2} \cos \frac{2x+h}{2}}{2 \frac{h}{2}} = 1 \cdot \cos \frac{2x+0}{2} = \cos x,$$

$$[\cos x]' = \lim_{h \rightarrow 0} \frac{\cos(x+h) - \cos x}{h} = \lim_{h \rightarrow 0} \frac{-2 \sin \frac{h}{2} \sin \frac{2x+h}{2}}{2 \frac{h}{2}} = -1 \cdot \sin \frac{2x+0}{2} = -\sin x. \blacksquare$$

## 4.1.2 Základné pravidlá pre výpočet derivácií

Pri praktickom výpočte derivácií, t. j. pri **derivovaní** rôznych funkcií spravidla nepoužívame definíciu. Používame rôzne vzorce a pravidlá, z ktorých si niektoré odvodíme.

**Veta 4.1.5.**

$c \in R$ , existujú  $f'$ ,  $g'$  na množine  $A \neq \emptyset \implies (cf)'$ ,  $(f \pm g)'$ ,  $(fg)'$  existujú na  $A$ , existuje  $\left(\frac{f}{g}\right)'$  na  $A_1 = \{x \in A; g(x) \neq 0\}$ . Navyše pre všetky  $x \in A$ , resp.  $x \in A_1$  platí:

- |                                         |                                                                            |
|-----------------------------------------|----------------------------------------------------------------------------|
| a) $(cf)'(x) = cf'(x)$ ,                | b) $(f \pm g)'(x) = f'(x) \pm g'(x)$ ,                                     |
| b) $(fg)'(x) = f'(x)g(x) + f(x)g'(x)$ , | d) $\left[\frac{f}{g}\right]'(x) = \frac{f'(x)g(x) - f(x)g'(x)}{g^2(x)}$ . |

**Dôkaz.**

a), b) Vyplýva priamo z definície.

$$c) x \in A \implies (fg)'(x) = \lim_{h \rightarrow 0} \frac{(fg)(x+h) - (fg)(x)}{h} = \lim_{h \rightarrow 0} \frac{f(x+h)g(x+h) - f(x)g(x)}{h} =$$

$$= \lim_{h \rightarrow 0} \frac{f(x+h)g(x+h) - f(x)g(x+h) + f(x)g(x+h) - f(x)g(x)}{h} =$$

$$= \lim_{h \rightarrow 0} \left[ \frac{f(x+h) - f(x)}{h} g(x+h) \right] + \lim_{h \rightarrow 0} \left[ f(x) \frac{g(x+h) - g(x)}{h} \right] = f'(x)g(x) + f(x)g'(x).$$

$$d) x \in A_1 \Rightarrow \left[ \frac{1}{g} \right]'(x) = \lim_{h \rightarrow 0} \frac{1}{h} \left[ \frac{1}{g(x+h)} - \frac{1}{g(x)} \right] = \lim_{h \rightarrow 0} \frac{g(x) - g(x+h)}{h g(x+h)g(x)} = -\frac{g'(x)}{g^2(x)} \xrightarrow{c)} \\ \left[ \frac{f}{g} \right]'(x) = \left[ f \frac{1}{g} \right]'(x) = f'(x) \frac{1}{g(x)} - f(x) \frac{g'(x)}{g^2(x)} = \frac{f'(x)g(x) - f(x)g'(x)}{g^2(x)}. \blacksquare$$

Predchádzajúce vzorce zvykneme stručne zapisovať:

$$(cf)' = cf', \quad (f \pm g)' = f' \pm g', \quad (fg)' = f'g + fg', \quad \left[ \frac{1}{g} \right]' = -\frac{g'}{g^2}, \quad \left[ \frac{f}{g} \right]' = \frac{f'g - fg'}{g^2}.$$

#### Príklad 4.1.6.

Vypočítajte derivácie funkcií  $y = \operatorname{tg} x$ ,  $y = \operatorname{cotg} x$ .

#### Riešenie.

$$x \neq \frac{\pi}{2} + k\pi, k \in Z \Rightarrow [\operatorname{tg} x]' = \left[ \frac{\sin x}{\cos x} \right]' = \frac{[\sin x]' \cos x - \sin x [\cos x]'}{\cos^2 x} = \frac{\cos x \cos x - \sin x [-\sin x]}{\cos^2 x} = \frac{1}{\cos^2 x}.$$

$$x \neq k\pi, k \in Z \Rightarrow [\operatorname{cotg} x]' = \left[ \frac{\cos x}{\sin x} \right]' = \frac{[\cos x]' \sin x - \cos x [\sin x]'}{\sin^2 x} = \frac{-\sin^2 x - \cos^2 x}{\sin^2 x} = -\frac{1}{\sin^2 x}. \blacksquare$$

#### Príklad 4.1.7.

Nájdite rovnicu dotyčnice ku grafu funkcie  $f: y = \frac{x}{x-1}$ ,  $x \in R - \{1\}$ , ktorá je rovnobežná s priamkou  $p: y = 2 - x$ .

#### Riešenie.

$$x \neq 1 \Rightarrow f'(x) = \left[ \frac{x}{x-1} \right]' = \frac{1 \cdot (x-1) - x(1-0)}{(x-1)^2} = \frac{x-1-x}{(x-1)^2} = \frac{-1}{(x-1)^2}.$$

Dotyčnica  $y = f(x_0) + f'(x_0)(x - x_0)$  má smernicu  $f'(x_0)$ , priamka  $p$  má smernicu  $-1$ .

$$f'(x_0) = \frac{-1}{(x_0-1)^2} = -1 \Rightarrow (x_0 - 1)^2 = 1 \Rightarrow x_0 = 0 \text{ alebo } x_0 = 2. \Rightarrow$$

Dva dotykové body  $[0; 0]$ ,  $[2; 2]$  a dve dotyčnice:

$$d_1: y = 0 - (x-0) = -x, \quad d_2: y = 2 - (x-2) = 4 - x. \blacksquare$$

#### Veta 4.1.6 (Derivácia inverznej funkcie).

$y = f(x)$  je spojitá a rýdzomonotónna na intervale  $I \subset R$ ,  $x_0 \in I$  je vnútorný bod,  $f'(x_0) \neq 0$  je konečná  $\implies$  inverzná funkcia  $x = f^{-1}(y)$  má deriváciu v bode  $y_0 = f(x_0)$ :

$$[f^{-1}]'(y_0) = \frac{1}{f'(x_0)} \Big|_{x_0=f^{-1}(y_0)} = \frac{1}{f'(f^{-1}(y_0))}.$$

#### Dôkaz.

Z vety 3.3.13 vyplýva, že  $f$  je prostá a  $f^{-1}$  existuje. Ďalej (veta 3.2.8) platí:

$$[f^{-1}]'(y_0) = \lim_{y \rightarrow y_0} \frac{f^{-1}(y) - f^{-1}(y_0)}{y - y_0} = \left[ \begin{array}{l} y = f(x) \\ y \rightarrow y_0 \end{array} \middle| \begin{array}{l} x = f^{-1}(y) \\ x \rightarrow x_0 \end{array} \right] = \\ = \lim_{x \rightarrow x_0} \frac{x - x_0}{f(x) - f(x_0)} = \frac{1}{\lim_{x \rightarrow x_0} \frac{f(x) - f(x_0)}{x - x_0}} = \frac{1}{f'(x_0)} = \frac{1}{f'(f^{-1}(y_0))}. \blacksquare$$



Ak  $f'(x) \neq 0$  platí pre všetky  $x \in I$ , potom môžeme zjednodušene písať:

$$[f^{-1}]'(y) = \frac{1}{f'(x)} = \frac{1}{f'(f^{-1}(y))}, \quad \text{resp.} \quad \frac{df^{-1}(y)}{dy} = \frac{dx}{dy} = \frac{1}{\frac{dy}{dx}} = \frac{1}{\frac{df(x)}{dx}}.$$

**Príklad 4.1.8.**

- a)  $f: y = e^x, x \in \mathbb{R}$  je spojitá a rastúca,  $f'(x) = e^x \neq 0, x \in \mathbb{R} \Rightarrow f^{-1}: x = \ln y, y > 0 \Rightarrow$   
 $[\ln y]' = [f^{-1}]'(y) = \frac{1}{f'(x)} = \frac{1}{[e^x]'} = \frac{1}{e^x} = \frac{1}{e^{\ln y}} = \frac{1}{y}, y > 0.$
- b)  $f: y = \sin x, x \in (-\frac{\pi}{2}; \frac{\pi}{2})$  je spojitá, rastúca,  $f'(x) = \cos x = \sqrt{1 - \sin^2 x} > 0 \Rightarrow$   
 $[\arcsin y]' = \frac{1}{[\sin x]'} = \frac{1}{\cos x} = \frac{1}{\sqrt{1 - \sin^2 x}} = \frac{1}{\sqrt{1 - [\sin \arcsin y]^2}} = \frac{1}{\sqrt{1 - y^2}}, y \in (-1; 1)$
- c)  $f: y = \cos x, x \in (0; \pi)$  je spojitá, klesajúca,  $f'(x) = -\sin x = -\sqrt{1 - \cos^2 x} < 0 \Rightarrow$   
 $[\arccos y]' = \frac{1}{[\cos x]'} = \frac{1}{-\sin x} = -\frac{1}{\sqrt{1 - \cos^2 x}} = -\frac{1}{\sqrt{1 - [\cos \arccos y]^2}} = -\frac{1}{\sqrt{1 - y^2}}, y \in (-1; 1).$
- d)  $f: y = \cotg x, x \in (0; \pi)$  je spojitá, klesajúca,  $f'(x) = -\frac{1}{\sin^2 x} < 0 \Rightarrow$   
 $[\operatorname{arccotg} y]' = \frac{1}{[\cotg x]'} = \frac{1}{-\frac{1}{\sin^2 x}} = \frac{-1}{\frac{\sin^2 x + \cos^2 x}{\sin^2 x}} = \frac{-1}{1 + \cotg^2 x} = \frac{-1}{1 + [\cotg \operatorname{arccotg} y]^2} = \frac{-1}{y^2 + 1}, y \in \mathbb{R}.$
- e)  $f: y = \operatorname{tg} x, x \in (-\frac{\pi}{2}; \frac{\pi}{2})$  je spojitá, rastúca,  $f'(x) = \frac{1}{\cos^2 x} > 0 \Rightarrow$   
 $[\operatorname{arctg} y]' = \frac{1}{[\operatorname{tg} x]'} = \frac{1}{\frac{1}{\cos^2 x}} = \frac{1}{\frac{\sin^2 x + \cos^2 x}{\cos^2 x}} = \frac{1}{\operatorname{tg}^2 x + 1} = \frac{1}{[\operatorname{tg} \operatorname{arctg} y]^2 + 1} = \frac{1}{y^2 + 1}, y \in \mathbb{R}. \blacksquare$

**Veta 4.1.7 (Derivácia zloženej funkcie).**

$u = f(x), y = g(u), H(f) \subset D(g), x_0 \in D(f), u_0 = f(x_0), f'(x_0)$  a  $g'(u_0)$  sú vlastné  $\implies$

$$[g(f(x_0))]' = g'(f(x_0)) \cdot f'(x_0) = g'(u_0) \cdot f'(x_0).$$

**Dôkaz.**

Označme  $F = g(f)$ , potom  $F(x_0) = g(f(x_0))$  pre  $x_0 \in D(f)$ .

$f'(x_0) = \lim_{x \rightarrow x_0} \frac{f(x) - f(x_0)}{x - x_0}, g'(u_0) = \lim_{u \rightarrow u_0} \frac{g(u) - g(u_0)}{u - u_0}$  sú konečné  $\implies$

$$\begin{aligned} F'(x_0) &= \lim_{x \rightarrow x_0} \frac{F(x) - F(x_0)}{x - x_0} = \lim_{x \rightarrow x_0} \frac{g(f(x)) - g(f(x_0))}{x - x_0} = \\ &= \lim_{x \rightarrow x_0} \left[ \frac{g(f(x)) - g(f(x_0))}{f(x) - f(x_0)} \cdot \frac{f(x) - f(x_0)}{x - x_0} \right] = \lim_{x \rightarrow x_0} \frac{g(f(x)) - g(f(x_0))}{f(x) - f(x_0)} \cdot \lim_{x \rightarrow x_0} \frac{f(x) - f(x_0)}{x - x_0} = \\ &= \left[ \begin{matrix} u = f(x) \\ u \rightarrow u_0 \end{matrix} \right] = \lim_{u \rightarrow u_0} \frac{g(u) - g(u_0)}{u - u_0} \cdot f'(x_0) = g'(u_0) \cdot f'(x_0) = g'(f(x_0)) \cdot f'(x_0). \blacksquare \end{aligned}$$

Pre všetky  $x \in D(f)$ , pre ktoré existujú  $f', g'$ , môžeme zjednodušene písať:

$$F'(x) = [g(f)]'(x) = g'(u) \cdot f'(x), \quad \text{resp.} \quad \frac{dF(x)}{dx} = \frac{dy}{dx} = \frac{dy}{du} \cdot \frac{du}{dx} = \frac{dg(u)}{du} \cdot \frac{df(x)}{dx}.$$

**Príklad 4.1.9.**

Vypočítajte deriváciu funkcie  $F: y = \sqrt{1-x^2}$ ,  $x \in (-1; 1)$ .

**Riešenie.**

$F = g(f)$ ,  $f: u = 1 - x^2$ ,  $x \in (-1; 1)$ ,  $g: y = \sqrt{u}$ ,  $u \in (0; \infty) \Rightarrow$

$$f'(x) = [1 - x^2]' = -2x, \quad x \in (-1; 1), \quad g'(u) = \left[ u^{\frac{1}{2}} \right]' = \frac{u^{-\frac{1}{2}}}{2} = \frac{1}{2\sqrt{u}}, \quad u \in (0; \infty) \Rightarrow$$

$$F'(x) = g'(f(x)) \cdot f'(x) = \frac{1}{2\sqrt{f(x)}} \cdot f'(x) = \frac{-2x}{2\sqrt{1-x^2}} = -\frac{x}{\sqrt{1-x^2}}, \quad x \in (-1; 1).$$

V praxi jednotlivé funkcie (aj viacnásobne zložené) nevypisujeme:

$$\begin{aligned} [\sqrt{1-x^2}]' &= [(1-x^2)^{\frac{1}{2}}]' = \frac{1}{2} [(1-x^2)^{-\frac{1}{2}}] \cdot [1-x^2]' = \\ &= \frac{1}{2} [(1-x^2)^{-\frac{1}{2}}] \cdot (-2x) = \frac{-2x}{2\sqrt{1-x^2}} = -\frac{x}{\sqrt{1-x^2}}, \quad x \in (-1; 1). \blacksquare \end{aligned}$$

**Príklad 4.1.10.**

- a)  $[\sin(\sin x)]' = \cos(\sin x) \cdot [\sin x]' = \cos(\sin x) \cdot \cos x$ ,  $x \in \mathbb{R}$ .  
 b)  $[\sin(\sin(\sin(\sin x)))]' = \cos(\sin(\sin(\sin x))) \cos(\sin(\sin x)) \cdot \cos(\sin x) \cdot \cos x$ ,  $x \in \mathbb{R}$ .  
 c)  $[a^x]' = [e^{\ln a^x}]' = [e^{x \ln a}]' = e^{x \ln a} \cdot [x \ln a]' = e^{x \ln a} \cdot \ln a = a^x \ln a$ ,  $x \in \mathbb{R}$ ,  $a > 0$ ,  $a \neq 1$ .  
 d)  $[x^a]' = [e^{\ln x^a}]' = [e^{a \ln x}]' = e^{a \ln x} \cdot [a \ln x]' = e^{a \ln x} \cdot \frac{a}{x} = x^a \cdot \frac{a}{x} = ax^{a-1}$ ,  $x > 0$ ,  $a \in \mathbb{R}$ .  
 e)  $[x^x]' = [e^{\ln x^x}]' = [e^{x \ln x}]' = e^{x \ln x} \cdot [x \ln x]' = x^x [1 \cdot \ln x + x \cdot \frac{1}{x}] = x^x [1 + \ln x]$ ,  $x > 0$ . ■

Na záver uvedieme jeden dôsledok vety o derivácii zloženej funkcie, ktorý môže v mnohých prípadoch zjednodušiť derivovanie zložitejších funkcií.

**Dôsledok 4.1.7.a (Logaritmická derivácia).**

$y = f(x)$ ,  $f'(x_0)$  existuje,  $f(x_0) > 0$  pre  $x_0 \in D(f) \implies f'(x_0) = f(x_0) \cdot [\ln f(x_0)]'$ .

**Dôkaz.**

$F(x) = \ln f(x)$  spĺňa predpoklady vety 4.1.7,  $f(x_0) > 0 \Rightarrow$

$$F'(x_0) = [\ln f(x_0)]' = \frac{1}{f(x_0)} \cdot f'(x_0) = \frac{f'(x_0)}{f(x_0)} \Rightarrow f'(x_0) = f(x_0) \cdot [\ln f(x_0)]'. \blacksquare$$

Výraz  $[\ln f(x_0)]' = \frac{f'(x_0)}{f(x_0)}$  nazývame **logaritmická derivácia funkcie  $f$  v bode  $x_0$** .

**Poznámka 4.1.2.**

Ak použijeme logaritmické derivovanie v príklade 4.1.10 e), dostaneme:

$$[x^x]' = x^x [\ln x^x]' = x^x [x \ln x]' = x^x [\ln x + \frac{x}{x}] = x^x [1 + \ln x], \quad x > 0.$$

Nájsť deriváciu danej funkcie v tvare analytického vzorca je pomerne častá a dôležitá úloha pri riešení mnohých problémov nielen v matematike, ale aj v praxi. Základom týchto vzorcov sú derivácie elementárnych funkcií, ktoré sú zhrnuté v tabuľke 4.1.1. Pre praktické potreby **je nevyhnutné si tieto vzorce zapamätať**.

Vzorec	Platnosť	Vzorec	Platnosť
$[c]' = 0,$	$x \in R, c \in R$	$[x]' = 1,$	$x \in R$
$[x^n]' = nx^{n-1},$	$x \in R, n \in N$	$[x^a]' = ax^{a-1},$	$x > 0, a \in R$
$[e^x]' = e^x,$	$x \in R$	$[a^x]' = a^x \ln a,$	$x \in R, a > 0$
$[\ln x]' = \frac{1}{x},$	$x > 0$	$[\log_a x]' = \frac{1}{x \ln a},$	$x > 0, a > 0, a \neq 1$
$[\ln  x ]' = \frac{1}{x},$	$x \neq 0$	$[\log_a  x ]' = \frac{1}{x \ln a},$	$x \neq 0, a > 0, a \neq 1$
$[\sin x]' = \cos x,$	$x \in R$	$[\cos x]' = -\sin x,$	$x \in R$
$[\operatorname{tg} x]' = \frac{1}{\cos^2 x},$	$x \neq (2k+1)\frac{\pi}{2}, k \in Z$	$[\operatorname{cotg} x]' = -\frac{1}{\sin^2 x},$	$x \neq k\pi, k \in Z$
$[\arcsin x]' = \frac{1}{\sqrt{1-x^2}},$	$x \in (-1; 1)$	$[\arccos x]' = -\frac{1}{\sqrt{1-x^2}},$	$x \in (-1; 1)$
$[\operatorname{arctg} x]' = \frac{1}{1+x^2},$	$x \in R$	$[\operatorname{arccotg} x]' = -\frac{1}{1+x^2},$	$x \in R$
$[\sinh x]' = \cosh x,$	$x \in R$	$[\cosh x]' = \sinh x,$	$x \in R$
$[\operatorname{tgh} x]' = \frac{1}{\cosh^2 x},$	$x \in R$	$[\operatorname{cotgh} x]' = -\frac{1}{\sinh^2 x},$	$x \neq 0$
$[\operatorname{argsinh} x]' = \frac{1}{\sqrt{x^2+1}},$	$x \in R$	$[\operatorname{argcosh} x]' = \frac{1}{\sqrt{x^2-1}},$	$x > 1$
$[\operatorname{argtgh} x]' = \frac{1}{1-x^2},$	$x \in (-1; 1)$	$[\operatorname{argcotgh} x]' = \frac{1}{1-x^2},$	$x \in R - \langle -1; 1 \rangle$

Tabuľka 4.1.1: Derivácie základných elementárnych funkcií

**Príklad 4.1.11.**

a)  $[\log_a x]' = \left[ \frac{\ln x}{\ln a} \right]' = \frac{[\ln x]'}{\ln a} = \frac{1}{x \ln a}, x > 0, a > 0, a \neq 1.$

b)  $[\log_a |x|]' = \begin{cases} [\log_a (-x)]' = \frac{1}{-x \ln a} \cdot (-x)' = \frac{-1}{x \ln a} \cdot (-1) = \frac{1}{x \ln a}, x < 0, \\ [\log_a x]' = \frac{1}{x \ln a}, x > 0 \end{cases} \Rightarrow [\log_a (-x)]' = \frac{1}{x \ln a}, x \neq 0, a > 0, a \neq 1. \blacksquare$

**Príklad 4.1.12.**

a)  $[\sinh x]' = \left[ \frac{e^x - e^{-x}}{2} \right]' = \frac{e^x - (-e^{-x})}{2} = \frac{e^x + e^{-x}}{2} = \cosh x, x \in R.$

b)  $[\cosh x]' = \left[ \frac{e^x + e^{-x}}{2} \right]' = \frac{e^x - e^{-x}}{2} = \sinh x, x \in R.$

c)  $[\operatorname{tgh} x]' = \left[ \frac{\sinh x}{\cosh x} \right]' = \frac{\cosh x \cosh x - \sinh x \sinh x}{[\cosh x]^2} = \frac{\cosh^2 x - \sinh^2 x}{[\cosh x]^2} = \frac{1}{\cosh^2 x}, x \in R.$

d)  $[\operatorname{cotgh} x]' = \left[ \frac{\cosh x}{\sinh x} \right]' = \frac{\sinh x \sinh x - \cosh x \cosh x}{[\sinh x]^2} = \frac{\sinh^2 x - \cosh^2 x}{[\sinh x]^2} = \frac{-1}{\sinh^2 x}, x \in R. \blacksquare$

**Príklad 4.1.13.**

a)  $[\operatorname{argsinh} x]' = \frac{1}{[\sinh y]'} = \frac{1}{\cosh y} = \frac{1}{\sqrt{1+\sinh^2 y}} = \frac{1}{\sqrt{1+[\sinh \operatorname{argsinh} x]^2}} = \frac{1}{\sqrt{1+x^2}}, x \in R.$

b)  $[\operatorname{argcosh} x]' = \frac{1}{[\sinh y]'} = \frac{1}{\cosh y} = \frac{1}{\sqrt{\cosh^2 y - 1}} = \frac{1}{\sqrt{[\cosh \operatorname{argcosh} x]^2 - 1}} = \frac{1}{\sqrt{x^2 - 1}}, x \in (1; \infty).$

c)  $[\operatorname{argtgh} y]' = \frac{1}{[\operatorname{tgh} x]'} = \frac{1}{\frac{1}{\cosh^2 x}} = \frac{1}{\frac{1}{\cosh^2 x - \sinh^2 x}} = \frac{1}{1 - (\operatorname{tgh}(\operatorname{argtgh} y))^2} = \frac{1}{1-y^2}, x \in (-1; 1).$

$$d) [\operatorname{argcotgh} y]' = \frac{1}{[\operatorname{cotgh} x]'} = \frac{-1}{\frac{1}{\sinh^2 x}} = \frac{-1}{[\operatorname{cotgh}(\operatorname{argcotgh} y)]^2 - 1} = \frac{-1}{y^2 - 1} = \frac{1}{1 - y^2},$$

$$x \in (-\infty; -1) \cup (1; \infty). \blacksquare$$

## Cvičenia

4.1.1. Z definície vypočítajte deriváciu funkcie  $y = f(x)$ : ♣

a)  $y = 2x^2 - 5$ ,      b)  $y = \sqrt{x^2 + 1}$ ,      c)  $y = \sqrt{x - 1}$ ,      d)  $y = x - x^2$ ,  
 e)  $y = \operatorname{cotg} x$ ,      f)  $y = 2 - 3x$ ,      g)  $y = (x - 1)^{-1}$ ,      h)  $y = e^{-x}$ .

4.1.2. Nech  $f: y = 2x^2 + 1$ . Nájdite všetky body, pre ktoré platí  $f(x) = f'(x)$ . ♣

4.1.3. Určte deriváciu  $f'(x)$ , ak pre funkciu  $y = f(x)$  platí: ♣

a)  $y = 2^{-x^2}$ ,      b)  $y = e^{-\cos x}$ ,      c)  $y = \sqrt{x}$ ,      d)  $y = \sqrt[3]{x} + 1$ ,      e)  $y = 2^{\operatorname{tg} x}$ ,  
 f)  $y = x^{(e^x)}$ ,      g)  $y = x^{\sin x}$ ,      h)  $y = x^{\ln x}$ ,      i)  $y = e^{\operatorname{tg} x}$ ,      j)  $y = [\ln x]^x$ ,  
 k)  $y = e^{\sqrt{x}}$ ,      l)  $y = e^{\operatorname{arctg} x}$ ,      m)  $y = x^{x+1}$ ,      n)  $y = x^{(x^x)}$ ,      o)  $y = (x^x)^x$ ,  
 p)  $y = \frac{\sqrt[5]{4x}}{5}$ ,      q)  $y = \frac{1}{\sin^2 x}$ ,      r)  $y = \frac{1}{\sqrt[3]{2x^4}}$ ,      s)  $y = \frac{1}{\cos x}$ ,      t)  $y = \frac{\cos^2 x}{\cos x^2}$ .

4.1.4. Určte deriváciu  $f'(x)$ , ak pre funkciu  $y = f(x)$  platí: ♣

a)  $y = \frac{x}{\operatorname{tg} x}$ ,      b)  $y = \frac{x}{\operatorname{tg} e^x}$ ,      c)  $y = \frac{3^x}{2^x}$ ,      d)  $y = \frac{e^x}{x^3}$ ,      e)  $y = \operatorname{arctg} \frac{1}{x}$ ,  
 f)  $y = x^5 e^x$ ,      g)  $y = \operatorname{tg}^5 x$ ,      h)  $y = \sin x^2$ ,      i)  $y = \sqrt{e^{5x}}$ ,      j)  $y = e^{\sin x}$ ,  
 k)  $y = |x^3|$ ,      l)  $y = x|x|$ ,      m)  $y = [x]$ ,      n)  $y = 3^{2x}$ ,      o)  $y = |\cos x|$ ,  
 p)  $y = 3^{\operatorname{cotg} x}$ ,      q)  $y = x\sqrt{x}$ ,      r)  $y = x^{\cos x}$ ,      s)  $y = x^{x^2+1}$ ,      t)  $y = \ln x^3$ ,  
 u)  $y = \frac{1}{\operatorname{tg} x}$ ,      v)  $y = \frac{x^2}{\ln x}$ ,      w)  $y = \frac{1}{e^{2x}}$ ,      x)  $y = \frac{1}{\ln^2 x}$ ,      y)  $y = \frac{1}{\operatorname{arctg} x}$ .

4.1.5. Určte deriváciu  $f'(x)$ , ak pre funkciu  $y = f(x)$  platí: ♣

a)  $y = \frac{1+x}{1-x}$ ,      b)  $y = \frac{1-\cos x}{1+\cos x}$ ,      c)  $y = \sqrt[3]{\frac{1+x^3}{1-x^3}}$ ,      d)  $y = \left(\frac{1-x}{1+x}\right)^{\frac{1+x}{1-x}}$ ,  
 e)  $y = e^{-\cos^2 x}$ ,      f)  $y = \ln \cos x$ ,      g)  $y = x^{-5} + x^{-7}$ ,      h)  $y = \sqrt{x^5} - \sqrt[3]{x^4}$ ,  
 i)  $y = \ln \frac{2-x}{2+x}$ ,      j)  $y = \frac{x \ln x}{1+\ln x}$ ,      k)  $y = \ln \left| \operatorname{tg} \frac{x}{2} \right|$ ,      l)  $y = \frac{2 \sin x}{\sin x - \cos x}$ ,  
 m)  $y = \ln [1 + x^2]$ ,      n)  $y = [x^2 - 1]^3$ ,      o)  $y = e^{-x} + e^{-x^2}$ ,      p)  $y = x^5 [\ln x - 1]$ ,  
 q)  $y = \frac{1}{\sqrt{1+2x}}$ ,      r)  $y = \operatorname{arctg} \frac{1}{x}$ ,      s)  $y = \frac{e^x + 1}{e^x - 1}$ ,      t)  $y = \operatorname{arctg} \frac{x-1}{x+1}$ .

4.1.6. Určte deriváciu  $f'(x)$ , ak pre funkciu  $y = f(x)$  platí: ♣

a)  $y = \sin \frac{1}{x^2}$ ,      b)  $y = \frac{x^2 + x + 1}{x - 1}$ ,      c)  $y = \frac{e^x - e^{-x}}{e^x + e^{-x}}$ ,      d)  $y = \frac{1 - \sin x}{\sin x + \cos x}$ ,  
 e)  $y = e^{\sin x + \cos x}$ ,      f)  $y = \sqrt{1 - x^4}$ ,      g)  $y = \operatorname{cotg} \sqrt{x}$ ,      h)  $y = (1 - x^2)^{20}$ ,  
 i)  $y = \frac{x^2 - 1}{x^2 + 1}$ ,      j)  $y = \frac{\sqrt{x}}{1 + 2\sqrt{x}}$ ,      k)  $y = \frac{1 - x^2}{\sqrt{x}}$ ,      l)  $y = \frac{x^3}{1 + x + x^2}$ ,  
 m)  $y = x^2 e^{-\frac{1}{x}}$ ,      n)  $y = x^2 e^x \sin x$ ,      o)  $y = x e^{-x^2}$ ,      p)  $y = \operatorname{arccotg} \sqrt{x}$ .

4.1.7. Určte deriváciu  $f'(x)$ , ak pre funkciu  $y = f(x)$  platí: ♣

a) $y = \operatorname{tg} \frac{1+x}{x}$ ,	b) $y = \frac{\sin x}{1-\cos x}$ ,	c) $y = \frac{\cos x}{1+\cos x}$ ,	d) $y = \sqrt{\frac{1-\sqrt{x}}{1+\sqrt{x}}}$ ,
e) $y = \ln^4 [x^2 + 1]$ ,	f) $y = \ln  \sin 2x $ ,	g) $y = x \sinh x$ ,	h) $y = \ln \operatorname{arccotg} x^2$ ,
i) $y = \frac{1+\cos 2x}{1-\cos 2x}$ ,	j) $y = \ln \frac{x^8-1}{x^8+1}$ ,	k) $y = \arccos \ln \frac{1}{x}$ ,	l) $y = \arccos \frac{3x-1}{4}$ ,
m) $y = [\sin x]^{\cos x}$ ,	n) $y = [\cos x]^{\sin x}$ ,	o) $y = [\cosh x]^{\ln x}$ ,	p) $y = [x^2 + 1]^{\operatorname{arctg} x}$ ,
q) $y = [\operatorname{tg} x]^{\operatorname{cotg} x}$ ,	r) $y = 3^{\ln [x^2+x+1]}$ ,	s) $y = x^2 \ln x - x^3$ ,	t) $y = x + 5 \cos^2 x$ .

4.1.8. Určte deriváciu  $f'(x)$ , ak pre funkciu  $y = f(x)$  platí: ♣

a) $y = \arccos \ln x$ ,	b) $y = \ln \sin e^{2x}$ ,	c) $y =  x^2 - 1 $ ,	d) $y = \arcsin \ln x$ ,
e) $y = x \arcsin x$ ,	f) $y = e^x \cos x$ ,	g) $y = (x-1)e^x$ ,	h) $y = \ln \ln \ln \ln x$ ,
i) $y = \ln  x^2 - 1 $ ,	j) $y = \ln (x^2 - 1)$ ,	k) $y = \operatorname{tgh} x - x$ ,	l) $y = \ln \arcsin 5x$ ,
m) $y = \ln \sin x$ ,	n) $y = \ln \arcsin x$ ,	o) $y = \operatorname{argtgh} \operatorname{tg} x$ ,	p) $y = \operatorname{arccotg} \ln x$ ,
q) $y = \frac{\operatorname{argsinh} x}{x}$ ,	r) $y = \frac{x^2}{\cosh x}$ ,	s) $y = \frac{\operatorname{arccos} x}{\sqrt{1-x^2}}$ ,	t) $y = \operatorname{arccotg} \ln \frac{1}{x}$ .

4.1.9. Určte deriváciu  $f'(x)$ , ak pre funkciu  $y = f(x)$  platí: ♣

a) $y = x - \sin x \cos x$ ,	b) $y = x^2 \sqrt{x} - x \sqrt[3]{x^2}$ ,	c) $y = e^{-x} [x^4 + x^2 + 1]$ ,
d) $y = \arcsin^2 \frac{1}{x-1}$ ,	e) $y = \frac{\sin x - \sinh x}{\cos x - \cosh x}$ ,	f) $y = \operatorname{arctg} \frac{\cos x}{1+\sin x}$ ,
g) $y = \operatorname{argtgh} \frac{2x}{x^2+1}$ ,	h) $y = \operatorname{arccotg} \frac{1}{x^2+1}$ ,	i) $y = \frac{1}{x^3+1} + \ln \frac{x^3}{x^3+1}$ ,
j) $y = \frac{\operatorname{argcotg} x}{1-x^2}$ ,	k) $y = \ln \cos \frac{x-1}{x}$ ,	l) $y = \sqrt[3]{\sin^2 x} + \frac{1}{\cos^2 x}$ ,
m) $y = \operatorname{arccotg} \frac{3 \operatorname{tg} x + 2}{x}$ ,	n) $y = \frac{\cos x}{\sin^2 x} + \operatorname{cotg} x$ ,	o) $y = \frac{\arcsin x}{\arccos x} + \frac{\arccos x}{\arcsin x}$ .

4.1.10. Určte deriváciu  $f'(x)$ , ak pre funkciu  $y = f(x)$  platí: ♣

a) $y = \operatorname{arccotg} \operatorname{tg} x$ ,	b) $y = \operatorname{arctg} \operatorname{cotg} x$ ,	c) $y = \arcsin \sin x$ ,
d) $y = \ln \frac{(x-1)^2(x-2)}{x-3}$ ,	e) $y = \ln \frac{x^2-2x+1}{x^2+x+1}$ ,	f) $y = \ln \cos \sqrt{x^2+1}$ ,
g) $y = \frac{1}{3 \cos^2 x} - \frac{1}{\cos x}$ ,	h) $y = \arcsin \frac{x}{\sqrt{x^2+1}}$ ,	i) $y = \frac{2\sqrt{x^3}}{3} [3 \ln x - 2]$ ,
j) $y = \arcsin \cos x$ ,	k) $y = \sqrt{\operatorname{cotg} x} - \sqrt{\operatorname{tg} x}$ ,	l) $y = x \sin [\ln x - \pi]$ ,
m) $y = \arccos \sqrt{x+1}$ ,	n) $y = \sqrt{\cos x} e^{\sqrt{x+1}}$ ,	o) $y = \sqrt{1 + \arcsin x}$ .

4.1.11. Určte jednostranné derivácie  $f'_-(0)$ ,  $f'_+(0)$ , ak pre funkciu  $y = f(x)$  platí: ♣

a) $y =  \sin x $ ,	b) $y =  \sin x^2 $ ,	c) $y = \sqrt{\sin x^2}$ ,	d) $y = [x] \sin x$ ,
e) $y = \begin{cases} x^2 \sin \frac{1}{x}, & \text{pre } x \neq 0, \\ 0, & \text{pre } x = 0, \end{cases}$	f) $y = \begin{cases} x \sin \frac{1}{x}, & \text{pre } x \neq 0, \\ 0, & \text{pre } x = 0, \end{cases}$		
g) $y = \begin{cases} x, & \text{pre } x < 0, \\ \ln(x+1), & \text{pre } x \geq 0, \end{cases}$	h) $y = \begin{cases} 1-x, & \text{pre } x \leq 0, \\ e^{-x}, & \text{pre } x > 0. \end{cases}$		

4.1.12. Nech  $f$  je reálna funkcia. Dokážte, že platí:

- a) Ak  $f$  je nepárna, potom  $f'$  je párna.      b) Ak  $f$  je párna, potom  $f'$  je nepárna.  
c) Ak  $f$  je periodická s periódou  $p$ , potom  $f'$  je periodická s periódou  $p$ .

4.1.13. Nájdite rovnicu dotyčnice ku grafu funkcie  $y = f(x)$  v bode  $x_0$ , ak: ♣

- a)  $y = x^2$ ,  $x_0 = 2$ ,      b)  $y = \frac{12}{x}$ ,  $x_0 = 3$ ,      c)  $y = \sqrt{x}$ ,  $x_0 = 4$ ,  
 d)  $y = x^2 + 2x$ ,  $x_0 = 1$ ,      e)  $y = \ln(x + 1)$ ,  $x_0 = 0$ ,      f)  $y = \cos 2x$ ,  $x_0 = 0$ ,  
 g)  $y = \sin 2x$ ,  $x_0 = 0$ ,      h)  $y = e^x - 1$ ,  $x_0 = 1$ ,      i)  $y = \frac{1}{1+x^2}$ ,  $x_0 = 3$ .

4.1.14. Nájdite rovnicu dotyčnice ku grafu funkcie  $y = x^2 - 2x + 3$  tak, aby bola: ♣

- a) rovnobežná s priamkou  $3x - y + 5 = 0$ ,      b) kolmá na priamku  $x + y - 1 = 0$ ,  
 c) prechádzala bodom  $[0; 0]$ ,      d) prechádzala bodom  $[a; b]$ ,  $a, b \in \mathbb{R}$ .  
 e) zvierala s osou  $x$  uhol  $\frac{\pi}{4}$ ,      f) zvierala s osou  $y$  uhol  $\varphi \in (0; \frac{\pi}{2})$ .

4.1.15. Nájdite rovnicu normály ku grafu funkcie  $y = x^2 - 2x + 3$  tak, aby bola: ♣

- a) rovnobežná s priamkou  $3x - y + 5 = 0$ ,      b) kolmá na priamku  $x + y - 1 = 0$ ,  
 c) prechádzala bodom  $[1; 3]$ ,      d) zvierala s osou  $y$  uhol  $\frac{\pi}{4}$ .

4.1.16. Určte všetky dotyčnice ku grafu funkcie  $y = f(x)$ , ktoré sú rovnobežné s osou  $x$ . Určte body, v ktorých sa dotýkajú grafu funkcie  $f$ , ak:

- a)  $y = \sin(x + 1)$ ,      b)  $y = \cos 2x$ ,      c)  $y = \ln(x + 1)$ ,      d)  $y = x^3 - x$ ,  
 e)  $y = \frac{\ln x}{x}$ ,      f)  $y = \sqrt{1 - x^2}$ ,      g)  $y = x \ln x$ ,      h)  $y = \frac{e^x}{x}$ .

## 4.2 Diferenciál funkcie a derivácie vyšších rádov

### 4.2.1 Diferenciál funkcie

Často potrebujeme aproximovať (t. j. približne vyjadriť) danú funkciu  $f$  nejakou inou, jednoduchšou funkciou  $g$  tak, aby bol ich rozdiel  $|f(x) - g(x)|$  čo najmenší. Väčšinou nám postačí **lokálna aproximácia** v nejakom okolí bodu  $x_0 \in D(f)$ .

Nech  $y = f(x)$ ,  $x \in D(f)$  a nech  $x_0 \in D(f)$  je vnútorný bod. Hľadáme funkciu  $y = g(x)$ ,  $x \in O(x_0)$ ,  $O(x_0) \subset D(f)$ , spojitú v bode  $x_0$  tak, aby platilo:

$$f(x_0) = g(x_0), \quad \lim_{x \rightarrow x_0} \frac{|f(x) - g(x)|}{|x - x_0|} = 0. \quad (4.2)$$

To znamená, že  $|f(x) - g(x)| \rightarrow 0$  rýchlejšie ako  $|x - x_0| \rightarrow 0$ . Graficky si to môžeme predstaviť tak, že v okolí  $O(x_0)$  sú grafy  $f$ ,  $g$  „blízko pri sebe“ a v bode  $x_0$  sa dotýkajú.

Ako  $g$  sa najčastejšie používa lineárna funkcia, ktorá prechádza bodom  $[x_0; f(x_0)]$ , t. j.

$$g(x) = f(x_0) + a(x - x_0), \quad \text{kde } a \in \mathbb{R}.$$

Po dosadení do výrazu (4.2) a substitúcií  $x = x_0 + h$ ,  $x - x_0 = h$ ,  $h \rightarrow 0$  dostaneme:

$$\lim_{x \rightarrow x_0} \frac{|f(x) - g(x)|}{|x - x_0|} = \lim_{x \rightarrow x_0} \frac{|f(x) - f(x_0) - a(x - x_0)|}{|x - x_0|} = \lim_{h \rightarrow 0} \left| \frac{f(x_0 + h) - f(x_0) - ah}{h} \right| = 0. \quad (4.3)$$

Lineárna funkcia  $\lambda(h) = ah$ , ktorá vyhovuje limite (4.3), sa nazýva **diferenciál funkcie  $f$  v bode  $x_0$**  a označuje  $df(x_0)$ . Funkcia  $f$  sa nazýva **diferencovateľná v bode  $x_0$** .

Diferenciál  $df(x_0)$  je lineárna funkcia s argumentom  $h$  a je definovaná na množine  $R$ . Namiesto  $df(x_0)(h)$  stručne píšeme  $df(x_0, h)$ . Potom platí:

$$\lambda(h) = df(x_0)(h) = df(x_0, h) = ah, \quad \text{resp.} \quad df(x_0, h) = df(x_0, x-x_0) = a(x-x_0).$$

Ak je funkcia  $y = f(x)$ ,  $x \in D(f)$  diferencovateľná v každom bode množiny  $A \subset D(f)$ , potom ju nazývame **diferencovateľná funkcia na množine  $A$** .

#### Poznámka 4.2.1.

Ak je funkcia  $f$  diferencovateľná na množine  $A$ , potom diferenciál  $df(x, h)$  môžeme považovať nielen za funkciu premennej  $h$ , ale aj za funkciu premennej  $x \in A$  (t. j. dvoch nezávislých premenných). Stručne ho označujeme  $df(x)$ ,  $x \in A$ , resp.  $df$ .

#### Veta 4.2.1 (Existencia a jednoznačnosť diferenciálu).

$f$  má v bode  $x_0 \in D(f)$  diferenciál  $\iff$  existuje konečná  $f'(x_0)$ .

Diferenciál je jednoznačne určený vzťahom  $df(x_0, h) = f'(x_0) \cdot h$ ,  $h \in R$ .

#### Dôkaz.

$NP \Rightarrow$ : existuje  $df(x_0, h) = ah \xrightarrow{(4.3)}$

$$\lim_{h \rightarrow 0} \frac{f(x_0+h) - f(x_0) - ah}{h} = \lim_{h \rightarrow 0} \frac{f(x_0+h) - f(x_0)}{h} - \lim_{h \rightarrow 0} \frac{ah}{h} = f'(x_0) - a = 0 \Rightarrow$$

existuje  $f'(x_0) = a \Rightarrow df(x_0, h) = ah = f'(x_0)h$  (jednoznačne určený).

$$PP \Leftarrow: f'(x_0) = \lim_{h \rightarrow 0} \frac{f(x_0+h) - f(x_0)}{h} \text{ je konečná} \Rightarrow 0 = \lim_{h \rightarrow 0} \left[ \frac{f(x_0+h) - f(x_0)}{h} - f'(x_0) \right] \Rightarrow$$

$$0 = \lim_{h \rightarrow 0} \left| \frac{f(x_0+h) - f(x_0)}{h} - f'(x_0) \right| = \lim_{h \rightarrow 0} \left| \frac{f(x_0+h) - f(x_0) - f'(x_0)h}{h} \right| \Rightarrow$$

existuje  $df(x_0, h) = f'(x_0)h$ ,  $h \in R$ . ■

#### Príklad 4.2.1.

Vypočítajte diferenciál funkcie  $f: y = x^3$  v bode  $x_0 = 2$ .

#### Riešenie.

$$df(x_0, h) = f'(x_0)h = 3x_0^2h \Rightarrow df(2, h) = f'(2)h = 3 \cdot 2^2h = 12h, \quad h \in R.$$

Tento výsledok dostaneme tiež priamo z definície diferenciálu. Je nutné ale poznamenať, že aj tu prakticky počítame hodnotu  $f'(2)$ . Zo vzťahu (4.3) vyplýva:

$$0 = \lim_{h \rightarrow 0} \frac{(2+h)^3 - 2^3 - ah}{h} = \lim_{h \rightarrow 0} \frac{8+12h+6h^2+h^3-8-ah}{h} = \lim_{h \rightarrow 0} [12+6h-h^2-a] = 12-a \Rightarrow$$

$$a = 12 \Rightarrow df(2, h) = 12h, \quad h \in R. \quad \blacksquare$$

Pre diferenciál identickej funkcie  $f: y = x$  v bode  $x_0 \in R$  platí:

$$df(x_0, h) = f'(x_0)h = 1 \cdot h = h = (x_0+h) - x_0, \quad h \in R.$$

To znamená, že diferenciál identity sa rovná prírastku premennej  $x$ . Označuje sa  $dx$ .

Uvažujme funkciu  $y = f(x)$ , ktorá je diferencovateľná v bode  $x_0$ . Potom platí:

$$df(x_0, h) = f'(x_0)h = f'(x_0) dx \Rightarrow f'(x_0) = \frac{df(x_0, h)}{h} = \frac{df(x_0, h)}{dx}, \quad h \in R.$$

To znamená, že deriváciu  $f'(x_0)$  môžeme chápať ako podiel diferenciálu funkcie a diferenciálu premennej v tomto bode  $x_0$  a má zmysel označenie vo výraze (4.1):

$$f'(x_0) = \frac{df(x_0)}{dx} = \frac{dy(x_0)}{dx}, \quad \text{resp. } f' = \frac{df}{dx} = \frac{dy}{dx}.$$

## 4.2.2 Využitie diferenciálu na približné výpočty

Nech  $y = f(x)$ ,  $x \in D(f)$  je diferencovateľná funkcia v bode  $x_0 \in D(f)$ . Ak označíme

$$\omega(h) = f(x_0+h) - f(x_0) - f'(x_0)h = f(x_0+h) - f(x_0) - df(x_0, h),$$

potom zo vzťahu (4.3) vyplýva  $\lim_{h \rightarrow 0} \frac{f(x_0+h) - f(x_0) - f'(x_0)h}{h} = \lim_{h \rightarrow 0} \frac{\omega(h)}{h} = 0$ .

Pre **prírastok funkcie  $f$  od bodu  $x_0$  po  $x_0 + h$**  potom platí:

$$\Delta f(x_0, h) = f(x_0 + h) - f(x_0) = df(x_0, h) + \omega(h) = f'(x_0)h + \omega(h).$$

Výraz  $\omega(h)$  nazývame<sup>2</sup> **zvyšok prírastku**.

Funkciu  $f$  aproximujeme v bode  $x = x_0 + h$  v tvare:

$$f(x_0 + h) \approx f(x_0) + df(x_0, h) = f(x_0) + f'(x_0)h, \quad \text{kde } \lim_{h \rightarrow 0} \frac{\omega(h)}{h} = 0. \quad (4.4)$$

Ak položíme  $h = x - x_0$ ,  $x = x_0 + h$ ,  $\omega(x) = f(x) - f(x_0) - f'(x_0)(x - x_0)$  potom platí:

$$f(x) \approx f(x_0) + df(x_0, x - x_0) = f(x_0) + f'(x_0)(x - x_0), \quad \lim_{x \rightarrow x_0} \frac{\omega(x)}{x - x_0} = 0.$$

### Veta 4.2.2 (O najlepšej lokálnej lineárnej aproximácii).

$f$  je diferencovateľná v bode  $x_0 \in D(f)$ ,  $c \in R$ ,  $c \neq f'(x_0)$ ,

$$\varphi: y = f(x_0) + c(x - x_0), \quad g: y = f(x_0) + f'(x_0)(x - x_0) \implies$$

existuje  $O(x_0)$  tak, že pre všetky  $x \in O(x_0)$ ,  $x \neq x_0$  platí:  $|f(x) - g(x)| < |f(x) - \varphi(x)|$ .

#### Dôkaz.

$$\varphi(x_0) = g(x_0) = f(x_0), \quad c \neq f'(x_0) \Rightarrow$$

$$\left. \begin{aligned} \lim_{x \rightarrow x_0} \left| \frac{f(x) - \varphi(x)}{x - x_0} \right| &= \lim_{x \rightarrow x_0} \left| \frac{f(x) - f(x_0)}{x - x_0} - \frac{c(x - x_0)}{x - x_0} \right| = |f'(x_0) - c| > 0 \\ \lim_{x \rightarrow x_0} \left| \frac{f(x) - g(x)}{x - x_0} \right| &= \lim_{x \rightarrow x_0} \left| \frac{f(x) - f(x_0) - f'(x_0)(x - x_0)}{x - x_0} \right| = \lim_{x \rightarrow x_0} \left| \frac{\omega(x)}{x - x_0} \right| = 0 \end{aligned} \right\} \Rightarrow$$

$$\Rightarrow \lim_{x \rightarrow x_0} \left| \frac{f(x) - g(x)}{x - x_0} \right| < \lim_{x \rightarrow x_0} \left| \frac{f(x) - \varphi(x)}{x - x_0} \right| \xrightarrow{\text{veta 3.2.7}}$$

Existuje okolie  $O(x_0)$  také, že pre všetky  $x \in O(x_0)$ ,  $x \neq x_0$  platí:

$$\frac{|f(x) - g(x)|}{|x - x_0|} < \frac{|f(x) - \varphi(x)|}{|x - x_0|} \Rightarrow |f(x) - g(x)| < |f(x) - \varphi(x)|. \quad \blacksquare$$

<sup>2</sup>Zvyšok prírastku má význam chyby pri nahradení prírastku  $\Delta f(x_0, h)$  diferenciálom  $df(x_0, h)$ .



Z predchádzajúcej vety vyplýva, že aproximácia pomocou dotyčnice v bode  $x_0$ :

$$g: y = f(x_0) + f'(x_0)(x - x_0) = f(x_0) + f'(x_0)h, \quad x \in P(x_0)$$

je najlepšia zo všetkých lineárnych aproximácií funkcie  $f$ . Táto aproximácia má iba lokálny význam v nejakom okolí  $O(x_0)$ , ale nie na celom  $D(f)$ .

#### Príklad 4.2.2.

Približne vypočítajte  $\sqrt[6]{1,06}$ .

#### Riešenie.

Označme  $x_0 = 1$ ,  $f(x) = \sqrt[6]{x}$ ,  $x > 0 \Rightarrow f'(x) = [x^{1/6}]' = \frac{1}{6}x^{-5/6}$ ,  $x > 0$ .

Nech okolie  $O(1)$  je také, že  $1,06 \in O(1)$ , potom platí:

$$\sqrt[6]{x} = f(x) \approx f(1) + f'(1)(x-1) = 1 + \frac{1}{6}(x-1) = \frac{x+5}{6} \Rightarrow \sqrt[6]{1,06} \approx \frac{1,06+5}{6} = \frac{6,06}{6} = 1,01.$$

Presná hodnota je  $\sqrt[6]{1,06} = 1,0097588$ . Chyba výpočtu je menšia ako 0,00025.

#### Iné riešenie.

Označme  $f(x) = \sqrt[6]{x+1}$ ,  $x > -1 \Rightarrow f'(x) = \frac{(x+1)^{-5/6}}{6}$ ,  $x > -1$ .

Nech  $x_0 = 0$ ,  $h = 0,06$  a nech  $O(0)$  je také, že  $0,06 \in O(0)$ . Potom v okolí  $O(0)$  platí:

$$\sqrt[6]{1+h} = f(0+h) \approx f(0) + f'(0)h = 1 + \frac{h}{6} = \frac{6+h}{6} \Rightarrow \sqrt[6]{1,06} \approx \frac{6+0,06}{6} = 1,01. \blacksquare$$

Vzťah  $\sqrt[6]{x} \approx \frac{x+5}{6}$  má zmysel iba pre hodnoty  $x$  nachádzajúce sa v blízkosti bodu 1. Ako dokazuje tabuľka 4.2.2, pri neuváženom použití tohto vzťahu môže chyba približného výpočtu narásť do neprijateľných rozmerov.

$x$	$\sqrt[6]{x}$	$(x+5)/6$	chyba	$x$	$\sqrt[6]{x}$	$(x+5)/6$	chyba
0,1	0,6812920	0,8500000	> 0,16870	1,3	1,0446975	1,0500000	< 0,00531
0,3	0,8181888	0,8833333	< 0,06515	1,5	1,0699132	1,0833333	< 0,01343
0,5	0,8908987	0,9166666	< 0,02577	2,0	1,1224620	1,1666667	< 0,04421
0,7	0,9422865	0,9500000	< 0,00772	3,0	1,2009369	1,3333333	> 0,13239
0,8	0,9634924	0,9666666	< 0,00312	5,0	1,3076605	1,6666667	> 0,35900
0,9	0,9825931	0,9833333	< 0,00075	10	1,4677993	2,5000000	> 1,03220
1,1	1,0160119	1,0166667	< 0,00066	20	1,6475490	4,1666667	> 2,51911
1,2	1,0308533	1,0333333	< 0,00249	64	2,0000000	11,5000000	= 9,50000

Tabuľka 4.2.2: Výpočet  $\sqrt[6]{x}$  pomocou približného vzorca  $\frac{x+5}{6}$

Nech  $y$  je veličina závislá od  $x$  podľa vzorca  $y = f(x)$ . Predpokladajme, že sme veličinu  $x$  namerali s chybou  $\Delta x$ , ktorá je v porovnaní s  $x$  malá. Túto chybu nazývame **absolútna chyba veličiny  $x$** . **Absolútnu chybu  $\Delta y$  závislej veličiny  $y$**  môžeme potom vyjadriť ako diferenciál  $df(x, h) = df(x, \Delta x)$ .

Nech  $O(x)$  je také, že  $x + \Delta x \in O(x)$ , t. j.  $\Delta x \in O(0)$ . Potom pre  $\Delta x \in O(0)$  platí:

$$f(x + \Delta x) \approx f(x) + f'(x)\Delta x = f(x) + df(x, \Delta x) \Rightarrow \Delta y = f(x + \Delta x) - f(x) = f'(x)\Delta x = df(x, \Delta x).$$

Chyby sa spravidla vyjadrujú ako **relatívne (pomerné)** v tvare:  $\delta_x = \frac{\Delta x}{x}$ , resp.  $\delta_y = \frac{\Delta y}{y}$ .

**Príklad 4.2.3.**

Áká je chyba pre objem gule, ak sme jej polomer  $r$  namerali s absolútnou chybou  $\Delta r$ ?

**Riešenie.**

$V(r) = \frac{4\pi r^3}{3}$ ,  $\delta_r = \frac{\Delta r}{r} \Rightarrow$  pre absolútnu chybu  $\Delta V$  a relatívnu chybu  $\delta_V$  platí:

$$\Delta V \approx V'(r)\Delta r = \left[\frac{4\pi r^3}{3}\right]' \Delta r = \frac{4\pi}{3} 3r^2 \Delta r = 4\pi r^2 \Delta r, \quad \delta_V = \frac{\Delta V}{V} \approx \frac{4\pi r^2 \Delta r}{\frac{4\pi r^3}{3}} = \frac{3\Delta r}{r} = 3\delta_r. \blacksquare$$

**4.2.3 Derivácia a diferenciál vyšších rádov**

Nech má funkcia  $y = f(x)$ ,  $x \in D(f)$  deriváciu na množine  $A_1 \subset D(f)$ ,  $A_1 \neq \emptyset$ . Ak má  $y = f'(x)$ ,  $x \in A_1$  deriváciu  $[f']'$  na  $A_2 \subset A_1$ ,  $A_2 \neq \emptyset$ , potom ju nazývame **derivácia druhého rádu (druhá derivácia) funkcie  $f$  na množine  $A_2$**  a označujeme  $f'' = f^{(2)}$ .

Ak má  $y = f''(x)$ ,  $x \in A_2$  deriváciu  $[f'']'$  na  $A_3 \subset A_2$ ,  $A_3 \neq \emptyset$ , potom ju nazývame **derivácia tretieho rádu (tretia derivácia) funkcie  $f$  na množine  $A_3$**  a označujeme  $[f'']' = f''' = f^{(3)}$ . Takto môžeme pokračovať pre  $n = 4, 5, 6, \dots$ .

Predpokladajme, že má funkcia  $f$  deriváciu  $f^{(n-1)}$  na množine  $A_{n-1} \neq \emptyset$ . Jej deriváciu na množine  $A_n \subset A_{n-1}$ ,  $A_n \neq \emptyset$  nazývame **derivácia  $n$ -tého rádu ( $n$ -tá derivácia) funkcie  $f$  na množine  $A_n$**  a označujeme  $[f^{(n-1)}]' = f^{(n)}$ .

Hodnotu derivácie  $f^{(n)}(x_0)$  v bode  $x_0 \in A_n$  nazývame **derivácia  $n$ -tého rádu ( $n$ -tá derivácia) funkcie  $f$  v bode  $x_0$** .

Derivácie  $f^{(n)}$ ,  $n \in \mathbb{N}$  nazývame **deriváciami vyššieho rádu**. Špeciálne  $f' = f^{(1)}$  nazývame **prvou deriváciou (deriváciou prvého rádu)** a  $f = f^{(0)}$  nazývame **nultou deriváciou (deriváciou nultého rádu) funkcie  $f$** .

Z definície vyplýva, že  $y = f(x)$  má v bode  $x_0 \in A$  deriváciu  $f^n(x_0)$ , ak existuje:

$$f^{(n)}(x_0) = \lim_{x \rightarrow x_0} \frac{f^{(n-1)}(x) - f^{(n-1)}(x_0)}{x - x_0} = \lim_{h \rightarrow 0} \frac{f^{(n-1)}(x_0 + h) - f^{(n-1)}(x_0)}{h}.$$

To znamená, že funkcia  $f^{(n-1)}$  musí byť definovaná v nejakom okolí  $O(x_0)$ .

Výpočet derivácie  $f^{(n)}$  môže byť vo všeobecnosti veľmi prácny, pretože musíme začať deriváciou  $f'$ . Ako dokazujú nasledujúce príklady, niekedy sa dajú  $f^{(n)}$  odvodiť pomerne jednoducho. Vzorce pre elementárne funkcie sú uvedené v tabuľke 4.2.3.

**Príklad 4.2.4.**

a)  $y = x^k$ ,  $x \in \mathbb{R}$ ,  $k \in \mathbb{N} \Rightarrow$  pre  $x \in \mathbb{R}$ ,  $n \in \mathbb{N}$  platí:

$$[x^k]' = kx^{k-1}, \quad [x^k]'' = k(k-1)x^{k-2}, \quad \dots, \quad [x^k]^{(k-1)} = k(k-1) \dots 2x, \quad [x^k]^{(k)} = k!, \\ [x^k]^{(n)} = k(k-1) \dots (k-n+1)x^{k-n}, \quad 2 \leq n \leq k, \quad [x^k]^{(n)} = 0, \quad n > k.$$

b)  $y = e^x$ ,  $x \in \mathbb{R} \Rightarrow [e^x]^{(n)} = e^x$ ,  $n \in \mathbb{N}$ .

c)  $s: y = \sin x$ ,  $x \in \mathbb{R}$ ,  $c: y = \cos x$ ,  $x \in \mathbb{R} \Rightarrow$  pre  $x \in \mathbb{R}$ ,  $n \in \mathbb{N}$  platí:

$$s': \cos x, \quad s'': -\sin x, \quad s''': -\cos x, \quad s''': \sin x, \quad s^{(5)}: \cos x, \quad s^{(6)}: -\sin x, \dots \Rightarrow$$

$$[\sin x]^{(n)} = [\sin x]^{(n+4)} = [\sin x]^{(n+4k)} = \begin{cases} (-1)^k \sin x, & n = 2k, \\ (-1)^{k+1} \cos x, & n = 2k-1, \quad k \in \mathbb{N}. \end{cases}$$

$$c': -\sin x, \quad c'': -\cos x, \quad c''': \sin x, \quad c''': \cos x, \quad c^{(5)}: -\sin x, \quad c^{(6)}: -\cos x, \dots \Rightarrow$$

$$[\cos x]^{(n)} = [\cos x]^{(n+4)} = [\cos x]^{(n+4k)} = \begin{cases} (-1)^k \cos x, & n = 2k, \\ (-1)^k \sin x, & n = 2k-1, \quad k \in \mathbb{N}. \blacksquare \end{cases}$$

Vzorec	Podmienky platnosti	Vzorec	Podmienky platnosti
$[x^k]^{(n)} = 0,$	$x \in R, k \in N, k > n$	$[x^k]^{(n)} = k(k-1) \cdots (k-n+1)x^{k-n},$	$x \in R, k \in N, k < n$
$[x^n]^{(n)} = n!,$	$x \in R$	$[x^a]^{(n)} = a(a-1) \cdots (a-n+1)x^{a-n},$	$x > 0, a \in R$
$[e^x]^{(n)} = e^x,$	$x \in R$	$[a^x]^{(n)} = a^x \ln^n a,$	$x \in R, a > 0$
$[\ln x]^{(n)} = \frac{(-1)^{n-1}(n-1)!}{x^n},$	$x > 0$	$[\log_a x]^{(n)} = \frac{(-1)^{n-1}(n-1)!}{x^n \ln a},$	$x > 0, a > 0, a \neq 1$
$[\ln  x ]^{(n)} = \frac{(-1)^{n-1}(n-1)!}{x^n},$	$x \neq 0$	$[\log_a  x ]^{(n)} = \frac{(-1)^{n-1}(n-1)!}{x^n \ln a},$	$x \neq 0, a > 0, a \neq 1$
$[\sin x]^{(n)} = \sin(x + \frac{n\pi}{2}),$	$x \in R$	$[\sinh x]^{(n)} = \begin{cases} \sinh x, & n = 2k, \\ \cosh x, & n = 2k+1, \end{cases}$	$x \in R, k \in N$
$[\cos x]^{(n)} = \cos(x + \frac{n\pi}{2}),$	$x \in R$	$[\cosh x]^{(n)} = \begin{cases} \cosh x, & n = 2k, \\ \sinh x, & n = 2k+1, \end{cases}$	$x \in R, k \in N$

Tabuľka 4.2.3: Derivácie  $f^{(n)}$ ,  $n \in N$  základných elementárnych funkcií**Veta 4.2.3 (Leibnizov vzorec).**

$f, g$  majú na množine  $A$  derivácie do rádu  $n \in N$  vrátane  $\implies$

$$[fg]^{(n)} = \sum_{i=0}^n \binom{n}{i} f^{(n-i)} g^{(i)} = \binom{n}{0} f^{(n)} g^{(0)} + \binom{n}{1} f^{(n-1)} g^{(1)} + \cdots + \binom{n}{n} f^{(0)} g^{(n)}.$$

**Dôkaz.**

Veta sa dokáže matematickou indukciou. Dôkaz prenechávame na čitateľa.

**Príklad 4.2.5.**

Nech  $f: y = e^x x^2$ ,  $x \in R$ . Vypočítajte  $f^{(n)}$ ,  $n \in N$ .

**Riešenie.**

$$[e^x]^{(k)} = e^x, k \in N, [x^2]' = 2x, [x^2]'' = 2, [x^2]^{(3)} = [x^2]^{(4)} = \cdots = 0 \implies$$

$$[e^x x^2]' = e^x 2x + e^x x^2 = e^x(x^2 + 2x), [e^x x^2]'' = e^x(x^2 + 4x + 2),$$

$$[e^x x^2]^{(n)} = \binom{n}{0} e^x x^2 + \binom{n}{1} e^x 2x + \binom{n}{2} e^x 2 = e^x[x^2 + 2nx + 2n(n-1)], n \in N, n > 2. \blacksquare$$

Nech má funkcia  $y = f(x)$ ,  $x \in A$  konečnú deriváciu  $f^{(n)}(x_0)$  vo vnútornom bode  $x_0 \in A$ . **Diferenciálom  $n$ -tého rádu ( $n$ -tým diferenciálom) funkcie  $f$  v bode  $x_0$  nazývame:**

$$d^n f(x_0): d^n f(x_0, h) = f^{(n)}(x_0)h^n, h \in R.$$

Ak má funkcia  $f$  v bode  $x_0$  diferenciál  $n$ -tého rádu, potom ju nazývame **diferencovateľná rádu  $n$  v bode  $x_0$** . Ak je  $f$  diferencovateľná rádu  $n$  v každom bode  $x_0 \in A$ , potom ju nazývame **diferencovateľná rádu  $n$  na množine  $A$** .

Pre diferenciál prvého rádu platí  $d^1 f(x_0, h) = df(x_0, h) = f'(x_0)h$ ,  $h \in R$ .

**Poznámka 4.2.2.**

Aj diferenciál  $n$ -tého rádu  $d^n f(x, h)$  môžeme na množine  $A$  považovať za funkciu s dvomi nezávislými premennými  $A \in M$ ,  $h \in R$ . Stručne ho označujeme  $d^n f(x)$ ,  $x \in A$ , resp.  $d^n f$ .

Ak označíme  $h = x - x_0$ , potom  $d^n f(x, x - x_0) = f^{(n)}(x_0)(x - x_0)^n$ ,  $x \in R$ .  
Ak označíme  $h = dx$ , potom z definície diferenciálu  $n$ -tého rádu funkcie  $f$  vyplýva:<sup>3</sup>

$$df(x) = f^{(n)}(x_0)[dx]^n = f^{(n)}(x_0) dx^n \Rightarrow f^{(n)}(x) = \frac{d^n f(x)}{dx^n}, \quad n \in N.$$

Ak uvážime definíciu derivácie vyšších rádov funkcie  $f$ , potom pre  $n \in N$  platí:

$$f''(x) = \frac{d}{dx} \left[ \frac{df(x)}{dx} \right] = \frac{d^2 f(x)}{dx^2}, \quad \dots, \quad f^{(n)}(x) = \frac{d}{dx} \left[ \frac{d^{(n-1)} f(x)}{dx^{n-1}} \right] = \frac{d^n f(x)}{dx^n}.$$

#### Príklad 4.2.6.

Vypočítajte piaty diferenciál funkcie  $f(x) = \ln x$ ,  $x \geq 0$  v bode  $x_0 = 1$ .

#### Riešenie.

$$f'(x) = x^{-1}, \quad f''(x) = -x^{-2}, \quad f'''(x) = 2x^{-3}, \quad f^{(4)}(x) = -6x^{-4}, \quad f^{(5)}(x) = 24x^{-5} \Rightarrow$$

$$f^{(5)}(x_0) = f^{(5)}(1) = 24 \Rightarrow d^5 f(1, h) = f^{(5)}(1)h^5 = 24h^5, \quad \text{resp. } d^5 f(1) = 24 dx^5. \quad \blacksquare$$

### Cvičenia

**4.2.1.** Vypočítajte diferenciál  $df(x, h)$ , ak je funkcia  $f$  definovaná predpisom: ♣

- |                                 |                                   |                                |                                   |
|---------------------------------|-----------------------------------|--------------------------------|-----------------------------------|
| a) $y = x e^x$ ,                | b) $y = x^3 2^x$ ,                | c) $y = x^{-1}$ ,              | d) $y = \arcsin x$ ,              |
| e) $y = 2^{-\frac{\ln x}{x}}$ , | f) $y = \frac{\ln x}{\sqrt{x}}$ , | g) $y = \frac{x}{1-x}$ ,       | h) $y = \ln \frac{1-x}{1+x}$ ,    |
| i) $y = e^{-x^2}$ ,             | j) $y = x \ln x$ ,                | k) $y = \operatorname{tg} x$ , | l) $y = \operatorname{arctg} x$ . |

**4.2.2.** Kruhový výsek má polomer  $r = 30$  cm a stredový uhol  $\varphi = 60^\circ$ . Určte približne, ako sa zmení obsah kruhového výseku, ak: ♣

- a)  $r$  sa zväčší o 1 cm,      b)  $r$  sa zmenší o 1 cm,      c)  $\varphi$  zmenší o  $1^\circ$ .

**4.2.3.** Určte absolútnu a relatívnu chybu obsahu kruhu s polomerom  $r$ , ak je polomer daný s absolútnou chybou  $\Delta r$ . ♣

**4.2.4.** Pomocou diferenciálu vypočítajte približne hodnoty: ♣

- |                      |                                   |                  |                       |                                  |
|----------------------|-----------------------------------|------------------|-----------------------|----------------------------------|
| a) $\cos 61^\circ$ , | b) $\operatorname{tg} 44^\circ$ , | c) $\ln 0,9$ ,   | d) $\sqrt[4]{2000}$ , | e) $\arcsin 0,54$ ,              |
| f) $\sqrt[4]{17}$ ,  | g) $\sqrt[4]{267}$ ,              | h) $\sqrt{82}$ , | i) $\sqrt[3]{214}$ ,  | j) $\operatorname{arctg} 0,97$ , |
| k) $1,04^5$ ,        | l) $2^{1,002}$ ,                  | m) $\ln 20$ ,    | n) $\log 1001$ ,      | o) $\operatorname{arctg} 1,05$ . |

**4.2.5.** Vypočítajte deriváciu tretieho a piateho rádu funkcie  $y = f(x)$ , ak: ♣

- |                       |                       |                        |                         |
|-----------------------|-----------------------|------------------------|-------------------------|
| a) $y = x^3 \sin x$ , | b) $y = x^3 \cos x$ , | c) $y = x^3 \sin 2x$ , | d) $y = x^3 \cos 2x$ ,  |
| e) $y = e^x \sin x$ , | f) $y = e^x \cos x$ , | g) $y = x^5 \ln x$ ,   | h) $y = x e^x \sin x$ . |

**4.2.6.** Vypočítajte deriváciu  $n$ -tého rádu,  $n \in N$ , funkcie  $y = f(x)$ , ak: ♣

- |                            |                            |                              |                            |
|----------------------------|----------------------------|------------------------------|----------------------------|
| a) $y = \sin^2 x$ ,        | b) $y = \cos^3 x$ ,        | c) $y = x \sin x$ ,          | d) $y = x^{n-1} \ln x$ ,   |
| e) $y = \frac{x+1}{x-1}$ , | f) $y = \frac{x-1}{x+1}$ , | g) $y = \frac{x+\ln x}{x}$ , | h) $y = \frac{x}{x^2-1}$ , |
| i) $y = x e^x$ ,           | j) $y = x \ln x$ ,         | k) $y = x + \ln x$ ,         | l) $y = x(\ln x - 1)$ .    |

<sup>3</sup>Pre zjednodušenie sa používa zápis  $[dx]^n = dx^n$ .

**4.2.7.** Dokážte, že funkcia  $y = c_1 e^x \cos x + c_2 e^x \sin x + c_3 e^{-x} \cos x + c_4 e^{-x} \sin x$ ,  $x \in \mathbb{R}$ , kde  $c_1, c_2, c_3, c_4$  sú ľubovoľné reálne čísla spĺňa rovnicu  $y^{(4)} + 4y = 0$ .

**4.2.8.** Nech  $a > 0$ . Dokážte, že funkcia  $y = c_1 e^{ax} + c_2 e^{-ax} + c_3 \cos ax + c_4 \sin ax$ ,  $x \in \mathbb{R}$ , kde  $c_1, c_2, c_3, c_4$  sú ľubovoľné reálne čísla spĺňa rovnicu  $y^{(4)} - a^4 y = 0$ .

## 4.3 Aplikácie diferenciálneho počtu

### 4.3.1 Vety o strednej hodnote funkcie

**Vety o strednej hodnote funkcie** (Rolleho, Lagrangeova a Cauchyho) a **l'Hospitalovo pravidlo** patria medzi najčastejšie aplikácie diferenciálneho počtu.

**Veta 4.3.1.**

$f$  má vo vnútornom bode  $c \in D(f)$  lokálny extrém,  $f'(c)$  existuje  $\implies f'(c) = 0$ .

**Dôkaz.**

$f(c)$  je lokálne min  $\implies$  existuje  $O(c)$  také, že pre všetky  $x \in O(c)$  platí  $f(x) \geq f(c) \implies$

$$\left. \begin{array}{l} x < c \implies \frac{f(x)-f(c)}{x-c} \leq 0 \implies f'_-(c) = \lim_{x \rightarrow c^-} \frac{f(x)-f(c)}{x-c} \leq 0 \\ x > c \implies \frac{f(x)-f(c)}{x-c} \geq 0 \implies f'_+(c) = \lim_{x \rightarrow c^+} \frac{f(x)-f(c)}{x-c} \geq 0 \end{array} \right\} \implies f'_-(c) \leq 0 \leq f'_+(c) \implies f'(c) = 0.$$

V prípade lokálneho maxima je dôkaz analogický a prenechávame ho čitateľovi. ■

**Veta 4.3.2 (Rolle<sup>4</sup>).**

$f$  je spojitá na  $\langle a; b \rangle$ ,  $f(a) = f(b)$ , pre všetky  $x \in \langle a; b \rangle$  existuje (aj nevlastná)  $f'(x)$   
 $\implies$  existuje aspoň jedno  $c \in \langle a; b \rangle$  také, že  $f'(c) = 0$ .

**Dôkaz.**

$f$  je spojitá na  $\langle a; b \rangle \xrightarrow{\text{veta 3.3.10}} f$  nadobúda na  $\langle a; b \rangle$  svoje extrémny  $\alpha$  a  $\beta \implies$

existujú  $c_1, c_2 \in \langle a; b \rangle$  také, že  $f(c_1) = \alpha \leq f(x) \leq \beta = f(c_2)$  pre všetky  $x \in \langle a; b \rangle \implies$

a) aspoň jeden z  $c_1, c_2$  je vnútorný bod intervalu  $\langle a; b \rangle \xrightarrow{\text{veta 4.3.1}} f'(c_1) = 0$  alebo  $f'(c_2) = 0$ .

b) obidva  $c_1, c_2$  sú hraničné body intervalu  $\langle a; b \rangle \implies f(a) = f(b) = f(c_1) = f(c_2) = \alpha = \beta$   
 $\implies f$  je konštantná  $\implies$  pre všetky  $c \in \langle a; b \rangle$  platí  $f'(c) = 0$ . ■

Bod  $c \in \langle a; b \rangle$  leží na úsečke s koncovými bodmi  $a, b$ , preto sa často zvykne vyjadrovať v tvare  $c = a + \theta(b - a)$ , kde  $\theta \in (0; 1)$ .

**Veta 4.3.3 (Lagrange).**

$f$  je spojitá na  $\langle a; b \rangle$ , pre všetky  $x \in \langle a; b \rangle$  existuje (hoci aj nevlastná)  $f'(x)$

$\implies$  existuje aspoň jedno  $c \in \langle a; b \rangle$  také, že  $f'(c) = \frac{f(b)-f(a)}{b-a}$ .

**Dôkaz.**

$F(x) = [f(x) - f(a)](b - a) - [f(b) - f(a)](x - a)$ ,  $x \in \langle a; b \rangle \implies$

$F(a) = F(b) = 0$ ,  $F$  je spojitá na  $\langle a; b \rangle$ ,  $F'(x)$  existuje na  $\langle a; b \rangle \xrightarrow{\text{Rolleho veta}}$

existuje  $c \in \langle a; b \rangle$  také, že  $F'(c) = f'(c)(b - a) - [f(b) - f(a)] = 0 \implies f'(c) = \frac{f(b)-f(a)}{b-a}$ . ■

<sup>4</sup> Michel Rolle [1652–1719] — francúzsky matematik.

Lagrangeova veta sa často nazýva **veta o prírastku funkcie**, pretože

$$f'(c) = \frac{f(b)-f(a)}{b-a} \iff f(b) - f(a) = f'(c) \cdot (b - a).$$

vyjadruje prírastok funkcie  $f$  na  $\langle a; b \rangle$ . Ak označíme  $b = a + h$ , potom platí:

$$f(a + h) - f(a) = f'(a + \theta h)h, \quad \text{kde } \theta \in (0; 1).$$

Pre dostatočne malé  $h$  môžeme predpokladať  $f'(a + \theta h) \approx f'(a)$ . Potom platí:

$$f(a + h) \approx f(a) + f'(a)h = f(a) + df(a, h).$$

Tento vzťah je zhodný so vzťahom (4.4) pre lokálnu aproximáciu pomocou diferenciálu.

### Príklad 4.3.1.

Vypočítajte približne hodnotu výrazu  $\operatorname{tg} 2, 1$ .

#### Riešenie.

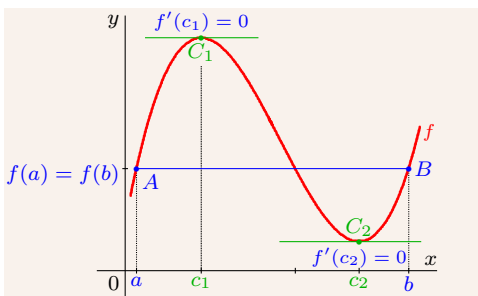
$f(x) = \operatorname{tg} x$ ,  $x \in \langle \frac{2\pi}{3}; 2, 1 \rangle$  je spojitá,  $f'(x) = \frac{1}{\cos^2 x}$ ,  $x \in \langle \frac{2\pi}{3}; 2, 1 \rangle \xrightarrow{\text{veta 4.3.3}}$

existuje  $c \in (\frac{2\pi}{3}; 2, 1)$  také, že platí:  $\operatorname{tg} \frac{2\pi}{3} - \operatorname{tg} 2, 1 = \frac{1}{\cos^2 c} (\frac{2\pi}{3} - 2, 1)$

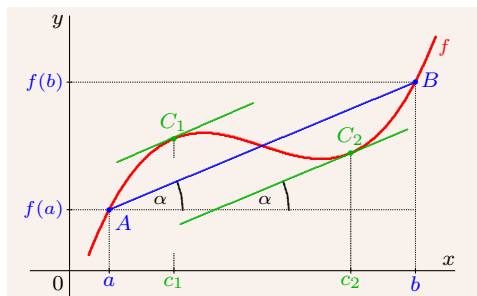
$\operatorname{tg} \frac{2\pi}{3} = -\sqrt{3}$ ,  $\cos \frac{2\pi}{3} = -\frac{1}{2}$ , položíme  $c \approx \frac{2\pi}{3}$ ,  $\sqrt{3} \approx 1, 732$ ,  $\frac{2\pi}{3} \approx 2, 094$ ,  $\cos^2 c = \frac{1}{4} \Rightarrow$

$$\operatorname{tg} 2, 1 = \operatorname{tg} \frac{2\pi}{3} - \frac{1}{\cos^2 c} (\frac{2\pi}{3} - 2, 1) \approx -1, 732 - 4(2, 094 - 2, 1) = -1, 708.$$

Po porovnaní s výpočtom kalkulačky  $-1, 709 847$ , dostaneme chybu  $0, 001 847 < 0, 01$ . ■



Obr. 4.3.6: Rolleho veta



Obr. 4.3.7: Lagrangeova veta

Rolleho a Lagrangeova veta zaručujú existenciu  $c \in (a; b)$ . Pomocou nich však takýto bod nevieme nájsť a ani nedokážeme určiť počet takýchto bodov. Geometrický význam viet je ilustrovaný na obrázkoch 4.3.6 a 4.3.7. Dotyčnica ku grafu funkcie  $f$  v bode  $[c; f(c)]$  zvierá s osou  $x$  uhol  $\alpha$ , pre ktorý platí  $\operatorname{tg} \alpha = f'(c) = 0$ , resp.  $\operatorname{tg} \alpha = f'(c) = \frac{f(b)-f(a)}{b-a}$ .

#### Dôsledok 4.3.3.a.

$f'(x) = 0$  pre všetky  $x \in (a; b) \implies f$  je na  $(a; b)$  konštantná.

#### Dôkaz.

$f'(x) = 0$ ,  $x \in (a; b) \xrightarrow{\text{veta 4.1.1}} f$  je spojitá na  $(a; b)$ .

Nech  $x_1, x_2 \in (a; b)$ ,  $x_1 < x_2$   $\xrightarrow{\text{Lagrangeova veta}}$  existuje  $c \in (x_1; x_2)$ , pre ktoré platí:

$$f(x_2) - f(x_1) = f'(c)(x_2 - x_1) = 0(x_2 - x_1) = 0 \Rightarrow f(x_1) = f(x_2). \blacksquare$$

**Veta 4.3.4 (Cauchy).**

$f, g$  sú spojité na  $\langle a; b \rangle$ , na  $(a; b)$  existuje (hoci aj nevlastná)  $f'(x)$  a vlastná  $g'(x) \neq 0$

$$\Rightarrow \text{existuje aspoň jedno } c \in (a; b) \text{ také, že } \frac{f'(c)}{g'(c)} = \frac{f(b)-f(a)}{g(b)-g(a)}.$$

**Dôkaz.**

$F(x) = [f(x) - f(a)] \cdot [g(b) - g(a)] - [f(b) - f(a)] \cdot [g(x) - g(a)]$ ,  $x \in \langle a; b \rangle \Rightarrow$

$F(a) = F(b) = 0$ ,  $F$  je spojitá na  $\langle a; b \rangle$ ,  $F'(x)$  existuje na  $(a; b)$   $\xrightarrow{\text{Rolleho veta}}$

existuje  $c \in (a; b) : F'(c) = f'(c)[g(b) - g(a)] - [f(b) - f(a)]g'(c) = 0 \Rightarrow \frac{f'(c)}{g'(c)} = \frac{f(b)-f(a)}{g(b)-g(a)}. \blacksquare$

Je zrejmé, že Rolleho veta je dôsledkom Lagrangeovej vety pre  $f(a) = f(b)$ . Lagrangeovu vetu môžeme považovať za dôsledok Cauchyho vety pre  $g(x) = x$ ,  $x \in \langle a; b \rangle$ .

Historicky však tieto vety vznikali v poradí, v akom sú uvedené, t. j. najprv Rolleho, potom Lagrangeova a na záver Cauchyho veta.

Ak vynecháme niektorý z predpokladov vo vetách o strednej hodnote, potom ich tvrdenia vo všeobecnosti prestávajú platiť.

**Príklad 4.3.2.**

Funkcia  $f: y = |x|$ ,  $x \in \langle -1; 1 \rangle$  je spojitá,  $f(-1) = f(1) = 1$ .

$f'(x) = [-x]' = -1$  pre  $x \in \langle -1; 0 \rangle$ ,  $f'(x) = x' = 1$  pre  $x \in \langle 0; 1 \rangle$ ,  $f'(0)$  neexistuje.

To znamená, že sú splnené predpoklady Rolleho vety, okrem existencie  $f'$ . Je zrejmé, že bod  $c \in \langle -1; 1 \rangle$  pre ktorý platí  $f'(c) = 0$  neexistuje (obr. 4.3.8).  $\blacksquare$

**Príklad 4.3.3.**

Funkcia  $f: y = \text{sgn } x$ ,  $x \in \langle -2; 2 \rangle$  má deriváciu v každom bode (príklad 4.1.4).

Pre  $x \neq 0$  platí  $f'(x) = 0$  a pre  $x=0$  platí  $f'(0) = \infty$ .

Funkcia  $f$  nie je spojitá v bode  $x = 0$ , takže nie sú splnené predpoklady Lagrangeovej vety. Je zrejmé (obr. 4.3.9), že neexistuje bod  $c \in \langle -2; 2 \rangle$ , pre ktorý platí:

$$f'(c) = \frac{f(2)-f(-2)}{2-(-2)} = \frac{1-(-1)}{2+2} = \frac{1}{2}. \blacksquare$$

Vety o strednej hodnote funkcie patria medzi najdôležitejšie výsledky diferenciálneho počtu a ako dokazujú nasledujúce príklady, využívajú sa pri riešení mnohých problémov.

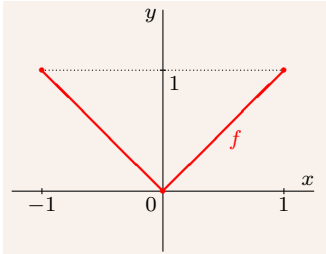
**Príklad 4.3.4.**

Dokážte, že  $f(x) = x^3 - 3x^2 + 6x + 1$  má iba jeden koreň a nájdite interval, v ktorom leží.

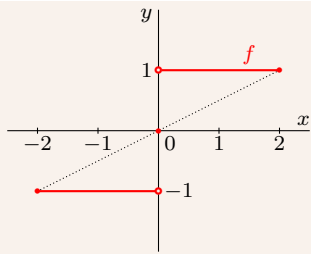
**Riešenie.**

Funkcia  $f$  je spojitá na  $R$  a pre všetky  $x \in R$  platí:

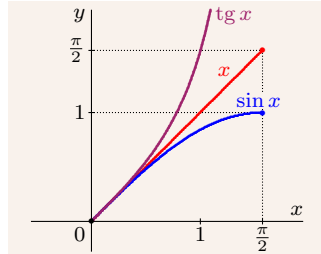
$$f'(x) = 3x^2 - 6x + 6 = 3(x^2 - 2x + 2) = 3(x^2 - 2x + 1) + 3 = 3(x - 1)^2 + 3 > 0.$$



Obr. 4.3.8: Príklad 4.3.2



Obr. 4.3.9: Príklad 4.3.3



Obr. 4.3.10: Príklad 4.3.5

$f(-1) = -9 < 0$ ,  $f(0) = 1 > 0 \xrightarrow{\text{veta 3.3.11}}$  existuje  $c \in (-1; 0)$  také, že  $f(c) = 0$ .

Ak má funkcia  $f$  dva korene  $c_1 < c_2$ , potom (Rolleho veta) existuje  $c \in (c_1; c_2)$  také, že  $f'(c) = 0$ . To je spor s tým, že  $f'(x) > 0$ . Takže  $f$  má práve jeden koreň  $c \in (-1; 0)$ . ■

#### Príklad 4.3.5.

Dokážte, že pre všetky  $x \in (0; \frac{\pi}{2})$  platí  $\sin x < x < \operatorname{tg} x$ .

#### Riešenie.

Nech  $b \in (0; \frac{\pi}{2})$  je ľubovoľné (obr. 4.3.10).

$f(x) = \sin x$  je na  $\langle 0; b \rangle$  spojitá, pre všetky  $x \in (0; b)$  platí  $0 < f'(x) = \cos x < 1$

Lagrangeova veta  $\Rightarrow$  existuje  $c \in (0; b)$  :  $\sin b - \sin 0 = \cos c \cdot (b - 0) \Rightarrow \sin b = \cos c \cdot b < b$ .

$g(x) = \operatorname{tg} x$  je na  $\langle 0; b \rangle$  spojitá,  $f'(x) = \frac{1}{\cos^2 x} > \frac{1}{\cos^2 0} = 1$  je konečná pre všetky  $x \in (0; b)$

Lagrangeova veta  $\Rightarrow$  existuje  $c \in (0; b)$  :  $\operatorname{tg} b - \operatorname{tg} 0 = \frac{b-0}{\cos^2 c} \Rightarrow \operatorname{tg} b = \frac{b}{\cos^2 c} > \frac{b}{1} = b$ . ■

### 4.3.2 L'Hospitalovo pravidlo, neurčité výrazy

Pri praktickom výpočte limity funkcie, ktorá má v danom bode tvar neurčitého výrazu typu  $\frac{0}{0}$ , resp.  $\frac{\infty}{\infty}$  sa často používa **l'Hospitalovo pravidlo** (nasledujúca veta).<sup>5</sup>

#### Veta 4.3.5 (l'Hospitalovo pravidlo).

$a, b \in \mathbb{R}^*$ ,  $f'(x)$ ,  $g'(x) \neq 0$  sú konečné na množine  $O(a) - \{a\}$ ,

$$\lim_{x \rightarrow a} \frac{f'(x)}{g'(x)} = b, \lim_{x \rightarrow a} f(x) = \lim_{x \rightarrow a} g(x) = 0 \implies \lim_{x \rightarrow a} \frac{f(x)}{g(x)} = \lim_{x \rightarrow a} \frac{f'(x)}{g'(x)} = b.$$

#### Dôkaz.

$f'(x)$ ,  $g'(x) \neq 0$  sú konečné  $\xrightarrow{\text{veta 4.1.4}}$   $f$ ,  $g$  sú spojité v  $O(a) - \{a\}$ .

Ak položíme  $f(a) = g(a) = 0$ , potom budú  $f$ ,  $g$  spojité aj v bode  $a$ , t. j. na množine  $O(a)$ .

a)  $a \in \mathbb{R}$ ,  $b \in \mathbb{R}^*$ ,  $O(a) = (a - \delta; a + \delta)$ ,  $\delta > 0 \Rightarrow$

Nech  $\{x_n\}_{n=1}^{\infty} \mapsto a$ ,  $x_n \in (a; a + \delta)$ ,  $n \in \mathbb{N} \Rightarrow$  na  $\langle a; x_n \rangle$ ,  $n \in \mathbb{N}$  platí Cauchyho veta  $\Rightarrow$

$$\text{pre každé } n \in \mathbb{N} \text{ existuje } c_n \in (a; x_n) : \frac{f'(c_n)}{g'(c_n)} = \frac{f(x_n) - f(a)}{g(x_n) - g(a)} = \frac{f(x_n) - 0}{g(x_n) - 0} = \frac{f(x_n)}{g(x_n)}.$$

<sup>5</sup>Pravidlo je pomenované po francúzskom matematikovi *G. F. A. de l'Hospitalovi*, ktorý ho publikoval v roku 1696. Jeho skutočným autorom je švajčiarsky matematik *Johann Bernoulli*.



$$\{c_n\}_{n=1}^{\infty} \mapsto a \Rightarrow b = \lim_{x \rightarrow a^+} \frac{f(x)}{g(x)} = \lim_{n \rightarrow \infty} \frac{f(c_n)}{g(c_n)} = \lim_{n \rightarrow \infty} \frac{f(x_n)}{g(x_n)} = \lim_{x \rightarrow a^+} \frac{f(x)}{g(x)}.$$

Ak  $\{x_n\}_{n=1}^{\infty} \mapsto a$ ,  $x_n \in (a-\delta; a)$ ,  $n \in \mathbb{N} \Rightarrow$  (analogicky ako pri limite sprava)  $\Rightarrow$

$$b = \lim_{x \rightarrow a^-} \frac{f(x)}{g(x)} = \lim_{n \rightarrow \infty} \frac{f(c_n)}{g(c_n)} = \lim_{n \rightarrow \infty} \frac{f(x_n)}{g(x_n)} = \lim_{x \rightarrow a^-} \frac{f(x)}{g(x)} \Rightarrow b = \lim_{x \rightarrow a} \frac{f(x)}{g(x)} = \lim_{x \rightarrow a} \frac{f(x)}{g(x)}.$$

b)  $a = \infty$ ,  $b \in \mathbb{R}^*$ ,  $O(\infty) = (\delta; \infty)$ ,  $\delta > 0 \Rightarrow$  označme  $x = \frac{1}{t} \Rightarrow$

$$\lim_{x \rightarrow \infty} x = \lim_{t \rightarrow 0^+} \frac{1}{t} = \infty, \lim_{x \rightarrow \infty} f(x) = \lim_{t \rightarrow 0^+} f\left(\frac{1}{t}\right) = 0, \lim_{x \rightarrow \infty} g(x) = \lim_{t \rightarrow 0^+} g\left(\frac{1}{t}\right) = 0, t \in (0; \frac{1}{\delta}) \xrightarrow{a)}$$

$$\lim_{x \rightarrow \infty} \frac{f(x)}{g(x)} = \lim_{t \rightarrow 0^+} \frac{f(1/t)}{g(1/t)} = \lim_{t \rightarrow 0^+} \frac{[f(t^{-1})]'}{[g(t^{-1})]'} = \lim_{t \rightarrow 0^+} \frac{-f'(t^{-1})t^{-2}}{-g'(t^{-1})t^{-2}} = \lim_{t \rightarrow 0^+} \frac{f'(1/t)}{g'(1/t)} = \lim_{x \rightarrow \infty} \frac{f'(x)}{g'(x)}.$$

c)  $a = -\infty$ ,  $b \in \mathbb{R}^*$ ,  $O(-\infty) = (-\infty; \delta)$ ,  $\delta < 0 \Rightarrow$  dôkaz je analogický ako pri b). ■

Vetu môžeme použiť taktiež v prípade, keď predpoklad  $\lim_{x \rightarrow a} f(x) = \lim_{x \rightarrow a} g(x) = 0$  nahradíme predpokladom  $\lim_{x \rightarrow a} f(x) = \pm\infty$ ,  $\lim_{x \rightarrow a} g(x) = \pm\infty$ .

#### Príklad 4.3.6.

Vypočítajte  $\lim_{x \rightarrow 2} \frac{x^3-8}{x-2}$ .

#### Riešenie.

$f(x) = x^3-8$ ,  $g(x) = x-2$ ,  $x \in \mathbb{R} - \{2\}$ ,  $O(2)$  môžeme zvoliť ľubovoľne (aj  $\mathbb{R}$ ).

$f'(x) = 3x^2$ ,  $g'(x) = 1 \neq 0$ ,  $x \in \mathbb{R} - \{2\}$

$$\lim_{x \rightarrow 2} (x^3-8) = \lim_{x \rightarrow 2} (x-2) = 0, \lim_{x \rightarrow 2} \frac{f'(x)}{g'(x)} = \lim_{x \rightarrow 2} \frac{3x^2}{1} = 12 \} \Rightarrow \lim_{x \rightarrow 2} \frac{x^3-8}{x-2} \stackrel{\text{l'H}}{=} \lim_{x \rightarrow 2} \frac{3x^2}{1} = 12.$$

Bez l'Hospitalovho pravidla:  $\lim_{x \rightarrow 2} \frac{x^3-8}{x-2} = \lim_{x \rightarrow 2} \frac{(x-2)(x^2+2x+4)}{x-2} = \lim_{x \rightarrow 2} (x^2+2x+4) = 12$ . ■

#### Príklad 4.3.7.

Vypočítajte  $\lim_{x \rightarrow \infty} \frac{\ln x}{x}$ .

#### Riešenie.

Predpoklady l'Hospitalovho pravidla sú splnené, pretože pre všetky  $x \in (0; \infty)$  existujú konečné  $f'(x) = [\ln x]' = \frac{1}{x}$ ,  $g'(x) = [x]' = 1 \neq 0$  a existujú limity:

$$\lim_{x \rightarrow \infty} \ln x = \lim_{x \rightarrow \infty} x = \infty, \lim_{x \rightarrow \infty} \frac{f'(x)}{g'(x)} = \lim_{x \rightarrow \infty} \frac{1}{x} = 0 \Rightarrow \lim_{x \rightarrow \infty} \frac{\ln x}{x} = \lim_{x \rightarrow \infty} \frac{[\ln x]'}{[x]'} = 0. \blacksquare$$

Pri praktickom používaní l'Hospitalovho pravidla je veľmi dôležité, aby sme **overili všetky predpoklady**. V opačnom prípade (viď príklady 4.3.8, 4.3.10) môžeme dospieť k nesprávnym výsledkom alebo sa k výsledku daným postupom nedopátrame. Platnosť predpokladu iii) sa v praxi overuje priebežne počas výpočtu limity.

Obrátené tvrdenie l'Hospitalovho pravidla neplatí (príklad 4.3.8). To znamená, že z existencie  $\lim_{x \rightarrow a} \frac{f(x)}{g(x)}$  vo všeobecnosti nevyplýva existencia  $\lim_{x \rightarrow a} \frac{f'(x)}{g'(x)}$ .

#### Príklad 4.3.8.

Vypočítajte  $\lim_{x \rightarrow 0} \frac{x^2 \sin x^{-1}}{\sin x}$ .

#### Riešenie.

l'Hospitalovo pravidlo použiť nemôžeme, pretože neexistuje limita:

$$\begin{aligned}\lim_{x \rightarrow 0} \frac{f'(x)}{g'(x)} &= \lim_{x \rightarrow 0} \frac{2x \sin x^{-1} + x^2 \cos x^{-1} (-x^{-2})}{\cos x} = \lim_{x \rightarrow 0} \frac{2x \sin x^{-1} - \cos x^{-1}}{\cos x} = \\ &= \frac{\lim_{x \rightarrow 0} [2x \sin x^{-1}] - \lim_{x \rightarrow 0} \cos x^{-1}}{\lim_{x \rightarrow 0} \cos x} = \frac{0 - \lim_{x \rightarrow 0} \cos x^{-1}}{1} = - \lim_{x \rightarrow 0} \cos x^{-1}.\end{aligned}$$

Daná limita existuje, pretože zo vzťahov  $\lim_{x \rightarrow 0} [x \sin x^{-1}] = 0$ ,  $\lim_{x \rightarrow 0} \frac{x}{\sin x} = 1$  vyplýva:

$$\lim_{x \rightarrow 0} \frac{x^2 \sin x^{-1}}{\sin x} = \lim_{x \rightarrow 0} \left[ x \sin x^{-1} \cdot \frac{x}{\sin x} \right] = \lim_{x \rightarrow 0} [x \sin x^{-1}] \cdot \lim_{x \rightarrow 0} \frac{x}{\sin x} = 0 \cdot 1 = 0. \blacksquare$$

L'Hospitalovo pravidlo môžeme pri praktickom výpočte limity použiť aj niekoľkokrát za sebou. Ak sú splnené predpoklady pre funkcie  $f', g', f'', g'', \dots, f^{(k)}, g^{(k)}$ ,  $k \in \mathbb{N}$  a existuje  $\lim_{x \rightarrow a} \frac{f^{(k)}(x)}{g^{(k)}(x)}$ , potom ho môžeme použiť  $k$ -krát za sebou podľa vzoru:

$$\lim_{x \rightarrow a} \frac{f(x)}{g(x)} = \lim_{x \rightarrow a} \frac{f'(x)}{g'(x)} = \lim_{x \rightarrow a} \frac{f''(x)}{g''(x)} = \dots = \lim_{x \rightarrow a} \frac{f^{(k)}(x)}{g^{(k)}(x)}.$$

#### Príklad 4.3.9.

Vypočítajte  $\lim_{x \rightarrow 0} \frac{x - \sin x}{x^3}$ .

#### Riešenie.

Použijeme l'Hospitalovo pravidlo niekoľkokrát za sebou.

Zvoľme  $O(0) = (-1; 1)$ . Pre všetky  $x \in O(0)$ ,  $x \neq 0$  existujú príslušné derivácie a platí:

$$\begin{aligned}\lim_{x \rightarrow 0} \frac{x - \sin x}{x^3} &= \lim_{x \rightarrow 0} \frac{[x - \sin x]'}{[x^3]'} = \lim_{x \rightarrow 0} \frac{1 - \cos x}{3x^2} = \lim_{x \rightarrow 0} \frac{[1 - \cos x]'}{[3x^2]'} = \\ &= \lim_{x \rightarrow 0} \frac{0 - (-\sin x)}{6x} = \lim_{x \rightarrow 0} \frac{\sin x}{6x} = \lim_{x \rightarrow 0} \frac{\cos x}{6} = \frac{1}{6}. \blacksquare\end{aligned}$$

#### Príklad 4.3.10.

Vypočítajte  $\lim_{x \rightarrow \infty} \frac{e^x + e^{-x}}{e^x - e^{-x}}$ .

#### Riešenie.

L'Hospitalovo pravidlo nám nepomôže. Nedokážeme overiť existenciu  $\lim_{x \rightarrow \infty} \frac{f'(x)}{g'(x)}$ , pretože:

$$\lim_{x \rightarrow \infty} \frac{e^x + e^{-x}}{e^x - e^{-x}} = \lim_{x \rightarrow \infty} \frac{[e^x + e^{-x}]'}{[e^x - e^{-x}]'} = \lim_{x \rightarrow \infty} \frac{e^x - e^{-x}}{e^x + e^{-x}} = \lim_{x \rightarrow \infty} \frac{[e^x - e^{-x}]'}{[e^x + e^{-x}]'} = \lim_{x \rightarrow \infty} \frac{e^x + e^{-x}}{e^x - e^{-x}}.$$

Lenže platí:  $\lim_{x \rightarrow \infty} \frac{e^x + e^{-x}}{e^x - e^{-x}} = \lim_{x \rightarrow \infty} \left[ \frac{e^x + e^{-x}}{e^x - e^{-x}} \cdot \frac{e^{-x}}{e^{-x}} \right] = \lim_{x \rightarrow \infty} \frac{1 + e^{-2x}}{1 - e^{-2x}} = \frac{1+0}{1-0} = 1. \blacksquare$

L'Hospitalovo pravidlo môžeme použiť aj na výpočet neurčitých výrazov typu  $\pm\infty \cdot 0$ ,  $\infty - \infty$ ,  $\infty^0$ ,  $0^0$ ,  $1^{\pm\infty}$ . Musíme ich ale vhodnými úpravami previesť na typ  $\frac{0}{0}$  alebo  $\frac{\infty}{\infty}$ .

- **Typ  $\pm\infty \cdot 0$ , t. j.**  $\lim_{x \rightarrow a} [f(x)g(x)]$ ,  $\lim_{x \rightarrow a} f(x) = \pm\infty$ ,  $\lim_{x \rightarrow a} g(x) = 0 \Rightarrow$  typ  $\frac{0}{0}$  alebo  $\frac{\infty}{\infty}$ .

Ak sú  $\left[\frac{1}{f(x)}\right]' \neq 0$ ,  $g'(x)$  konečné v  $O(a) - \{a\}$  a existuje  $\lim_{x \rightarrow a} \frac{g'(x)}{\left[\frac{1}{f(x)}\right]'}$ , potom:

$$\lim_{x \rightarrow a} [f(x)g(x)] = \lim_{x \rightarrow a} \frac{g(x)}{\frac{1}{f(x)}} \stackrel{\text{l'H}}{=} \lim_{x \rightarrow a} \frac{g'(x)}{\left[\frac{1}{f(x)}\right]'}, \quad \text{t. j. typ } \frac{0}{0}.$$

Ak sú  $f'(x)$ ,  $[\frac{1}{g(x)}]' \neq 0$  konečné v  $O(a) - \{a\}$  a existuje  $\lim_{x \rightarrow a} \frac{f'(x)}{[\frac{1}{g(x)}]'}$ , potom:

$$\lim_{x \rightarrow a} [f(x)g(x)] = \lim_{x \rightarrow a} \frac{f(x)}{\frac{1}{g(x)}} \stackrel{\text{l'H}}{=} \lim_{x \rightarrow a} \frac{f'(x)}{[\frac{1}{g(x)}]'}, \quad \text{t. j. typ } \frac{\infty}{\infty}.$$

- **Typ  $\infty - \infty$ , t. j.**  $\lim_{x \rightarrow a} [f(x) - g(x)], \lim_{x \rightarrow a} f(x) = \lim_{x \rightarrow a} g(x) = \infty \Rightarrow \text{typ } \frac{0}{0}$ .

Ak sú  $[\frac{1}{g(x)} - \frac{1}{f(x)}]', [\frac{1}{f(x)g(x)}]' \neq 0$  konečné v  $O(a) - \{a\}$  a existuje limita ich podielu:

$$\begin{aligned} \lim_{x \rightarrow a} [f(x) - g(x)] &= \lim_{x \rightarrow a} \left[ \frac{f(x)g(x)}{g(x)} - \frac{f(x)g(x)}{f(x)} \right] = \lim_{x \rightarrow a} f(x)g(x) \left[ \frac{1}{g(x)} - \frac{1}{f(x)} \right] = \\ &= \lim_{x \rightarrow a} \frac{\frac{1}{g(x)} - \frac{1}{f(x)}}{\frac{1}{f(x)g(x)}} \stackrel{\text{l'H}}{=} \lim_{x \rightarrow a} \frac{[\frac{1}{g(x)} - \frac{1}{f(x)}]'}{[\frac{1}{f(x)g(x)}]'}, \quad \text{t. j. typ } \frac{0-0}{0} = \frac{0}{0}. \end{aligned}$$

- **Typ  $\infty^0$ , t. j.**  $\lim_{x \rightarrow a} [f(x)]^{g(x)}, \lim_{x \rightarrow a} f(x) = \infty, \lim_{x \rightarrow a} g(x) = 0 \Rightarrow \text{typ } 0 \cdot \infty$ .
- **Typ  $0^0$ , t. j.**  $\lim_{x \rightarrow a} [f(x)]^{g(x)}, \lim_{x \rightarrow a} f(x) = \lim_{x \rightarrow a} g(x) = 0 \Rightarrow \text{typ } 0 \cdot (-\infty)$ .
- **Typ  $1^{\pm\infty}$ , t. j.**  $\lim_{x \rightarrow a} [f(x)]^{g(x)}, \lim_{x \rightarrow a} f(x) = 1, \lim_{x \rightarrow a} g(x) = \pm\infty \Rightarrow \text{typ } \pm\infty \cdot 0$ .

Ak pre  $x \in O(a) - \{a\}$  existujú funkcie  $\ln f(x)$ ,  $\ln [f(x)]^{g(x)}$ , potom:

$$\lim_{x \rightarrow a} [f(x)]^{g(x)} = \lim_{x \rightarrow a} e^{\ln [f(x)]^{g(x)}} = \lim_{x \rightarrow a} e^{g(x) \ln f(x)} = e^{\lim_{x \rightarrow a} g(x) \ln f(x)}.$$

#### Príklad 4.3.11.

Pomocou l'Hospitalovho pravidla vypočítajte:<sup>6</sup>

a)  $\lim_{x \rightarrow 0^+} [x \ln x]$ ,   b)  $\lim_{x \rightarrow 0} [\frac{1}{x} - \frac{1}{\sin x}]$ ,   c)  $\lim_{x \rightarrow 0} [\sin x]^x$ ,   d)  $\lim_{x \rightarrow \infty} x^{1/x}$ ,   e)  $\lim_{x \rightarrow 0^+} x^{1/x}$ .

#### Riešenie.

a) Typ  $\frac{0}{0}$ :  $x > 0 \Rightarrow x' = 1$ ,  $[\frac{1}{\ln x}]' = [\ln^{-1} x]' = -\ln^{-2} x \cdot [\frac{1}{x}] = -\frac{1}{x \ln^2 x} \neq 0$ .

$$\begin{aligned} \lim_{x \rightarrow 0^+} x = 0, \quad \lim_{x \rightarrow 0^+} [\frac{1}{\ln x}] = 0 \Rightarrow \lim_{x \rightarrow 0^+} [x \ln x] &= \lim_{x \rightarrow 0^+} \frac{x}{\frac{1}{\ln x}} \stackrel{\text{l'H}}{=} \lim_{x \rightarrow 0^+} \frac{x'}{[\frac{1}{\ln x}]'} = \\ &= \lim_{x \rightarrow 0^+} \frac{1}{-\frac{1}{x \ln^2 x}} = - \lim_{x \rightarrow 0^+} [x \ln^2 x] \Rightarrow \text{typ } \frac{0}{0} \text{ nie je vhodný.} \end{aligned}$$

Typ  $\frac{\infty}{\infty}$ :  $x > 0 \Rightarrow [\ln x]' = \frac{1}{x}$ ,  $[\frac{1}{x}]' = -\frac{1}{x^2} \neq 0$ ,  $\lim_{x \rightarrow 0^+} \ln x = -\infty$ ,  $\lim_{x \rightarrow 0^+} [\frac{1}{x}] = \infty \Rightarrow$

$$\lim_{x \rightarrow 0^+} [x \ln x] = \lim_{x \rightarrow 0^+} \frac{\ln x}{\frac{1}{x}} \stackrel{\text{l'H}}{=} \lim_{x \rightarrow 0^+} \frac{[\ln x]'}{[\frac{1}{x}]'} = \lim_{x \rightarrow 0^+} \frac{\frac{1}{x}}{-\frac{1}{x^2}} = - \lim_{x \rightarrow 0^+} x = 0.$$

b)  $\lim_{x \rightarrow 0} [\frac{1}{x} - \frac{1}{\sin x}] = \lim_{x \rightarrow 0} \frac{\sin x - x}{x \sin x} \stackrel{\text{l'H}}{=} \lim_{x \rightarrow 0} \frac{[\sin x - x]'}{[x \sin x]'} =$   

$$= \lim_{x \rightarrow 0} \frac{\cos x - 1}{\sin x + x \cos x} \stackrel{\text{l'H}}{=} \lim_{x \rightarrow 0} \frac{[\cos x - 1]'}{[\sin x + x \cos x]'} = \lim_{x \rightarrow 0} \frac{-\sin x}{2 \cos x - x \sin x} = \frac{0}{2} = 0.$$

<sup>6</sup>Vid' príklad 3.2.28 na strane 105.

c)  $[\sin x]^x$  nie je definované pre  $x < 0 \Rightarrow \lim_{x \rightarrow 0^-} [\sin x]^x$  neexistuje  $\Rightarrow \lim_{x \rightarrow 0} [\sin x]^x$  neexistuje.

$$\begin{aligned} \text{Ale: } \lim_{x \rightarrow 0^+} \ln [\sin x]^x &= \lim_{x \rightarrow 0^+} x \ln \sin x = \lim_{x \rightarrow 0^+} \frac{\ln \sin x}{\frac{1}{x}} \stackrel{\text{l'H}}{=} \lim_{x \rightarrow 0^+} \frac{[\ln \sin x]'}{\left[\frac{1}{x}\right]'} = \lim_{x \rightarrow 0^+} \frac{\frac{\cos x}{\sin x}}{-\frac{1}{x^2}} = \\ &= - \lim_{x \rightarrow 0^+} \left[ x \cos x \frac{x}{\sin x} \right] = -0 \cdot 1 \cdot 1 = 0 \Rightarrow \lim_{x \rightarrow 0^+} [\sin x]^x = e^{\lim_{x \rightarrow 0^+} \ln [\sin x]^x} = e^0 = 1. \end{aligned}$$

d)  $x > 0 \Rightarrow x^{1/x} = e^{\ln x^{1/x}} = e^{\frac{1}{x} \ln x}$ ,  $x' = 1$ ,  $[\ln x]' = \frac{1}{x} \neq 0$ ,  $\lim_{x \rightarrow \infty} x = \lim_{x \rightarrow \infty} \ln x = \infty \Rightarrow$

$$\lim_{x \rightarrow \infty} \frac{\ln x}{x} \stackrel{\text{l'H}}{=} \lim_{x \rightarrow \infty} \frac{[\ln x]'}{x'} = \lim_{x \rightarrow \infty} \frac{\frac{1}{x}}{1} = \lim_{x \rightarrow \infty} \frac{1}{x} = 0 \Rightarrow \lim_{x \rightarrow \infty} x^{1/x} = e^{\lim_{x \rightarrow \infty} \ln x^{1/x}} = e^0 = 1.$$

e)  $\lim_{x \rightarrow 0^+} \frac{\ln x}{x} = \frac{-\infty}{0^+} = -\infty \Rightarrow \lim_{x \rightarrow 0^+} x^{1/x} = e^{\lim_{x \rightarrow 0^+} \ln x^{1/x}} = e^{\lim_{x \rightarrow 0^+} \frac{1}{x} \ln x} = e^{-\infty} = 0. \blacksquare$

### 4.3.3 Taylorov polynóm

Nech je  $f$  diferencovateľná v bode  $x_0 \in \mathbb{R}$ . Najlepšia aproximácia funkcie  $f$  lineárnou funkciou (polynómom prvého stupňa) v okolí  $O(x_0)$  je pomocou funkcie (veta 4.2.2):

$$g(x) = f(x_0) + f'(x_0)(x - x_0) = f(x_0) + df(x_0, x - x_0), \quad \lim_{x \rightarrow x_0} \frac{f(x) - g(x)}{x - x_0} = 0.$$

V nasledujúcej časti sa budeme snažiť  $f$  aproximovať v  $O(x_0)$  polynómom stupňa  $n$ .

Nech má  $f$  v bode  $x_0 \in \mathbb{R}$  konečné derivácie do rádu  $n \in \mathbb{N}$  vrátane. Potom v bode  $x_0$  existujú diferenciály do rádu  $n$ . Funkciu  $f$  aproximujeme v okolí  $O(x_0)$  polynómom:

$$T_n(x) = \sum_{k=0}^n a_k (x - x_0)^k = a_0 + a_1(x - x_0) + \dots + a_n(x - x_0)^n, \quad a_0, a_1, \dots, a_n \in \mathbb{R}$$

tak, aby chyba aproximácie  $R_n(x) = f(x) - T_n(x)$  bola minimálna, t. j. aby:

$$\lim_{x \rightarrow x_0} \frac{R_n(x)}{(x - x_0)^n} = \lim_{x \rightarrow x_0} \frac{f(x) - T_n(x)}{(x - x_0)^n} = 0. \quad (4.5)$$

Určíme koeficienty  $a_1, a_2, \dots, a_n$ . Zo vzťahu (4.5) pre  $k = 0, 1, 2, \dots, n$  vyplýva:

$$\lim_{x \rightarrow x_0} \frac{R_n(x)}{(x - x_0)^k} = \lim_{x \rightarrow x_0} \left[ \frac{R_n(x)}{(x - x_0)^n} \cdot (x - x_0)^{n-k} \right] = 0 \cdot 0 = 0.$$

Po  $k$ -násobnom opakovanom použití l'Hospitalovho pravidla typu  $\frac{0}{0}$  dostaneme:

$$\begin{aligned} 0 &= \lim_{x \rightarrow x_0} \frac{R_n(x)}{(x - x_0)^k} \stackrel{\text{l'H}}{=} \lim_{x \rightarrow x_0} \frac{R_n'(x)}{[(x - x_0)^k]'} \stackrel{\text{l'H}}{=} \lim_{x \rightarrow x_0} \frac{R_n'(x)}{k[(x - x_0)^{k-1}]'} \stackrel{\text{l'H}}{=} \dots \\ &\dots \stackrel{\text{l'H}}{=} \lim_{x \rightarrow x_0} \frac{R_n^{(k)}(x)}{[(x - x_0)^k]^{(k)}} \stackrel{\text{l'H}}{=} \lim_{x \rightarrow x_0} \frac{R_n^{(k)}(x)}{k(k-1) \dots 2 \cdot 1} = \frac{R_n^{(k)}(x_0)}{k!}. \end{aligned}$$

To znamená, že pre všetky  $k = 0, 1, 2, \dots, n$  platí:

$$R_n^{(k)}(x_0) = [f(x_0) - T_n(x_0)]^{(k)} = 0 \Rightarrow T_n^{(k)}(x_0) = f^{(k)}(x_0).$$



Pre Taylorov vzorec funkcie  $f$  v bode  $x_0$  potom platí:

$$f(x_0+h) = T_n(x_0+h) + \omega_n(h) = \sum_{k=0}^n \frac{f^{(k)}(x_0)}{k!} h^k + \omega_n(h), \quad \lim_{h \rightarrow 0} \frac{\omega_n(h)}{h^n} = 0.$$

Zvyšok  $R_n(x)$  vyjadruje chybu, s akou aproximuje Taylorov polynóm  $T_n$  funkciu  $f$  v bode  $x \in O(x_0)$ . Táto aproximácia má zmysel iba v lokálne, t. j. pre body blízke bodu  $x_0$ . Pre vzdialenejšie body dostaneme nepresné až celkom nevyhovujúce výsledky. Väčšinou nepomôže ani zvýšenie stupňa a v mnohých prípadoch sa chyba dokonca ešte zväčší. Pre praktické použitie je dôležité odhadnúť veľkosť zvyšku  $R_n(x)$ .

Z nasledujúcej vety vyplýva, že aproximácia pomocou  $T_n(x)$  je najlepšia zo všetkých aproximácií pomocou polynómov stupňa  $n$ .

**Veta 4.3.6 (O najlepšej lokálnej aproximácii polynómom).**

$f$  má v bode  $x_0 \in D(f)$  konečné derivácie až do rádu  $n$  vrátane,

$$Q_n(x) = f(x_0) + c_1(x-x_0) + c_2(x-x_0)^2 + \dots + c_n(x-x_0)^n \neq T_n(x) \implies$$

existuje  $O(x_0)$  tak, že pre všetky  $x \in O(x_0)$ ,  $x \neq x_0$  platí:  $|f(x) - T_n(x)| < |f(x) - Q_n(x)|$ .

**Veta 4.3.7 (Taylor).**

$f$  má v okolí  $O(x_0)$  bodu  $x_0 \in D(f)$  konečné derivácie až do rádu  $n+1$  vrátane  $\implies$

$$f(x) = T_n(x) + R_n(x) = \sum_{k=0}^n \frac{f^{(k)}(x_0)}{k!} (x-x_0)^k + R_n(x), \quad x \in O(x_0).$$

Zvyšok  $R_n(x)$  môže mať Lagrangeov  $L_n(x)$  alebo Cauchyho tvar<sup>9</sup>  $C_n(x)$ :

$$L_n(x) = \frac{f^{(n+1)}(\xi)}{(n+1)!} (x-x_0)^{n+1}, \quad C_n(x) = \frac{f^{(n+1)}(\xi)}{n!} (x-x_0)(x-\xi)^n, \\ \xi = x_0 + \theta(x-x_0), \quad \theta \in (0; 1).$$

Ak označíme  $h = x - x_0$ ,  $x = x_0 + h$ ,  $\xi = x_0 + \theta h$ ,  $x - \xi = h - \theta h = (1 - \theta)h$ , potom platí:

$$L_n(x_0+h) = \frac{f^{(n+1)}(x_0+\theta h)}{(n+1)!} h^{n+1}, \quad C_n(x_0+h) = \frac{f^{(n+1)}(x_0+\theta h)}{n!} h^{n+1} (1-\theta)^n, \quad \theta \in (0; 1).$$

V prípade Maclaurinovho vzorca platí  $h = x - 0 = x$ ,  $\xi = \theta h = \theta x$ . Potom:

$$L_n(h) = L_n(x) = \frac{f^{(n+1)}(\theta x)}{(n+1)!} x^{n+1}, \quad C_n(h) = C_n(x) = \frac{f^{(n+1)}(\theta x)}{n!} x^{n+1} (1-\theta)^n, \quad \theta \in (0; 1).$$

**Príklad 4.3.12.**

Nájdite  $T_2(x)$  funkcie  $f(x) = \sqrt[3]{1+x}$  so stredom v bode 0.

**Riešenie.**

$D(f) = x \in (-1; \infty)$ . Pre všetky  $x \in (-1; \infty)$  platí:

$$f'(x) = \frac{1}{3\sqrt[3]{(1+x)^2}}, \quad f''(x) = \frac{-2}{9\sqrt[3]{(1+x)^5}}, \quad f'''(x) = \frac{10}{27\sqrt[3]{(1+x)^8}}.$$

<sup>9</sup>Existuje omnoho viac tvarov zvyšku  $R_n(x)$ , ale tieto dva sú najvýznamnejšie.

$f(0)=1, f'(0)=\frac{1}{3}, f''(0)=-\frac{2}{9}$ , potom pre Maclaurinov vzorec platí:

$$f(x) = f(0) + \frac{f'(0)}{1!}x + \frac{f''(0)}{2!}x^2 + R_2(x) = 1 + \frac{x}{3} - \frac{x^2}{9} + R_2(x), \quad x \in O(0),$$

$$L_2(x) = \frac{f'''(\theta x)}{3!}x^3 = \frac{5x^3}{81\sqrt[3]{1+\theta x}}, \quad C_2(x) = \frac{f'''(\theta x)}{2!}x^3(1-\theta)^2 = \frac{5x^3(1-\theta)^2}{27\sqrt[3]{1+\theta x}}, \quad \text{kde } \theta \in (0; 1). \blacksquare$$

Z predchádzajúceho príkladu vyplýva, že funkciu  $f(x) = \sqrt[3]{1+x}$ ,  $x \in O(0)$  môžeme aproximovať kvadratickou funkciou  $1 + x/3 - x^2/9$  s chybou  $L_2(x)$ . Pre  $x \in O^+(0)$  platí:

$$\sqrt[3]{1+x} \approx 1 + \frac{x}{3} - \frac{x^2}{9}, \quad x \in O(0), \quad |L_2(x)| = L_2(x) = \frac{5x^3}{81\sqrt[3]{1+\theta x}} \leq \frac{5x^3}{81} < 0,062x^3.$$

Aproximácia výrazu  $\sqrt[3]{1,2}$  má chybu  $|L_2(0,2)| < 0,062 \cdot 0,2^3 = 0,000496$ , ale aproximácia výrazu  $\sqrt[3]{8}$  má chybu  $|L_2(7)| < 0,062 \cdot 7^3 = 21,266$ , čo je neprijateľné. Naozaj, stačí porovnať presné hodnoty  $\sqrt[3]{1,2} = 1,062659$ ,  $\sqrt[3]{8} = 2$  s hodnotami

$$\sqrt[3]{1+0,2} \approx 1 + \frac{0,2}{3} - \frac{0,2^2}{9} = 1,062222, \quad \sqrt[3]{1+7} \approx 1 + \frac{7}{3} - \frac{7^2}{9} = -2,111111.$$

#### Príklad 4.3.13.

Nájdite  $T_n(x)$ ,  $n \in \mathbb{N}$  funkcie  $f(x) = \ln x$  so stredom v bode  $x_0 = 1$ .

#### Riešenie.

$$x > -1, k \in \mathbb{N} \Rightarrow f'(x) = \frac{1}{x}, f''(x) = \frac{-1}{x^2}, f'''(x) = \frac{2}{x^3}, f^{(4)}(x) = \frac{-3 \cdot 2}{x^4}, \dots,$$

$$f^{(k)}(x) = \frac{(-1)^{k-1}(k-1)!}{x^k} \Rightarrow f^{(k)}(1) = (-1)^{k-1}(k-1)!, \quad k \in \mathbb{N} \Rightarrow$$

$$T_n(x) = 0 + \frac{1}{1!}(x-1) + \frac{-1!}{2!}(x-1)^2 + \frac{2!}{3!}(x-1)^3 + \dots + \frac{(-1)^{n-1}n!}{(n-1)!}(x-1)^n =$$

$$= \frac{(x-1)}{1} - \frac{(x-1)^2}{2} + \frac{(x-1)^3}{3} + \dots + \frac{(-1)^{n-1}(x-1)^n}{n} = \sum_{k=1}^n \frac{(-1)^{k-1}(x-1)^k}{k}, \quad x \in O(1),$$

$$L_n(x) = \frac{(-1)^n(x-1)^{n+1}}{(n+1)[1+\theta(x-1)]^{n+1}}, \quad C_n(x) = \frac{(-1)^n(x-1)^{n+1}(1-\theta)^n}{[1+\theta(x-1)]^{n+1}}, \quad \theta \in (0; 1). \blacksquare$$

Niekedy je výhodnejšie funkciu  $f(x) = \ln x$  vyjadriť v tvare Maclaurinového polynómu. Ak položíme  $x = t + 1$ , potom Maclaurinov polynóm funkcie  $f(t) = \ln(t+1)$  má tvar:

$$T_n(t) = t - \frac{t^2}{2} + \frac{t^3}{3} - \frac{t^4}{4} + \frac{t^5}{5} + \dots + \frac{(-1)^{n-1}t^n}{n} = \sum_{k=1}^n \frac{(-1)^{k-1}t^k}{k}, \quad t \in O(0).$$

#### Príklad 4.3.14.

Nájdite Maclaurinove polynómy stupňa  $n \in \mathbb{N}$  pre funkcie:

$$\text{a) } f(x) = e^x, \quad \text{b) } f(x) = \sin x, \quad \text{c) } f(x) = \cos x.$$

#### Riešenie.

$$\text{a) } f(x) = e^x, \quad x \in \mathbb{R}, \quad k \in \mathbb{N} \Rightarrow f^{(k)}(x) = [e^x]^{(k)} = e^x \Rightarrow f^{(k)}(0) = e^0 = 1 \Rightarrow$$

$$T_n(x) = 1 + \frac{x}{1!} + \frac{x^2}{2!} + \frac{x^3}{3!} + \frac{x^4}{4!} + \dots + \frac{x^n}{n!} = \sum_{k=0}^n \frac{x^k}{k!}, \quad x \in \mathbb{R}.$$

Derivácie funkcií  $\sin x$  a  $\cos x$  sme vypočítali v príklade 4.2.4.

$$\text{b) } f(x) = \sin x, x \in R, l \in N \Rightarrow f(0) = f^{(4l)}(0) = \sin 0 = 0, f'(0) = f^{(4l+1)}(0) = \cos 0 = 1, \\ f''(0) = f^{(4l+2)}(0) = -\sin 0 = 0, f'''(0) = f^{(4l+3)}(0) = -\cos 0 = -1 \Rightarrow$$

$$T_{2k+1}(x) = 0 + \frac{x}{1!} + 0 + \frac{-x^3}{3!} + 0 + \frac{x^5}{5!} + 0 + \dots + \frac{(-1)^k x^{2k+1}}{(2k+1)!} = \sum_{i=0}^k \frac{(-1)^i x^{2i+1}}{(2i+1)!}, \quad x \in R.$$

$$\text{c) } f(x) = \cos x, x \in R, l \in N \Rightarrow f(0) = f^{(4l)}(0) = \cos 0 = 1, f'(0) = f^{(4l+1)}(0) = -\sin 0 = 0, \\ f''(0) = f^{(4l+2)}(0) = -\cos 0 = -1, f'''(0) = f^{(4l+3)}(0) = \sin 0 = 0 \Rightarrow$$

$$T_{2k}(x) = 1 + 0 + \frac{-x^2}{2!} + 0 + \frac{x^4}{4!} + 0 + \dots + \frac{(-1)^k x^{2k}}{(2k)!} = \sum_{i=0}^k \frac{(-1)^i x^{2i}}{(2i)!}, \quad x \in R. \blacksquare$$

Funkcie  $y = e^x$ ,  $y = \sin x$ ,  $y = \cos x$  môžeme aproximovať Maclaurinovým polynómom pre ľubovoľné  $x \in R$ . Požadovanú presnosť dosiahneme dostatočným zväčšením stupňa  $n$ .

#### Príklad 4.3.15.

Nájdite Maclaurinov polynóm stupňa  $n \in N$  pre  $f(x) = e^{(x^2)}$ ,  $x \in R$ .

#### Riešenie.

$$f(x) = e^{(x^2)}, x \in R \Rightarrow f'(x) = 2x e^{(x^2)} \Rightarrow f''(x) = 2e^{(x^2)} + 4x^2 e^{(x^2)} \Rightarrow \\ f'''(x) = 12x e^{(x^2)} + 8x^3 e^{(x^2)} \Rightarrow f^{(4)}(x) = 12e^{(x^2)} + 48x^2 e^{(x^2)} + 16x^4 e^{(x^2)} \Rightarrow \\ f(0) = 1, f'(0) = 0, f''(0) = 2, f'''(0) = 0, f^{(4)}(0) = 12 \Rightarrow$$

$$T_4(x) = 1 + \frac{0}{1!}x + \frac{2}{2!}x^2 + \frac{0}{3!}x^3 + \frac{12}{4!}x^4 = 1 + x^2 + \frac{x^4}{2}.$$

Ako vidíme, s výpočtom derivácií vyšších rádov funkcie  $f$  sú problémy.

#### Iné riešenie.

Ak označíme  $g(t) = e^t$ ,  $t \in R$ ,  $t = x^2$ , potom  $e^{(x^2)} = f(x) = g(x^2) = g(t) = e^t$ .

Pre Maclaurinove polynómy  $P_n(t)$ ,  $T_{2n}(x)$  funkcií  $g(t)$ ,  $f(x)$  potom platí:

$$P_n(t) = 1 + \frac{t}{1!} + \frac{t^2}{2!} + \frac{t^3}{3!} + \dots + \frac{t^n}{n!} = 1 + \frac{x^2}{1!} + \frac{(x^2)^2}{2!} + \frac{(x^2)^3}{3!} + \dots + \frac{(x^2)^n}{n!} = \\ = 1 + \frac{x^2}{1!} + \frac{x^4}{2!} + \frac{x^6}{3!} + \dots + \frac{x^{2n}}{n!} = \sum_{k=0}^{2n} \frac{x^{2k}}{k!} = T_{2n}(x). \blacksquare$$

### 4.3.4 Monotónnosť funkcie, lokálne a globálne extrémny funkcie

Dôležitou súčasťou vyšetřovania priebehu funkcie je určenie intervalov, na ktorých je táto funkcia monotónna, t. j. rastúca (neklesajúca) alebo klesajúca (nerastúca).

#### Veta 4.3.8.

$f$  je spojitá na intervale  $I \subset R$ ,  $f'(x)$  existuje na  $I \implies f$  je na intervale  $I$ :

a) konštantná  $\Leftrightarrow \forall x_0 \in I: f'(x_0) = 0$ .

b) rastúca  $\Leftrightarrow \forall x_0 \in I: f'(x_0) \geq 0$  a neexistuje interval  $J \subset I$ , aby  $\forall x \in J: f'(x) = 0$ .



c) neklesajúca  $\Leftrightarrow \forall x_0 \in I: f'(x_0) \geq 0$ .

d) klesajúca  $\Leftrightarrow \forall x_0 \in I: f'(x_0) \leq 0$  a neexistuje interval  $J \subset I$ , aby  $\forall x \in J: f'(x) = 0$ .

e) nerastúca  $\Leftrightarrow \forall x_0 \in I: f'(x_0) \leq 0$ .

Interval  $J$  v častiach b), d) musí byť nedegenerovaný, t. j. musí mať rôzne koncové body.

### Dôkaz.

a)  $NP \Rightarrow$ : Vyplýva z príkladu 4.1.3.  $PP \Leftarrow$ : Vyplýva z dôsledku 4.3.3.a.

b)  $NP \Rightarrow$ :  $f$  je rastúca na  $I \Rightarrow$  pre všetky  $x_1, x_2 \in I, x_1 < x_2$  platí  $f(x_1) < f(x_2)$ .

$$x_0 \in I, x < x_0 \Rightarrow f(x) < f(x_0) \Rightarrow \frac{f(x)-f(x_0)}{x-x_0} > 0 \Rightarrow f'_-(x_0) = \lim_{x \rightarrow x_0^-} \frac{f(x)-f(x_0)}{x-x_0} \geq 0.$$

$$x_0 \in I, x > x_0 \Rightarrow f(x) > f(x_0) \Rightarrow \frac{f(x)-f(x_0)}{x-x_0} > 0 \Rightarrow f'_-(x_0) = \lim_{x \rightarrow x_0^-} \frac{f(x)-f(x_0)}{x-x_0} \geq 0.$$

$$\Rightarrow f'(x_0) = f'_-(x_0) = f'_+(x_0) \geq 0.$$

Nech  $\forall x \in J: f'(x) = 0 \Rightarrow f$  je na  $J \subset I$  konštantná, t. j. nie je rastúca. Spor.

$PP \Leftarrow$ :  $x_1, x_2 \in I, x_1 < x_2 \Rightarrow$  existuje  $c \in (x_1; x_2): f(x_2) - f(x_1) = f'(c) \cdot (x_2 - x_1)$ .

$f'(c) \geq 0, x_2 - x_1 > 0 \Rightarrow f(x_2) - f(x_1) = f'(c) \cdot (x_2 - x_1) \geq 0 \Rightarrow f$  je neklesajúca na  $I$ .

Ak je  $f$  konštantná na  $J \subset I \Rightarrow \forall x \in J: f'(x) = 0$  (spor)  $\Rightarrow f$  je rastúca na  $I$ .

Tým sme v nadväznosti na a) zároveň dokázali aj časť c).

d), e) Dokážeme pomocou funkcie  $g = -f$ , ktorá spĺňa predpoklady časti b), resp. c). ■

Ak je  $f$  spojitá a rastúca, resp. klesajúca na intervale  $I$ , potom môže pre nejaké  $x \in I$  platiť  $f'(x) = 0$ . Ale môžu to byť iba jednotlivé body, nie interval  $J \subset I$ .

### Príklad 4.3.16.

a) Funkcia  $f(x) = \frac{x^2}{4+4x}, x \in \mathbb{R} - \{-1\}$  je spojitá.

$$x \neq -1 \Rightarrow f'(x) = \left[ \frac{x^2}{4+4x} \right]' = \frac{1}{4} \cdot \left[ \frac{x^2}{1+x} \right]' = \frac{1}{4} \cdot \frac{2x(1+x) - x^2 \cdot 1}{(1+x)^2} = \frac{2x+x^2}{4(1+x)^2} = \frac{x(2+x)}{4(1+x)^2} \Rightarrow$$

$$f'(-2) = f'(0) = 0, f'(-1) \text{ neexistuje, } (1+x)^2 > 0 \text{ pre } x \neq -1 \text{ (obr. 4.3.11)} \Rightarrow$$

$x \in (-\infty; -2)$  alebo  $x \in (0; \infty) \Rightarrow f'(x) > 0 \Rightarrow f$  je rastúca na  $(-\infty; -2)$  a  $(0; \infty)$ .

$x \in (-2; -1)$  alebo  $x \in (-1; 0) \Rightarrow f'(x) < 0 \Rightarrow f$  je klesajúca na  $(-2; -1)$  a  $(-1; 0)$ .

b) Funkcia  $f(x) = \frac{4x}{1+x^2}, x \in \mathbb{R}$  je spojitá.

$$x \in \mathbb{R} \Rightarrow f'(x) = \left[ \frac{4x}{1+x^2} \right]' = \frac{4(1+x^2) - 4x \cdot 2x}{(1+x^2)^2} = \frac{4-4x^2}{(1+x^2)^2} = \frac{4(1-x^2)}{(1+x^2)^2} \Rightarrow f'(-1) = f'(1) = 0 \Rightarrow$$

$x \in (-\infty; -1)$  alebo  $x \in (1; \infty) \Rightarrow f'(x) < 0 \Rightarrow f$  je klesajúca na  $(-\infty; -1)$  a  $(1; \infty)$ .

$x \in (-1; 1) \Rightarrow f'(x) > 0 \Rightarrow f$  je rastúca na  $(-1; 1)$  (obr. 4.3.12). ■

### Veta 4.3.9.

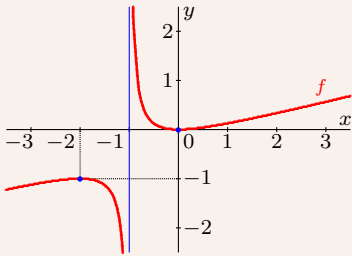
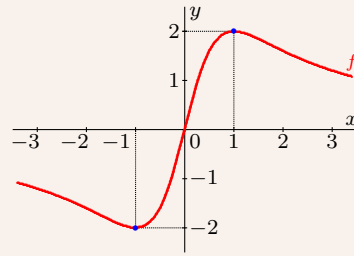
$f'(x_0) > 0$  [resp.  $f'(x_0) < 0$ ] (aj nevlastná)  $\implies$

$f$  je rastúca [resp. klesajúca] v bode  $x_0 \in D(f)$ .

### Dôkaz.

$$f'(x_0) > 0 \Rightarrow 0 < f'(x_0) = \lim_{x \rightarrow x_0} \frac{f(x)-f(x_0)}{x-x_0} \leq \infty \Rightarrow$$

existuje  $O(x_0)$  také, že pre všetky  $x \in O(x_0), x \neq x_0$  platí  $0 < \frac{f(x)-f(x_0)}{x-x_0} \Rightarrow$

Obr. 4.3.11: Funkcia  $f(x) = \frac{x^2}{4+4x}$ Obr. 4.3.12: Funkcia  $f(x) = \frac{4x}{1+x^2}$ 

$f(x) < f(x_0)$  pre  $x < x_0$ ,  $f(x) > f(x_0)$  pre  $x > x_0 \Rightarrow f$  je rastúca v bode  $x_0$ .

Pre  $f'(x_0) < 0$  je dôkaz analogický. ■

Body, v ktorých má spojitá funkcia  $f$  lokálne extrém, úzko súvisia s intervalmi, na ktorých je táto funkcia monotónna (rýdzo monotónna). Z vety 4.3.1 priamo vyplýva nutná podmienka existencie lokálneho extrému funkcie.

**Veta 4.3.10 (Nutná podmienka existencie lokálneho extrému).**

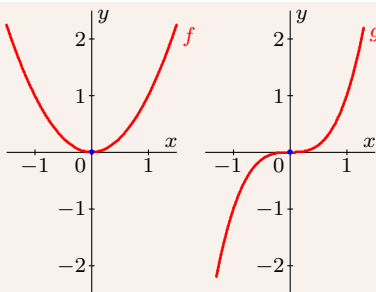
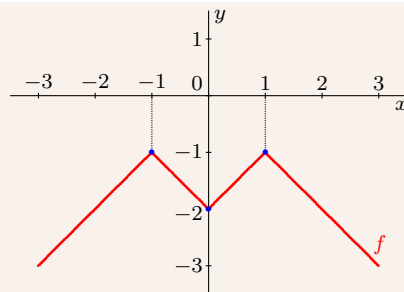
$f$  má v bode  $x_0 \in D(f)$  lokálny extrém, existuje  $f'(x_0) \implies f'(x_0) = 0$ .

Opačné tvrdenie vo vete 4.3.10 neplatí, t. j.  $f'(x_0) = 0$  nezaručuje lokálny extrém. Na druhej strane môže byť lokálny extrém aj bode, v ktorom derivácia neexistuje.

**Príklad 4.3.17.**

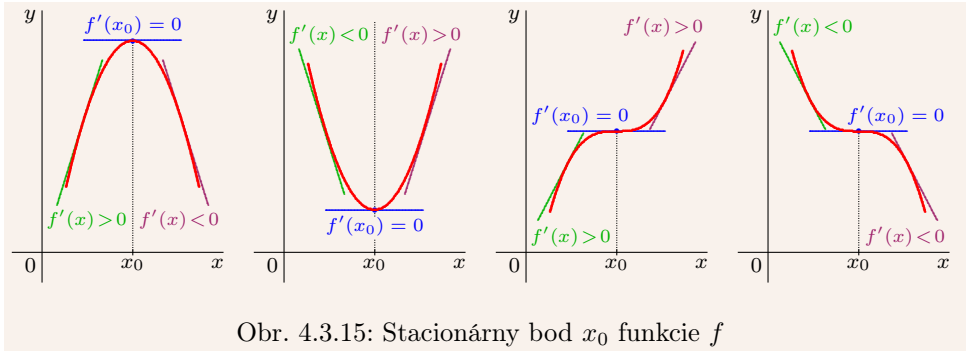
a) Funkcia  $f(x) = x^2$  má v bode 0 (ostré) lokálne minimum. Funkcia  $g(x) = x^3$  nemá v bode 0 extrém. V oboch prípadoch platí  $f'(0) = g'(0) = 0$  (obr. 4.3.13).

b) Funkcia  $f(x) = |x| - |x - 1| - |x + 1|$  má v bode 0 lokálne minimum, aj keď  $f'(0)$  neexistuje (obr. 4.3.14). Platí totiž  $f'_-(0) = -1$ ,  $f'_+(0) = 1$ . ■

Obr. 4.3.13:  $f(x) = x^2$ ,  $g(x) = x^3$ Obr. 4.3.14:  $f(x) = |x| - |x - 1| - |x + 1|$

Z vety 4.3.10 vyplýva, že ak chceme nájsť lokálne extrémum funkcie  $f$ , musíme určiť všetky body  $x_0 \in D(f)$ , pre ktoré platí  $f'(x_0) = 0$ . Je zrejmé, že nie vo všetkých týchto bodoch musí mať funkcia  $f$  extrém.

Ak má funkcia  $f$  v bode  $x_0 \in D(f)$  deriváciu a platí  $f'(x_0) = 0$ , potom sa tento bod nazýva **stacionárnym bodom funkcie  $f$**  (obr. 4.3.15).



Obr. 4.3.15: Stacionárny bod  $x_0$  funkcie  $f$

**Veta 4.3.11 (Postačujúca podmienka existencie lokálneho extrémum).**

$f'(x_0) = 0$ , existuje  $O(x_0)$  tak, že pre všetky  $x \in O(x_0)$ :

- $f'(x) > 0$  pre  $x < x_0$ ,  $f'(x) < 0$  pre  $x > x_0 \Rightarrow f$  má v  $x_0$  ostré lokálne maximum.
- $f'(x) < 0$  pre  $x < x_0$ ,  $f'(x) > 0$  pre  $x > x_0 \Rightarrow f$  má v  $x_0$  ostré lokálne minimum.
- $f'(x) < 0$ , resp.  $f'(x) > 0$  pre  $x \neq x_0 \Rightarrow f$  nemá v bode  $x_0$  lokálny extrém.

**Dôkaz.**

- Z vety 4.3.8 vyplýva, že pre  $x < x_0$  je funkcia  $f$  rastúca a pre  $x > x_0$  je klesajúca, t. j.  $f$  má v bode  $x_0$  ostré lokálne maximum.
- Dôkaz je analogický ako v a). Pre  $x < x_0$  je funkcia  $f$  klesajúca a pre  $x > x_0$  je rastúca.
- Funkcia  $f$  je buď klesajúca alebo rastúca a nemá lokálny extrém. ■

Ak má funkcia  $f$  v stacionárnom bode  $x_0$  aj druhú deriváciu  $f''(x_0)$ , potom môžeme v niektorých prípadoch rozhodnúť o existencii lokálneho extrémum pomocou nej.

**Veta 4.3.12.**

$f'(x_0) = 0$ ,  $f''(x_0) \neq 0$  je konečná  $\implies$

$f$  má v bode  $x_0$  ostré lokálne  $\begin{cases} \text{maximum pre } f''(x_0) < 0, \\ \text{minimum pre } f''(x_0) > 0. \end{cases}$

**Dôkaz.**

$$\text{a) } f''(x_0) = \lim_{x \rightarrow x_0} \frac{f'(x) - f'(x_0)}{x - x_0} = \lim_{x \rightarrow x_0} \frac{f'(x)}{x - x_0} < 0 \xrightarrow{\text{dôsledok 3.2.7.a}}$$

existuje  $O(x_0)$  také, že pre všetky  $x \in O(x_0)$ ,  $x \neq x_0$  platí  $\frac{f'(x)}{x - x_0} < 0 \Rightarrow$

$\left. \begin{array}{l} f'(x) > 0 \text{ pre } x < x_0 \\ f'(x) < 0 \text{ pre } x > x_0 \end{array} \right\} \xrightarrow{\text{veta 4.3.11}} f \text{ má v bode } x_0 \text{ ostré lokálne maximum.}$

- Dôkaz je analogický ako pre  $f''(x_0) < 0$  v časti a). ■

**Príklad 4.3.18.**

Nájdite lokálne extrémym funkcie  $f$  na množine  $R$ , ak platí:

$$\text{a) } f(x) = -x^3 - x^2 + x, \quad \text{b) } f(x) = |x^2 - 1| + |x^2 + 1|, \quad \text{c) } f(x) = x^3 - x^2 + x.$$

**Riešenie.**

$$\text{a) } f'(x) = -3x^2 - 2x + 1 = -3(x+1)(x - \frac{1}{3}) \Rightarrow \text{dva stacionárne body } -1, \frac{1}{3} \Rightarrow$$

$$f''(x) = -6x - 2 \Rightarrow \begin{cases} f''(-1) = 4 > 0, \text{ t. j. v bode } -1 \text{ je lokálne minimum } f(-1) = -1, \\ f''(\frac{1}{3}) = -4 < 0, \text{ t. j. v bode } \frac{1}{3} \text{ je lokálne maximum } f(\frac{1}{3}) = \frac{5}{27}. \end{cases}$$

Extrémym môžeme určiť aj pomocou  $f'$ . Body  $-1, \frac{1}{3}$  sú stacionárne (obr. 4.3.16).  $\Rightarrow$

$$\left. \begin{array}{l} x \in (-\infty; -1) \Rightarrow f'(x) < 0 \Rightarrow f \text{ je klesajúca} \\ x \in (-1; \frac{1}{3}) \Rightarrow f'(x) > 0 \Rightarrow f \text{ je rastúca} \\ x \in (\frac{1}{3}; \infty) \Rightarrow f'(x) < 0 \Rightarrow f \text{ je klesajúca} \end{array} \right\} \Rightarrow \begin{cases} \text{v bode } -1 \text{ je lokálne minimum,} \\ \text{v bode } \frac{1}{3} \text{ je lokálne maximum.} \end{cases}$$

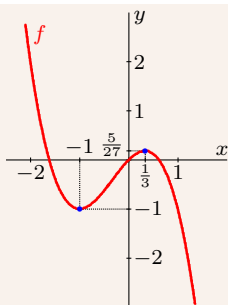
$$\text{b) } f(x) = |x^2 - 1| + |x^2 + 1| = \begin{cases} 1 - x^2 + x^2 + 1 = 2 \Rightarrow f'(x) = 0, & \text{pre } x^2 \leq 1, \\ x^2 - 1 + x^2 + 1 = 2x^2 \Rightarrow f'(x) = 4x, & \text{pre } x^2 \geq 1. \end{cases} \Rightarrow$$

$$\left. \begin{array}{l} x \in (-\infty; -1) \Rightarrow f'(x) = 4x < 0 \Rightarrow f \text{ je klesajúca na } (-\infty; -1) \\ x \in (-1; 1) \Rightarrow f'(x) = 0 \Rightarrow f \text{ je konštantná na } (-1; 1) \\ x \in (1; \infty) \Rightarrow f'(x) = 4x > 0 \Rightarrow f \text{ je rastúca na } (1; \infty) \end{array} \right\} \Rightarrow$$

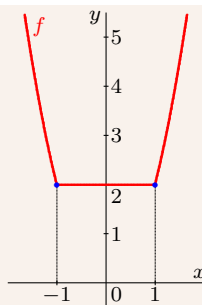
$f$  nadobúda pre všetky  $x_0 \in (-1; 1)$  neostré lokálne minimum  $f(x_0) = 2$  (obr. 4.3.17).

$$\text{c) } f'(x) = 3x^2 - 2x + 1 = 3(x^2 - \frac{2x}{3} + \frac{1}{9}) + 1 - \frac{3}{9} = 3(x - \frac{1}{3})^2 + \frac{2}{3} \geq \frac{2}{3} > 0 \Rightarrow$$

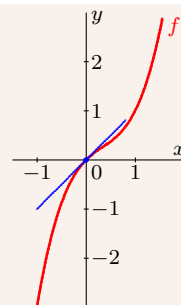
$f$  nemá stacionárne body a ani lokálne extrémym (obr. 4.3.18). ■



Obr. 4.3.16: Graf  
 $f(x) = -x^3 - x^2 + x$



Obr. 4.3.17: Graf  $f(x) =$   
 $|x^2 - 1| + |x^2 + 1|$



Obr. 4.3.18: Graf  
 $f(x) = x^3 - x^2 + x$

Okrem lokálnych extrémym nás zaujímajú aj **globálne (absolútne) extrémym funkcie**. Globálne extrémym vo vnútorných bodoch intervalu sú zhodné s lokálnymi. Funkcia môže mať globálne extrémym aj v krajných bodoch intervalu a v bodoch, v ktorých neexistuje derivácia. To znamená, že ich musíme navzájom porovnať.

**Príklad 4.3.19.**

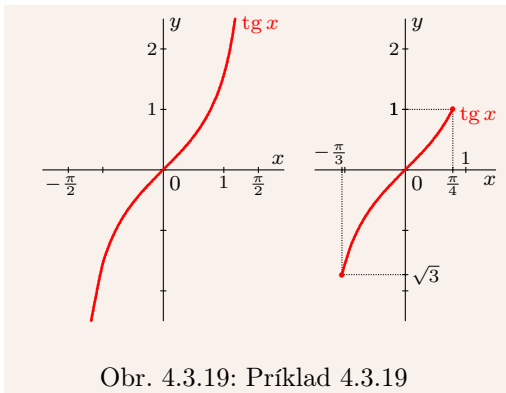
a) Funkcia  $f(x) = \operatorname{tg} x$ ,  $x \in (-\frac{\pi}{2}; \frac{\pi}{2})$  nemá lokálne ani globálne extrémny.

$x \in (-\frac{\pi}{2}; \frac{\pi}{2}) \Rightarrow f'(x) = \frac{1}{\cos^2 x} > 0 \Rightarrow f$  nemá stacionárne body (obr. 4.3.19 vľavo).

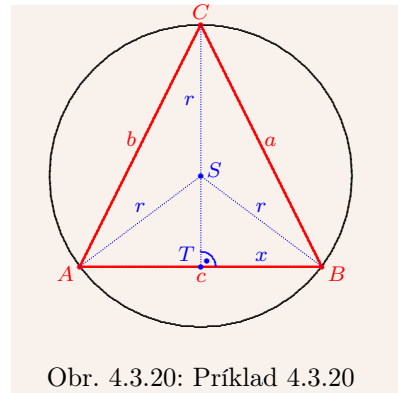
b) Funkcia  $f(x) = \operatorname{tg} x$ ,  $x \in (-\frac{\pi}{3}; \frac{\pi}{4})$  nemá lokálne, ale má globálne extrémny.

$x \in (-\frac{\pi}{3}; \frac{\pi}{4}) \Rightarrow f'(x) = \frac{1}{\cos^2 x} > 0 \Rightarrow f$  je rastúca  $\Rightarrow$  v bode  $-\frac{\pi}{3}$  má globálne minimum rovné  $\sqrt{3}$ , v bode  $\frac{\pi}{4}$  má globálne maximum rovné 1 (obr. 4.3.19 vpravo).

c) Dirichletova funkcia  $\chi$  nemá deriváciu v žiadnom bode  $x \in \mathbb{R}$ . Takže extrémny nezistíme pomocou jej derivácie. Je zrejmé, že v každom bode  $x \in I$  má lokálne a globálne minimum a v každom bode  $x \in Q$  má lokálne a globálne maximum. ■



Obr. 4.3.19: Príklad 4.3.19



Obr. 4.3.20: Príklad 4.3.20

**Príklad 4.3.20.**

Do kružnice s polomerom  $r > 0$  vpíšte rovnoramenný trojuholník s maximálnym obsahom.

**Riešenie.**

Označme trojuholník  $ABC$  (obr. 4.3.20), stred základne  $T$  a stred kružnice  $S$ .

Označme  $|AT| = |TB| = x$  a označme  $P(x)$  obsah trojuholníka  $ABC$ .  $\Rightarrow$

$c = |AB| = 2x$ ,  $|TS| = \sqrt{r^2 - x^2}$ , výška  $v_c = |TC| = |CS| + |TS| = r + \sqrt{r^2 - x^2} \Rightarrow$

$P(x) = \frac{1}{2}c \cdot v_c = x[r + \sqrt{r^2 - x^2}] = xr + x\sqrt{r^2 - x^2}$ ,  $x \in (0; r) \Rightarrow$

$P'(x) = r + \sqrt{r^2 - x^2} + x \frac{-2x}{2\sqrt{r^2 - x^2}} = \frac{r\sqrt{r^2 - x^2} + r^2 - x^2 - x^2}{\sqrt{r^2 - x^2}} = 0$ ,  $x \in (0; r) \Leftrightarrow$

$$r\sqrt{r^2 - x^2} + r^2 - 2x^2 = 0 \Leftrightarrow r\sqrt{r^2 - x^2} = 2x^2 - r^2 \Leftrightarrow$$

$$r^2(r^2 - x^2) = 4x^4 - 4x^2r^2 + r^4 \Leftrightarrow 0 = 4x^4 - 3x^2r^2 = x^2(4x^2 - 3r^2) \Rightarrow$$

tri riešenia  $x_1 = \frac{r\sqrt{3}}{2}$ ,  $x_2 = -\frac{r\sqrt{3}}{2}$ ,  $x_3 = 0 \Rightarrow$  vyhovuje iba  $x_1 = \frac{r\sqrt{3}}{2} \approx 0,866r > 0$ .

Vypočítať  $P''(x_1)$  nie je zložité, ale je dosť prácne, preto použijeme  $P'(x)$ .

Funkcia  $P'(x)$ ,  $x \in (0; r)$  je spojitá a má jeden nulový bod  $x_1$ , v ktorom môže meniť znamienko. Na určenie znamienka nám stačia dva ľubovoľné body  $z_1 < x_1 < z_2$ , napríklad:

$z_1 = 0,6r \Rightarrow P'(z_1) = \frac{r\sqrt{r^2 - 0,36r^2} + r^2 - 2 \cdot 0,36r^2}{\sqrt{r^2 - 0,36r^2}} = 1,35r > 0 \Rightarrow P'$  je rastúca na  $(0; x_1)$ .

$z_2 = \sqrt{0,84r} \Rightarrow P'(z_2) = \frac{r\sqrt{r^2 - 0,84r^2 + r^2 - 2 \cdot 0,84r^2}}{\sqrt{r^2 - 0,84r^2}} = -0,7r < 0 \Rightarrow P'$  je klesajúca na  $(x_1; 1)$ .

Z toho vyplýva, že  $P$  má ostré lokálne maximum  $P(x_1) = \frac{1}{2}cv_c = \frac{r^2 3\sqrt{3}}{4}$ . Potom platí:

$$c = 2x_1 = 2\frac{r\sqrt{3}}{2} = r\sqrt{3}, \quad v_c = r + \sqrt{r^2 - x_1^2} = r + \sqrt{r^2 - \frac{3r^2}{4}} = r + \sqrt{\frac{r^2}{4}} = \frac{3r}{2} \Rightarrow$$

$$a = b = \sqrt{v_c^2 + \left(\frac{c}{2}\right)^2} = \sqrt{\frac{9r^2}{4} + \frac{3r^2}{4}} = r\sqrt{3} \Rightarrow a = b = c \Rightarrow$$

Maximálny obsah  $\frac{r^2 3\sqrt{3}}{4}$  má rovnostranný trojuholník so stranou  $r\sqrt{3}$ . ■

### 4.3.5 Konvexnosť a konkávnosť funkcie

Dôležitou súčasťou vyšetřovania priebehu funkcie je určenie intervalov, na ktorých je táto funkcia konvexná alebo konkávna.

#### Veta 4.3.13.

$f$  je na intervale  $I$  diferencovateľná  $\implies f$  je na intervale  $I$ :

- a) konvexná  $\Leftrightarrow f'$  je na  $I$  neklesajúca.      b) rýdzo konvexná  $\Leftrightarrow f'$  je na  $I$  rastúca.  
c) konkávna  $\Leftrightarrow f'$  je na  $I$  nerastúca.      d) rýdzo konkávna  $\Leftrightarrow f'$  je na  $I$  klesajúca.

#### Dôkaz.

a)  $NP \Rightarrow$ : Nech  $f'$  nie je na  $I$  neklesajúca, t. j. nech pre nejaké  $x_1, x_2 \in I$ ,  $x_1 < x_2$  platí:

$$f'(x_1) = \lim_{x \rightarrow x_1} \frac{f(x) - f(x_1)}{x - x_1} > \lim_{x \rightarrow x_2} \frac{f(x) - f(x_2)}{x - x_2} = f'(x_2).$$

Potom existujú prstencové okolia  $P(x_1)$ ,  $P(x_2)$ , že pre všetky  $t_1 \in P(x_1)$ ,  $t_2 \in P(x_2)$  platí:

$$\frac{f(t_1) - f(x_1)}{t_1 - x_1} > \frac{f(t_2) - f(x_2)}{t_2 - x_2}, \quad \text{t. j.} \quad \frac{f(x_1) - f(t_1)}{x_1 - t_1} > \frac{f(x_2) - f(t_2)}{x_2 - t_2}.$$

Zvoľme  $t_1, t_2$  tak, aby  $x_1 < t_1 < t_2 < x_2$ . Potom na základe lemy 4.3.14 platí:

$$\frac{f(x_1) - f(t_1)}{x_1 - t_1} \leq \frac{f(t_2) - f(t_1)}{t_2 - t_1} = \frac{f(t_1) - f(t_2)}{t_1 - t_2} \leq \frac{f(x_2) - f(t_2)}{x_2 - t_2}.$$

Dostali sme spor, ktorý dokazuje, že funkcia  $f'$  je neklesajúca.

$PP \Leftarrow$ : Z existencie derivácie  $f'$  na  $I$  vyplýva, že je funkcia  $f$  spojitá na intervale  $I$ .

Nech  $x, x_1, x_2 \in I$ ,  $x_1 < x < x_2$  sú ľubovoľné. Definujme funkcie  $\varphi, \psi$  takto:

$$\varphi(t) = f(t) - f(x_1) - \frac{f(x_1) - f(x)}{x_1 - x} (t - x_1), \quad t \in \langle x_1; x \rangle,$$

$$\psi(t) = f(t) - f(x) - \frac{f(x) - f(x_2)}{x - x_2} (t - x), \quad t \in \langle x; x_2 \rangle.$$

Funkcia  $\varphi$  je spojitá na intervale  $\langle x_1; x \rangle$ ,  $\varphi(x_1) = \varphi(x) = 0$  a platí:

$$\varphi'(t) = f'(t) - \frac{f(x_1) - f(x)}{x_1 - x}, \quad t \in (x_1; x).$$

Funkcia  $\psi$  je spojitá na intervale  $\langle x; x_2 \rangle$ ,  $\psi(x) = \psi(x_2) = 0$  a platí:

$$\psi'(t) = f'(t) - \frac{f(x) - f(x_2)}{x - x_2}, \quad t \in (x; x_2).$$

To znamená, že obe funkcie  $\varphi$ ,  $\psi$  spĺňajú predpoklady Rolleho vety o strednej hodnote 4.3.2. Potom existujú  $c_1 \in (x_1; x)$ ,  $c_2 \in (x; x_2)$ , t. j.  $c_1 < c_2$  také, že platí:

$$\varphi'(c_1) = f'(c_1) - \frac{f(x_1) - f(x)}{x_1 - x} = 0, \quad \psi'(c_2) = f'(c_2) - \frac{f(x) - f(x_2)}{x - x_2} = 0.$$

Keďže je funkcia  $f'$  neklesajúca, potom pre body  $x_1 < x < x_2$  platí

$$\frac{f(x_1) - f(x)}{x_1 - x} = f'(c_1) \leq f'(c_2) = \frac{f(x) - f(x_2)}{x - x_2}.$$

Z toho na základe lemy 4.3.14 vyplýva, že je funkcia  $f$  konvexná.

Dôkaz častí b), c), d) je analogický ako v prípade a). ■

#### Lema 4.3.14.

$f$  je na intervale  $I$  konvexná [resp. konkávna]  $\iff$  pre všetky  $x, x_1, x_2 \in I$ ,  $x_1 < x < x_2$ :

$$\frac{f(x_1) - f(x)}{x_1 - x} \leq \frac{f(x_2) - f(x)}{x_2 - x} \quad \left[ \text{resp.} \quad \frac{f(x_1) - f(x)}{x_1 - x} \geq \frac{f(x_2) - f(x)}{x_2 - x} \right]. \quad (4.6)$$

$f$  je na intervale  $I \subset D(f)$  rýdzo konvexná [resp. rýdzo konkávna]  $\iff$   
pre všetky  $x, x_1, x_2 \in I$ ,  $x_1 < x < x_2$ :

$$\frac{f(x_1) - f(x)}{x_1 - x} < \frac{f(x_2) - f(x)}{x_2 - x} \quad \left[ \text{resp.} \quad \frac{f(x_1) - f(x)}{x_1 - x} > \frac{f(x_2) - f(x)}{x_2 - x} \right]. \quad (4.7)$$

#### Dôkaz.

Vetu dokážeme pre konvexnú funkciu, dôkaz pre ostatné funkcie je analogický.

$NP \Rightarrow$ : Z definície konvexnosti vyplýva, že pre všetky  $x, x_1, x_2 \in I$ ,  $x_1 < x < x_2$  platí:

$$\begin{aligned} 0 &\leq \frac{x - x_1}{x_2 - x_1} f(x_2) + \frac{x_2 - x}{x_2 - x_1} f(x_1) - f(x) = \\ &= \frac{x - x_1}{x_2 - x_1} f(x_2) + \frac{x_2 - x}{x_2 - x_1} f(x_1) - \frac{x_2 - x_1}{x_2 - x_1} f(x). \end{aligned} \quad (4.8)$$

Po vynásobení výrazom  $x_2 - x_1 > 0$  a roznásobení dostaneme nerovnosť:

$$\begin{aligned} 0 &\leq (x - x_1)f(x_2) + (x_2 - x)f(x_1) - (x_2 - x_1)f(x) = \\ &= xf(x_2) - x_1f(x_2) + x_2f(x_1) - xf(x_1) - x_2f(x) + x_1f(x). \end{aligned} \quad (4.9)$$

$PP \Leftarrow$ : Z predpokladov vyplýva, že pre všetky  $x, x_1, x_2 \in I$ ,  $x_1 < x < x_2$  platí:

$$0 \leq \frac{f(x_2) - f(x)}{x_2 - x} - \frac{f(x_1) - f(x)}{x_1 - x} = \frac{f(x_2) - f(x)}{x_2 - x} - \frac{f(x) - f(x_1)}{x - x_1}.$$

Po vynásobení výrazmi  $x_2 - x > 0$ ,  $x - x_1 > 0$  dostaneme tiež nerovnosť (4.9):

$$\begin{aligned} 0 &\leq (x - x_1)[f(x_2) - f(x)] - (x_2 - x)[f(x) - f(x_1)] = \\ &= xf(x_2) - xf(x) - x_1f(x_2) + x_1f(x) - x_2f(x) + x_2f(x_1) + xf(x) - xf(x_1) = \\ &= xf(x_2) - x_1f(x_2) + x_1f(x) - x_2f(x) + x_2f(x_1) - xf(x_1). \end{aligned}$$

Všetky úpravy, ktoré sme použili v  $NP \Rightarrow$  a  $PP \Leftarrow$  sú ekvivalentné.

To znamená, že vzťahy (4.8) a (4.6) sú navzájom ekvivalentné a veta je dokázaná. ■

Ak má funkcia  $f$  na intervale  $I$  druhú deriváciu  $f''$ , potom môžeme jej konvexnosť a konkávnosť vyšetřovať pomocou monotónnosti funkcie  $f'$  na základe vety 4.3.8.

### Veta 4.3.15.

$f$  má na intervale  $I$  druhú deriváciu  $f'' \implies f$  je na intervale  $I$ :

- rýdzo konvexná  $\Leftrightarrow \forall x \in I: f''(x) \geq 0$  a neexistuje interval  $J \subset I$ , aby  $\forall x \in J: f''(x) = 0$ .
- konvexná  $\Leftrightarrow \forall x \in I: f''(x) \geq 0$ .
- rýdzo konkávna  $\Leftrightarrow \forall x \in I: f''(x) \leq 0$  a neexistuje interval  $J \subset I$ , aby  $\forall x \in J: f''(x) = 0$ .
- konkávna  $\Leftrightarrow \forall x \in I: f''(x) \leq 0$ .

Interval  $J$  v častiach a), c) musí byť nedegenerovaný, t. j. musí mať rôzne koncové body.

### Dôkaz.

Veta je priamym dôsledkom viet 4.3.8 a 4.3.13. ■

### Dôsledok 4.3.15.a.

$f''(x) > 0$  [resp.  $f''(x) < 0$ ] pre všetky  $x \in I \implies$   
 $f$  je na intervale  $I$  rýdzo konvexná [resp. rýdzo konkávna].

Z vety 4.3.15 vyplýva praktický návod ako postupovať pri určovaní konvexnosti a konkávnosti funkcie  $f$  v prípade, že existuje  $f''$ . Vyriešime rovnicu  $f''(x) = 0$  a nájdeme intervaly, na ktorých je funkcia  $f''$  nezáporná a nekladná, resp. kladná a záporná.

### Príklad 4.3.21.

Nájdite intervaly, na ktorých je konvexná a konkávna funkcia  $f$ , ak:

- $f(x) = x^3 - x^2 - x + 1$ ,
- $f(x) = \frac{2x}{1+x^2}$ ,
- $f(x) = \max\{x, x^2\}$ .

### Riešenie.

$$a) x \in \mathbb{R} \implies f'(x) = 3x^2 - 2x - 1 \implies f''(x) = 6x - 2 = 0 \Leftrightarrow x = \frac{1}{3}.$$

Funkcia  $f''$  je spojitá na  $\mathbb{R}$  a má jeden nulový bod  $x = \frac{1}{3}$  (obr. 4.3.21 vľavo).

$$x < \frac{1}{3} \implies f''(x) < 0 \implies f \text{ je rýdzo konkávna na } \left(-\infty; \frac{1}{3}\right).$$

$$x > \frac{1}{3} \implies f''(x) > 0 \implies f \text{ je rýdzo konvexná na } \left(\frac{1}{3}; \infty\right).$$

$$b) x \in \mathbb{R} \implies f'(x) = \frac{2-2x^2}{(1+x^2)^2} \implies f''(x) = \frac{4x(x^2-3)}{(1+x^2)^3} = 0 \Leftrightarrow x = 0 \text{ alebo } x = \pm\sqrt{3}.$$

$$x < -\sqrt{3} \text{ alebo } x \in (0; \sqrt{3}) \implies f''(x) < 0 \implies f \text{ je rýdzo konkávna na } \left(-\infty; -\sqrt{3}\right) \text{ a } \left(0; \sqrt{3}\right).$$

$$x \in \left(-\sqrt{3}; 0\right) \text{ alebo } x > \sqrt{3} \implies f''(x) > 0 \implies f \text{ je rýdzo konvexná na } \left(-\sqrt{3}; 0\right) \text{ a } \left(\sqrt{3}; \infty\right).$$

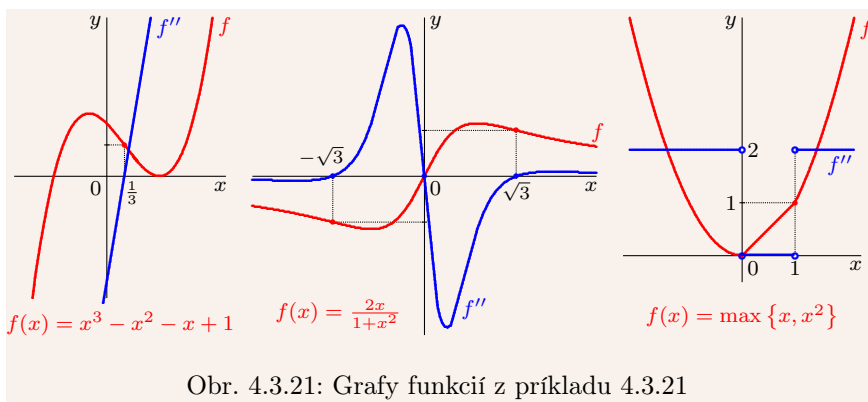
c) Funkcia  $f$  je spojitá na celej množine  $\mathbb{R}$  (obr. 4.3.21 vpravo) a platí:



$$\left. \begin{array}{l} x \in (0; 1) \Rightarrow f(x) = x \Rightarrow f'(x) = 1 \Rightarrow f''(x) = 0 \\ x \in (-\infty; 0) \cup (1; \infty) \Rightarrow f(x) = x^2 \Rightarrow f'(x) = 2x \Rightarrow f''(x) = 2 \end{array} \right\} \Rightarrow$$

neexistujú<sup>10</sup>  $f''(0)$ ,  $f''(1)$  a pre všetky  $x \in \mathbb{R} - \{0, 1\}$  platí  $f''(x) > 0$ .

Aj keď neexistujú  $f''(0)$ ,  $f''(1)$ , je funkcia  $f$  konvexná (nie rýdzo) na celej množine  $\mathbb{R}$ . Rýdzo konvexná je na intervaloch  $(-\infty; 0)$  a  $(1; \infty)$ . ■



Obr. 4.3.21: Grafy funkcií z príkladu 4.3.21

Z uvedeného a z definície inflexie vyplýva nasledujúca veta.

**Veta 4.3.16.**

$f'$  existuje v okolí  $O(x_0)$ , potom:  $f$  má v bode  $x_0 \in D(f)$  inflexiu  $\iff$

$f'$  je rastúca [resp. klesajúca] pre  $x < x_0$  a klesajúca [resp. rastúca] pre  $x > x_0$ .

**Dôsledok 4.3.16.a.**

$f$  má v bode  $x_0$  inflexiu, existuje  $f''(x_0) \implies f''(x_0) = 0$ .

**Veta 4.3.17.**

$f'(x_0)$  je konečná,  $f''(x) \neq 0$  existuje v  $O(x_0)$ ,  $x \neq x_0$ :

- $f''(x) > 0$  pre  $x < x_0$ ,  $f''(x) < 0$  pre  $x > x_0 \implies f$  má v bode  $x_0$  inflexiu.
- $f''(x) < 0$  pre  $x < x_0$ ,  $f''(x) > 0$  pre  $x > x_0 \implies f$  má v bode  $x_0$  inflexiu.
- $f''(x) > 0$  [resp.  $f''(x) < 0$ ] pre  $x \in O(x_0)$ ,  $x \neq x_0 \implies f$  nemá v bode  $x_0$  inflexiu.

Inflexné body budeme hľadať ako korene rovnice  $f''(x) = 0$ . Avšak nie každý takýto bod musí byť inflexný (príklad 4.3.22). Na druhej strane môže mať  $f$  inflexiu aj v bode, v ktorom  $f''$  neexistuje. To znamená, že musíme brať do úvahy aj tieto body.

**Príklad 4.3.22.**

Nájdite inflexné body funkcie  $f_n(x) = x^n$ ,  $x \in \mathbb{R}$ ,  $n \in \mathbb{N}$ .

**Riešenie.**

$n=1 \implies f_1(x) = x$ ,  $f_1'(x) = 1$ ,  $f_1''(x) = 0$ ,  $x \in \mathbb{R}$ ,  $f_1$  nemá inflexné body.

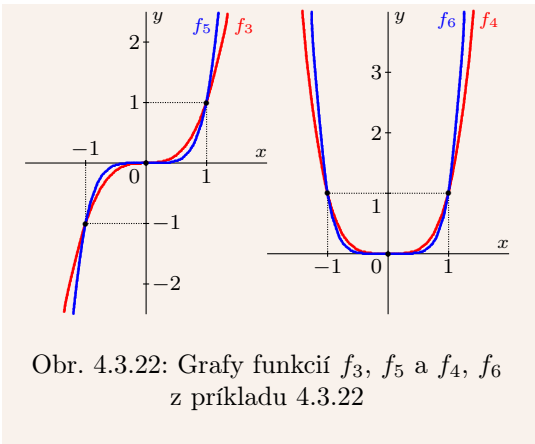
<sup>10</sup>Existujú iba jednostranné derivácie  $f''_-(0) = 2$ ,  $f''_+(0) = 0$ ,  $f''_-(1) = 0$ ,  $f''_+(1) = 2$ .

$n=2 \Rightarrow f_2(x)=x^2, f_2'(x)=2x, f_2''(x)=2>0, x \in R \xrightarrow{\text{veta 4.3.15}} f_2$  je rýdzo konvexná na  $R$ .

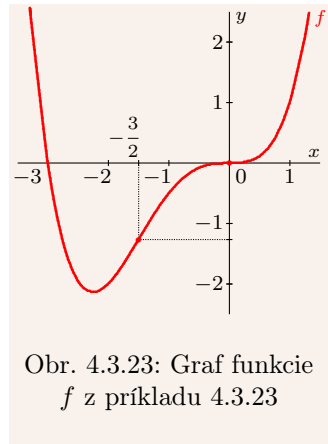
$n=3 \Rightarrow f_3(x)=x^3, f_3'(x)=3x^2, f_3''(x)=3x, x \in R \xrightarrow{\text{veta 4.3.17}}$  bod  $x_0=0$  je inflexný  
 $(f_3''(x) < 0$  pre  $x < 0, f_3''(x) > 0$  pre  $x > 0)$ .

$n=2k+1, k \in N \Rightarrow f_n'(x)=(2k+1)x^{2k}, f_n''(x)=(2k+1)2kx^{2k-1}, x \in R \Rightarrow$   
 $f_n''(x) < 0$  pre  $x < 0, f_n''(x) > 0$  pre  $x > 0 \xrightarrow{\text{veta 4.3.17}}$  bod  $x_0=0$  je inflexný.

$n=2k, k \in N \Rightarrow f_n'(x)=2kx^{2k-1}, f_n''(x)=2k(2k-1)x^{2k-2} > 0, x \in R \xrightarrow{\text{veta 4.3.15}}$   
 $f_2$  je rýdzo konvexná na  $R$  (obr. 4.3.22). ■



Obr. 4.3.22: Grafy funkcií  $f_3, f_5$  a  $f_4, f_6$  z príkladu 4.3.22



Obr. 4.3.23: Graf funkcie  $f$  z príkladu 4.3.23

### Príklad 4.3.23.

Vyšetrite konvexnosť a konkávnosť funkcie  $f(x) = \frac{3x^3+x^4}{4}, x \in R$ .

#### Riešenie.

$$x \in R \Rightarrow f'(x) = \frac{9x^2+4x^3}{4}, f''(x) = \frac{18x+12x^2}{4} = \frac{3x(3+2x)}{2} = 0 \Leftrightarrow x_1 = 0, x_2 = -\frac{3}{2}.$$

$f''(x), x \in R$  spojitá  $\Rightarrow$  znamienko funkcie  $f''$  sa mení iba v nulových bodoch  $\Rightarrow$

$$\left. \begin{array}{l} -2 \in (-\infty; -\frac{3}{2}) \Rightarrow f''(-2) = 3 > 0 \Rightarrow f \text{ je konvexná na } (-\infty; -\frac{3}{2}) \\ -1 \in (-\frac{3}{2}; 0) \Rightarrow f''(-1) = -\frac{3}{2} < 0 \Rightarrow f \text{ je konkávna na } (-\frac{3}{2}; 0) \\ 2 \in (0; \infty) \Rightarrow f''(2) = 21 > 0 \Rightarrow f \text{ je konvexná na } (0; \infty) \end{array} \right\} \Rightarrow$$

$f$  má dva inflexné body  $x_1 = 0, x_2 = -\frac{3}{2}$  (obr. 4.3.23). ■

Ak existuje tretia derivácia  $f'''(x_0)$ , potom môžeme pomocou nej rozhodnúť, či  $x_0$  je alebo nie inflexným bodom danej funkcie  $f$ . Hovorí o tom nasledujúca veta.

### Veta 4.3.18.

$f''(x_0) = 0, f'''(x_0) \neq 0 \Rightarrow x_0$  je inflexným bodom funkcie  $f$ .

#### Dôkaz.

Dokážeme pre  $f'''(x_0) > 0$ . Pre  $f'''(x_0) < 0$  je dôkaz analogický.

$$f'''(x_0) > 0 \Rightarrow f'''(x_0) = \lim_{x \rightarrow x_0} \frac{f''(x) - f''(x_0)}{x - x_0} = \lim_{x \rightarrow x_0} \frac{f''(x)}{x - x_0} > 0 \xrightarrow{\text{dôsledok 3.2.7.a}}$$

existuje  $O(x_0)$  také, že pre všetky  $x \in O(x_0)$ ,  $x \neq x_0$  platí  $\frac{f''(x)}{x - x_0} > 0 \Rightarrow$   

$$\left. \begin{array}{l} f''(x) < 0 \text{ pre } x < x_0 \\ f''(x) > 0 \text{ pre } x > x_0 \end{array} \right\} \xrightarrow{\text{veta 4.3.17}} x_0 \text{ je inflexný bod funkcie } f. \blacksquare$$

**Príklad 4.3.24.**

a)  $f(x) = \sin x$ ,  $x \in \mathbb{R}$  je spojitá (obr. 4.3.24).

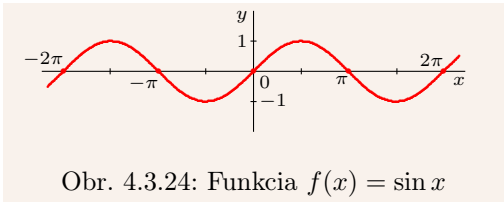
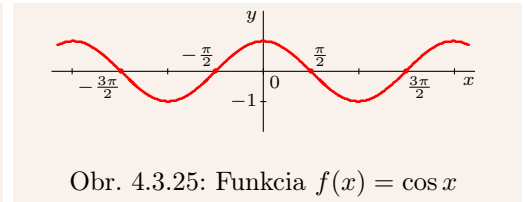
$$x \in \mathbb{R} \Rightarrow f'(x) = \cos x \Rightarrow f''(x) = -\sin x = 0 \Leftrightarrow x = k\pi, k \in \mathbb{Z}.$$

$$f'''(x) = -\cos x \Rightarrow f'''(k\pi) = -\cos k\pi = -(-1)^k \neq 0 \Rightarrow x = k\pi, k \in \mathbb{Z} \text{ sú inflexné body.}$$

b)  $f(x) = \cos x$ ,  $x \in \mathbb{R}$  je spojitá (obr. 4.3.25).

$$x \in \mathbb{R} \Rightarrow f'(x) = -\sin x \Rightarrow f''(x) = -\cos x = 0 \Leftrightarrow x = \frac{\pi}{2} + k\pi, k \in \mathbb{Z}.$$

$$f'''(x) = \sin x \Rightarrow \sin\left(\frac{\pi}{2} + k\pi\right) = (-1)^k \neq 0 \Rightarrow x = \frac{\pi}{2} + k\pi, k \in \mathbb{Z} \text{ sú inflexné body. } \blacksquare$$

Obr. 4.3.24: Funkcia  $f(x) = \sin x$ Obr. 4.3.25: Funkcia  $f(x) = \cos x$ 

Funkcia  $f_5(x) = x^5$  v bode 0 má inflexiu, ale  $f_4(x) = x^4$  v bode 0 inflexiu nemá (má tam extrém). Predchádzajúce vety použiť nemôžeme, pretože  $f_4'(0) = f_4''(0) = f_4'''(0) = 0$ ,  $f_5'(0) = f_5''(0) = f_5'''(0) = f_5^{(4)}(0) = 0$  (príklad 4.3.22). Tieto funkcie môžeme vyšetriť pomocou nasledujúcich funkcií, ktoré prezentujeme bez dôkazov.

**Veta 4.3.19.**

$$f'(x_0) = f''(x_0) = \dots = f^{(n-1)}(x_0) = 0, f^{(n)}(x_0) \neq 0, n \in \mathbb{N}:$$

a)  $n = 2k - 1$ ,  $k \in \mathbb{N}$  (nepárne)  $\Rightarrow f$  nemá v bode  $x_0$  lokálny extrém:

$$\text{i) } f^{(n)}(x_0) > 0 \Rightarrow f \text{ je rastúca v } x_0, \quad \text{ii) } f^{(n)}(x_0) < 0 \Rightarrow f \text{ je klesajúca v } x_0.$$

b)  $n = 2k$ ,  $k \in \mathbb{N}$  (párne)  $\Rightarrow f$  má v bode  $x_0$  ostrý lokálny extrém  $f(x_0)$ :

$$\text{i) } f^{(n)}(x_0) > 0 \Rightarrow f(x_0) \text{ je minimum,} \quad \text{ii) } f^{(n)}(x_0) < 0 \Rightarrow f(x_0) \text{ je maximum.}$$

**Veta 4.3.20.**

$$f''(x_0) = \dots = f^{(n-1)}(x_0) = 0, f^{(n)}(x_0) \neq 0, n \in \mathbb{N}, n \geq 2:$$

a)  $n = 2k + 1$ ,  $k \in \mathbb{N}$  (nepárne)  $\Rightarrow f$  má v bode  $x_0$  inflexiu.

$$\text{b) } n = 2k, k \in \mathbb{N} \text{ (párne):} \quad \text{i) } f^{(n)}(x_0) > 0 \Rightarrow f \text{ je v bode } x_0 \text{ rýdzo konvexná.}$$

$$\text{ii) } f^{(n)}(x_0) < 0 \Rightarrow f \text{ je v bode } x_0 \text{ rýdzo konkávna.}$$

Na rozdiel od vety 4.3.19 nás vo vete 4.3.20 nezaujímajú hodnoty  $f'(x_0)$ .

**Príklad 4.3.25.**

Uvažujme funkciu  $f_n(x) = x^n$ ,  $x \in R$ ,  $n \in N$  (príklad 4.3.9, obr. 4.3.22).

$$f'_n(x) = nx^{n-1}, \quad f''_n(x) = n(n-1)x^{n-2}, \quad \dots, \quad f_n^{(n-1)}(x) = n(n-1) \cdots 2x,$$

$$f_n^{(n)}(x) = n! \Rightarrow f'_n(0) = f''_n(0) = \dots = f_n^{(n-1)}(0) = 0, \quad f_n^{(n)}(0) = n! > 0 \Rightarrow$$

$n = 2k$ ,  $k \in N \Rightarrow f_n$  je v bode 0 rýdzo konvexná,  $f_n$  má v bode 0 ostré lokálne minimum.

$n = 2k+1$ ,  $k \in N \Rightarrow f_n$  je v bode 0 rastúca,  $f_n$  má v bode 0 inflexiu. ■

**Príklad 4.3.26.**

Nájdite extrémny a inflexné body funkcie  $f(x) = \frac{x^7}{7} - \frac{x^6}{3} + \frac{x^5}{5} + 3$ .

**Riešenie.**

$$x \in R \Rightarrow f'(x) = x^6 - 2x^5 + x^4 = x^4(x-1)^2 \Leftrightarrow x_1 = 0 \text{ alebo } x_2 = 1 \Rightarrow$$

$$f''(x) = 6x^5 - 10x^4 + 4x^3 = 2x^3(x-1)(3x-2) = 0 \Leftrightarrow x_1 = 0, x_2 = 1 \text{ alebo } x_3 = \frac{2}{3}.$$

$$f'''(x) = 30x^4 - 40x^3 + 12x^2 \Rightarrow f'''(0) = 0, f'''(1) = 2 > 0, f'''(\frac{2}{3}) = -\frac{16}{27} < 0 \Rightarrow$$

$f$  je v bode  $x_2$  rastúca,  $x_2$  je inflexný bod funkcie  $f$ .

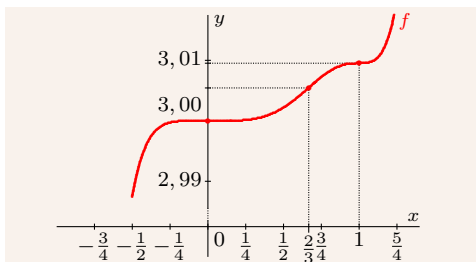
$x_3$  je inflexný bod funkcie  $f$ ,  $f'(\frac{2}{3}) = \frac{16}{729} > 0 \xrightarrow{\text{veta 4.3.10}} f$  je v bode  $x_3$  rastúca.

$$f^{(4)}(x) = 120x^3 - 120x^2 + 24x \Rightarrow f^{(4)}(0) = 0.$$

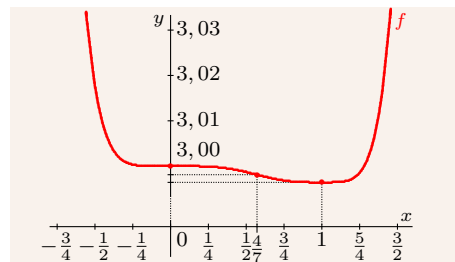
$$f^{(5)}(x) = 360x^2 - 240x + 24 \Rightarrow f^{(5)}(0) = 24 > 0 \Rightarrow$$

$f$  je v bode  $x_1$  rastúca,  $x_1$  je inflexný bod funkcie  $f$ .

Funkcia  $f$  nemá žiadne extrémny a má tri inflexné body 0, 1,  $\frac{2}{3}$  (obr. 4.3.26). ■



Obr. 4.3.26: Funkcia z príkladu 4.3.26  
(os  $y$  je 40-krát zväčšená)



Obr. 4.3.27: Funkcia z príkladu 4.3.27  
(os  $y$  je 30-krát zväčšená)

**Príklad 4.3.27.**

Nájdite extrémny a inflexné body funkcie  $f(x) = \frac{x^8}{8} - \frac{3x^7}{7} + \frac{x^6}{2} - \frac{x^5}{5} + 3$ .

**Riešenie.**

$$x \in R \Rightarrow f'(x) = x^7 - 3x^6 + 3x^5 - x^4 = x^4(x-1)^3 \Leftrightarrow x_1 = 0 \text{ alebo } x_2 = 1 \Rightarrow$$

$$f''(x) = 7x^6 - 18x^5 + 15x^4 - 4x^3 = x^3(x-1)^2(7x-4) \Leftrightarrow x_1 = 0, x_2 = 1 \text{ alebo } x_3 = \frac{4}{7}.$$

$$f'''(x) = 42x^5 - 90x^4 + 60x^3 - 12x^2 \Rightarrow f'''(0) = 0, f'''(1) = 0, f'''(\frac{4}{7}) = \frac{576}{2401} > 0 \Rightarrow$$

$$x_3 \text{ je inflexný bod funkcie } f, f'(\frac{4}{7}) = -\frac{6912}{823543} < 0 \Rightarrow f \text{ je v bode } x_3 \text{ klesajúca.}$$

$$f^{(4)}(x) = 210x^4 - 360x^3 + 180x^2 - 24x \Rightarrow f^{(4)}(0) = 0, f^{(4)}(1) = 6 > 0 \Rightarrow$$

$$f \text{ je v bode } x_2 \text{ rýdzo konvexná, } f \text{ má v bode } x_2 \text{ lokálne minimum.}$$

$$f^{(5)}(x) = 840x^3 - 1080x^2 + 360x - 24 \Rightarrow f^{(5)}(0) = -24 < 0 \Rightarrow$$

$$x_3 \text{ je inflexný bod funkcie } f, f \text{ je v bode } x_1 \text{ klesajúca (obr. 4.3.27). } \blacksquare$$

### 4.3.6 Vyšetrenie priebehu funkcie

V tejto časti uvedieme návod ako postupovať pri vyšetrovaní jednotlivých vlastností funkcie. Zhrnieme ho do nasledujúcich bodov:

- Určíme definičný obor funkcie (pokiaľ nie je zadaný).
- Určíme, či je funkcia párna, nepárna alebo periodická.
- Určíme nulové body funkcie a intervaly, na ktorých je funkcia kladná a záporná.
- Určíme body spojitosti a nespojitosti funkcie. V bodoch nespojitosti a v hraničných bodoch definičného oboru (vrátane  $\pm\infty$ ) určíme jednostranné limity danej funkcie.
- Určíme stacionárne body funkcie, určíme lokálne a globálne extrémny a intervaly, na ktorých je funkcia rastúca, klesajúca, resp. konštantná.
- Určíme inflexné body funkcie a intervaly, na ktorých je funkcia konvexná a konkávna.
- Určíme asymptoty grafu funkcie a načrtne graf funkcie.

Najnázornejšiu predstavu o priebehu funkcie nám väčšinou poskytne graf. Pri jeho konštrukcii využívame všetky zistené údaje. Mnohokrát sú ale nedostatočné, preto ich musíme vhodne doplniť. Sú to napríklad nulové body prvej a druhej derivácie funkcie, prípadne iba vhodne zvolené funkčné hodnoty.

#### Príklad 4.3.28.

Vyšetríte priebeh funkcie  $f(x) = \frac{8(x-2)}{x^2} = \frac{8x-16}{x^2}$ .

#### Riešenie.

$$D(f) = \mathbb{R} - \{0\} = (-\infty; 0) \cup (0; \infty).$$

$f$  nie je periodická, nie je párna, nie je nepárna.

$$f \text{ je spojitá na } D(f), f(x) = \frac{8x-16}{x^2} = 0 \Leftrightarrow x_1 = 2 \Rightarrow \begin{cases} x \in (-\infty; 0) \Rightarrow f(x) < 0, \\ x \in (0; 2) \Rightarrow f(x) < 0, \\ x \in (2; \infty) \Rightarrow f(x) > 0. \end{cases}$$

$$\lim_{x \rightarrow 0^-} f(x) = \lim_{x \rightarrow 0^-} \frac{8(x-2)}{x^2} = \frac{-2}{0^+} = -\infty, \lim_{x \rightarrow 0^+} f(x) = \lim_{x \rightarrow 0^+} \frac{8(x-2)}{x^2} = \frac{-2}{0^+} = -\infty \Rightarrow$$

$$x_2 = 0 \text{ je neodstániteľný bod nespojitosti 2. druhu, } x = 0 \text{ je asymptota bez smernice.}$$

$$\lim_{x \rightarrow \pm\infty} f(x) = \lim_{x \rightarrow \pm\infty} \frac{8x-16}{x^2} = \lim_{x \rightarrow \pm\infty} \left[ \frac{8}{x} - \frac{16}{x^2} \right] = \frac{8}{\pm\infty} - \frac{16}{\infty} = 0 - 0 = 0.$$

$$x \in \mathbb{R}, x \neq 0 \Rightarrow f'(x) = \left[ \frac{8x-16}{x^2} \right]' = \frac{8x^2 - (8x-16)2x}{x^4} = \frac{32x-8x^2}{x^4} = \frac{32-8x}{x^3} = 0 \Leftrightarrow x_3 = 4.$$

$$f' \text{ je spojitá na } \mathbb{R} - \{0\} \Rightarrow \begin{cases} x < 0 \Rightarrow f'(x) < 0 \Rightarrow f \text{ je klesajúca na } (-\infty; 0), \\ 0 < x < 4 \Rightarrow f'(x) > 0 \Rightarrow f \text{ je rastúca na } (0; 4), \\ 4 < x \Rightarrow f'(x) < 0 \Rightarrow f \text{ je klesajúca na } (4; \infty). \end{cases}$$

$$\Rightarrow f \text{ má v bode } x_3 = 4 \text{ lokálne maximum } f(4) = 1.$$

$$x \in R, x \neq 0 \Rightarrow f''(x) = \left[ \frac{32-8x}{x^3} \right]' = \frac{-8x^3 - (32-8x)3x^2}{x^6} = \frac{16x^3 - 96x^2}{x^6} = \frac{16x-96}{x^4} = 0 \Leftrightarrow x_4 = 6.$$

$$f'' \text{ je spojitá na } R - \{0\} \Rightarrow \begin{cases} x < 0 & \Rightarrow f''(x) < 0 \Rightarrow f \text{ je konkávna na } (-\infty; 0), \\ 0 < x < 6 & \Rightarrow f''(x) < 0 \Rightarrow f \text{ je konkávna na } (0; 6), \\ 6 < x & \Rightarrow f''(x) > 0 \Rightarrow f \text{ je konvexná na } (6; \infty). \end{cases}$$

$\Rightarrow x_4 = 6$  je inflexný bod funkcie  $f$ .

$$k = \lim_{x \rightarrow \pm\infty} \frac{f(x)}{x} = \lim_{x \rightarrow \pm\infty} \frac{8x-16}{x^3} = \lim_{x \rightarrow \pm\infty} \left[ \frac{8}{x^2} - \frac{16}{x^3} \right] = 0 - 0 = 0 \Rightarrow$$

$$q = \lim_{x \rightarrow \pm\infty} [f(x) - kx] = \lim_{x \rightarrow \pm\infty} [f(x) - 0 \cdot x] = \lim_{x \rightarrow \pm\infty} f(x) = 0 \Rightarrow y = kx + q = 0.$$

$\Rightarrow y = 0$  je asymptota so smernicou (obr. 4.3.28, tab. 4.3.4). ■

( $-\infty; 0$ )	(0; 2)	(2; 4)	(4; 6)	(6; $\infty$ )
0 ... bod nespojitosti		2 ... nulový bod		
- záporná $f(x) < 0$	- záporná $f(x) < 0$	+	kladná $f(x) > 0$	+
4 ... lokálne maximum				
↘ klesá $f'(x) < 0$	↗	rastie $f'(x) > 0$	↗	↘ klesá $f'(x) < 0$
6 ... inflexný bod				
∩ konkávna $f''(x) < 0$	∩	konkávna $f''(x) < 0$	∩	∪ konvexná $f''(x) > 0$

Tabuľka 4.3.4: Niektoré dôležité hodnoty funkcie  $f(x) = \frac{8(x-2)}{x^2}$  z príkladu 4.3.28

### Príklad 4.3.29.

Vyšetrte priebeh funkcie: a)  $f(x) = \frac{|x-1|}{x+2}$ , b)  $f(x) = \frac{|x-1|}{x-2}$ .

#### Riešenie.

$$a) D(f) = x \in R - \{-2\} = (-\infty; -2) \cup (-2; \infty).$$

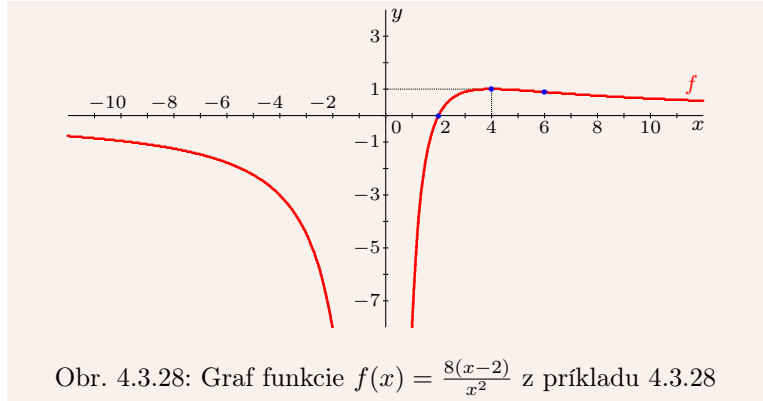
$$f(x) = \frac{|x-1|}{x+2} = \begin{cases} \frac{1-x}{x+2} = \frac{3-x-2}{x+2} = \frac{3}{x+2} - 1, & x \leq 1, x \neq -2, \\ \frac{x-1}{x+2} = \frac{x+2-3}{x+2} = 1 - \frac{3}{x+2}, & x \geq 1. \end{cases}$$

$f$  nie je periodická, nie je párna, nie je nepárna.

$$f \text{ je spojitá na } D(f), f(x) = \frac{|x-1|}{x+2} = 0 \Leftrightarrow x_2 = 1 \Rightarrow \begin{cases} x \in (-\infty; -2) \Rightarrow f(x) < 0, \\ x \in (-2; 1) \Rightarrow f(x) > 0, \\ x \in (1; \infty) \Rightarrow f(x) > 0. \end{cases}$$

$$\lim_{x \rightarrow -2^-} f(x) = \lim_{x \rightarrow -2^-} \frac{|x-1|}{x+2} = \frac{3}{0^-} = -\infty, \quad \lim_{x \rightarrow -2^+} f(x) = \lim_{x \rightarrow -2^+} \frac{|x-1|}{x+2} = \frac{3}{0^+} = \infty \Rightarrow$$

$x_1 = -2$  je neodstrániteľný bod nespojitosti 2. druhu,  $x = -2$  je asymptota bez smernice.

Obr. 4.3.28: Graf funkcie  $f(x) = \frac{8(x-2)}{x^2}$  z príkladu 4.3.28

$$\lim_{x \rightarrow -\infty} f(x) = \lim_{x \rightarrow -\infty} \left[ \frac{3}{x+2} - 1 \right] = -1, \quad \lim_{x \rightarrow \infty} f(x) = \lim_{x \rightarrow \infty} \left[ 1 - \frac{3}{x+2} \right] = 1.$$

$$x \in R - \{-2, 1\} \Rightarrow f'(x) = \begin{cases} \left[ \frac{3}{x+2} - 1 \right]' = -3(x+2)^{-2} = \frac{-3}{(x+2)^2} < 0, & x < 1, x \neq -2, \\ \Rightarrow f \text{ je klesajúca na intervaloch } (-\infty; -2), (-2; 1), \\ \left[ 1 - \frac{3}{x+2} \right]' = 3(x+2)^{-2} = \frac{3}{(x+2)^2} > 0, & x > 1, \\ \Rightarrow f \text{ je rastúca na intervale } \langle 1; \infty \rangle. \end{cases}$$

$$\Rightarrow f'_-(1) = -\frac{1}{3}, f'_+(1) = \frac{1}{3}, f' \text{ je spojitá na } R - \{-2, 1\}, f' \text{ nemá nulové body,} \\ f \text{ má v bode } x_2 = 1 \text{ lokálne minimum } f(1) = 0.$$

$$x \in R - \{-2, 1\} \Rightarrow f''(x) = \begin{cases} [-3(x+2)^{-2}]' = 6(x+2)^{-3} = \frac{6}{(x+2)^3}, & x < 1, x \neq -2, \\ [3(x+2)^{-2}]' = -6(x+2)^{-3} = \frac{-6}{(x+2)^3}, & x > 1. \end{cases}$$

$$f''_-(1) = \frac{2}{9}, f''_+(1) = -\frac{2}{9}, f'' \text{ je spojitá na } R - \{-2, 1\}, f'' \text{ nemá nulové body} \Rightarrow$$

$$\left. \begin{array}{l} x < -2 \Rightarrow f''(x) < 0 \Rightarrow f \text{ je konkávna na } (-\infty; -2) \\ -2 < x < 1 \Rightarrow f''(x) > 0 \Rightarrow f \text{ je konvexná na } (-2; 1) \\ 1 < x \Rightarrow f''(x) < 0 \Rightarrow f \text{ je konkávna na } \langle 1; \infty \rangle \end{array} \right\} \Rightarrow \\ \Rightarrow x_3 = 1 \text{ je inflexný bod funkcie } f.$$

$$k_{1,2} = \lim_{x \rightarrow \pm\infty} \frac{f(x)}{x} = \lim_{x \rightarrow \pm\infty} f(x) \cdot \lim_{x \rightarrow \pm\infty} \frac{1}{x} = \pm 1 \cdot 0 = 0 \Rightarrow$$

$$q_{1,2} = \lim_{x \rightarrow \pm\infty} [f(x) - k_{1,2}x] = \lim_{x \rightarrow \pm\infty} f(x) = \pm 1 \Rightarrow y = kx + q = \pm 1.$$

$$\Rightarrow y = 1, y = -1 \text{ sú asymptoty so smernicou (obr. 4.3.29, tab. 4.3.5).}$$

$$\text{b) } D(f) = x \in R - \{2\} = (-\infty; 2) \cup (2; \infty).$$

$$f(x) = \frac{|x-1|}{x-2} = \begin{cases} \frac{1-x}{x-2} = \frac{2-x-1}{x-2} = \frac{-1}{x-2} - 1, & x \leq 1, \\ \frac{x-1}{x-2} = \frac{x-2+1}{x-2} = 1 + \frac{1}{x-2}, & x \geq 1, x \neq 2. \end{cases}$$

$f$  nie je periodická, nie je párna, nie je nepárna.

$$f \text{ je spojitá na } D(f), f(x) = \frac{|x-1|}{x-2} = 0 \Leftrightarrow x_2 = 1 \Rightarrow \begin{cases} x \in (-\infty; 1) \Rightarrow f(x) < 0, \\ x \in (1; 2) \Rightarrow f(x) < 0, \\ x \in (2; \infty) \Rightarrow f(x) > 0. \end{cases}$$

$(-\infty; -2)$			$(-2; 1)$			$(1; \infty)$		
-2 ... bod nespojitosti						1 ... nulový bod		
-	záporná $f(x) < 0$	-	+	kladná $f(x) > 0$	+	-	záporná $f(x) < 0$	-
1 ... lokálne minimum								
$\searrow$	klesá $f'(x) < 0$	$\searrow$	$\searrow$	klesá $f'(x) < 0$	$\searrow$	$\nearrow$	rastie $f'(x) > 0$	$\nearrow$
1 ... inflexný bod								
$\cap$	konkávna $f''(x) < 0$	$\cap$	$\cup$	konvexná $f''(x) > 0$	$\cup$	$\cap$	konkávna $f''(x) < 0$	$\cap$

Tabuľka 4.3.5: Niektoré dôležité hodnoty funkcie  $f(x) = \frac{|x-1|}{x+2}$  z príkladu 4.3.29 a)

$\lim_{x \rightarrow 2^-} f(x) = \lim_{x \rightarrow 2^-} \frac{|x-1|}{x-2} = \frac{1}{0^-} = -\infty$ ,  $\lim_{x \rightarrow 2^+} f(x) = \lim_{x \rightarrow 2^+} \frac{|x-1|}{x-2} = \frac{1}{0^+} = \infty \Rightarrow$   
 $x_1 = 2$  je neodstrániteľný bod nespojitosti 2. druhu,  $x = 2$  je asymptota bez smernice.

$$\lim_{x \rightarrow -\infty} f(x) = \lim_{x \rightarrow -\infty} \left[ \frac{-1}{x-2} - 1 \right] = -1, \quad \lim_{x \rightarrow \infty} f(x) = \lim_{x \rightarrow \infty} \left[ 1 + \frac{1}{x-2} \right] = 1.$$

$$x \in \mathbb{R} - \{1, 2\} \Rightarrow f'(x) = \begin{cases} \left[ \frac{-1}{x-2} - 1 \right]' = (x-2)^{-2} = \frac{1}{(x-2)^2} > 0, & x < 1, \\ \Rightarrow f \text{ je rastúca na intervaloch } (-\infty; 1), \\ \left[ 1 + \frac{1}{x-2} \right]' = -(x-2)^{-2} = \frac{-1}{(x-2)^2} < 0, & x > 1, x \neq 2, \\ \Rightarrow f \text{ je klesajúca na intervaloch } \langle 1; 2 \rangle, (2; \infty). \end{cases}$$

$\Rightarrow f'_-(1) = 1, f'_+(1) = -1, f'$  je spojitá na  $\mathbb{R} - \{1, 2\}$ ,  $f'$  nemá nulové body,  
 $f$  má v bode  $x_2 = 1$  lokálne maximum  $f(1) = 0$ .

$$x \in \mathbb{R} - \{1, 2\} \Rightarrow f''(x) = \begin{cases} [(x-2)^{-2}]' = -2(x-2)^{-3} = \frac{-2}{(x-2)^3}, & x < 1, \\ [-(x-2)^{-2}]' = 2(x-2)^{-3} = \frac{2}{(x-2)^3}, & x > 1, x \neq 2. \end{cases}$$

$f''_-(1) = 2, f''_+(1) = -2, f''$  je spojitá na  $\mathbb{R} - \{1, 2\}$ ,  $f''$  nemá nulové body  $\Rightarrow$

$$\left. \begin{array}{l} x < 1 \Rightarrow f''(x) > 0 \Rightarrow f \text{ je konvexná na } (-\infty; 1) \\ 1 < x < 2 \Rightarrow f''(x) < 0 \Rightarrow f \text{ je konkávna na } \langle 1; 2 \rangle \\ 2 < x \Rightarrow f''(x) > 0 \Rightarrow f \text{ je konvexná na } (2; \infty) \end{array} \right\} \Rightarrow$$

$\Rightarrow x_3 = 1$  je inflexný bod funkcie  $f$ .

$$k_{1,2} = \lim_{x \rightarrow \pm\infty} \frac{f(x)}{x} = \lim_{x \rightarrow \pm\infty} f(x) \cdot \lim_{x \rightarrow \pm\infty} \frac{1}{x} = \pm 1 \cdot 0 = 0 \Rightarrow$$

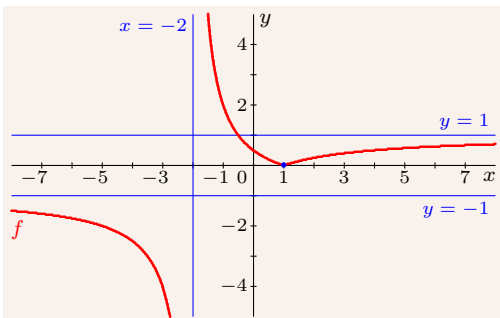
$$q_{1,2} = \lim_{x \rightarrow \pm\infty} [f(x) - k_{1,2}x] = \lim_{x \rightarrow \pm\infty} f(x) = \pm 1 \Rightarrow y = kx + q = \pm 1.$$

$\Rightarrow y = 1, y = -1$  sú asymptoty so smernicou (obr. 4.3.30, tab. 4.3.6). ■

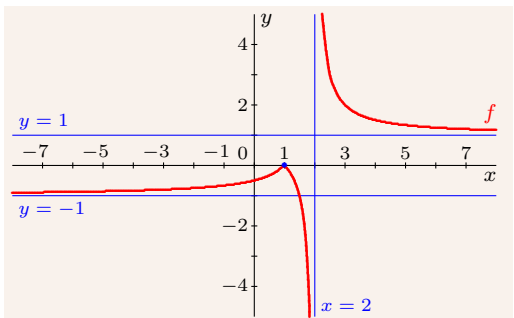


$(-\infty; 1)$		$(1; 2)$		$(2; \infty)$	
1 ... nulový bod			2 ... bod nespojitosti		
-	záporná $f(x) < 0$	-	záporná $f(x) < 0$	-	+ kladná $f(x) > 0$
1 ... lokálne maximum					
↗	rastie $f'(x) > 0$	↗	↘ klesá $f'(x) < 0$	↘	↘ klesá $f'(x) < 0$
1 ... inflexný bod					
∪	konvexná $f''(x) > 0$	∪	∩ konkávna $f''(x) < 0$	∩	∪ konvexná $f''(x) > 0$

Tabuľka 4.3.6: Niektoré dôležité hodnoty funkcie  $f(x) = \frac{|x-1|}{x-2}$  z príkladu 4.3.29 b)



Obr. 4.3.29: Príklad 4.3.29 a)



Obr. 4.3.30: Príklad 4.3.29 b)

### 4.3.7 Derivácia funkcie zadanej parametricky a implicitne

Najprv sa budeme zaoberať funkciou  $y = f(x)$ ,  $x \in \varphi(J)$  zadanou parametricky vzťahmi  $x = \varphi(t)$ ,  $y = \psi(t)$ ,  $t \in J$ , kde  $J \subset \mathbb{R}$  je interval.

#### Veta 4.3.21.

$f: x = \varphi(t)$ ,  $y = \psi(t)$ ,  $t \in J$ ,  $\psi'(t)$  existuje na  $J$ ,  $\varphi'(t) \neq 0$  je spojitá na  $J \implies$

$$\text{existuje } f'(x) = \frac{\psi'(t)}{\varphi'(t)} = \frac{\psi'(\varphi^{-1}(x))}{\varphi'(\varphi^{-1}(x))}, \quad x \in \varphi(J), \quad t = \varphi^{-1}(x).$$

Navyše ak je  $\psi'$  spojitá na  $J$ , potom je  $f'$  spojitá na  $\varphi(J)$ .

#### Dôkaz.

$\varphi'$  existuje na  $J \implies \varphi$  je spojitá na  $J$ ,  $\varphi(J)$  je interval.

$\varphi'$  je spojitá a nenulová na  $J \implies \varphi'(t) > 0$  alebo  $\varphi'(t) < 0$  na  $J \implies$

$\varphi$  je rastúca alebo klesajúca na  $J \implies$  existuje inverzná  $t = \varphi^{-1}(x): \varphi(J) \rightarrow J \implies$

$\varphi^{-1}$  je spojitá a rýdzo monotónna na  $\varphi(J) \Rightarrow f(x) = \psi(\varphi^{-1}(x)), x \in \varphi(J) \Rightarrow$

$$f'(x) = \psi(\varphi^{-1}(x))' = \psi'(\varphi^{-1}(x)) [\varphi^{-1}(x)]' = \frac{\psi'(\varphi^{-1}(x))}{\varphi'(\varphi^{-1}(x))} = \frac{\psi'(t)}{\varphi'(t)}, t = \varphi^{-1}(x).$$

Ak je  $\psi'$  spojitá na  $J$ , potom  $f' = \frac{\psi'}{\varphi'}$  je spojitá na  $\varphi(J)$ . ■

Teoreticky vieme deriváciu každej parametricky zadanej funkcie  $f$  vyjadriť v explicitnom tvare  $f'(x) = \frac{\psi'(\varphi^{-1}(x))}{\varphi'(\varphi^{-1}(x))}$ ,  $x \in \varphi(J)$ , prakticky to často býva problém.

Ak použijeme zápis pomocou diferenciálov, potom platí:

$$f'(x) = \frac{df(x)}{dx} = \frac{dy}{dx} = \frac{dy}{dt} \cdot \frac{dt}{dx} = \frac{d\psi(t)}{dt} \cdot \frac{dt}{d\varphi(t)} = \psi'(t) \cdot \frac{1}{\varphi'(t)}.$$

Derivácia  $f'$  má parametrický tvar  $f': x = \varphi(t), y = \chi(t) = \frac{\psi'(t)}{\varphi'(t)}, t \in J$ .

Ak existujú  $\varphi'', \psi''$  na  $J$ , potom na základe vety 4.3.21 platí:

$$f''(x) = \frac{\chi'(t)}{\varphi'(t)} = \frac{\left[ \frac{\psi'(t)}{\varphi'(t)} \right]'}{\varphi'(t)} = \frac{\psi''(t)\varphi'(t) - \psi'(t)\varphi''(t)}{[\varphi'(t)]^2} = \frac{\psi''(t)\varphi'(t) - \psi'(t)\varphi''(t)}{[\varphi'(t)]^3}, t = \varphi^{-1}(x) \Rightarrow$$

$$f'': x = \varphi(t), y = \tau(t) = \frac{\chi'(t)}{\varphi'(t)} = \frac{\psi''(t)\varphi'(t) - \psi'(t)\varphi''(t)}{[\varphi'(t)]^3}, t \in J.$$

### Príklad 4.3.30.

Určte  $f', f'', f'''$ , ak  $f: x = \sqrt{t^3}, y = t^2, t \in (0; \infty)$ .

#### Riešenie.

$$t \in (0; \infty) \Rightarrow \varphi'(t) = [t^{\frac{3}{2}}]' = \frac{3}{2}t^{\frac{1}{2}} = \frac{3\sqrt{t}}{2} > 0, \psi'(t) = 2t > 0.$$

$$\varphi' \text{ je na } (0; \infty) \text{ spojitá} \xrightarrow{\text{veta 4.3.21}} f': x = \sqrt{t^3}, y = \chi(t) = \frac{\psi'(t)}{\varphi'(t)} = \frac{2t}{\frac{3\sqrt{t}}{2}} = \frac{4\sqrt{t}}{3}, t \in (0; \infty).$$

$$t \in (0; \infty) \Rightarrow \chi'(t) = \left[ \frac{4}{3}t^{\frac{1}{2}} \right]' = \frac{4}{3} \cdot \frac{1}{2}t^{-\frac{1}{2}} = \frac{2}{3\sqrt{t}} \Rightarrow$$

$$f'': x = \sqrt{t^3}, y = \tau(t) = \frac{\chi'(t)}{\varphi'(t)} = \frac{\frac{2}{3\sqrt{t}}}{\frac{3\sqrt{t}}{2}} = \frac{4}{9t}, t \in (0; \infty).$$

$$t \in (0; \infty) \Rightarrow \tau'(t) = \left[ \frac{4}{9}t^{-1} \right]' = -\frac{4}{9}t^{-2} = -\frac{4}{9t^2} \Rightarrow$$

$$f''': x = \sqrt{t^3}, y = \frac{\tau'(t)}{\varphi'(t)} = \frac{-\frac{4}{9t^2}}{\frac{3\sqrt{t}}{2}} = -\frac{8}{27t^2\sqrt{t}} = -\frac{8}{27\sqrt{t^5}}, t \in (0; \infty). \blacksquare$$

Z nutnej podmienky existencie lokálneho extrému vyplýva, že ak má  $f: x = \varphi(t), y = \psi(t), t \in J$  lokálny extrém v bode  $t_0 \in J$  a existuje  $f'(x_0)$ , potom pre  $x_0 = \varphi(t_0)$  platí:

$$f'(x_0) = \frac{\psi'(t_0)}{\varphi'(t_0)} = 0 \Rightarrow \psi'(t_0) = 0, \varphi'(t_0) \neq 0.$$

Z vety 4.3.12 vyplýva, že  $f$  má v  $x_0$  lokálny extrém, ak  $f'(x_0) = 0, f''(x_0) \neq 0$ , t. j. ak:

$$\psi'(t_0) = 0, \varphi'(t_0) \neq 0, f''(x_0) = \frac{\psi''(t_0)\varphi'(t_0) - \psi'(t_0)\varphi''(t_0)}{[\varphi'(t_0)]^3} = \frac{\psi''(t_0)\varphi'(t_0)}{[\varphi'(t_0)]^3} = \frac{\psi''(t_0)}{[\varphi'(t_0)]^2} \neq 0.$$

Z nerovnosti  $[\varphi'(t_0)]^2 > 0$  potom vyplýva, že funkcia  $f: x = \varphi(t), y = \psi(t), t \in J$  má v bode  $t_0 \in J$  **lokálne maximum** [resp. **lokálne minimum**], ak platí:

$$\psi'(t_0) = 0, \varphi'(t_0) \neq 0, \psi''(t_0) < 0 \quad [\text{resp. } \psi''(t_0) > 0].$$

**Príklad 4.3.31.**

Nech  $a > 0$ ,  $b > 0$ ,  $I$  je interval.

Nájdite extrémny funkcie zadanej parametricky  $f: x = a \cos t$ ,  $y = b \sin t$ ,  $t \in I$ .

**Riešenie.**

Ak je dĺžka intervalu  $I$  väčšia ako  $2\pi$ , potom  $f$  predstavuje elipsu (obr 4.3.31), t. j. uzavretú krivku, ktorá nie je funkciou.

$$f: x = \varphi(t) = a \cos t, y = \psi(t) = b \sin t, t \in \langle 0; 2\pi \rangle \Rightarrow$$

$$\psi'(t) = [b \sin t]' = b \cos t = 0 \Leftrightarrow t_1 = \frac{\pi}{2}, t_2 = \frac{3\pi}{2}.$$

$$\varphi'(t) = [a \cos t]' = -a \sin t, \psi''(t) = [b \cos t]' = -b \sin t \Rightarrow$$

$$\varphi'(t_1) = -a \sin \frac{\pi}{2} = -a \neq 0, \psi''(t_1) = -b \sin \frac{\pi}{2} = -b < 0 \Rightarrow \text{lokálne maximum v } t_1 = \frac{\pi}{2} \Rightarrow \\ f \text{ má lokálne maximum } \psi(t_1) = y_1 = b \text{ v bode } \varphi(t_1) = x_1 = 0.$$

$$\varphi'(t_2) = -a \sin \frac{3\pi}{2} = a \neq 0, \psi''(t_2) = -b \sin \frac{3\pi}{2} = b > 0 \Rightarrow \text{lokálne minimum v } t_2 = \frac{2\pi}{2} \Rightarrow \\ f \text{ má lokálne minimum } \psi(t_2) = y_2 = -b \text{ v bode } \varphi(t_2) = x_2 = 0.$$

Krivku  $f$  môžeme rozdeliť na dve funkcie  $f_1: t \in \langle 0; \pi \rangle$ ,  $f_2: t \in \langle \pi; 2\pi \rangle$ , pre  $t_0 = 0$  platí  $\varphi(t_0) = x_0 = a$ ,  $\psi(t_0) = y_0 = 0$ , pre  $t_3 = \pi$  platí  $\varphi(t_3) = x_3 = -a$ ,  $\psi(t_3) = y_3 = 0$ .

Funkcia  $f_1$  má globálne maximum  $f_1(0) = b$  a dve globálne minimá  $f_1(\pm a) = 0$ . Funkcia  $f_2$  má globálne minimum  $f_2(0) = -b$  a dve globálne maximá  $f_2(\pm a) = 0$ . ■

Uvedieme vzťah pre výpočet  $f'(x)$  funkcie  $y = f(x)$  implicitne definovanej rovnicou  $F(x, y) = 0$ . Tento vzťah vyplýva z vlastností funkcií s dvomi premennými a preto ho uvádzame bez dôkazu.<sup>11</sup>

Ak považujeme  $y$  za konštantu, potom sa  $F$  redukuje na funkciu premennej  $x$ , ktorú označíme  $F_x(x, y)$ . Analogicky označíme funkciu  $F_y(x, y)$  premennej  $y$  pre  $x$  konštantné.

Ak existujú derivácie  $F'_x(x, y) = \frac{dF_x(x, y)}{dx}$ ,  $F'_y(x, y) = \frac{dF_y(x, y)}{dy} \neq 0$ , potom pre  $f'(x)$  platí:

$$f'(x) = y' = \frac{dy}{dx} = -\frac{F'_x(x, y)}{F'_y(x, y)} = -\frac{\frac{dF_x(x, y)}{dx}}{\frac{dF_y(x, y)}{dy}} = -\frac{\frac{\partial F(x, y)}{\partial x}}{\frac{\partial F(x, y)}{\partial y}}.$$

Výrazy  $F'_x(x, y) = \frac{\partial F(x, y)}{\partial x}$  a  $F'_y(x, y) = \frac{\partial F(x, y)}{\partial y}$  sa nazývajú **parciálne derivácie funkcie  $F$  podľa premennej  $x$  a  $y$** . Funkcia  $F(x, y)$  má dve nezávislé premenné  $x$ ,  $y$ , pre ktoré platí vzťah  $y = f(x)$ . Z vlastností funkcií viac premenných vyplýva:

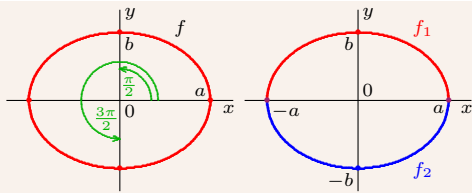
$$\frac{\partial F(x, y)}{\partial x} = \frac{\partial F(x, y)}{\partial x} \frac{dx}{dx} + \frac{\partial F(x, y)}{\partial y} \frac{dy}{dx} = \frac{\partial F(x, y)}{\partial x} + \frac{\partial F(x, y)}{\partial y} y'(x) = 0 \Rightarrow y' = -\frac{\frac{\partial F(x, y)}{\partial x}}{\frac{\partial F(x, y)}{\partial y}}.$$

Funkciu  $F(x, y) = F(x, f(x))$  môžeme považovať za zloženú funkciu s jednou premenou  $x$ . Jej druhú zložku  $y = f(x)$  derivujeme tiež ako funkciu premennej  $x$ . Ak existuje  $F'(x, f(x)) = F'(x, y)$ , potom  $y' = f'(x)$  vyjadríme z rovnice  $F'(x, y) = 0$  (príklad 4.3.32) pomocou premenných  $x$ ,  $y = f(x)$ .

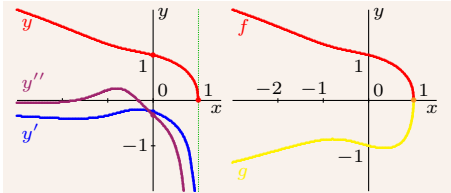
Druhú deriváciu  $y''$  vyjadríme analogicky z implicitnej rovnice  $F''(x, y) = 0$  pomocou  $y'$ ,  $y$ ,  $x$ . Takto môžeme pokračovať aj pre ostatné derivácie vyšších rádov.

Ak chceme vyjadriť deriváciu  $f'(x_0)$  v konkrétnom bode  $x_0 \in D(f)$ , musíme najprv určiť hodnotu  $y_0 = f(x_0)$  ako riešenie implicitnej rovnice  $F(x_0, y_0) = 0$ .

<sup>11</sup>S reálnymi funkciami viac premenných sa v tejto časti zaoberať nebudeme.



Obr. 4.3.31: Parametricky definované funkcie z príkladu 4.3.31



Obr. 4.3.32: Implicitne definované funkcie z príkladu 4.3.32

### Príklad 4.3.32.

Funkcia  $y = f(x)$  je implicitne určená rovnicou  $F(x, y) = x^3 + x^2y^2 + xy^3 + y^4 - 1 = 0$ ,  $y \geq 0$ . Určte  $f'$ ,  $f''$  a ich hodnoty v bodoch 0 a 1.

#### Riešenie.

$$y \geq 0 \Rightarrow y' = -\frac{F'_x(x, y)}{F'_y(x, y)} = -\frac{3x^2 + 2xy^2 + y^3}{2x^2y + 3xy^2 + 4y^3}.$$

Ak derivujeme  $F(x, y) = 0$  podľa premennej  $x$ , dostaneme rovnaký vzťah:

$$\begin{aligned} F'(x, y) &= 3x^2 + (2xy^2 + 2x^2yy') + (y^3 + 3xy^2y') + 4y^3y' - 0 = \\ &= 3x^2 + 2xy^2 + y^3 + (2x^2y + 3xy^2 + 4y^3)y' = 0 \Rightarrow y' = -\frac{3x^2 + 2xy^2 + y^3}{2x^2y + 3xy^2 + 4y^3}. \end{aligned}$$

Pre druhú deriváciu platí:

$$\begin{aligned} F''(x, y) &= [3x^2 + 2xy^2 + y^3 + 2x^2yy' + 3xy^2y' + 4y^3y']' = 6x + (2y^2 + 4xyy') + 3y^2y' + \\ &+ (4xyy' + 2x^2y'y' + 2x^2yy'') + (3y^2y' + 6xyy'y' + 3xy^2y'') + (12y^2y'y' + 4y^3y'') = \\ &= 6x + 2y^2 + [8xy + 6y^2]y' + [2x^2 + 6xy + 12y^2](y')^2 + [2x^2y + 3xy^2 + 4y^3]y'' = 0. \end{aligned}$$

Aby sme mohli vypočítať  $y' = f'(x_0)$ ,  $y'' = f''(x_0)$ , musíme najprv určiť  $y = f(x_0)$ .

$$x_0 = 0: F(0, y) = 0^3 + 0^2y^2 + 0y^3 + y^4 - 1 = y^4 - 1 = 0 \Rightarrow y = \pm 1 \xrightarrow{y \geq 0} y = f(0) = 1 \Rightarrow$$

$$F'(0, y) = 3 \cdot 0^2 + 2 \cdot 0 \cdot 1^2 + 1^3 [2 \cdot 0^2 \cdot 1 + 3 \cdot 0 \cdot 1^2 + 4 \cdot 1^3]y' = 1 + 4y' = 0 \Rightarrow y' = f'(0) = -\frac{1}{4} \Rightarrow$$

$$F''(0, y) = 0 + 2 - [0 + 6] \frac{1}{4} + [0 + 0 + 12] \frac{1}{16} + [0 + 0 + 4]y'' = \frac{5}{4} + 4y'' = 0 \Rightarrow y'' = f''(0) = -\frac{5}{16}.$$

$$x_0 = 1: F(1, y) = 1 + y^2 + y^3 + y^4 - 1 = y^2(1 + y + y^2) = 0 \xrightarrow{1 + y + y^2 > 0} y = f(1) = 0 \Rightarrow$$

$$F'(1, y) = 3 + 0 + 0 + [0 + 0 + 0]y' = 0 \Rightarrow \text{spor } 3 = 0 \Rightarrow f'(1), f''(1) \text{ neexistujú.}$$

Ak vynecháme podmienku  $y \geq 0$ , potom  $F(x, y) = 0$  nevyjadruje funkciu, ale krivku zloženú z funkcie  $f$  a z funkcie  $g$ :  $x^3 + x^2y^2 + xy^3 + y^4 - 1 = 0$ ,  $y \leq 0$  (obr. 4.3.32). ■

Z nutnej podmienky lokálneho extrému (veta 4.3.10) vyplýva, že ak má funkcia  $f$  lokálny extrém v bode  $x_0 \in D(f)$  a existuje  $f'(x_0)$ , potom  $f'(x_0) = 0$ .

Ak je  $y = f(x)$  zadaná implicitne rovnicou  $F(x, y) = 0$ , potom platí:

$$F(x_0, y_0) = 0, \quad f'(x_0) = -\frac{F'_x(x_0, y_0)}{F'_y(x_0, y_0)} = 0, \quad \text{kde } y_0 = f(x_0) \Rightarrow F'_x(x_0, y_0) = 0, \quad F'_y(x_0, y_0) \neq 0.$$

Pomocou vlastností funkcií viac premenných sa dá odvodiť aj postačujúca podmienka lokálneho extrému. Implicitne zadaná funkcia  $y = f(x)$  má v bode  $x_0$  **lokálne maximum** [resp. **lokálne minimum**], ak  $f'(x_0) = 0$ ,  $f''(x_0) > 0$  [resp.  $f''(x_0) < 0$ ], t. j. ak platí:

$$F(x_0, y_0) = 0, \quad F'_x(x_0, y_0) = 0, \quad F'_y(x_0, y_0) \neq 0, \quad \frac{F''_{xx}(x_0, y_0)}{F'_y(x_0, y_0)} > 0 \quad \left[ \text{resp.} \quad \frac{F''_{xx}(x_0, y_0)}{F'_y(x_0, y_0)} < 0 \right],$$

pričom  $F''_{xx}(x, y) = \frac{d}{dx} \left[ \frac{dF_x(x, y)}{dx} \right] = \frac{d^2 F_x(x, y)}{dx^2}$  (t. j. dvakrát derivované podľa  $x$ ).

### Príklad 4.3.33.

Nájdite extrém y funkcie  $y = f(x)$  implicitne zadanej rovnicou  $F(x, y) = x^3 + y^3 - 3xy = 0$ .

#### Riešenie.

Krivka implicitne určená rovnicou  $F(x, y) = x^3 + y^3 - 3xy = 0$  sa nazýva Descartov list a nepredstavuje funkciu (obrázok 4.3.33). Napriek tomu nájdeme jej lokálne extrém y.

Extrém môže nastať iba v bode  $[x; y]$ , ktorý spĺňa podmienky:

$$F(x, y) = x^3 + y^3 - 3xy = 0, \quad F'_x(x, y) = 3x^2 - 3y = 0, \quad F'_y(x, y) = 3y^2 - 3x \neq 0.$$

$$F'_x(x, y) = 3x^2 - 3y \Rightarrow F'_x(x, y) = 6x \Rightarrow \frac{F'_{xx}(x, y)}{F'_y(x, y)} = \frac{6x}{3y^2 - 3x}.$$

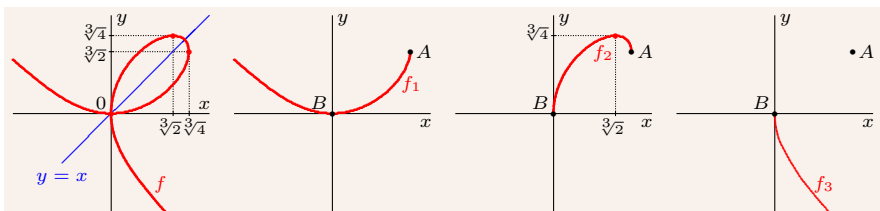
$$F'_x(x, y) = 0 \Rightarrow y = x^2 \Rightarrow F(x, y) = x^3 + y^3 - 3xy = x^3 + x^6 - 3x^3 = x^3(x^3 - 2) = 0 \Rightarrow x = 0 \text{ alebo } x = \sqrt[3]{2}.$$

$$x = 0 \Rightarrow y = x^2 = 0 \Rightarrow F'_y(0, 0) = 3 \cdot 0^2 - 3 \cdot 0 = 0 \Rightarrow \text{nie je extrém (neplatí } F'_y(0, 0) \neq 0 \text{)}.$$

$$x = \sqrt[3]{2} \Rightarrow y = x^2 = \sqrt[3]{4} \Rightarrow F'_y(\sqrt[3]{2}, \sqrt[3]{4}) = 3\sqrt[3]{16} - 3\sqrt[3]{2} \neq 0, \quad F'_{xx}(\sqrt[3]{2}, \sqrt[3]{4}) = 6\sqrt[3]{2} \Rightarrow$$

$$\frac{F'_{xx}(\sqrt[3]{2}, \sqrt[3]{4})}{F'_y(\sqrt[3]{2}, \sqrt[3]{4})} = \frac{6\sqrt[3]{2}}{3\sqrt[3]{16} - 3\sqrt[3]{2}} > 0 \Rightarrow \text{v bode } [x; y] = [\sqrt[3]{2}; \sqrt[3]{4}] \text{ nastáva lokálne maximum.}$$

Krivku  $f$  môžeme rozdeliť na tri funkcie  $f_1$ ,  $f_2$  a  $f_3$ , ktorých grafy sú od seba oddelené bodmi  $A = [\sqrt[3]{4}; \sqrt[3]{2}]$  a  $B = [0; 0]$ . Funkcia  $f_1$  má globálne minimum  $f_1(0) = 0$  a lokálne maximum  $f_1(\sqrt[3]{4}) = \sqrt[3]{2}$ . Funkcia  $f_2$  má globálne minimum  $f_2(0) = 0$  a globálne maximum  $f_2(\sqrt[3]{2}) = \sqrt[3]{4}$ . Funkcia  $f_3$  má globálne maximum  $f_3(0) = 0$ . ■



Obr. 4.3.33: Descartov list  $f$  a funkcie  $f_1$ ,  $f_2$ ,  $f_3$  z príkladu 4.3.33

## Cvičenia

**4.3.1.** Dokážte, že pre  $0 < a < b$ ,  $n \in \mathbb{N}$  platí:

- a)  $\operatorname{arctg} b - \operatorname{arctg} a < b - a$ ,      b)  $\sqrt{1+a^2} \leq 1 + a \ln(a + \sqrt{1+a^2})$ ,  
 c)  $\frac{\operatorname{arctg} a}{1+a} < \ln(1+a) < a$ ,      d)  $1 + \frac{1}{1+e} < \ln(1+e) < 1 + \frac{1}{e}$ ,  
 e)  $\ln(1+a^2) \leq 2a \operatorname{arctg} a$ ,      f)  $na^{n-1}(b-a) \leq b^n - a^n \leq nb^{n-1}(b-a)$ .

**4.3.2.** Pomocou vety o strednej hodnote odhadnite nasledujúce výrazy:

- a)  $\operatorname{tg} 4, 2$ ,      b)  $\operatorname{arctg} 1, 5$ ,      c)  $\log_3 18$ ,      d)  $\arcsin 0, 5$ ,      e)  $\arccos 0, 5$ .

**4.3.3.** Rozviňte do Taylorovho polynómu so stredom v bodoch 1, -1, 2, -2 polynómy: ♣

- a)  $x^4 + x^3 + x^2 + x + 1$ ,      b)  $x^4 + x^3 - x^2 + x - 1$ ,      c)  $x^4 - x^3 + x^2 - x + 1$ ,  
 d)  $x^4 - 2x^3 + 2x + 1$ ,      e)  $x^4 + 2x^2 + 2x - 1$ ,      f)  $x^4 - 2x^3 + 2x^2 - 1$ ,  
 g)  $x^5 - 2x^4 + 2x^2 + 1$ ,      h)  $x^5 + 2x^3 + 2x^2 - 1$ ,      i)  $x^5 - 2x^4 + 2x^3 - x$ .

**4.3.4.** Určte Taylorov polynóm stupňa  $n$  so stredom v bode  $x_0$  pre funkciu  $y = f(x)$ : ♣

- a)  $y = x^{\frac{2}{3}}$ ,  $n = 3$ ,  $x_0 = 1$ ,      b)  $y = x^x$ ,  $n = 3$ ,  $x_0 = 1$ ,      c)  $y = \frac{1}{x}$ ,  $n = 4$ ,  $x_0 = 2$ ,  
 d)  $y = \ln x$ ,  $n = 4$ ,  $x_0 = 2$ ,      e)  $y = \ln x$ ,  $n = 4$ ,  $x_0 = 3$ ,      f)  $y = \frac{1}{x^3}$ ,  $n = 3$ ,  $x_0 = 1$ .

**4.3.5.** Určte Maclaurinov polynóm stupňa  $n$  pre funkciu  $y = f(x)$ : ♣

- a)  $y = \frac{1+x+x^2}{1-x+x^2}$ ,  $n = 3$ ,      b)  $y = \frac{e^x}{e^x+1}$ ,  $n = 4$ ,      c)  $y = \ln \cos x$ ,  $n = 6$ ,  
 d)  $y = \operatorname{tg} x$ ,  $n = 5$ ,      e)  $y = \operatorname{tg}^2 x$ ,  $n = 5$ ,      f)  $y = \sin^2 x$ ,  $n = 5$ ,  
 g)  $y = \sin^3 x$ ,  $n = 5$ ,      h)  $y = \cos^2 x$ ,  $n = 5$ ,      i)  $y = \cos^3 x$ ,  $n = 5$ .

**4.3.6.** Určte Maclaurinov polynóm stupňa  $n$  pre funkciu  $y = f(x)$ : ♣

- a)  $y = \frac{1}{\sqrt{1-x^2}}$ ,      b)  $y = \cosh x$ ,      c)  $y = \sinh x$ ,      d)  $y = \ln \frac{1+x}{1-x}$ .

**4.3.7.** Pomocou Maclaurinovho vzorca vypočítajte s chybou menšou ako 0,0001 hodnoty:

- a)  $\sqrt[10]{1010}$ ,      b)  $\operatorname{tg} 4, 2$ ,      c)  $\sqrt{\pi}$ ,      d)  $(1, 1)^{1,2}$ ,      e)  $\operatorname{arctg} 1, 7$ ,  
 f)  $\arcsin 0, 5$ ,      g)  $\cos 1, 6$ ,      h)  $\sin 0, 9$ ,      i)  $\sqrt[4]{83}$ ,      j)  $\sqrt[3]{121}$ .

**4.3.8.** Vypočítajte pre  $m, n \in \mathbb{N}$ ,  $a > 0$ ,  $b > 0$  nasledujúce limity: ♣

- a)  $\lim_{x \rightarrow 1} \frac{x^n - x}{x^n - 1}$ ,      b)  $\lim_{x \rightarrow 1} \frac{x^m - x}{x^n - x}$ ,      c)  $\lim_{x \rightarrow 0} \frac{x - \sin x}{x^3}$ ,      d)  $\lim_{x \rightarrow 1} \frac{\ln x}{x-1}$ ,      e)  $\lim_{x \rightarrow 0} \frac{a^x - b^x}{x}$ ,  
 f)  $\lim_{x \rightarrow 0^+} \frac{\ln x}{\cotg x}$ ,      g)  $\lim_{x \rightarrow \infty} \frac{e^x}{x^n}$ ,      h)  $\lim_{x \rightarrow \infty} \frac{x^n}{a^x}$ ,      i)  $\lim_{x \rightarrow 1} x^{\frac{1}{1-x}}$ ,      j)  $\lim_{x \rightarrow 0^+} \ln^x \frac{1}{x}$ ,  
 k)  $\lim_{x \rightarrow 0} \frac{\ln(\cos ax)}{\ln(\cos bx)}$ ,      l)  $\lim_{x \rightarrow 0} \frac{\ln(\operatorname{tg} ax)}{\ln(\operatorname{tg} bx)}$ ,      m)  $\lim_{x \rightarrow 0} \frac{x - \operatorname{arctg} x}{x^3}$ ,      n)  $\lim_{x \rightarrow 0^+} \left( \frac{1}{x^3} - \frac{1}{\sin^3 x} \right)$ ,  
 o)  $\lim_{x \rightarrow \frac{\pi}{2}} \frac{\operatorname{tg} 5x}{2 \operatorname{tg} 3x}$ ,      p)  $\lim_{x \rightarrow \frac{\pi}{2}} \frac{\ln(\frac{\pi}{2} - x)}{\operatorname{tg} x}$ ,      q)  $\lim_{x \rightarrow 0} \frac{e^{2x} - 2x - 1}{\sin^2 3x}$ ,      r)  $\lim_{x \rightarrow 0^-} \left( \frac{1}{x^3} - \frac{1}{\sin^3 x} \right)$ ,  
 s)  $\lim_{x \rightarrow 0^+} \left( \frac{1}{2x} - \frac{1}{\sin x} \right)$ ,      t)  $\lim_{x \rightarrow 0} \left( \cotg x - \frac{1}{x} \right)$ ,      u)  $\lim_{x \rightarrow 0} \left( \frac{1}{x} - \frac{1}{e^x - 1} \right)$ ,      v)  $\lim_{x \rightarrow \frac{\pi}{2}^-} (\operatorname{tg} x)^{\cotg x}$ .

**4.3.9.** Zistite, či možno použiť L'Hospitalovo pravidlo a vypočítajte limity: ♣

$$\text{a) } \lim_{x \rightarrow \infty} \frac{x - \sin x}{x + \sin x}, \quad \text{b) } \lim_{x \rightarrow \infty} \frac{x^2 \sin \frac{1}{x}}{\sin x}, \quad \text{c) } \lim_{x \rightarrow 0} \frac{x - \sin x}{x - \operatorname{tg} x}, \quad \text{d) } \lim_{x \rightarrow 0^+} x^{\sin x}, \quad \text{e) } \lim_{x \rightarrow 0} \frac{e^x - 1}{\sin x}.$$

**4.3.10.** Nájdite intervaly najväčšej dĺžky, na ktorých je funkcia  $y = f(x)$  monotónna: ♣

$$\begin{array}{lll} \text{a) } y = x^2 - x + 12, & \text{b) } y = x^5 - 15x^3 + 3, & \text{c) } y = |x+1| + |x-1|, \\ \text{d) } y = \frac{x}{x^2-1} + x + 2, & \text{e) } y = \frac{4}{x} + \frac{1}{1-x} - 1, & \text{f) } y = x^2 - 1 + |x^2 - 1|, \\ \text{g) } y = \ln \sqrt{1+x^2} - 1, & \text{h) } y = 2x^2 - \ln x + 1, & \text{i) } y = \sin x + \operatorname{tg} x - 2x, \\ \text{j) } y = \sin x + \cos x + 1, & \text{k) } y = \cos x + \frac{\cos 2x}{2} - 1, & \text{l) } y = x + \sin x - 1. \end{array}$$

**4.3.11.** Nájdite všetky extrémny funkcie  $y = f(x)$ : ♣

$$\begin{array}{llll} \text{a) } y = x^2(x-6), & \text{b) } y = x - \frac{1}{x}, & \text{c) } y = \frac{x^2}{2} + \frac{8}{x^3}, & \text{d) } y = \ln \frac{x^2+4x+2}{x+2}, \\ \text{e) } y = x - [x], & \text{f) } y = x^2 e^{-x}, & \text{g) } y = x e^{\frac{1}{x}} + 1, & \text{h) } y = 1 + \sqrt{|x|}, \\ \text{i) } y = \sqrt{6x-x^2}, & \text{j) } y = (x^2-1)^{\frac{2}{3}}, & \text{k) } y = 3 - 2x^{\frac{3}{2}}, & \text{l) } y = 4x - \operatorname{tg} x, \\ \text{m) } y = x^2 - 2x - 1, & \text{n) } y = x^4 + 2x^2 - 1, & \text{o) } y = x + \frac{2x}{1+x^2}, & \text{p) } y = \frac{1}{4x^3-9x^2+6x}. \end{array}$$

**4.3.12.** Nájdite všetky extrémny funkcie  $y = f(x)$ : ♣

$$\begin{array}{lll} \text{a) } y = \sin x + \cos x + 1, & \text{b) } y = 4x^3 - 3x^2 - 36x - 5, & \text{c) } y = 4x^3 - 18x^2 + 27x, \\ \text{d) } y = x(x-1)^2(x-2)^3, & \text{e) } y = x - \ln(1+x) - 1, & \text{f) } y = |x+4| - |x| + |x-1|, \\ \text{g) } y = -\ln(1+x-4x^2), & \text{h) } y = \ln^2 x - 3 \ln x + 2, & \text{i) } y = \operatorname{arctg} x - \ln \sqrt{1+x^2}, \\ \text{j) } y = x^x, x \in (0; \infty), & \text{k) } y = x^2 \ln x, x \in (1; e), & \text{l) } y = x - 2 \ln x, x \in (1; e). \end{array}$$

**4.3.13.** Rozložte číslo  $a > 0$  na súčet dvoch kladných čísel  $x_1, x_2$  tak, aby: ♣

$$\begin{array}{ll} \text{a) } x_1 x_2 \text{ bolo maximálne,} & \text{b) } \frac{1}{x_1} + \frac{1}{x_2} \text{ bolo minimálne,} \\ \text{c) } x_1^n + x_2^n \text{ bolo minimálne pre } n \in \mathbb{N}, & \text{d) } x_1^n x_2^n \text{ bolo maximálne pre } n \in \mathbb{N}. \end{array}$$

**4.3.14.** Nájdite  $x > 0$  tak, aby jeho súčet s jeho obrátenou hodnotou bol minimálny. ♣

**4.3.15.** Do trojuholníka s najdlhšou stranou  $a > 0$  a výškou  $v > 0$  vpíšte obdĺžnik tak, aby jedna jeho strana ležala na strane  $a$  a aby mal maximálny obsah. ♣

**4.3.16.** Určte rozmery trojuholníka, ktorý má jednu stranu  $a > 0$  a obvod  $s > 2a$  tak, aby mal maximálny obsah. ♣

**4.3.17.** Aké rozmery musí mať pravouhlý rovnobežník daného obsahu  $P > 0$ , aby jeho obvod bol minimálny? ♣

**4.3.18.** Aké rozmery musí mať pravouhlý rovnobežník daného obvodu  $s > 0$ , aby jeho obsah bol maximálny? ♣

**4.3.19.** Do elipsy s poloosami  $0 < a < b$  vpíšte pravouhlý rovnobežník so stranami rovnobežnými s osami elipsy tak, aby mal maximálny obsah. ♣

**4.3.20.** Do gule s polomerom  $r > 0$  vpíšte valec tak, aby mal: ♣

- a) maximálny objem,      b) maximálny povrch,      c) maximálny plášť.

**4.3.21.** Do gule s polomerom  $r > 0$  vpíšte kolmý kužeľ tak, aby mal: ♣

- a) maximálny objem,      b) maximálny povrch,      c) maximálny plášť.

**4.3.22.** Do kužeľa s výškou  $h > 0$ , polomerom  $r > 0$  vpíšte valec s maximálnym objemom. ♣

**4.3.23.** Na priamke  $p$  nájdite bod tak, aby bol najbližšie k bodu  $A = [1; 2]$ : ♣

- a)  $p: y = 3x - 1$ ,      b)  $p: y = 3x + 2$ ,      c)  $p: y = 3x + 1$ ,      d)  $p: y = 3x - 2$ .

**4.3.24.** Na parabole  $p$  nájdite bod tak, aby bol je najbližšie k bodu  $A = [1; 2]$ : ♣

- a)  $p: y = 4x - x^2$ ,      b)  $p: y = x + x^2$ ,      b)  $p: y = -4x + 2x^2$ ,      d)  $p: y = -3x - x^2$ .

**4.3.25.** Silážna jama má mať tvar pravouhlého rovnobežnostena (bez hornej steny) s objemom  $V = 1000 \text{ m}^3$ . Dĺžka podstavy má byť 4-krát väčšia ako jej šírka. Náklady na vybudovanie  $1 \text{ m}^2$  podstavy sú 2-krát menšie ako náklady na vybudovanie  $1 \text{ m}^2$  steny. Určte rozmery silážnej jamy, aby náklady na jej vybudovanie boli minimálne. ♣

**4.3.26.** Drôt s dĺžkou 10 m máme rozdeliť na dve časti, z ktorých prvá sa zohne do štvorca a druhá do kruhu. Kde má byť rez, aby súčet obsahov štvorca a kruhu bol minimálny. ♣

**4.3.27.** Kartón má tvar obdĺžnika s rozmermi  $30 \times 14 \text{ cm}$ . V rohoch vystrihneme rovnaké štvorce a zvyšok ohneme do otvorenej škatule. Aká veľká má byť strana vystrihnutých štvorcov, aby mala škatuľa maximálny objem. ♣

**4.3.28.** Okno, ktoré má tvar rovinného obrazca zloženého z obdĺžnika a polkruhu zostrojeného nad jednou jeho stranou, má obvod  $s > 0$ . Aké majú byť rozmery obdĺžnika a polkruhu, aby malo okno maximálny obsah? ♣

**4.3.29.** Dva splavné, na seba kolmé kanály, sú široké 4 m a 6 m. Vypočítajte dĺžku najdlhšieho trámu, ktorý môže preplávať z jedného kanálu do druhého. ♣

**4.3.30.** Nájdite intervaly najväčšej dĺžky, na ktorých je funkcia  $y = f(x)$  konvexná alebo konkávna a nájdite všetky jej inflexné body: ♣

- a)  $y = 5x^2 + 20x + 7$ ,      b)  $y = 3x^5 - 5x^4 + 4$ ,      c)  $y = 2 - |x^2 - 2|$ ,      d)  $y = x^2 + x^{\frac{2}{3}} - 1$ ,  
 e)  $y = x(1 - x)^2 + 1$ ,      f)  $y = x + x^{\frac{5}{3}} + 1$ ,      g)  $y = 3 - (x + 2)^{\frac{7}{5}}$ ,      h)  $y = x - \cos x$ ,  
 i)  $y = x \operatorname{arctg} x$ ,      j)  $y = \operatorname{arctg} \frac{1}{x} + 1$ ,      k)  $y = x \ln x + 1$ ,      l)  $y = x + \sin x$ ,  
 m)  $y = x + \frac{1}{x^2} + 1$ ,      n)  $y = x + \frac{2x}{1 - x^2}$ ,      o)  $y = \frac{x}{1 + x^2} + 1$ ,      p)  $y = \frac{x^3}{x^2 + 27} + 27$ .

**4.3.31.** Pre aké  $b \in \mathbb{R}$  má funkcia  $y = e^x + bx^3$  inflexný bod? ♣



**4.3.32.** Určte asymptoty ku grafu funkcie  $y=f(x)$ : ♣

$$\begin{array}{llll} \text{a) } y = \frac{x}{x-1} + 1, & \text{b) } y = \frac{1}{1-x^2} + 1, & \text{c) } y = \frac{x^2+2}{x^2-4} + 1, & \text{d) } y = \frac{x \sin x}{1+x^2} + 1, \\ \text{e) } y = 3x + \frac{3}{x-2}, & \text{f) } y = x + \frac{2x}{x^2-1}, & \text{g) } y = 2x - \frac{\cos x}{x}, & \text{h) } y = \frac{x\sqrt{x^2-1}}{2x^2-1}, \\ \text{i) } y = x + \frac{\ln x}{x}, & \text{j) } y = x \operatorname{arctg} x, & \text{k) } y = \operatorname{arctg} \frac{1}{x} + 1, & \text{l) } y = x \ln \left( e + \frac{1}{x} \right), \\ \text{m) } y = \frac{\sin x}{x} + 12, & \text{n) } y = e^{\frac{1}{x}} + 12, & \text{o) } y = x e^{\frac{1}{x}} + 12, & \text{p) } y = \frac{1}{x-1} + \frac{1}{x+1}. \end{array}$$

**4.3.33.** Vyšetrite priebeh funkcie  $y=f(x)$  a zostrojte jej graf:

$$\begin{array}{llll} \text{a) } y = 3x^5 - 5x^3, & \text{b) } y = -x^4 + 6x^2 - 5, & \text{c) } y = \left( \frac{x^2}{6} + x \right)^2, & \text{d) } y = \left( \frac{x^3}{8} - 1 \right)^3, \\ \text{e) } y = (1 - x^2)^2, & \text{f) } y = (x^2 - 1)3x, & \text{g) } y = x^6 - x^3 + 1, & \text{h) } y = x^6 - x^4 - 1, \\ \text{i) } y = x^3 + \frac{1}{x^2}, & \text{j) } y = x^2 + \frac{1}{x^2}, & \text{k) } y = x^3 + \frac{1}{x^3}, & \text{l) } y = x^2 + \frac{1}{x^3}, \\ \text{m) } y = \frac{2x}{x^2-1} + x, & \text{n) } y = \frac{\ln x}{x} + 1, & \text{o) } y = x - \ln x, & \text{p) } y = x + 2 \operatorname{arctg} x, \\ \text{q) } y = x + \operatorname{arccotg} x, & \text{r) } y = (2-x)e^{x-1}, & \text{s) } y = x^2 e^{-x} + 1, & \text{t) } y = x^2 e^{x+2} - 1. \end{array}$$

**4.3.34.** Vyšetrite priebeh funkcie  $y=f(x)$  a zostrojte jej graf:

$$\begin{array}{llll} \text{a) } y = \sqrt[3]{x} - \sqrt[3]{x-1}, & \text{b) } y = \sqrt[3]{x+1} - \sqrt[3]{x}, & \text{c) } y = (x-4)\sqrt[3]{x}, & \text{d) } y = (x+4)\sqrt[3]{x^2}, \\ \text{e) } y = \arcsin \frac{1-x}{1+x}, & \text{f) } y = \operatorname{cotgh} \frac{1-x}{1+x}, & \text{g) } y = \ln \frac{1-x}{1+x}, & \text{h) } y = x + \frac{\sin x}{x}, \\ \text{i) } y = x^3 + 3x, & \text{j) } y = 16x(x-1)^3, & \text{k) } y = |16 - x^2|, & \text{l) } y = x^2 - 2|x|, \\ \text{m) } y = \sqrt{|x-1|}, & \text{n) } y = \sqrt[3]{1-x^3}, & \text{o) } y = \sqrt[3]{x^3+x^2}, & \text{p) } y = \sqrt{1-e^{-x^2}}, \\ \text{q) } y = x \ln x + 1, & \text{r) } y = x + e^{-x}, & \text{s) } y = \ln(4-x^2), & \text{t) } y = \sin x + \cos x. \end{array}$$

**4.3.35.** Vyšetrite priebeh funkcie  $y=f(x)$  a zostrojte jej graf:

$$\begin{array}{llll} \text{a) } y = \frac{x-1}{x+1}, & \text{b) } y = \frac{x^3+4}{x^6}, & \text{c) } y = \frac{x^2+1}{x}, & \text{d) } y = \frac{2x^3}{x^2+1}, & \text{e) } y = \frac{x^4}{(1+x)^3}, \\ \text{f) } y = \frac{x-1}{x-2}, & \text{g) } y = \frac{x^2}{x-1}, & \text{h) } y = \frac{x+1}{x^2}, & \text{i) } y = \frac{(x-1)^2}{x^2+1}, & \text{j) } y = \frac{1+x^2}{1-x^2}, \\ \text{k) } y = \frac{x-3}{x-2}, & \text{l) } y = \frac{2x^5-3}{x^2}, & \text{m) } y = \frac{2-x}{(x-1)^2}, & \text{n) } y = \frac{x^2+4}{x^2+3}, & \text{o) } y = \frac{x^2+2}{x^2+3}, \\ \text{p) } y = \frac{x+1}{x-1}, & \text{q) } y = \frac{x-2}{x^3}, & \text{r) } y = \frac{x^2-3}{x^3}, & \text{s) } y = \frac{1-x^4}{x^2}, & \text{t) } y = \frac{1-x^3}{x^4}, \\ \text{u) } y = \left| \frac{x-1}{x+1} \right|, & \text{v) } y = \left| \frac{x^2}{x-1} \right|, & \text{w) } y = \left| \frac{x-1}{x^2} \right|, & \text{x) } y = \left| \frac{(x-1)^2}{1-x^2} \right|, & \text{y) } y = \left| \frac{1+x^2}{1-x} \right|. \end{array}$$

**4.3.36.** Nájdite explicitný tvar funkcie  $y=f(x)$  definovanej parametricky: ♣

$$\begin{array}{ll} \text{a) } x = t+1, y = 1-2t-t^2, t \in (1; 4), & \text{b) } x = 3 \cosh t, y = 2 \sinh t, t \in \langle 0; \infty \rangle, \\ \text{c) } x = 4 \cos t, y = 3 \sin t, t \in \langle 0; \pi \rangle, & \text{d) } x = 4 \cos^2 t, y = 9 \sin^2 t, t \in \langle 0; \frac{\pi}{2} \rangle. \end{array}$$

**4.3.37.** Určte množiny hodnôt pre parameter  $t$  tak, aby dané parametrické rovnice určovali spojitú funkciu  $y=f(x)$ . Elimináciou parametra  $t$  určte jej explicitný tvar: ♣

$$\begin{array}{lll} \text{a) } x = 2t^2 - 1, y = 4t^2 - 1, & \text{b) } x = 2t - 1, y = 4t - 1, & \text{c) } x = 4t^2 + 1, y = 3t + 2, \\ \text{d) } x = 2 \sin \frac{\pi t}{3}, y = \cos \frac{\pi t}{3}, & \text{e) } x = \cos^3 t, y = \sin^3 t, & \text{f) } x = 3t + 2, y = 4t^2 + 1. \end{array}$$

**4.3.38.** Zistite, aké krivky sú dané parametrickými rovnicami pre  $a \in \mathbb{R}$ ,  $a > 0$ : ♣

$$\begin{array}{ll} \text{a) } x = \cos t, y = a \sin t, t \in \langle 0; 2\pi \rangle, & \text{b) } x = \cos^3 t, y = a \sin^3 t, t \in \langle 0; 2\pi \rangle, \\ \text{c) } x = \cos^2 t, y = a \sin^2 t, t \in \langle 0; \frac{\pi}{2} \rangle, & \text{e) } x = \sin^3 t, y = a \cos^3 t, t \in \langle 0; 2\pi \rangle. \end{array}$$

4.3.39. Určte deriváciu funkcie  $y = f(x)$  definovanej parametricky: ♣

a)  $x = \frac{4t^3}{3}, y = \frac{t^2}{2}, t \in (-\infty; \infty),$

b)  $x = \frac{1-t}{1+t}, y = \frac{2t}{1+t}, t \in R - \{-1\},$

c)  $x = \frac{2 \sin t}{1+2 \cos t}, y = \frac{4 \cos t}{1+2 \cos t}, t \in (-\frac{\pi}{3}; \frac{\pi}{3}),$

d)  $x = \arcsin \frac{1}{1+t^2}, y = \arccos \frac{1}{1+t^2}, t \in R,$

e)  $x = t - \cos t, y = 1 + \sin t, t \in \langle 0; 2\pi \rangle,$

f)  $x = 4 \cos^3 t, y = 4 \sin^3 t, t \in \langle 0; \pi \rangle,$

g)  $x = e^{2t} \cos^2 t, y = e^{2t} \sin^2 t, t \in \langle 0; \frac{\pi}{2} \rangle,$

h)  $x = 2 \cosh t, y = 4 \sinh t, t \in (0; \infty).$

4.3.40. Určte  $f', f'', f'''$  pre funkciu  $y = f(x)$  určenú parametricky: ♣

a)  $x = 4t + t^2, y = t^3 + t, t \in \langle 0; \infty \rangle,$

b)  $x = \ln t, y = \sin 2t, t \in (0; \infty),$

c)  $x = 4 \sin t, y = 4 \cos t, t \in (-\frac{\pi}{2}; \frac{\pi}{2}),$

d)  $x = 2 \cos^3 t, y = 2 \sin^3 t, t \in \langle 0; \pi \rangle,$

e)  $x = e^{-t} \cos t, y = e^{-t} \sin t, t \in R,$

f)  $x = e^t, y = \arcsin t, t \in (-1; 1).$

*Nemám nič proti gombíkom, v primeranom počte.*

**WILLIAM MAKEPEACE THACKERAY**

*Jeho svedomie bolo čisté, nikdy ho nepoužíval.*

**STANISLAV JERZY LEC**

*„Keď zbadáš sukňu, zabudneš, že si ženatý.“ manželka MARKA TWAINA*

*„Naopak, to si na to vždy spomeniem.“*

**MARK TWAIN**

*Lekársky výskum urobil také pokroky, že už napokon na svete niet zdravého človeka.*

**THOMAS HENRY HUXLEY**

*Existujú tri druhy klamstiev: lži, prekliate lži a štatistiky.*

**MARK TWAIN**

*Čo sa do suda dostane prvé, tým je cítiť stále.*

**ISLANDSKÉ PRÍSLOVIE**

*Pri stole a v posteli nesmie byť človek hlúpy.*

**NEMECKÉ PRÍSLOVIE**

*Chodí šťastie dokola, sem tam sadne na vola.*

**SLOVENSKÉ PRÍSLOVIE**

*Pivo sa podáva len odborovo organizovaným.*

*Automobilovými pretekmi proti zlým cestám a lajdáctvu!*

*úryvky z knihy ZLATÉ TEĽA (ILJA IL'F — JEVGENIJ PETROV)*

*Rozum je pravdepodobne jediný dar, ktorý príroda rozdelila spravodlivo, lebo sa nikto nestážuje, že ho má málo.*

**MICHEL de MONTAIGNE**

*Život je krátky. Samozrejme, ale v pomere k čomu?*

**ANDRÉ MAUROIS**

# Výsledky cvičení

## 1 Základné pojmy

**1.1.1.** a)  $\exists x \in R: \sin x \geq 1$ , b)  $\forall x \in R: \sin x \geq 1$ , c)  $\exists! x \in R: \sin x \geq 1$ , d)  $\exists x \in R: \sin x < 1$ , e)  $\exists x \in R: \sin x \leq 1$ , f)  $\forall x \in R: \sin x \leq 1$ , g)  $\exists! x \in R: \sin x \leq 1$ , h)  $\exists x \in R: \sin x > 1$ , i)  $\exists x \in R: \sin x \neq 1$ , j)  $\forall x \in R: \sin x \neq 1$ , k)  $\exists! x \in \sin x \neq 1$ , l)  $\exists x \in R: \sin x = 1$ . **1.1.2.** Ak  $|p|, |q|$  sú postupne  $PP, PN, NP, NN$ , potom: a)  $NNPN$ , b)  $PNPP$ , c)  $NNNP$ , d)  $NPPN$ , e)  $PPPN$ , f)  $PNNP$ , g)  $PPPN$ , h)  $NNPN$ , i)  $PPPP$ , j)  $PNPP$ , k)  $NNPP$ , l)  $PPNN$ . **1.1.3.** a), b), c) V oboch prípadoch môže byť  $P$  alebo  $N$ , d)  $N$ , resp.  $P$  alebo  $N$ . **1.1.4.** Nie: c), i), áno: a), b), d), e), f), g), h), j). **1.1.5.**  $(p \Rightarrow q) \Leftrightarrow \overline{p \wedge \overline{q}} \Leftrightarrow (\overline{p} \vee q)$ , resp.  $(p \Leftrightarrow q) \Leftrightarrow [\overline{p \wedge \overline{q}} \wedge \overline{\overline{p} \wedge q}] \Leftrightarrow [(\overline{p} \vee q) \wedge (p \vee \overline{q})] \Leftrightarrow \overline{\overline{p} \vee q} \vee \overline{p \vee \overline{q}} \Leftrightarrow (\overline{p \wedge \overline{q}}) \vee (\overline{\overline{p} \wedge q})$ . **1.1.6.** Negácie: a)  $(p \wedge q \wedge \overline{r}) \vee (r \wedge \overline{p \wedge q})$ , b)  $(p \vee q) \wedge \overline{r}$ , c)  $\overline{p \vee q} \wedge (p \vee q)$ , d)  $p \wedge \overline{q} \wedge r$ , e)  $(\overline{p} \wedge q) \vee (p \wedge \overline{q})$ , f)  $(p \vee r) \wedge \overline{p} \wedge \overline{q}$ . **1.1.7.** Nie: b), e), áno: a), c), d), f). **1.1.8.** Nie: a), b), d), e), f), áno: c). **1.1.9.** Tautológie: b), d), e), f), h), kontraindikácie: a), c), g), i), j). **1.1.10.**  $\overline{p \wedge \overline{q} \wedge r \wedge \overline{s} \wedge \overline{r} \wedge s}$ . **1.1.12.** Nie: b), d), f), áno: a), c), e), g), h). Negácie: a)  $\forall x \in R: \cos x \neq \sqrt{1 - \sin^2 x}$ , b)  $\exists x \in R: \cos x \neq \sqrt{1 - \sin^2 x}$ , c)  $\exists x \in R: \sin^2 x + \cos^2 x \neq 1$ , d)  $\exists x \in R: \sin^2 x - \cos^2 x \neq 1$ , e)  $\forall x \in R: x^4 \geq x^3$ , f)  $\exists x \in R \exists y \in R: x^2 + y^2 \leq 0$ , g)  $\forall x \in R \exists n \in N: n + 3 \geq nx$ , h)  $\exists n \in N \forall x \in R: n + 3 \geq nx$ .

**1.3.2.**  $2^A$  obsahuje  $\emptyset$  a množiny s prvkami 1, 2, 3, 4, 12, 13, 14, 23, 24, 34, 123, 124, 134, 234, 1234,  $2^B$  obsahuje  $\emptyset$  a množiny s prvkami 1, 2, 3, 4, 5, 12, 13, 14, 15, 23, 24, 25, 34, 35, 45, 123, 124, 125, 134, 135, 145, 234, 235, 245, 345, 1234, 1235, 1245, 1345, 2345, 12345. **1.3.3.**  $m$  a  $2^m$ , kde  $m = n^k$ . **1.3.4.** Nie: a), d), e), f), h), i), j), k), áno: b), c), g), l). **1.3.5.**  $A \subset B \cap D, A' \cup C = X, B \cup (D - A)' = (D - B)'$ ,  $D \Delta (A \cap C) = D - A$ . **1.3.6.**  $A \times B$  obsahuje  $[1; a], [1; b], [2; a], [2; b], [3; a], [3; b], [4; a], [4; b]$ ,  $A \times C$  obsahuje  $[a; x], [a; y], [a; z], [b; x], [b; y], [b; z]$ ,  $A \times B \times C$  obsahuje  $[1; a; x], [1; a; y], [1; a; z], [1; b; x], [1; b; y], [1; b; z], [2; a; x], [2; a; y], [2; a; z], [2; b; x], [2; b; y], [2; b; z], [3; a; x], [3; a; y], [3; a; z], [3; b; x], [3; b; y], [3; b; z], [4; a; x], [4; a; y], [4; a; z], [4; b; x], [4; b; y], [4; b; z]$ . **1.3.7.** a)  $\{2, 4, 8, 10\}, \{2, 4, 6, 8\}, \{3, 6, 9\}$ , b)  $\{3, 9\}, \{5\}, \{5, 10\}$ , c)  $\{2, 3, 4, 6, 8, 9, 10\}, \{2, 4, 5, 6, 8, 10\}, \{3, 5, 6, 9, 10\}$ , d)  $\{6\}, \{10\}, \emptyset, \emptyset, \{2, 3, 4, 5, 6, 8, 9, 10\}$ , f)  $\{2, 3, 4, 8, 9, 10\}, \{2, 4, 5, 6, 8\}, \{3, 5, 6, 9, 10\}$ , g)  $\{5, 6, 10\}, \{10\}$ , h)  $\{3, 6, 9, 10\}, \{6\}$ , i)  $\{2, 4, 6, 8, 10\}, \{6, 10\}$ , j)  $\{2, 3, 4, 6, 8, 9, 10\}, \{6\}$ . **1.3.9.** Obidve. **1.3.10.** a) relácie  $A \rightarrow B, B \rightarrow A$ , b) nie, c) relácia  $A \rightarrow B$ , d) relácia  $A \rightarrow B$ , zobrazenie  $B \rightarrow A$ . **1.3.11.** a)  $f = \{[a; a], [a; b], [a; c], [a; d], [a; e], [b; a], [b; b], [b; c], [b; d], [b; e], [c; a], [c; b], [c; c], [c; d], [c; e], [d; a], [d; b], [d; c], [d; d], [d; e], [e; a], [e; b], [e; c], [e; d], [e; e]\}$ , b)  $f = \{[a; a], [a; b], [a; e], [b; a], [b; b], [b; c], [c; b], [c; c], [c; d], [d; c], [d; d], [d; e], [e; a], [e; d], [e; e]\}$ , c)  $f = \{[a; a], [a; c], [a; e], [b; b], [c; c], [c; e], [d; d], [e; e]\}$ , d)  $f = \{[a; a], [a; c], [a; e], [c; a], [c; c], [c; e], [e; a], [e; c], [e; e]\}$ . **1.3.12.** spočítateľné a), nespočítateľné b), c), d).

## 2 Reálne čísla

**2.1.5.** a) 2 a 3, b) 0 a  $3/2$ , c) 0 a 1, d) 0 a  $\sin 1$ , e) 0 a  $1/2$ , f) 1 a  $\infty$ . **2.1.6.** a)  $-1/3$  a  $1/2$ , b)  $(\sqrt{5} - 1)/2$  a  $\infty$ . **2.1.9.** a)  $\langle 3; 4 \rangle$ , b)  $\langle 3; 4 \rangle$ , c)  $\langle 3; 4 \rangle \cup \langle 4; \infty \rangle$ . **2.1.10.** a)  $R$ , b)  $(0; \infty)$ , c)  $R$ , d)  $\langle (-1 - \sqrt{5})/2; 0 \rangle \cup \langle (-1 + \sqrt{5})/2; \infty \rangle$ , e)  $R - \{\pm\sqrt{3}\}$ , f)  $\langle 0; \infty \rangle$ , g)  $\langle 0; 1 \rangle$ , h)  $(-\infty; 0)$ . **2.1.12.** a)  $(-4; (-3 - \sqrt{21})/2) \cup ((-3 + \sqrt{21})/2; 1)$ , b)  $(-\infty; 2 - \sqrt{5}) \cup \langle 2 + \sqrt{5}; \infty \rangle$ , c)  $(-\infty; (-1 - \sqrt{13})/2) \cup (-2; 1) \cup ((-1 + \sqrt{13})/2; \infty)$ .

**2.2.3.** a)  $\{0\} \cup \{n^{-1}; n \in N\}$ , b)  $\{0\} \cup \{n^{-1}; n \in N\} \cup \{n^{-2}; n \in N\}$ , c)  $\{0\}$ , d)  $N \cup \{\infty\}$ , e)  $\{n^2; n \in N\} \cup \{\infty\}$ , f)  $\{0\}$ , g)  $R^*$ , h)  $R^*$ , i)  $R^*$ . **2.2.5.** V  $R$  vrcholy úsečky dlhjej 1, v  $R^2$  vrcholy rovnostranného trojuholníka so stranou 1, v  $R^3$  vrcholy pravidelného štvorstena atď.

**2.3.1.** a)  $\{0\}$ , b)  $\{1\}$ , c)  $\{1\}$ , d)  $\{1/2, 2\}$ . **2.3.2.**  $\{a_n \pm b_n\}_{n=1}^{\infty} \not\rightarrow$ ,  $\{a_n b_n\}_{n=1}^{\infty} \rightarrow$  (napr.  $a_n = 0$ ,  $b_n = n$ ), resp.  $\not\rightarrow$  (napr.  $a_n = 1$ ,  $b_n = n$ ),  $\{a_n/b_n\}_{n=1}^{\infty} \rightarrow$  (napr.  $a_n = 1$ ,  $b_n = n$ ), resp.  $\not\rightarrow$  (napr.  $a_n = 1$ ,  $b_n = n$  pre  $n$  párne a  $b_n = n^{-1}$  pre  $n$  nepárne),  $\{b_n/a_n\}_{n=1}^{\infty} \not\rightarrow$ ,  $\{1/(a_n b_n)\}_{n=1}^{\infty} \rightarrow$  (napr.  $a_n = 1$ ,  $b_n = n$ ), resp.  $\not\rightarrow$  (napr.  $a_n = n^{-2}$ ,  $b_n = n$ ). **2.3.3.**  $\{a_n \pm b_n\}_{n=1}^{\infty} \rightarrow$  (napr.  $a_n = n$ ,  $b_n = \mp n$ ), resp.  $\not\rightarrow$  (napr.  $a_n = n$ ,  $b_n = \pm n$ ),  $\{a_n b_n\}_{n=1}^{\infty} \rightarrow$  (napr.  $\{a_n\}_{n=1}^{\infty} = \{0, 1, 0, 1, \dots\}$ ,  $\{b_n\}_{n=1}^{\infty} = \{1, 0, 1, 0, \dots\}$ ), resp.  $\not\rightarrow$  (napr.  $a_n = n$ ,  $b_n = n$ ),  $\{a_n/b_n\}_{n=1}^{\infty} \rightarrow$  (napr.  $a_n = n$ ,  $b_n = n$ ), resp.  $\not\rightarrow$  (napr.  $a_n = n^2$ ,  $b_n = n$ ),  $\{1/(a_n b_n)\}_{n=1}^{\infty} \rightarrow$  (napr.  $a_n = n$ ,  $b_n = n$ ), resp.  $\not\rightarrow$  (napr.  $a_n = (-1)^n$ ,  $b_n = n$ ). **2.3.4.** a) napr.  $\{0, 1, 0, 1, \dots\}$ ,  $\{1, 0, 1, 0, \dots\}$ , b) napr.  $a_n = n^{-1}$ ,  $b_n = n^{-2}$ , c) neexistujú, d) napr.  $a_n = n + 4$ ,  $b_n = n$ . **2.3.5.**  $a_n = -(n^2 - 3n + 4)/2$ . **2.3.6.** a)  $a_{n+1} = 2a_n - 3$ , b)  $a_{n+1} = 2 - a_n$ , c)  $a_{n+1} = a_n - 1$ , d)  $a_{n+1} = a_n/(a_n + 1)$ . **2.3.7.** a)  $a_n = n$ , b)  $a_n = (-1)^{n+1}$ , c)  $a_n = 2^{n-1}n!$ . **2.3.8.** a)  $\pm 1$ , b) 0, c)  $\pm 1$ , d) 0, e)  $\infty$ , f)  $\pm \infty$ , g) 0. **2.3.9.** a)  $a_n = a(\sqrt{2}/2)^{n-1}$ , b)  $8a/(2 - \sqrt{2})$ , c)  $2a^2$ . **2.3.10.** a) áno, b) áno, c) nie, d) áno, e) áno, f) áno. **2.3.11.** a) 2, b) 4, c) 5, d) 1, e) 1, f) 2, g) 0, h)  $(1 + \sqrt{5})/2$ . **2.3.12.** a) 0, b) 0, c) 0, d) 0. **2.3.13.** a)  $61/450$ , b)  $8/15$ , c) 1, d)  $50/99$ , e)  $2/3$ , f)  $4/33$ . **2.3.14.** a)  $a \leq 3$ , b)  $-1 < a \leq 1$ , c)  $-4 < a \leq 2$ , d)  $a > -1$ . **2.3.15.** a)  $a = 0$ ,  $b = -1$ , b)  $a = -1, b = 2$ , c)  $a < 2$ ,  $b = 0$ , resp.  $a = 3$ ,  $b = -1$ . **2.3.16.** a) 1, b) 1, c)  $-5$ , d) 0, e)  $1/6$ , f)  $1/3$ , g)  $4/3$ . **2.3.17.** a)  $\infty$ , b)  $1/2$ , c) 0, d) 1, e)  $-4$ , f)  $5/3$ , g) 1, h)  $\infty$ , i) 4. **2.3.18.** a)  $-1$ , b)  $-1$ , c) 0, d) 1, e)  $\infty$ , f) 1, g)  $\infty$ , h) 0, i) 0, j) 1, k) 0, l) 0, m) 0, n) 1, o)  $e^{-2}$ , p)  $e^{-3/2}$ , q)  $e^{-1}$ , r)  $e^{-5}$ , s)  $e^{-1/3}$ , t) e. **2.3.19.** a)  $1/3$ , b)  $\infty$ , c) 2, d) 1, e) 1, f)  $1/\sqrt{2}$ . **2.3.20.** a)  $1/b$ , b)  $1/b$ , c)  $\sqrt{ab}$ . **2.3.21.** a)  $a$  pre  $-1 < a < 1$ ,  $1/2$  pre  $a = 1$ , 0 pre  $a > 1$ , resp.  $a < -1$ ,  $\#$  pre  $a = -1$ , b) 0 pre  $-1 < a < 1$ ,  $1/2$  pre  $a = 1$ , 1 pre  $a > 1$ , resp.  $a < -1$ ,  $\#$  pre  $a = -1$ , c) 0 pre  $a \neq 1$ ,  $1/2$  pre  $a = 1$ ,  $\#$  pre  $a = -1$ , d) 0 pre  $-5 < a < 1$ , 1 pre  $a = -1$ ,  $\infty$  pre  $a > -1$ ,  $\#$  pre  $a \leq -5$ , e) 0 pre  $-1 < a < 1$ , e pre  $a = 1$ ,  $\infty$  pre  $a > 1$ ,  $\#$  pre  $a \leq -1$ , f)  $a^2$ , g)  $e^{-2a}$ , h) 0 pre  $-3 < a < 3$ ,  $-1$  pre  $a = 3$ ,  $-\infty$  pre  $a > 3$ ,  $\#$  pre  $a \leq -3$ . **2.3.22.** a) 0, b) 0, c)  $a/2$ , d) 0, e)  $1/2$ , f)  $-\infty$ , g) 0, h) 0, i)  $1/2$ , j)  $\infty$  pre  $a > b$ ,  $-2a$  pre  $a = b$ ,  $-\infty$  pre  $a < b$ , k)  $a - b$ , l)  $\infty$  pre  $a < 1$ , 3 pre  $a = 1$ ,  $-\infty$  pre  $a > 1$ . **2.3.23.** a) 1, b)  $5/3$ , c) 0, d)  $2/3$ , e)  $(a + b)/2$ , f) 1. **2.3.24.** a)  $\infty$  pre  $a > 1/4$ , 1 pre  $a = 1/4$ , 0 pre  $a < 1/4$ , b) 1 pre  $a \leq 1$ ,  $a$  pre  $a > 1$ , c) a, d) 0 pre  $a < 1$ ,  $\infty$  pre  $a \geq 1$ , e)  $\ln a$  pre  $a > 0$ , 0 pre  $a = 0$ , f)  $a/b$  pre  $b > 0$ ,  $\infty$  pre  $b = 0$ , g)  $\ln a - \ln b$  pre  $a \geq b > 0$ ,  $\infty$  pre  $a > b = 0$ , 0 pre  $a = b = 0$ .

**2.4.1.** a)  $\not\rightarrow$ , b)  $\rightarrow$ , c)  $\not\rightarrow$ , d)  $\not\rightarrow$ , e)  $\rightarrow$ , f)  $\rightarrow$ , g)  $\not\rightarrow$ , h)  $\not\rightarrow$ , i)  $\not\rightarrow$ , j)  $\not\rightarrow$ , k)  $\not\rightarrow$ , l)  $\rightarrow$ , m)  $\not\rightarrow$ , n)  $\rightarrow$ , o)  $\rightarrow$ , p)  $\rightarrow$ , q)  $\not\rightarrow$ , r)  $\not\rightarrow$ , s)  $\not\rightarrow$ , t)  $\rightarrow$ . **2.4.2.** a)  $\not\rightarrow$ , b)  $\rightarrow$ , c)  $\rightarrow$ , d)  $\not\rightarrow$ , e)  $\not\rightarrow$ , f)  $\rightarrow$ , g)  $\not\rightarrow$ , h)  $\rightarrow$ , i)  $\not\rightarrow$ , j)  $\rightarrow$ , k)  $\rightarrow$ , l)  $\not\rightarrow$ . **2.4.3.** a)  $\not\rightarrow$ , b)  $\rightarrow$ , c)  $\not\rightarrow$ , d)  $\rightarrow$ , e)  $\not\rightarrow$ , f)  $\not\rightarrow$ , g)  $\rightarrow$ , h)  $\rightarrow$ , i)  $\not\rightarrow$ , j)  $\not\rightarrow$ , k)  $\rightarrow$ , l)  $\rightarrow$ , m)  $\rightarrow$ , n)  $\rightarrow$ , o)  $\rightarrow$ , p)  $\rightarrow$ , q)  $\not\rightarrow$ , r)  $\rightarrow$ . **2.4.4.** a)  $1/2$ , b)  $1/2$ , c)  $\infty$ , d)  $319/1680$ , e) 1, f)  $1/24$ , g)  $3/2$ , h) 3, i)  $1/4$ , j)  $2/5$ , k)  $-5/12$ , l)  $1/3$ . **2.4.5.** a)  $\xrightarrow{r}$ , b)  $\xrightarrow{r}$ , c)  $\xrightarrow{r}$ , d)  $\xrightarrow{r}$ , e)  $\xrightarrow{r}$ , f)  $\xrightarrow{r}$ , g)  $\not\rightarrow$ , h)  $\not\rightarrow$ , i)  $\xrightarrow{a}$ , j)  $\xrightarrow{a}$ , k)  $\xrightarrow{a}$ , l)  $\xrightarrow{r}$ . **2.4.6.** a)  $\rightarrow$  (napr.  $a_n = -b_n$ ), resp.  $\not\rightarrow$  (napr.  $a_n = b_n = n$ ), b)  $\rightarrow$  (napr.  $a_n = b_n = 1/n$ ), resp.  $\not\rightarrow$  (napr.  $a_n = n$ ), c)  $\rightarrow$  (napr.  $a_n = 1$ ,  $b_n = n^2$ ), resp.  $\not\rightarrow$  (napr.  $a_n = b_n$ ), d)  $\rightarrow$  (napr.  $\{a_n\}_{n=1}^{\infty} = \{0, -1, 0, -1, \dots\}$ ;  $\{b_n\}_{n=1}^{\infty} = \{-1, 0, -1, 0, \dots\}$ ), resp.  $\not\rightarrow$  (napr.  $a_n = b_n = n$ ). **2.4.7.** a)  $\not\rightarrow$ , b)  $\rightarrow$  (napr.  $a_n = 0$ ,  $b_n = 1$ ), resp.  $\not\rightarrow$  (napr.  $a_n = 1/n^2$ ,  $b_n = n$ ), c)  $\rightarrow$  (napr.  $a_n = 1/n^2$ ,  $b_n = n$ ), resp.  $\not\rightarrow$  (napr.  $a_n = 1/n^2$ ,  $b_n = 1/n$ ), d)  $\rightarrow$  (napr.  $a_n = 0$ ,  $b_n = -1/n$ ), resp.  $\not\rightarrow$  (napr.  $a_n = 0$ ,  $b_n = 1/n$ ). **2.4.9.** a)  $s = 1$ ,  $a_n = 1/2^n$ , b)  $s = 1$ ,  $a_1 = 3/2$ ,  $a_n = -1/2^n$ , c)  $s = 0$ ,  $a_1 = -1$ ,  $a_n = (-1)^n(2n - 1)/(n^2 - n)$  pre  $n \geq 2$ , d)  $s = 1/2$ ,  $a_1 = -1/2$ ,  $a_n = 1/(n^2 - n)$  pre  $n \geq 2$ . **2.4.10.**  $\rightarrow$ ,  $a_n = a_1 \sqrt{(1 - a_1^2)^{(n-1)}}$ ,  $a = a_1/[1 - \sqrt{1 - a_1^2}]$ ,  $P = \sqrt{1 - a_1^2/(2a_1)}$ . **2.4.11.**  $2\pi h^3 R^2/(12R^2 + 9h^2)$ . **2.4.12.** a)  $\sqrt{2}d$ , b)  $(\sqrt{2} + 1)d$ , c)  $\pi d/2$ , d)  $2d$ . **2.4.13.** a)  $\sqrt{2}o = 2\sqrt{2}\pi r$ , b)  $(\sqrt{2} + 1)o = (\sqrt{2} + 1)2\pi r$ , c)  $\pi o/2 = \pi^2 r$ , d)  $2o = 4\pi r$ .

### 3 Reálne funkcie

**3.1.1.** a) nie, b) áno, c) áno, d) áno, e) áno, f) áno. **3.1.2.** a)  $(e^{-1}; e)$ , b)  $R - \{\pi/2 + 2k\pi; k \in Z\}$ , c)  $(-\infty; -1) \cup (1; \infty)$ , d)  $(\sqrt{0 + 2k\pi}; \sqrt{\pi + 2k\pi})$ ,  $k \in Z$ , e)  $R - \{\pm\sqrt{1/2}\}$ , f)  $(0; \infty) - N$ , g)  $(1; \infty) \cup ((-2k + 1)^{-1}; (-2k)^{-1}) \cup ((2k + 1)^{-1}; (2k)^{-1})$ ,  $k \in N$ , h)  $(-\infty; -1) \cup (1; \infty)$ , i)  $(-\infty; 0)$ , j)  $(-1; 1)$ , k)  $R - \langle 2; 3 \rangle$ , l)  $\langle 2; \infty \rangle - \{4\}$ . **3.1.3.** a)  $(-\pi/4 + k\pi/2; \pi/8 + k\pi/2)$ ,  $k \in Z$ , b)  $R - \langle -2; 2 \rangle$ , c)  $(2; \infty)$ , d)  $\langle k\pi; \pi/2 + k\pi \rangle$ ,  $k \in Z$ , e)  $\langle 0 + 2k\pi; \pi/2 + 2k\pi \rangle$ ,  $k \in Z$ , f)  $\emptyset$ , g)  $\langle -5\pi/6 + k\pi; 5\pi/6 + k\pi \rangle$ ,  $k \in Z$ , h)  $\langle 0; 1 \rangle \cup (1; \infty)$ , i)  $R - \{1 \pm \sqrt{7}\}$ . **3.1.6.** a) párna, b) párna, c) nepárna, d) ani párna ani nepárna, e) nepárna, f) nepárna, g) ani párna ani nepárna, h) párna a aj nepárna, i) nepárna, j) párna, k) nepárna, l) párna, m) nepárna, n) párna, o) párna, p) nepárna. **3.1.8.** a) áno,  $\pi$ , b) nie, c) áno,  $\pi$ , d) áno, 2, e) áno, 1, f) áno, nemá (všetky  $p \in R$ ), g) áno, nemá (všetky  $p \in R$ ), h) áno, 2. **3.1.9.** a) áno,  $2\pi$ , b) áno,  $\pi$ , c) nie, d) áno,  $2\pi$ , e) áno,  $2\pi$ , f) áno,  $2\pi$ , g) áno,  $\pi$ , h) áno,  $\pi$ , i) nie. **3.1.10.** a) na  $(-\infty; -1)$ ,  $(1; \infty)$ ,  $(1/(k + 1); 1/k)$ ,  $k \in Z - \{0, -1\}$  je konštantná, b) na  $(-\infty; 1/2)$  klesá, na  $(1/2; \infty)$  rastie, c) na  $(-\infty; 3/2)$  klesá, na  $(3/2; \infty)$  rastie, d) na  $(-\infty; -1)$  klesá, na  $(-1; 2)$  je konštantná a na  $(2; \infty)$  rastie,

e) na  $(-\infty; 3/2)$  klesá, na  $(3/2; \infty)$  rastie, f) na  $(-\infty; -\sqrt{3/2})$  a  $(0; \sqrt{3/2})$  klesá a na  $(-\sqrt{3/2}; 0)$  a  $(\sqrt{3/2}; \infty)$  rastie, g) na  $(-\infty; 0)$  rastie a na  $(0; \infty)$  je konštantná, h) na  $(0; \sqrt{e})$  klesá a na  $(\sqrt{e}; \infty)$  rastie, i) klesá na  $R$ , j) na  $(-\infty; -\sqrt{1/3})$  a  $(\sqrt{1/3}; \infty)$  rastie a na  $(-\sqrt{1/3}; \sqrt{1/3})$  klesá, k) klesá na  $(-\infty; 2/3)$ , l) na  $(-\infty; -3)$  a  $(0; \infty)$  je konštantná a na  $(-3; 0)$  rastie, m) rastie na  $(k; k+1)$ ,  $k \in Z$ , n) na  $(-\infty; -1)$  klesá a na  $(-1; \infty)$  rastie, o) na  $(-\infty; 0)$  je konštantná a na  $(0; \infty)$  rastie, p) rastie na  $(1; \infty)$ . **3.1.11.** a) ohraničená zdola,  $\inf f(x) = 0$ ,  $\sup f(x) = \infty$ , b) ohraničená zdola,  $\inf f(x) = 0$ ,  $\sup f(x) = \infty$ , c) ohraničená,  $\inf f(x) = \min f(x) = 1/2$ ,  $\sup f(x) = \max f(x) = 1$ , d) ohraničená,  $\inf f(x) = -14$ ,  $\sup f(x) = \max f(x) = 1$ , e) ohraničená zdola,  $\inf f(x) = \min f(x) = 1$ ,  $\sup f(x) = \infty$ , f) ohraničená,  $\inf f(x) = \min f(x) = 2$ ,  $\sup f(x) = 17$ . **3.1.12.** a)  $\min f(x) = 3/2$ ,  $\sup f(x) = \infty$ , b)  $\inf f(x) = -\infty$ ,  $\sup f(x) = \infty$ , c)  $\min f(x) = 0$ ,  $\sup f(x) = \infty$ , d)  $\min f(x) = -1/4$ ,  $\sup f(x) = \infty$ , e)  $\min f(x) = 0$ ,  $\max f(x) = 1$ , f)  $\min f(x) = -1$ ,  $\max f(x) = 1$ , g)  $\min f(x) = 1$ ,  $\max f(x) = 3$ , h)  $\min f(x) = -1$ ,  $\max f(x) = 1$ . **3.1.13.**  $f(g) = g(f): y = 1 - x^2$ ,  $f(h) = h(f): y = \sin x$ ,  $h(g) = f[h(g)] = h[f(g)] = h[g(f)]: y = \sin(1 - x^2)$ ,  $g(h) = f[g(h)] = g[f(h)] = g[h(f)]: y = 1 - \sin^2 x$ . **3.1.14.**  $f(g)$ ,  $g(f)$ ,  $f(f)$ ,  $g(g)$ : a)  $8-2x$ ,  $4-2x$ ,  $4x$ ,  $x$ , b)  $1-x^2+x^4$ ,  $2x+3x^2+2x^3+x^4$ ,  $3+3x+4x^2+2x^3+x^4$ ,  $-2x^2+x^4$ , c)  $\ln \sqrt{1-|x|}$ ,  $\sqrt{1-|\ln x|}$ ,  $\ln \ln x$ ,  $\sqrt{1-|\sqrt{1-|x|}|}$ , d)  $\ln \sinh x$ ,  $(-1+x^2)/(2x)$ ,  $\ln \ln x$ ,  $\sinh \sinh x$ , e)  $(\sqrt{x}+1)^2$ ,  $x+1$ ,  $4+8x+8x^2+4x^3+x^4$ ,  $\sqrt[4]{x}$ , f)  $[x^2]^2$ ,  $[x^2]$ ,  $x^4$ ,  $[x]$ , g)  $-x+x^2+[x^2-x]$ ,  $-x+x^2-[x]+2x[x]+[x]^2$ ,  $x+[x]+[x+[x]]$ ,  $x-2x^3+x^4$ , h)  $\sqrt{(5+2x)/(2+x)}$ ,  $1/(2+\sqrt{x+2})$ ,  $\sqrt{2+\sqrt{2+x}}$ ,  $(2+x)/(5+2x)$ . **3.1.15.** a)  $|g| = g$ ,  $f+g: y = x+1$ ,  $x \in (-\infty; 0)$ ,  $y = 2x^2+1$ ,  $x \in (0; \infty)$ ,  $g^2: y = 1$ ,  $x \in (-\infty; 0)$ ,  $y = (x^2+1)^2$ ,  $x \in (0; \infty)$ ,  $fg: y = x$ ,  $x \in (-\infty; 0)$ ,  $y = x^4+x^2$ ,  $x \in (0; \infty)$ ,  $f/g: y = x$ ,  $x \in (-\infty; 0)$ ,  $y = x^2/(x^2+1)$ ,  $x \in (0; \infty)$ ,  $f(g): y = 1$ ,  $x \in (-\infty; 0)$ ,  $y = (x^2+1)^2$ ,  $x \in (0; \infty)$ ,  $g(f): y = 1$ ,  $x \in (-\infty; 0)$ ,  $y = x^4+1$ ,  $x \in (0; \infty)$ ,  $f(f): y = 1$ ,  $x \in (-\infty; 0)$ ,  $y = x^4$ ,  $x \in (0; \infty)$ ,  $g(g): y = 1$ ,  $x \in (-\infty; 0)$ ,  $y = (x^2+1)^2+1$ ,  $x \in (0; \infty)$ , b)  $|g| = g$ ,  $f+g: y = x+x^2$ ,  $x \in (-\infty; 0)$ ,  $y = x^2+x+1$ ,  $x \in (0; \infty)$ ,  $g^2: y = x^2$ ,  $x \in (-\infty; 0)$ ,  $y = (x+1)^2$ ,  $x \in (0; \infty)$ ,  $fg: y = x^3$ ,  $x \in (-\infty; 0)$ ,  $y = x^3+x$ ,  $x \in (0; \infty)$ ,  $f/g: y = 1/x$ ,  $x \in (-\infty; 0)$ ,  $y = x^2/(x+1)$ ,  $x \in (0; \infty)$ ,  $f(g): y = 1$ ,  $x \in (-\infty; 0)$ ,  $y = (x+1)^2$ ,  $x \in (0; \infty)$ ,  $g(f): y = 1$ ,  $x \in (-\infty; 0)$ ,  $y = x^2+1$ ,  $x \in (0; \infty)$ ,  $f(f): y = 1$ ,  $x \in (-\infty; 0)$ ,  $y = x^4$ ,  $x \in (0; \infty)$ ,  $g(g): y = x^4$ ,  $x \in (-\infty; 0)$ ,  $y = x+2$ ,  $x \in (0; \infty)$ . **3.1.16.** a)  $f_n(x) = x+n$ , b)  $f_{2n}(x) = x$ ,  $f_{2n+1}(x) = f(x)$ , c)  $f_n(x) = (a_n + xa_{n+1})/(a_{n-1} + xa_n)$ , kde  $a_n$  sú členy Fibonaccioho postupnosti, d)  $f_n(x) = x/(1+nx)$ , e)  $f_{4n}(x) = x$ ,  $f_{4n+1}(x) = f(x)$ ,  $f_{4n+2}(x) = -1/x$ ,  $f_{4n+3}(x) = -1/f(x)$ , f)  $f_{2n}(x) = x$ ,  $f_{2n+1}(x) = f(x)$ , g)  $f_n(x) = x/(1-nx)$ , h)  $f_{2n}(x) = x$ ,  $f_{2n+1}(x) = f(x)$ , i)  $f_{4n}(x) = x$ ,  $f_{4n+1}(x) = f(x)$ ,  $f_{4n+2}(x) = -1/x$ ,  $f_{4n+3}(x) = -1/f(x)$ , j)  $f_{2n}(x) = x$ ,  $f_{2n+1}(x) = f(x)$ , k)  $f_n(x) = (a_n - xa_{n+1})/(-a_{n-1} + xa_n)$ , kde  $a_n$  sú členy Fibonaccioho postupnosti, l)  $f_{2n}(x) = x$ ,  $f_{2n+1}(x) = f(x)$ . **3.1.17.** a)  $y = \sqrt{x+1}$ ,  $x \in (3; 24)$ , b)  $y = 3x/(1-x)$ ,  $x \in R - \{1\}$ , c)  $y = 4 + \sqrt{x}$ ,  $x \in (0; 1)$ , d)  $y = (\arcsin x + 1)/3$ ,  $x \in (-1; 1)$ , e)  $y = e^{2x} + 1$ ,  $x \in R$ , f)  $y = 1 + 2e^x + e^{2x}$ ,  $x \in R$ . **3.1.18.** a)  $D(f) = (-\pi/2; \pi/2)$ ,  $f^{-1}: y = \operatorname{arctg}(x/2 - 1/2)$ , b)  $D(f) = (-\pi/2; \pi/2)$ ,  $f^{-1}: y = x$ , c)  $D(f) = (-\pi/2; \pi/2)$ ,  $f^{-1}: y = \arcsin(1-x^2)$ , d)  $D(f) = (-\infty; 0)$ ,  $f^{-1}: y = \ln \cos x$ , e)  $D(f) = (0; \pi/2)$ ,  $f^{-1}: y = \arccos e^x$ , f)  $D(f) = (0; \infty)$ ,  $f^{-1}: y = \sqrt{1 - \ln(1+x)}$ , g)  $D(f) = R$ ,  $f^{-1}: y = \ln(e^x - 1)$ , h)  $D(f) = R$ ,  $f^{-1}: y = 1 + \ln(x+1)$ , i)  $D(f) = (-1; 1)$ ,  $f^{-1}: y = x$ , j)  $D(f) = (1; \infty)$ ,  $f^{-1}: y = 1 + \sqrt{2+x}$ , k)  $D(f) = (0; \infty)$ ,  $f^{-1}: y = \sqrt[4]{x+1}$ , l)  $D(f) = (-1; \infty)$ ,  $f^{-1}: y = -1 + x^2$ .

**3.2.1.** a) 0, b) 1, c) 1, d)  $e^{-1}$ , e) 9, f) -1, g)  $\frac{2}{3}$ , h) 1/2, i) 4, j) 10/9, k) 1, l) -1, m)  $\frac{2}{3}$ , n)  $-\sqrt{2}/2$ , o)  $\sqrt{2}/2$ , p)  $\sqrt{2}/2$ , q)  $-\ln 3/3$ , r)  $\frac{2}{3}$ , s)  $\frac{2}{3}$ , t)  $-2/\sin 3$ . **3.2.2.** a)  $n/m$ , b)  $m/n$ , c) a, d)  $a-b$ , e) 1/2, f) 1/2, g) 1/3, h)  $\ln 3/\ln 6$ , i)  $e^a$ , j) 0, k) 1, l) 3, m)  $\pi$ , n)  $\pi$ , o) 1, p) 1/4, q) 3, r)  $\frac{2}{3}$ , s)  $-\infty$ , t)  $\infty$ . **3.2.3.** a) 1, b)  $1/\sqrt{e}$ , c) 1, d)  $1/e$ , e)  $e^3$ , f) 0, g) 1, h) 1, i)  $\frac{2}{3}$ , j) 1, k) -1, l) -12, m)  $e^5$ , n)  $e^5$ , o) -1, p) 1, q) 1/12, r) 1/3, s)  $\pi$ , t) 3/5. **3.2.4.** a) 1, b) 0, c)  $(2a)^{-1}$ , d)  $\sqrt{2}/4$ , e)  $\sqrt{2}/4$ , f) 0, g)  $-2/5$ , h) -1, i) 1/8, j)  $\frac{2}{3}$ , k) 4, l) 5/2, m)  $\infty$ , n) 0, o)  $\frac{2}{3}$ , p) 0, q) 0, r)  $\frac{2}{3}$ . **3.2.5.** a) 1/8, b) 4, c) -1, d) 15/2, e) 1/4, f)  $-2/3$ , g) 1/n, h) 11/3, i)  $\sqrt[3]{2/3}$ , j) 1, k)  $-\sqrt{2}/2$ , l) 2, m) -1, n) 2, o) 1/2, p)  $1/\sqrt[3]{e^2}$ , q)  $\sqrt[3]{e^2}$ , r) 1, s)  $2/\pi$ , t) 1, u)  $2/\sqrt{3}$ . **3.2.6.** a) 3/2, b) 3/2, c) 0, d) 6, e) 1, f) 1/2, g)  $6\sqrt{2}$ , h)  $\infty$ , i) -1/2, j) 3/2, k)  $(a-1)/(3a^2)$ , l) 1, m)  $-1/4$ , n)  $(n^2 - m^2)/2$ , o)  $\cos x$ , p)  $\frac{2}{3}$ , q)  $-\pi/2$ , r)  $\pi/2$ . **3.2.7.** a) 0, b)  $1/6^{100}$ , c) 1/4, d) -1/2, e) -2, f) 3, g) 2a, h) a, i) 6, j) 0, k) 2, l) 1, m)  $2 \cos a$ , n)  $2 \cos x$ .

**3.3.1.** Body nespojitosti: a) 0 odstrániteľný, b)  $k\pi$ ,  $k \in Z$  neodstrániteľný 2. druhu, c) 1 neodstrániteľný 2. druhu, d) 0 neodstrániteľný 1. druhu, e)  $k\pi$ ,  $\pi/2 + 2k\pi$ ,  $k \in Z$  neodstrániteľný 1. druhu, f)  $2k\pi$ ,  $\pi/2 + k\pi$ ,  $k \in Z$  neodstrániteľný 1. druhu, g)  $k\pi$ ,  $k \in Z$  neodstrániteľný 2. druhu, h)  $\pi/2 + k\pi$ ,  $k \in Z$  neodstrániteľný 2. druhu, i) 0 neodstrániteľný 2. druhu, j) 0 neodstrániteľný 2. druhu, k) nie sú, l) 0 odstrániteľný, m) 0 odstrániteľný, n) 0 neodstrániteľný 1. druhu, o) 0 odstrániteľný, resp.  $k\pi$ ,  $k \in Z - \{0\}$  neodstrániteľný 2. druhu, p) 0 neodstrániteľný 2. druhu. **3.3.2.** a) 2, b)  $a \in R$ , c) 1, d) 1. **3.3.3.** a)  $a = 2$ ,  $b = -2$ , b)  $a = 7/4$ ,  $b = -3/2$ . **3.3.4.** a) 1/2, b) 1/4, c) 4, d)  $e^2$ , e) -1, f) 3/2. **3.3.5.** Spojitá (napr.  $f(x) = 1$  pre

$x \geq a$ ,  $f(x) = -1$  pre  $x < a$ ), resp. nespojitá (napr.  $f(x) = 2$  pre  $x \geq a$ ,  $f(x) = -1$  pre  $x < a$ ). **3.3.6.** Napr.  $1/[x(x-1) \cdots (x-n)]$ , resp.  $[x]$ . **3.3.7.** a) spojitá (napr.  $f = -g$ ), resp. nespojitá (napr.  $g = f$ ), b) spojitá (napr.  $f = g$ ), resp. nespojitá (napr.  $f(x) = 1$  pre  $x \geq a$ ,  $f(x) = -1$  pre  $x < a$ ,  $g(x) = 2$  pre  $x \geq a$ ,  $f(x) = -1$  pre  $x < a$ ), c) spojitá (napr.  $f(x) = 1$  pre  $x \geq a$ ,  $f(x) = 0$  pre  $x < a$ ,  $g(x) = 0$  pre  $x \geq a$ ,  $f(x) = 1$  pre  $x < a$ ), resp. nespojitá (napr.  $f = g$ ,  $f(x) = 1$  pre  $x \geq a$ ,  $f(x) = 0$  pre  $x < a$ ), d) spojitá (napr. pre  $a = 0$ ,  $f(x) = 1$  pre  $x \geq 0$ ,  $f(x) = 0$  pre  $x < 0$ ), resp. nespojitá (napr. pre  $a = 0$ ,  $f(x) = 1$  pre  $x > 0$ ,  $f(x) = 2$  pre  $x \leq 0$ ), e) spojitá (napr. pre  $a = 0$ ,  $f = g$ ,  $f(x) = 1$  pre  $x \geq 0$ ,  $f(x) = 0$  pre  $x < 0$ ), resp. nespojitá (napr. pre  $a = 0$ ,  $f = g$ ,  $f(x) = 1$  pre  $x > 0$ ,  $f(x) = 2$  pre  $x \leq 0$ ), f) spojitá (napr. pre  $a = 0$ ,  $f = g$ ,  $f(x) = 1$  pre  $x \geq 0$ ,  $f(x) = 0$  pre  $x < 0$ ), resp. nespojitá (napr. pre  $a = 0$ ,  $f = g$ ,  $f(x) = 1$  pre  $x > 0$ ,  $f(x) = 2$  pre  $x \leq 0$ ). **3.3.8.** a) nespojitá, b) nespojitá, c) spojitá (napr.  $f(x) = 0$ ), resp. nespojitá (napr.  $f(x) = 1$ ), d) spojitá (napr.  $f(x) = \text{konšt.}$ ), resp. nespojitá (napr.  $f(x) = x$ ), e) spojitá (napr.  $f(x) = \text{konšt.}$ ), resp. nespojitá (napr.  $f(x) = x$ ), f) spojitá (napr.  $f(x) = \text{konšt.}$ ), resp. nespojitá (napr.  $f(x) = x$ ,  $g(x) = 0$  pre  $x \geq 0$ ,  $g(x) = 1$  pre  $x < 0$ ). **3.3.9.** Funkcia  $f(g)$ : a)  $(-\infty; -1)$ ,  $(-1; 0)$ ,  $(0; 1)$ ,  $(1; \infty)$ , b)  $(k; k+1)$ ,  $k \in \mathbb{Z}$  c)  $(-\infty; 1)$ ,  $(1; \infty)$ , d) R, e) R, f) všade nespojitá. Funkcia  $g(f)$ : a) R, b) R, c)  $(-\infty; 0)$ ,  $(0; \infty)$ , d) R, e)  $(-\infty; 0)$ ,  $(0; \infty)$ , f) R. **3.3.11.** a) 1, 92627032, c)  $-0,56714329$ , b)  $-0,73512111$ , resp.  $-0,21180469$ , resp.  $1,09808432$ , resp.  $5,84884147$ , d)  $2,20794003$ , e)  $-0,51859913$ , resp.  $1,36393887$ , f)  $1,41298437$ , resp.  $1,89713947$ . **3.3.12.** a)  $\langle 0; 1 \rangle$ , b)  $\langle 0; 18 \rangle$ , c)  $\bigcup_{n=1}^{\infty} \langle n^2; n^2 + n \rangle \cup \{0\}$ , d)  $(-\pi; -2\pi) \cup (-3\pi; -4\pi) \cup \{0; \pi/2; 3\pi/2\}$ , e)  $\{0, 1\}$ , f)  $(-\infty; -4)$ .

#### 4 Diferenciálny počet reálnej funkcie

**4.1.1.** a)  $4x$ , b)  $x/\sqrt{x^2+1}$ , c)  $1/(2\sqrt{x-1})$ , d)  $1-2x$ , e)  $-1/\sin^2 x$ , f)  $-3$ , g)  $-1/(x-1)^2$ , h)  $-e^{-x}$ . **4.1.2.**  $1 \pm 1/\sqrt{2}$ . **4.1.3.** a)  $-2x \ln 22^{-x^2}$ , b)  $\sin x e^{-\cos x}$ , c)  $\sqrt[3]{x}(1-\ln x)/x^2$ , d)  $x^{-2/3}/3$ , e)  $2^{\text{tg} x} \ln 2 / \cos^2 x$ , f)  $e^x x^{e^x-1}(1+x \ln x)$ , g)  $x^{\sin x-1}(x \cos x \ln x + \sin x)$ , h)  $2x \ln x^{-1} \ln x$ , i)  $e^{\text{tgh} x} / \cosh^2 x$ , j)  $[\ln x]^{x-1} + [\ln x]^x \ln \ln x$ , k)  $e^{\sqrt{x}}/(2\sqrt{x})$ , l)  $e^{\arctg x} / (1+x^2)$ , m)  $x^x(1+x+x \ln x)$ , n)  $x^{-1+x+x^x}(1+x \ln x + x \ln^2 x)$ , o)  $(x^x)^x(x+x \ln x + \ln x^x)$ , p)  $2(2/5)/(25x^{4/5})$ , q)  $-2 \cotg x / \sin^2 x$ , r)  $-2\sqrt[3]{4}/(3x^{7/3})$ , s)  $\text{tg} x / \cos x$ , t)  $-\sin 2x / \cos x + 2x \cos^2 x \text{tg} x^2 / \cos x^2$ . **4.1.4.** a)  $\cotg x - x / \sin^2 x$ , b)  $\cotg e^x - x e^x / \sin^2 e^x$ , c)  $3^x(\ln x - \ln 2)/2^x$ , d)  $(e^x(-3+x))/x^4$ , e)  $-1/(1+x^2)$ , f)  $e^x x^4 e^x(5+x)$ , g)  $5 \text{tg}^4 x / \cos^2 x$ , h)  $2x \cos x^2$ , i)  $5 e^{5x} / (2\sqrt{e^{5x}})$ , j)  $e^{\sin x} \cos x$ , k)  $3x^2 \text{sgn} x$ , l)  $2|x|$ , m)  $0$ , n)  $23^{2x} \ln 3$ , o)  $-\sin x$  pre  $x \in (-\pi/2 + 2k\pi; \pi/2 + 2k\pi)$ ,  $\sin x$  pre  $x \in (\pi/2 + 2k\pi; 3\pi/2 + 2k\pi)$ , p)  $-3^{\cotg x} \ln 3 / \sin^2 x$ , q)  $x^{\sqrt{x}-1/2}(2 + \ln x)/2$ , r)  $\cos x / x^2 \sin^2(x/2) - x^{\cos x} \ln x \sin x$ , s)  $x^{(x^2)}(1+x^2+2x^2 \ln x)$ , t)  $3/x$ , u)  $-1/\sin^2 x$ , v)  $x(2 \ln x - 1)/\ln^2 x$ , w)  $-2/e^{2x}$ , x)  $-2/(x \ln^3 x)$ , y)  $-1/((1+x^2) \arctg^2 x)$ . **4.1.5.** a)  $2/(x-1)^2$ , b)  $\text{tg}(x/2)/\cos^2(x/2)$ , c)  $2x^2[(1-x^3)/(1+x^3)]^{2/3}/(x^3-1)^2$ , d)  $2[(1-x)/(1+x)]^{2x/(1-x)}/(x^2-1) + 2[(1-x)/(1+x)]^{(1+x)/(1-x)} \ln[(1-x)/(1+x)]/(x-1)^2$ , e)  $\sin 2x/e^{\cos^2 x}$ , f)  $-\text{tg} x$ , g)  $-7x^8 - 5x^6$ , h)  $-4x^{1/3}/3 + 5x^4/(2\sqrt{x^5})$ , i)  $4/(x^2-4)$ , j)  $(1 + \ln x + \ln^2 x)/(1 + \ln x)^2$ , k)  $1/\sin x$ , l)  $-2/(1 - \sin 2x)$ , m)  $2x/(1+x^2)$ , n)  $6x(x^2-1)^2$ , o)  $-e^{-x} - 2x e^{-x^2}$ , p)  $x^4(-4+5 \ln x)$ , q)  $-(1+2x)^{-3/2}$ , r)  $-1/(1+x^2)$ , s)  $-2e^x/(e^x-1)^2$ , t)  $1/(1+x^2)$ . **4.1.6.** a)  $-2 \cos x^{-2}/x^3$ , b)  $(-2-2x+x^2)/(-1+x^2)$ , c)  $4e^{2x}/(1+e^{2x})^2$ , d)  $(-1-\cos x + \sin x)/(1+\sin 2x)$ , e)  $e^{\cos x + \sin x}(\cos x - \sin x)$ , f)  $-2x^3/\sqrt{1-x^4}$ , g)  $-1/(2\sqrt{x} \sin^2 \sqrt{x})$ , h)  $40x(-1+x^2)^{19}$ , i)  $4x/(1+x^2)^2$ , j)  $1/(2\sqrt{x}(1+2\sqrt{x}^2))$ , k)  $-(1+3x^2)/(2x^{3/2})$ , l)  $(x^2(3+2x+x^2))/(1+x+x^2)^2$ , m)  $(1+2x)/e^{1/x}$ , n)  $x e^x(x \cos x + 2 \sin x + x \sin x)$ , o)  $(1-2x^2)e^{-x^2}$ , p)  $-1/(2\sqrt{x}(1+x))$ . **4.1.7.** a)  $-1/(x^2 \cos^2(1+1/x))$ , b)  $-1/(2 \sin^2(x/2))$ , c)  $-\text{tg}(x/2)/(2 \cos^2(x/2))$ , d)  $-1/[2\sqrt{x}(1-\sqrt{x})/(1+\sqrt{x})(1+\sqrt{x})^2]$ , e)  $8x \ln^3(1+x^2)/(1+x^2)$ , f)  $2 \cotg 2x$ , g)  $x \cosh x + \sinh x$ , h)  $-2x/[(1+x^4) \text{arccotg} x^2]$ , i)  $-2 \cotg x / \sin^2 x$ , j)  $16x^7/(-1+x^6)$ , k)  $1/(x\sqrt{1-\ln^2 x})$ , l)  $-\sqrt{3}/\sqrt{5+2x-3x^2}$ , m)  $-\ln \sin x [\sin x]^2 \cos^2(x/2) + \cos^2 x / [\sin x]^2 \sin^2(x/2)$ , n)  $[\cos x]^{1+\sin x} \ln \cos x - [\cos x]^{-1+\sin x} \sin^2 x$ , o)  $[\cosh x]^{-1+\ln x}(\cosh x \ln \cosh x + x \ln x \sinh x)/x$ , p)  $(1+x^2)^{-1+\arctg x} (2x \arctg x + \ln(1+x^2))$ , q)  $2[\text{tg} x]^{-1+\cotg x} / \sin 2x - \ln \text{tg} x \sin^2 x [\text{tg} x]^{\cotg x}$ , r)  $3^{\ln[1+x+x^2]}(1+2x) \ln 3 / (1+x+x^2)$ , s)  $x(1-3x+2 \ln x)$ , t)  $1-5 \sin 2x$ . **4.1.8.** a)  $-1/(x\sqrt{1-\ln^2 x})$ , b)  $2e^{2x} \cotg e^{2x}$ , c)  $-2x$  pre  $x \in (-1; 1)$ ,  $2x$  pre  $x \in R - \langle -1; 1 \rangle$ , d)  $1/[x\sqrt{1-\ln^2 x}]$ , e)  $x/\sqrt{1-x^2} + \arcsin x$ , f)  $e^x(\cos x - \sin x)$ , g)  $x e^x$ , h)  $1/[x \ln x \ln \ln x \ln \ln \ln x]$ , i)  $2x/(-1+x^2)$ , j)  $2x/(-1+x^2)$ , k)  $-\text{tgh}^2 x$ , l)  $5/[\sqrt{1-25x^2} \arcsin 5x]$ , m)  $\cotg x$ , n)  $1/[\sqrt{1-x^2} \arcsin x]$ , o)  $1/\cos 2x$ , p)  $-1/(x+x \ln^2 x)$ , q)  $1/(x\sqrt{1+x^2}) - \text{argsinh} x/x^2$ , r)  $2x/\cosh x - x^2 \text{tgh} x / \cosh x$ , s)  $1/(-1+x^2) + x \arccos x / \sqrt{(1-x^2)^3}$ , t)  $1/(x-x \ln^2 x)$ . **4.1.9.** a)  $2 \sin^2 x$ , b)  $(-5x(2/3))/3 + (5x(3/2))/2$ , c)  $e^{-x}[-1+2x-x^2+4x^3-x^4]$ , d)  $-2 \arcsin[1/(-1+x)]/(\sqrt{1-(-1+x)^2}(-1+x)^2)$ , e)  $2(1-\cos x \cosh x)/(\cos x - \cosh x)^2$ , f)  $-1/2$ , g)  $2/(1-x^2)$ , h)  $2x/(2+2x^2+x^4)$ , i)  $3/[x(1+x^3)^2]$ , j)  $(1+2x \text{arccotg} x)/(-1+x^2)^2$ , k)  $-\text{tg}[1-1/x]/x^2$ , l)  $2 \cos x / (3[\sin x]^{1/3}) + 2 \text{tg} x / \cos^2 x$ , m)  $[-2/x^2 + 3/(x \cos^2 x) - 3 \text{tg} x/x^2]/[1+(2+3 \text{tg} x)^2/x^2]$ , n)  $-\cotg^2 x / \sin x - 1/\sin^2 x - 1/\sin^3 x$ , o)  $(\arcsin x - \arccos x)(\arcsin x + \arccos x)^2 /$

$(\sqrt{1-x^2} \arccos^2 x \arcsin^2 x)$ . **4.1.10.** a)  $-1$ , b)  $-1$ , c)  $|\cos x|/\cos x$ , d)  $(13-11x+2x^2)/(-6+11x-6x^2+x^3)$ , e)  $3(-1+x^2)/(1-x-x^3+x^4)$ , f)  $-x \operatorname{tg} \sqrt{1+x^2}/\sqrt{1+x^2}$ , g)  $(4 \sin x-3 \sin 2x)/(6 \cos^3 x)$ , h)  $1/(1+x^2)$ , i)  $3\sqrt{x^3} \ln x/x$ , j)  $-|\sin x|/\sin x$ , k)  $-1/(2\sqrt{\cot g x} \sin^2 x) - 1/(2\sqrt{\operatorname{tg} x} \cos^2 x)$ , l)  $-\cos \ln x - \sin \ln x$ , m)  $-1/(2\sqrt{-x}\sqrt{1+x})$ , n)  $e^{\sqrt{1+x}}(\cos x - \sqrt{1+x} \sin x)/[2\sqrt{1+x}\sqrt{\cos x}]$ , o)  $1/(2\sqrt{1-x^2}\sqrt{1+\arcsin x})$ . **4.1.11.** Porade  $f'_-(0)$ ,  $f'_+(0)$ : a)  $-1, 1$ , b)  $0, 0$ , c)  $-1, 1$ , d)  $-1, 0$ , e)  $0, 0$  f) neexistujú, g)  $1, 1$ , h)  $-1, -1$ . **4.1.13.** a)  $y = 4x - 4$ , b)  $y = -4x/3$ , c)  $y = x/4 + 1$ , d)  $y = 3x$ , e)  $y = x$ , f)  $y = 1$ , g)  $y = 2x$ , h)  $y = e^x - 1$ , i)  $50y = 14 - 3x$ . **4.1.14.** a)  $y = (3x - 13)/4$ , b)  $y = x + 3/4$ , c)  $y = 2x(\sqrt{3} - 1)$ , resp.  $y = -2x(\sqrt{3} + 1)$ , d)  $y = 2a - 2a^2 - 2a\sqrt{a^2} - 2a - b + 3 + b + 2x(-1 + a + \sqrt{a^2} - 2a - b + 3)$ , resp.  $y = 2a - 2a^2 + 2a\sqrt{a^2} - 2a - b + 3 + b + 2x(-1 + a - \sqrt{a^2} - 2a - b + 3)$  kde  $b \leq a^2 - 2a + 3$ , e)  $y = x + 3/4$ , resp.  $y = -x + 11/4$ , f)  $y = 2 + \operatorname{tg} \varphi - \operatorname{tg}^2 \varphi/4 - x \operatorname{tg} \varphi$ , resp.  $y = 2 - \operatorname{tg} \varphi - \operatorname{tg}^2 \varphi/4 + x \operatorname{tg} \varphi$ . **4.1.15.** a)  $y = 3x - 77/36$ , b)  $y = x + 7/4$ , c)  $y = 3 + (1-x)/\sqrt{2}$ , resp.  $y = 3 - (1-x)/\sqrt{2}$ , d)  $y = x + 7/4$ . **4.1.16.** a)  $y = 1$  v bodoch  $[\pi/2 + 2k\pi; 1]$ ,  $k \in \mathbb{Z}$ , resp.  $y = -1$  v bodoch  $[-\pi/2 + 2k\pi; 1]$ ,  $k \in \mathbb{Z}$ , b)  $y = 1$  v bodoch  $[k\pi; 1]$ ,  $k \in \mathbb{Z}$ , resp.  $y = -1$  v bodoch  $[\pi/2 + k\pi; 1]$ ,  $k \in \mathbb{Z}$ , c) neexistuje, d)  $y = 2\sqrt{3}/9$  v bode  $[-1/\sqrt{3}; 2\sqrt{3}/9]$ , resp.  $y = -2\sqrt{3}/9$  v bode  $[1/\sqrt{3}; -2\sqrt{3}/9]$ , e)  $y = 1/e$  v bode  $[e; 1/e]$ , f)  $y = 1$  v bode  $[0; 1]$ , g)  $y = -1/e$  v bode  $[1/e; -1/e]$  h)  $y = e$  v bode  $[1; e]$ .

**4.2.1.** a)  $e^x(1+x)h$ , b)  $x^2 2^x(3+x \ln 2)h$ , c)  $-h/x^2$ , d)  $h/\sqrt{1-x^2}$ , e)  $2^{-\ln x/x} \ln 2(\ln x - 1)h - x^2$ ,  $x > 0$ , f)  $(2 - \ln x)h/(2\sqrt{x^3})$ ,  $x > 0$ , g)  $h/(x-1)^2$ , h)  $2h/(x^2-1)$ , i)  $-2xh e^{-x^2}$ , j)  $h(1+\ln x)$ . k)  $h/\cos^2 x$ , l)  $h/(1+x^2)$ . **4.2.2.** a)  $\Delta S \approx r\alpha dr = 10\pi \text{ cm}^2$ , b)  $\Delta S \approx r\alpha dr = 10\pi \text{ cm}^2$ , c)  $\Delta S \approx r^2 \Delta \alpha/2 = 2,5\pi \text{ cm}^2$ . **4.2.3.**  $\Delta S = 2\pi r \Delta r$ ,  $\delta S = 2\delta r$ . **4.2.4.** Presné hodnoty: a)  $0,4848096$ , b)  $0,9656887$ , c)  $-0,1053605$ , d)  $1,9956925$ , e)  $0,5704371$ , f)  $2,0305432$ , g)  $4,0422932$ , h)  $9,0553851$ , i)  $5,981424$ , j)  $0,7701709$ , k)  $1,2166529$ , l)  $2,0027745$ , m)  $2,9957323$ , n)  $3,0004341$ , o)  $0,8097835$ . **4.2.5.** a)  $y^{(3)} = 18x \cos x - x^3 \cos x + 6 \sin x - 9x^2 \sin x$ ,  $y^{(5)} = -60x \cos x + x^3 \cos x - 60 \sin x + 15x^2 \sin x$ , b)  $y^{(3)} = 6 \cos x - 9x^2 \cos x - 18x \sin x + x^3 \sin x$ ,  $y^{(5)} = -60 \cos x + 15x^2 \cos x + 60x \sin x - x^3 \sin x$ , c)  $y^{(3)} = 36x \cos 2x - 8x^3 \cos 2x + 6 \sin 2x - 36x^2 \sin 2x$ ,  $y^{(5)} = -480x \cos 2x + 32x^3 \cos 2x - 240 \sin 2x + 240x^2 \sin 2x$ , d)  $y^{(3)} = 6 \cos 2x - 36x^2 \cos 2x - 36x \sin 2x + 8x^3 \sin 2x$ ,  $y^{(5)} = -240 \cos 2x + 240x^2 \cos 2x + 480x \sin 2x - 32x^3 \sin 2x$ , e)  $y^{(3)} = 2e^x(\cos x - \sin x)$ ,  $y^{(5)} = -4e^x(\cos x + \sin x)$ , f)  $y^{(3)} = -2e^x(\cos x + \sin x)$ ,  $y^{(5)} = -4e^x(\cos x - \sin x)$ , g)  $y^{(3)} = x^2(47 + 60 \ln x)$ ,  $y^{(5)} = 274 + 120 \ln x$ , h)  $y^{(3)} = 2e^x(3 \cos x + x \cos x - x \sin x)$ ,  $y^{(5)} = -4e^x(x \cos x + 5 \sin x + x \sin x)$ . **4.2.6.** a)  $-2^{n-1} \cos(2x + n\pi/2)$ , b)  $[3 \cos(x + n\pi/2) + 3^n \cos(3x + n\pi/2)]/4$ , c)  $x \sin(x + n\pi/2) - n \cos(x + n\pi/2)$ , d)  $(n-1)!/x$ , e)  $2(-1)^n n!/(x-1)^{n+1}$ , f)  $2(-1)^{n+1} n!/(x+1)^{n+1}$ , g)  $(-1)^n n! [\ln x - (1+1/2+1/3+\dots+1/n)]/x^{n+1}$ , h)  $(-1)^n n! [(x+1)^{-n-1} + (x-1)^{-n-1}]/2$ , i)  $e^x(x+n)$ , j)  $(-1)^{n-1}(n-2)!/x^{n-1}$  pre  $n \geq 2$ , k)  $(-1)^{n+1}(n-1)!/x^n$  pre  $n \geq 2$ , l)  $(-1)^{n-1}(n-2)!/x^{n-1}$  pre  $n \geq 2$ .

**4.3.3.** Koefficienty pre  $1, -1, 2, -2$ : a)  $1, 5, 10, 10, 5$ , resp.  $1, -3, 4, -2, 1$ , resp.  $1, 9, 31, 49, 31$ , resp.  $1, -7, 19, -23, 11$ , b)  $1, 5, 8, 6, 1$ , resp.  $1, -3, 2, 2, -3$ , resp.  $1, 9, 29, 41, 21$ , resp.  $1, -7, 17, -15, 1$ , c)  $1, 3, 4, 2, 1$ , resp.  $1, -5, 10, -10, 5$ , resp.  $1, 7, 19, 23, 11$ , resp.  $1, -9, 31, -49, 31$ , d)  $1, 2, 0, 0, 2$ , resp.  $1, -6, 12, -8, 2$ , resp.  $1, 6, 12, 10, 5$ , resp.  $1, -10, 36, -54, 29$ , e)  $1, 4, 8, 10, 4$ , resp.  $1, -4, 8, -6, 0$ , resp.  $1, 8, 26, 42, 27$ , resp.  $1, -8, 26, -38, 19$ , f)  $1, 2, 2, 2, 0$ , resp.  $1, -6, 14, -14, 4$ , resp.  $1, 6, 14, 16, 7$ , resp.  $1, -10, 38, -64, 39$ , g)  $1, 3, 2, 0, 1, 2$ , resp.  $1, -7, 18, -20, 9, 0$ , resp.  $1, 8, 24, 34, 24, 9$ , resp.  $1, -12, 56, -126, 136, -55$ , h)  $1, 5, 12, 18, 15, 4$ , resp.  $1, -5, 12, -14, 7, -2$ , resp.  $1, 10, 42, 94, 112, 55$ , resp.  $1, -10, 42, -90, 96, -41$ , i)  $1, 3, 4, 4, 2, 0$ , resp.  $1, -7, 20, -28, 18, -4$ , resp.  $1, 8, 26, 44, 39, 14$ , resp.  $1, -12, 58, -140, 167, -78$ . **4.3.4.** a)  $1+2(x-1)/3 - (x-1)^2/9 + 4(x-1)^3/81$ , b)  $1+(x-1)+(x-1)^2+(x-1)^3/2$ , c)  $1/2 - (x-2)/4 + (x-2)^2/8 - (x-2)^3/16 + (x-2)^4/32$ , d)  $\ln 2 + (x-2)/2 - (x-2)^2/8 + (x-2)^3/24 - (x-2)^4/64$ , e)  $\ln 3 + (x-3)/3 - (x-3)^2/18 + (x-3)^3/81 - (x-3)^4/324$ , f)  $1-3(x-1)+6(x-1)^2-10(x-1)^3$ . **4.3.5.** a)  $1+2x+2x^2$ , b)  $1/2+x/4-x^3/48$ , c)  $-x^2/2-x^4/12-x^6/45$ , d)  $x+x^3/3+2x^5/15$ , e)  $x^2+2x^4/3$ , f)  $x^2-x^4/3$ , g)  $x^3-x^5/2$ , h)  $1-x^2+x^4/3$ , i)  $1-3x^2/2+7x^4/8$ . **4.3.6.** a)  $a_{2n} = 1 \cdot 3 \cdot 5 \cdot \dots \cdot (2n-1)x^{2n}/2^n/n!$ ,  $n \in \mathbb{N} \cup \{0\}$ , b)  $a_{2n} = x^{2n}/(2n)!$ ,  $n \in \mathbb{N} \cup \{0\}$ , c)  $a_{2n+1} = x^{2n+1}/(2n+1)!$ ,  $n \in \mathbb{N} \cup \{0\}$ , d)  $a_{2n+1} = 2x^{2n+1}/(2n+1)$ ,  $n \in \mathbb{N} \cup \{0\}$ . **4.3.8.** a)  $(n-1)/n$ , b)  $(m-1)/(n-1)$ , c)  $1/6$ , d)  $1$ , e)  $\ln a - \ln b$ , f)  $0$ , g)  $\infty$ , h)  $0$  pre  $a > 1$ ,  $\infty$  pre  $a \leq 1$ , i)  $1/e$ , j)  $1$ , k)  $a^2/b^2$ , l)  $1$ , m)  $1/3$ , n)  $-\infty$ , o)  $3/10$ , p)  $0$ , q)  $2/9$ , r)  $\infty$ , s)  $-\infty$ , t)  $0$ , u)  $1/2$ , v)  $1$ . **4.3.9.** a) nie, 1, b) nie,  $\nexists$ , c) áno,  $-1/2$ , d) áno,  $1$ , e) áno, 1. **4.3.10.** a) rastúca na  $\langle 1/2; \infty \rangle$ , klesajúca na  $(-\infty; 1/2)$ , b) rastúca na  $(-\infty; -3)$ ,  $\langle 3; \infty \rangle$ , klesajúca na  $\langle -3; 3 \rangle$ , c) rastúca na  $\langle 1; \infty \rangle$ , klesajúca na  $(-\infty; -1)$ , konštantná na  $\langle -1; 1 \rangle$ , d) rastúca na  $(-\infty; -\sqrt{3})$ ,  $\langle \sqrt{3}; \infty \rangle$ , klesajúca na  $\langle -\sqrt{3}; -1 \rangle$ ,  $\langle -1; 1 \rangle$ ,  $\langle 1; \sqrt{3} \rangle$ , e) rastúca na  $\langle 2/3; 1 \rangle$ ,  $\langle 1; 2 \rangle$ , klesajúca na  $(-\infty; 0)$ ,  $\langle 0; 2/3 \rangle$ ,  $\langle 2; \infty \rangle$ , f) rastúca na  $\langle 1; \infty \rangle$ , klesajúca na  $(-\infty; -1)$ , konštantná na  $\langle -1; 1 \rangle$ , g) rastúca na  $\langle 0; \infty \rangle$ , klesajúca na  $(-\infty; 0)$ , h) rastúca na  $\langle 1/2; \infty \rangle$ , klesajúca na  $(0; 1/2)$ , i) rastúca na  $\langle \pi/2 + k\pi; 3\pi/2 + k\pi \rangle$ ,  $k \in \mathbb{Z}$ , j) rastúca na  $\langle -3\pi/4 + 2k\pi; \pi/4 + 2k\pi \rangle$ , klesajúca na  $\langle \pi/4 + 2k\pi; 5\pi/4 + 2k\pi \rangle$ ,  $k \in \mathbb{Z}$ , k) rastúca na  $\langle 2\pi/3 + 2k\pi; \pi + 2k\pi \rangle$ ,  $\langle 4\pi/3 + 2k\pi; 2\pi + 2k\pi \rangle$ , klesajúca na  $\langle 0 + 2k\pi; 2\pi/3 + 2k\pi \rangle$ ,  $\langle \pi + 2k\pi; 4\pi/3 + 2k\pi \rangle$ ,  $k \in \mathbb{Z}$ , l) rastúca na

**R. 4.3.11.** a)  $\liminf f(4) = -32$ ,  $\limsup f(0) = 0$ , b)  $\nexists$ , c)  $\liminf f(\sqrt[5]{24}) = 5\sqrt[5]{2/27}$ , d)  $\nexists$ , e)  $\lg \min f(k) = 0$ ,  $k \in \mathbb{Z}$ , f)  $\liminf f(0) = 0$ ,  $\limsup f(2) = 4/e^2$ , g)  $\liminf f(1) = 1 + e$ , h)  $\lg \min f(0) = 1$ , i)  $\lg \min f(0) = f(6) = 0$ ,  $\lg \max f(3) = 3$ , j)  $\lg \min f(-1) = f(1) = 0$ , k)  $\lg \max f(0) = 3$ , l)  $\liminf f(-\pi/3 + k\pi) = \sqrt{3} - 4\pi/3 + 4k\pi$ ,  $\limsup f(\pi/3 + k\pi) = 4\pi/3 - \sqrt{3} + 4k\pi$ ,  $k \in \mathbb{Z}$ , m)  $\lg \min f(1) = -2$ , n)  $\lg \min f(0) = -1$ , o)  $\nexists$ , p)  $\liminf f(1/2) = 4/5$ ,  $\limsup f(1) = 1$  (lokální=1, globální=g). **4.3.12.** a)  $\lg \min f(-3\pi/4 + 2k\pi) = 1 - \sqrt{2}$ ,  $\lg \max f(\pi/4 + 2k\pi) = 1 + \sqrt{2}$ , b)  $\liminf f(2) = -57$ ,  $\limsup f(-3/2) = 115/4$ , c)  $\nexists$ , d)  $\liminf f((5 - \sqrt{13})/6) = -(587 + 143\sqrt{13})/1458$ ,  $f((5 + \sqrt{13})/6) = (143\sqrt{13} - 587)/1458$ ,  $\limsup f(1) = 0$ , e)  $\lg \min f(0) = -1$ , f)  $\lg \min f(-4) = 1$ ,  $\liminf f(1) = 4$ ,  $\limsup f(0) = 5$ , g)  $\lg \min f(1/8) = \ln 16 - \ln 17$ , h)  $\lg \min f(e^{3/2}) = -1/4$ , i)  $\lg \max f(1) = \pi/4 - \ln 2/2$ , j)  $\lg \min f(1/e) = 1/\sqrt[3]{e}$ , k)  $\lg \min f(1) = 0$ ,  $\lg \max f(e) = e^2$ , l)  $\lg \min f(2) = 2 - \ln 4$ ,  $\lg \max f(1) = 1$  (lokální=1, globální=g). **4.3.13.** a)  $x_1 = x_2 = a/2$ , b)  $x_1 = x_2 = a/2$ , c)  $x_1 = x_2 = a/2$ , d)  $x_1 = x_2 = a/2$ . **4.3.14.**  $x = 1$ . **4.3.15.** Strany  $a/2$ ,  $h/2$ . **4.3.16.** Rovnoramenný trojúhelník s rameny  $(s - a)/2$ . **4.3.17.** Štvorec so stranou  $\sqrt{P}$ . **4.3.18.** Štvorec so stranou  $s/4$ . **4.3.19.** Strany  $a\sqrt{2}$ ,  $b\sqrt{2}$ . **4.3.20.** a) polomer podstavy  $x = \sqrt{2}r/\sqrt{3}$ , výška  $v = 2r/\sqrt{3}$ , b) polomer podstavy  $x = r\sqrt{(5 + \sqrt{5})}/10 \approx 0,850651r$ , výška  $v = r\sqrt{2(5 - \sqrt{5})}/5 \approx 1,051462r$ , c) polomer podstavy  $x = 2r/\sqrt{2}$ , výška  $v = \sqrt{2}r$ . **4.3.21.** a) polomer podstavy  $x = 4\sqrt{2}r/3$ , výška  $v = 4r/3$ , b) polomer podstavy  $x = 4\sqrt{2}r/3$ , výška  $v = 4r/3$ , c) polomer podstavy  $x = \sqrt{95 + 7\sqrt{17}}r/\sqrt{128} \approx 0,983702r$ , výška  $v = (23 - \sqrt{17})r/16 \approx 1,179806r$ . **4.3.22.** Polomer podstavy  $x = r/2$ , výška  $v = h/2$ . **4.3.23.** a)  $[1; 2]$ , b)  $[1/10; 23/10]$ , c)  $[2/5; 11/5]$ , d)  $[13/10; 19/10]$ . **4.3.24.** a)  $[(3 - \sqrt{3})/2; (6 - \sqrt{3})/2]$ , b)  $[1; 2]$ , c)  $[1 - \sqrt{30}/4; 7/4]$ , d)  $[-1/2; 5/4]$ . **4.3.25.** Dĺžka  $20\sqrt[3]{5}$  m, šírka  $5\sqrt[3]{5}$  m, výška  $2\sqrt[3]{5}$  m. **4.3.26.** Na kruh treba  $10\pi/(4 + \pi) \approx 4,399010$  m. **4.3.27.** 6 cm. **4.3.28.** Strany obdĺžnika  $4s/(8 + 3\pi)$ ,  $(4 + \pi)s/(8 + 3\pi)$ , polomer kruhu  $2s/(8 + 3\pi)$ . **4.3.29.**  $\sqrt{52 + 36\sqrt{12} + 24\sqrt{18}}$  m. **4.3.30.** a) nemá inflexné body, konvexná na  $R$ , b) inflexný bod 1, konvexná na  $(1; \infty)$ , konkávna na  $(-\infty; 1)$ , c) inflexné body  $\pm\sqrt{2}$ , konvexná na  $(-\sqrt{2}; \sqrt{2})$ , konkávna na  $(-\infty; -\sqrt{2})$ ,  $(\sqrt{2}; \infty)$ , d) inflexný bod  $\sqrt{3}/9$ , konvexná na  $(\sqrt{3}/9; \infty)$ , konkávna na  $(0; \sqrt{3}/9)$ , e) inflexný bod 0, konvexná na  $(-\infty; 0)$ , konkávna na  $(0; \infty)$ , f) nemá inflexné body, konvexná na  $(0; \infty)$ , g) nemá inflexné body, konkávna na  $(-2; \infty)$ , h) inflexné body  $\pi/2 + k\pi$ , konvexná na  $(-\pi/2 + 2k\pi; \pi/2 + 2k\pi)$ , konkávna na  $(\pi/2 + 2k\pi; 3\pi/2 + 2k\pi)$ ,  $k \in \mathbb{Z}$ , i) nemá inflexné body, konvexná na  $R$ , j) nemá inflexné body, konvexná na  $(0; \infty)$ , konkávna na  $(-\infty; 0)$ , k) nemá inflexné body, konvexná na  $(0; \infty)$ , l) inflexné body  $k\pi$ , konvexná na  $(2k\pi; \pi + 2k\pi)$ , konkávna na  $(\pi + 2k\pi; 2\pi + 2k\pi)$ ,  $k \in \mathbb{Z}$ , m) nemá inflexné body, konvexná na  $(-\infty; 0)$ ,  $(0; \infty)$ , n) inflexný bod 0, konvexná na  $(-\infty; -1)$ ,  $(0; 1)$ , konkávna na  $(-1; 0)$ ,  $(1; \infty)$ , o) inflexné body 0,  $\pm\sqrt{3}$ , konvexná na  $(-\infty; -\sqrt{3})$ ,  $(0; \sqrt{3})$ , konkávna na  $(-\sqrt{3}; 0)$ ,  $(\sqrt{3}; \infty)$ , p) inflexné body 0,  $\pm 9$ , konvexná na  $(-\infty; -9)$ ,  $(0; 9)$ , konkávna na  $(-9; 0)$  a na  $(9; \infty)$ . **4.3.31.** Pre všetky  $b$  okrem  $b \in (-e/6; 0)$ . **4.3.32.** a)  $x = 1$ ,  $y = 2$ , b)  $x = \pm 1$ ,  $y = 1$ , c)  $x = \pm 2$ ,  $y = 2$ , d)  $y = 1$ , e)  $y = 3x$ , f)  $x = \pm 1$ ,  $y = x$ , g)  $x = 0$ ,  $y = 2x$ , h)  $y = \pm 1/2$ , i)  $y = 1$ , c)  $x = \pm 1$ , j)  $y = \pm \pi x/2 - 1$ , k)  $x = 0$ ,  $y = 1$ , l)  $y = x + 1/e$ , m)  $y = 12$ , n)  $x = 0$ ,  $y = 13$ , o)  $x = 0$ ,  $yx = 13$ , p)  $x = \pm 1$ ,  $y = 0$ . **4.3.36.** a)  $y = 2 - x^2$ ,  $x \in (2; 5)$ , b)  $y = \sqrt{4x^2/9 - 4}$ ,  $x \in (3; \infty)$ , c)  $y = \sqrt{9 - 9x^2/16}$ ,  $x \in (-4; 4)$ , d)  $y = 9 - 9x/4$ ,  $x \in (0; 4)$ . **4.3.37.** a)  $t \in (0; \infty)$ ,  $y = 2x + 1$ ,  $x \in (-1; \infty)$ , b)  $t \in R$ ,  $y = 2x + 1$ ,  $x \in R$ , c)  $t \in (0; \infty)$ ,  $y = 2 + 3\sqrt{x - 1}/2$ ,  $x \in (0; \infty)$ , resp.  $t \in (-\infty; 0)$ ,  $y = 2 - 3\sqrt{x - 1}/2$ ,  $x \in (0; \infty)$ , d)  $t \in (-3/2 + 6k; 3/2 + 6k)$ ,  $y = \sqrt{1 - x^2}/4$ ,  $x \in (-2; 2)$ , resp.  $t \in (3/2 + 6k; 9/2 + 6k)$ ,  $y = -\sqrt{1 - x^2}/4$ ,  $x \in (-2; 2)$ ,  $k \in \mathbb{Z}$ , e)  $t \in (0 + 2k\pi; \pi + 2k\pi)$ ,  $y = (1 - \sqrt[3]{x^2})(3/2)$ ,  $x \in (-1; 1)$ , resp.  $t \in (\pi + 2k\pi; 2\pi + 2k\pi)$ ,  $y = -(1 - \sqrt[3]{x^2})(3/2)$ ,  $x \in (-1; 1)$ ,  $k \in \mathbb{Z}$ , f)  $t \in R$ ,  $y = 4(x - 2)^2/9 + 1$ ,  $x \in R$ . **4.3.38.** a) elipsa  $x^2 + y^2/a^2 = 1$ ,  $x \in (-1; 1)$ , t. j.  $y = \pm a\sqrt{1 - x^2}$ ,  $x \in (-1; 1)$ , b) hviezdica  $\sqrt[3]{x^2} + \sqrt[3]{y^2/a^2} = 1$ ,  $x \in (-1; 1)$ , t. j.  $y = \pm a(1 - \sqrt[3]{x^2})^{3/2}$ ,  $x \in (-1; 1)$ , c) úsečka  $y = a - ax$ ,  $x \in (0; 1)$ , e) hviezdica  $\sqrt[3]{x^2} + \sqrt[3]{y^2/a^2} = 1$ ,  $x \in (-1; 1)$ , t. j.  $y = \pm a(1 - \sqrt[3]{x^2})^{3/2}$ ,  $x \in (-1; 1)$ . **4.3.39.** a)  $x = 4t^3/3$ ,  $y' = 1/(4t)$ ,  $t \in R - \{0\}$ , b)  $x = (1 - t)/(1 + t)$ ,  $y' = -1$ ,  $t \in R - \{-1\}$ , c)  $x = 2 \sin t/(1 + 2 \cos t)$ ,  $y' = -2 \sin t/(2 + \cos t)$ ,  $t \in (-\pi/3; \pi/3)$ , d)  $x = \arcsin(1 + t^2)^{-1}$ ,  $y' = -1$ ,  $t \in R$ , e)  $x = t - \cos t$ ,  $y' = \cos t/(1 + \sin t)$ ,  $t \in (0; 2\pi) - \{3\pi/2\}$ , f)  $x = 4 \cos^3 t$ ,  $y' = -\operatorname{tg} t$ ,  $t \in (0; \pi) - \{\pi/2\}$ , g)  $x = e^{2t} \cos^2 t$ ,  $y' = (1 - \cos 2t + \sin 2t)/(1 + \cos 2t - \sin 2t)$ ,  $t \in (0; \pi/2) - \{\pi/4\}$ , h)  $x = 2 \cosh t$ ,  $y' = 2 \operatorname{ctgh} t$ ,  $t \in (0; \infty)$ . **4.3.40.** a)  $x = 4t + t^2$ ,  $y' = (1 + 3t^2)/(2 + t)$ ,  $y'' = (-1 + 12t + 3t^2)/4(2 + t)^3$ ,  $y''' = 3(9 - 4t - t^2)/8(2 + t)^5$ ,  $t \in (0; \infty)$ , b)  $x = \ln t$ ,  $y' = 2t \cos 2t$ ,  $y'' = t(2 \cos 2t - 4t \sin 2t)$ ,  $y''' = 2t(\cos 2t - 4t^2 \cos 2t - 6t \sin 2t)$ ,  $t \in (0; \infty)$ , c)  $x = 4 \sin t$ ,  $y' = -\operatorname{tg} t$ ,  $y'' = -1/(4 \cos^3 t)$ ,  $y''' = -3 \sin t/(16 \cos^5 t)$ ,  $t \in (-\pi/2; \pi/2)$ , d)  $x = 2 \cos^3 t$ ,  $y' = -\operatorname{tg} t$ ,  $y'' = 1/(6 \sin t \cos^4 t)$ ,  $y''' = (5 \cos 2t - 3)/(72 \sin^3 t \cos^7 t)$ ,  $t \in (0; \pi) - \{\pi/2\}$ , e)  $x = e^{-t} \cos t$ ,  $y' = (\sin t - \cos t)/(\sin t + \cos t)$ ,  $y'' = -2e^t/(\sin t + \cos t)^3$ ,  $y''' = -4e^{2t}(\cos t - 2 \sin t)/(\sin t + \cos t)^5$ ,  $t \in R - \{3\pi/4 + k\pi, k \in \mathbb{Z}\}$ , f)  $x = e^t$ ,  $y' = e^{-t}/\sqrt{1 - t^2}$ ,  $y'' = e^{-2t}(-1 + t + t^2)/\sqrt{(1 - t^2)^3}$ ,  $y''' = e^{-3t}(3 - 3t - 2t^2 + 3t^3 + 2t^4)/\sqrt{(1 - t^2)^5}$ ,  $t \in (-1; 1)$ .



# Register

$\exists$ , 8

$\forall$ , 8

$\neq$ , 8

a, 6

abeceda

grécka, 5

Abel, N. H., 63

alebo, 6

d'Alembert, J. B., 59

amplitúda, 74

aproximácia funkcie

lokálna, 130

pomocou diferenciálu, 132

argument

kosínusu hyperbolického, 90

kotangensu hyperbolického, 91

sínusu hyperbolického, 90

tangensu hyperbolického, 91

arkuskosínus, 88

arkuskotangens, 88

arkussínus, 88

arkustangens, 88

asymptota

grafu funkcie

bez smernice, 100

horizontálna, 101

so smernicou, 101

vertikálna, 100

axióma, 10

axiómy

Hausdorffove, 32

axiómy reálnych čísel, 23

o najmenšom hornom ohraničení, 25

o suprême, 25

sčítania a násobenia, 24

bijekcia, 17, 72

bod

hraničný množiny, 34

hromadný množiny, 34, 35

inflexný funkcie, 79

izolovaný množiny, 35

jednotkový, 27

nespojivosti funkcie, 108

asymptotickej, 109

neodstrániteľnej 1. druhu, 109

neodstrániteľnej 2. druhu, 109

odstrániteľnej, 109

nulový, 27

funkcie, 80

spojivosti funkcie, 108

stacionárny funkcie, 151

vnútorný množiny, 34

vonkajší množiny, 34

celá časť čísla, 28

dolná, 28

horná, 28

chyba veličiny

absolútna, 133

pomerná, 133

relatívna, 133

definícia, 10

delenie

čísel, 24

derivácia funkcie

druhého rádu, 134

logaritmická, 126

na množine, 122

$n$ -tého rádu, 134

- multého rádu, 134
- prvého rádu, 134
- v bode
  - jednostranná, 122
  - konečná, 120
  - nevlastná, 120
  - obojsstranná, 122
  - sprava, 121
  - vlastná, 120
  - zľava, 121
- vyššieho rádu, 134
- diferenciál funkcie, 130
  - na množine, 131
  - $n$ -tého rádu, 135
  - v bode, 130
- disjunkcia výrokov, 6
- doplňok množiny, 15
- dotyčnica ku grafu funkcie, 121
  - bez smernice, 121
  - so smernicou, 121
- dôkaz, 10
  - existenčný, 12
  - konštruktívny, 12
  - matematická indukcia, 11
  - nepriamy, 11
    - obrátená implikácia, 11
    - sporom, 11
  - priamy, 10
  - sporom, 8
- dĺžka
  - intervalu, 27
  - vektora, 37
- ekvivalencia
  - množín, 20
  - výrokov, 6
- eliminácia parametra, 73
- exponenciála, 85
- extrémy
  - funkcie
    - absolútne, 76, 152
    - absolútne ostré, 76
    - globálne, 76, 152
    - globálne ostré, 76
    - lokálne, 76, 150
    - lokálne ostré, 76
  - funkcie na množine, 76
    - ostré, 76
- faktoriál čísla, 13
- forma, 6
  - výroková, 6
- funkcia, 17, 71
  - argument
    - kosínusu hyperbolického, 90
    - kotangensu hyperbolického, 91
    - sínusu hyperbolického, 90
    - tangensu hyperbolického, 91
  - arkuskosínus, 88
  - arkuskotangens, 88
  - arkussínus, 88
  - arkustangens, 88
  - bijektívna, 72
  - cyklometrická, 88
  - definovaná
    - explicitne, 72
    - graficky, 74
    - implicitne, 73
    - parametricky, 72
    - tabuľkou, 73
  - diferencovateľná, 130
    - na množine, 131
    - rádu  $n$ , 135
    - v bode, 130
  - Dirichletova, 72
  - elementárna, 83
  - exponenciálna, 85
  - goniometrická, 86
  - hyperbolická, 89
  - hyperbolometrická, 90
  - injektívna, 72
  - inverzná, 82
  - jednojednoznačná, 72
  - klesajúca, 76
    - na množine, 76, 148
    - v bode, 77
  - konkávna
    - na intervale, 78, 154
  - konkávna rýdzo
    - na intervale, 79
    - v bode, 79
  - konvexná

- na intervale, 78, 154
  - konvexná rýdzo
    - na intervale, 79
    - v bode, 79
  - konštantná, 76, 84
    - na množine, 76
  - kosínus, 86
  - kosínus hyperbolický, 89
  - kotangens, 86
  - kotangens hyperbolický, 89
  - kvadratická, 84
  - lineárna, 75, 84
  - logaritmická, 85
  - mocninná, 85
  - monotónna, 76
    - na množine, 148
    - ostro, 76
    - rýdzo, 76
  - na množinu, 72
  - neklesajúca, 76
    - na množine, 76, 148
    - v bode, 77
  - nehoričená
    - na množine, 75
    - zdola, 75
    - zhora, 75
  - nepárna, 78
  - nerastúca, 76
    - na množine, 76, 148
    - v bode, 77
  - nespojité v bode, 108
    - asymptoticky, 109
  - ohoričená
    - na množine, 75
    - zdola, 75
    - zhora, 75
  - periodická, 78
  - prostá, 72
  - prostá na množinu, 72
  - párna, 78
  - raciálna
    - celistvá, 84
    - lomená, 84
  - rastúca, 76
    - na množine, 76, 148
    - v bode, 77
  - reálnej premennej, 71
  - spojitá, 111
  - spojitá na množine, 111
    - po častiach, 111
  - spojitá v bode, 108
    - sprava, 111
    - v zmysle Heineho, 108
    - vzhľadom na množinu, 110
    - zľava, 111
  - surjektívna, 72
  - sínus, 86
  - sínus hyperbolický, 89
  - tangens, 86
  - tangens hyperbolický, 89
  - trigonometrická, 86
  - vnútorná, 81
  - vonkajšia, 81
  - zložená, 81
- graf funkcie, 71
- hodnota
- absolútna, 29
    - funkcie, 81
  - funkčná, 17, 71
  - hromadná postupnosti, 40
    - nevlastná, 40
    - vlastná, 40
  - maximálna funkcie, 76
  - minimálna funkcie, 76
  - najmenšia funkcie, 76
  - najväčšia funkcie, 76
  - zobrazenia, 17
- hodnota výroku
- logická, 6
  - pravdivostná, 6
- hranica
- množiny, 34
- hyperbola, 84
- identita, 19
- implikácia výrokov, 6
- index
- násobiaci súčinu, 13
  - sčítací sumačný, 12
- infimum

- funkcie, 75
  - na množine, 75
  - množiny, 25
- inflexia funkcie v bode, 79
- injekcia, 17, 72
- interval, 26
  - degenerovaný, 27
  - nedegenerovaný, 27
  - neohraničený, 27
  - ohraničený, 26
  - otvorený, 27
  - periodicity, 78
  - polootvorený, 26
  - polouzavretý, 26
  - uzavretý, 26
- jednotka
  - imaginárna, 23
- koeficienty
  - polynómu, 84
- komplement množiny, 15
- kompozícia
  - zobrazení, 18
- konjunkcia výrokov, 6
- kontraindikácia, 7
- kontrapríklad, 12
- konštanta, 5
- koreň
  - funkcie, 80
- kosínus, 86
- kosínus hyperbolický, 89
- kosínusoida, 86
- kotangens, 86
- kotangens hyperbolický, 89
- kotangenta, 86
- kritérium
  - konvergenzie radov
    - Abelovo, 63
    - d'Alembertovo limitné, 59
    - d'Alembertovo podielové, 59, 61
    - Cauchyho limitné, 60
    - Cauchyho odmocninové, 59
    - Dirichletovo, 63
    - Leibnizovo, 62
    - porovnávacie, 57
    - Raabeho limitné, 61
- krivka
  - exponenciálna, 85
  - logaritmická, 85
- kvantifikátor, 8
  - existenčný, 8
  - všeobecný, 8
- lema, 10
- limes inferior
  - postupnosti, 41
- limes superior
  - postupnosti, 41
- limita
  - funkcie, 94
    - ekvivalentná definícia, 95
    - jednostranná, 99
    - nevlastná, 94
    - obojustranná, 99
    - sprava, 99
    - v nevlastnom bode, 94
    - v zmysle Heineho, 94
    - vlastná, 94
    - vo vlastnom bode, 94
    - vzhľadom na množinu, 99
    - zľava, 99
  - postupnosti, 41
    - dolná, 41
    - horná, 41
    - nevlastná, 41
    - vlastná, 41
- logaritmus, 86
  - dekadický, 86
  - prírodný, 86
- logika, 5
- lomená časť čísla, 28
- Maclaurin, C., 145
- Maclaurinov polynóm, 145
- matematická indukcia, 11
- maximum
  - funkcie, 76
    - absolútne, 76
    - globálne, 76
    - lokálne, 76, 166, 169
    - lokálne ostré, 76

- na množine, 76
- funkcie na množine
  - ostré, 76
- množiny, 25
- metrika
  - euklidovská, 38
- metóda
  - bisekcie, 29, 113
  - deduktívna, 7
  - delenia, 113
  - tabuľková, 7
- minimum
  - funkcie, 76
    - absolútne, 76
    - globálne, 76
    - lokálne, 76, 166, 169
    - lokálne ostré, 76
    - na množine, 76
  - funkcie na množine
    - ostré, 76
  - množiny, 25
- množina
  - celých čísel, 25
  - doplnková, 15
  - hodnôt postupnosti, 20
  - hromadných hodnôt postupnosti, 41
  - husto usporiadaná, 27
  - iracionálnych čísel, 25
  - izolovaná, 35
  - komplementárna, 15
  - komplexných čísel, 33
  - konečná, 14
  - nekonečne spočítateľná, 20
  - nekonečná, 14
  - neohraničená, 24
  - neohraničená zdola, 24
  - neohraničená zhora, 24
  - nespočítateľná, 20
  - ohraničená, 24
    - zhora, 24
  - otvorená, 35
  - potenčná, 14
  - prirodených čísel, 25
  - prázdna, 14
  - racionálnych čísel, 25
  - reálnych čísel, 23
  - rozšírená, 26
  - spočítateľná, 20
  - usporiadaná, 24
  - uzavretá, 35
- množiny
  - disjunktné, 15
  - doplnkové, 15
  - ekvivalentné, 20
  - komplementárne, 15
  - totožné, 14
- mocnina
  - množiny, 32
  - čísla
    - $n$ -tá,  $n \in N$ , 30
    - $r$ -tá,  $r \in R$ , 31
    - $s$ -tá,  $s \in Q$ , 31
- mohutnosť
  - množín, 20
- monotónnosť
  - funkcie, 76
  - na množine, 76
- negácia
  - implikácie, 8
- negácia výroku, 6
- nekonečno, 26
- nepravda, 6
- nerovnosť
  - Cauchyho, 37
  - trojuholníková, 29, 38
  - čísel, 24
- norma
  - euklidovská, 37
- normála ku grafu funkcie, 121
- násobenie
  - čísel, 23
- násobok
  - radu číslom, 56
- obor
  - definičný funkcie, 71
    - maximálny, 72
    - prirodený, 72
  - definičný zobrazenia, 17
  - hodnôt funkcie, 71
  - hodnôt zobrazenia, 17

- kvantifikácie, 8
- obraz
  - množiny v zobrazení, 17
  - zobrazenia, 17
- odmocnina čísla
  - $n$ -tá, 31
- odčítanie
  - čísel, 24
- ohraničenie
  - množiny
    - dolné, 24
    - horné, 24
    - najväčšie dolné, 25
    - najväčšie horné, 25
- okolie
  - bodú, 32
    - pravé, 33
    - pravé prstencové, 33
    - ľavé, 33
    - ľavé prstencové, 33
  - bodú  $-\infty$ , 33
  - bodú  $\infty$ , 33
  - jednostranné, 33
  - čísla, 33
    - prstencové, 33
- o.k.p., 43, 57
- okrem konečného počtu členov, 43, 57
- operácia
  - binárna, 23
  - logická, 6
  - $n$ -nárna, 23
  - unárna, 23
- os, 71
  - polárna, 74
  - reálna, 27
  - súradnicová, 71
    - polárna, 74
    - $x$ -ová, 71
    - $y$ -ová, 71
  - $x$ -ová, 71
  - $y$ -ová, 71
  - číselná, 27
- parabola, 84
- parameter, 72
- parametrizácia
  - funkcie, 72
- perióda funkcie, 78
  - primitívna, 78
  - základná, 78
- podiel
  - funkcií, 81
  - postupností, 40
  - čísel, 24
- podmienka
  - Cauchy–Bolzanova
    - konverencie radu, 55
    - kovergencie postupnosti, 42
  - existencie lokálneho extrému funkcie
    - nutná, 150
    - postačujúca, 151
  - konverencie radu
    - nutná, 55
  - nutná, 6
  - postačujúca, 6
- podmnožina, 14
- podpostupnosť, 39
- poldotyčnica ku grafu funkcie
  - pravá, 122
  - ľavá, 122
- polomer
  - okolía, 33
- polynóm, 84
  - Maclaurinov, 145
  - Taylorov, 145
- postupnosť, 20
  - divergentná, 41
    - do  $\pm\infty$ , 41
  - geometrická, 46
  - klesajúca, 39
  - konvergentná, 41
  - konverguje, 41
  - konštantná, 39
  - monotónna, 39
    - rýdzo, 39
  - neklesajúca, 39
  - neohraničená, 39
    - zdola, 39
    - zhora, 39
  - nerastúca, 39
  - ohraničená, 39
    - zdola, 39

- zhora, 39
- oscilujúca, 41
- rastúca, 39
- reálna, 39
- reálnych čísel, 39
- stacionárna, 39
- vybraná, 39
- zadaná explicitne, 39
- zadaná rekurentne, 39
- zadaná všeobecným vzorcom, 39
- čiasočných súčtov radu, 53
- poučka, 10
- počiatok
  - súradnicovej sústavy, 71
  - súradnicového systému, 71, 74
- pravda, 6
- pravidlo, 10
  - l'Hospitalovo, 140
  - odlúčenia, 7
    - modus ponens, 7
    - modus tollens, 7
  - substitúcie, 7
- premenná, 5
  - nezávislá, 17, 71
  - závislá, 17, 71
- prerovnanie
  - radu, 64
- prienik množín, 15
- priestor
  - euklidovský, 36
- princíp
  - Cantorov, 28
  - Cauchy–Bolzanov
    - konvergenie radu, 55
    - kovergenie postupnosti, 42
  - súvislosti, 27
- produkt, 13
- prvok
  - jednotkový, 24
  - maximálny, 25
  - minimálny, 25
  - množiny, 14
  - najmenší, 25
  - najväčší, 25
  - nulový, 24
- pól súradnicového systému, 74
- Raabe, W., 61
- rad
  - alternujúci, 62
  - anharmonický, 63
  - divergentný, 53
    - do  $\pm\infty$ , 53
  - geometrický, 54
  - harmonický, 54
  - konvergentný, 53
    - absolútne, 61
    - neabsolútne, 61
    - relatívne, 61
  - nekonečný číselný, 52
  - oscilujúci, 53
  - prerovnaný, 64
  - Riemannov, 57
  - s nezápornými členmi, 57
  - so striedavými znamienkami, 62
  - zadaný explicitne, 52
  - zadaný rekurentne, 52
  - zadaný všeobecným vzorcom, 52
  - číselný, 52
- radián, 86
- relácia
  - binárna, 16
  - ekvivalencie, 16
  - usporiadanie, 24
- reštrikcia
  - funkcie, 81
- Rolle, M., 137
- rovnosť
  - funkcií, 18, 80
    - asymptotická, 100
    - na množine, 18
  - množín, 14
  - postupností, 39
  - usporiadaných dvojíc, 15
  - zobrazení, 18
    - na množine, 18
  - čísel, 23
- rozdiel
  - funkcií, 81
  - množín, 15
  - postupností, 40
  - radov, 56
  - symetrický množín, 15

- čísel, 24
- rádusvektor, 74
- signum čísla, 30
- skladanie funkcií, 81
- skok funkcie, 109
- smernica
  - priamky, 75, 121
- spojitosť
  - funkcie
    - jednostranná, 111
- sprievodič bodu, 74
- stred
  - Taylorovho polynómu, 145
- stupeň
  - polynómu, 84
  - uhlový, 86
- substitúcia, 81, 98
- suma, 12
- suprémum
  - funkcie, 75
    - na množine, 75
  - množiny, 25
- surjekcia, 17, 72
- system
  - množín, 14
  - polárnych súradníc, 74
  - súradnicový, 71
    - karteziánsky, 71
    - polárny, 74
    - pravouhlý, 71
- sínus, 86
- sínus hyperbolický, 89
- sínusoida, 86
- súradnica, 71
  - $x$ -ová, 71
  - $y$ -ová, 71
- súčet
  - funkcií, 81
  - množín, 15, 32
  - postupností, 40
  - radov, 56
  - radu, 53
    - čiasočný, 53
  - čísel, 23
- súčin
  - funkcií, 81
  - karteziánsky množín, 15
  - množín, 32
  - postupností, 40
  - skalárny, 37
  - čísel, 24
- sčítanie
  - čísel, 23
- tabuľka
  - pravdivostných hodnôt, 7
  - zadania funkcie, 73
- tangens, 86
- tangens hyperbolický, 89
- tangenta, 86
- tautológia, 7
- Taylor, B., 145
- Taylorov polynóm, 145
- Taylorov vzorec, 145
- tvrdenie, 10
- uhol
  - orientovaný, 86
  - polárny bodu, 74
- usporiadanie
  - funkcií, 80
  - čísel menší, 24
  - čísel väčší, 24
- usporiadaná
  - dvojica, 15
  - $n$ -tica, 15
- uzáver množiny, 35
- vektor, 37
  - jednotkový, 37
  - normovaný, 37
  - $n$ -rozmerný, 37
- veta, 10
  - Bolzano–Weierstrasseho, 44
  - Cauchyho, 139
  - Cauchyho o nulovom bode, 113
  - Lagrangeova, 137
  - matematická, 5
  - o derivácii inverznej funkcie, 124
  - o derivácii zloženej funkcie, 125
  - o existencii a jednoznačnosti diferenciálu, 131



- o limite zloženej funkcie, 98
- o logaritmickej derivácii, 126
- o lokálnej ohraničenosti spojitej funkcie, 111
- o medzihodnote, 115
- o najlepšej lokálnej aproximácii funkcie polynómom stupňa  $n$ , 146
- o najlepšej lokálnej lineárnej aproximácii funkcie, 132
- o prírastku funkcie, 138
- o spojitosti inverznej funkcie, 117
- o spojitosti zloženej funkcie, 110
- o strednej hodnote, 137
  - Cauchyho, 139
  - Lagrangeova, 137
  - Rolleho, 137
- o zovretí, 45, 96, 110
- Riemannova o prerovnaní radu, 65
- Rolleho, 137
- Weierstrasseho, 112
- vlastnosť
  - Archimedova, 28
- vnútro
  - množiny, 34
- vonkajšok
  - množiny, 34
- vzdialenosť
  - vektorov, 38
- vzor
  - zobrazenia, 17
- vzorec
  - Leibnizov, 135
  - Moivreov, 90
  - súčtový
    - pre cyklometrické funkcie, 88
    - pre  $\sin$  a  $\cos$ , 87
    - pre  $\sinh$  a  $\cosh$ , 90
    - pre  $\operatorname{tg}$  a  $\operatorname{cotg}$ , 87
    - pre  $\operatorname{tgh}$  a  $\operatorname{cotgh}$ , 90
  - Taylorov, 145
- výraz, 5
  - jednoduchý, 5
  - neurčitý, 105
  - zložený, 5
- výrok, 5
  - kvantifikovaný, 8
  - nepravdivý, 5, 6
  - pravdivý, 5, 6
  - zložený, 6
- zjednotenie množín, 15
- zlomok, 24
- zloženie
  - zobrazení, 18
- zložka
  - vnútorná
    - zloženej funkcie, 81
    - zloženého zobrazenia, 18
  - vonkajšia
    - zloženej funkcie, 81
    - zloženého zobrazenia, 18
- zobrazenie
  - bijektívne, 17
  - do množiny, 17
  - identické, 19
  - injektívne, 17
  - inverzné, 19
  - jednojednoznačné, 17
  - množín, 17
  - na množinu, 17
  - prosté, 17
  - surjektívne, 17
  - zložené, 18
- zvyšok
  - Cauchyho, 146
  - Lagrangeov, 146
  - radu, 53
  - Taylorovho vzorca, 145
    - Cauchyho tvar, 146
    - Lagrangeov tvar, 146
- zákon
  - asociatívny, 8, 24
  - distributívny, 8, 24
  - dvojitej negácie, 7
  - hypotetického sylogizmu, 8
  - komutatívny, 8, 24
  - sporu, 7
  - transpozície, 8
  - vylúčenia tretieho, 7
- zákony
  - de Morganove, 8, 16
- zúženie

funkcie, 81

člen

postupnosti, 20, 39

explicitný tvar, 39

všeobecný tvar, 39

radu, 52

číslo, 23

celé, 25

Eulerovo, 47

inverzné, 24

iracionálne, 25

jednotka, 24

kladné, 24

Ludolfovo, 86

nekladné, 24

nezáporné, 24

nula, 24

obrátene, 24

opačné, 24

prirodzené, 25

racionálne, 25

reálne, 23

záporné, 24

štruktúra

topologická, 32

# Literatúra

- [1] Bartsch H. J., *Matematické vzorce*, 3. revidované vydání, Praha, Mladá fronta 2000.
- [2] Berman G. N., *Zbierka úloh z matematickej analýzy*, Bratislava, ŠNTL 1955.
- [3] Brabec J., Martan F., Rozenský Z., *Matematická analýza I*, Praha, SNTL ALFA 1985.
- [4] Под редакцией Демидовича Б. П., *Задачи и упражнения по математическому анализу для вузов*, издание пятое, Москва, НАУКА 1966.
- [5] Демидович Б. П., *Сборник задач и упражнений по математическому анализу*, издание девятое, Москва, Издательство НАУКА 1977.
- [6] Eliaš J., Horváth J., Kajan J., *Zbierka úloh z vyššej matematiky, 1., 2., 3. a 4. časť*, Bratislava, ALFA 1970–72.
- [7] Göhler W., Ralle B., *Lexikón vyššej matematiky, Vzorce*, Bratislava, ALFA 1992.
- [8] Hlaváček A., *Sbírka řešených příkladů z vyšší matematiky, I. a II. díl*, 2. změněné vydání, Praha, SPN 1971.
- [9] Holenda J., *Řady*, Matematika pro VŠT, sešit XII, Praha, SNTL 1990.
- [10] Horský Z., *Diferenciální počet*, Matematika pro VŠT, sešit V, Praha, SNTL 1981.
- [11] Hruša K., Kraemer E., Sedláček J., Vyšín J., Zelinka R., *Přehled elementární matematiky*, Praha, SNTL 1957.
- [12] Jirásek F., Kriegelstein E., Tichý Z., *Sbírka řešených příkladů z matematiky*, Praha, SNTL ALFA 1982.
- [13] Kluvánek I., *Príprava na diferenciálny a integrálny počet, I. časť*, skriptá VŠDS, Žilina 1991.
- [14] Kluvánek I., Mišík L., Švec M., *Matematika pre štúdium technických vied, I. a II. diel*, Bratislava, SVTL 1965.
- [15] Kolář J., Štěpánková O., Chytil M., *Logika, algebry a grafy*, Praha, SNTL 1989.
- [16] Kolektiv autorů za redakce Nečase J., *Aplikovaná matematika I (A—L) a II (M—Ž)*, odborové encyklopedie, Praha, SNTL 1978.

- [17] Míka S., *Numerické metody algebry*, Matematika pro VŠT, sešit IV, Praha, SNTL 1985.
- [18] Mikola M., *Algebra*, 2. vydanie, skriptá ŽU, Žilina 1998.
- [19] Nekvinda M., Šrubař J., Vild J., *Úvod do numerické matematiky*, Praha, SNTL 1976.
- [20] Prágerová A., *Cvičení z matematiky*, Praha, SNTL ALFA 1987.
- [21] Příklad P., *Numerické metody matematické analýzy*, Matematika pro VŠT, sešit XXIV, Praha, SNTL 1985.
- [22] Šilov G. J., *Matematická analýza*, Bratislava, ALFA 1974.
- [23] Švec M., Šalát T., Neubrunn T., *Matematická analýza funkcií reálnej premennej*, Bratislava, ALFA SNTL 1987.
- [24] Výborný R., *Matematická indukce*, Škola mladých matematiků, Praha, Mladá fronta 1963.
- [25] Blaško, R., *Matematická analýza I*, <http://frcatel.fri.uniza.sk/~beerb>, 2004.
- [26] Drexel University, Math Forum, <http://mathforum.org/>.
- [27] Earliest Known Uses of Some of the Words of Mathematics, <http://members.aol.com/jeff570/mathword.html>.
- [28] Elsevier Mathematics, <http://www.elseviermathematics.com/mathematicsweb/show/Index.htm>.
- [29] EMIS, The European Mathematical Information Service, <http://www.emis.de/>.
- [30] Encyklopédie des Formes Mathématiques Remarquables, <http://www.mathcurve.com/>.
- [31] Excellent Matematika, <http://matematika.host.sk/index2.htm>.
- [32] Geometry the online learning center, <http://www.geometry.net/>.
- [33] On-line Mathematics Dictionary, [http://pax.st.usm.edu/cmi/inform\\_html/glossary.html](http://pax.st.usm.edu/cmi/inform_html/glossary.html).
- [34] The Math Forum, Internet Mathematics Library, <http://mathforum.org/library/>.
- [35] Turnbull WWW Server, <http://www-gap.dcs.st-and.ac.uk/>.
- [36] Turnbull, The MacTutor History of Mathematics archive, <http://turnbull.mcs.st-and.ac.uk/~history/>.
- [37] World of mathematics, A Wolfram Web Resource, <http://mathworld.wolfram.com/>.



RNDr. Rudolf Blaško, PhD.

## MATEMATICKÁ ANALÝZA 1

Vydala Žilinská univerzita v Žiline, Univerzitná 8215/1, 010 26 Žilina  
v edičnom rade VYSOKOŠKOLSKÉ UČEBNICE

Vedecký redaktor prof. RNDr. Josef Diblík, DrSc.

Zodp. red. PhDr. Katarína Šimánková

Tech. redaktor a návrh obálky autor

Grafická úprava obálky Juraj Zbýňovec

Vytlačilo EDIS–vydavateľstvo ŽU, J. M. Hurbana 15, Žilina

v decembri 2009 ako svoju 2751. publikáciu

192 strán, 112 obrázkov, 14 tabuliek, AH 13,80, VH 14,26

prvé vydanie, náklad 300 výtlačkov

ISBN 978-80-554-0119-5